


2004 - يىلى مەملىكەتلىك ئوتتۇرا، باشلانغۇچ مەكتەپ ئوقۇتۇش ماتېرىياللىرىنى  
ئەكشۈرۈپ بېكىتىش كومىتېتىنىڭ دەسلەپكى ئەكشۈرۈشىدىن ئۆتكەن

ئادەتتىكى تولۇق ئوتتۇرا مەكتەپ دەرس ئۆلچىمى تەجرىبە دەرسلىكى

# بىئولوگىيە 2

زۆرۈر دەرسلىك

ئىرسىيەت ۋە تەدرىجىي تەرققات



شىنجاڭ مائارىپ نەشرىياتى

# § 1 . مېندېلنىڭ كۆك پۇرچاقنى شالغۇتلاشتۇرۇش تەجرىبىسى (I)

## مەشھۇر ئۇستىدە مۇھاكىمە

كىشىلەر ئىلگىرى ئىككى ئەجداد شالغۇتلاشتۇرۇلغاندىن كېيىن، ئىككى ئەجدادنىڭ ئىرسىيەت ماددىلىرى ئەۋلادلىرىنىڭ تېنىدە ئارىلىشىپ كېتىدۇ، ئەۋلادلىرىدا ئىككى ئەجدادنىڭ ئوتتۇرىسىدىكى بەلگىلەر (ئالامەتلەر) ئىپادىلىنىدۇ، دەپ قارىغان. بۇ خۇددى بىر قۇتا كۆك سىياھ بىلەن بىر قۇتا قىزىل سىياھ ئارىلاشتۇرۇلسا باشقىچە بىرخىل رەڭ ھاسىل بولۇپ، ئۇنى قايتىدىن كۆك سىياھ بىلەن قىزىل سىياھقا ئايرىغىلى بولمىغىنىغا ئوخشايدۇ. بۇ خىل قاراش ئارىلاشما ئىرسىيەت دەپ ئاتىلىدۇ.

### مۇھاكىمە:

1. يۇقىرىدىكى قاراشقا ئاساسلانغاندا، قىزىل مودەنگۈل بىلەن ئاق مودەنگۈلنى شالغۇتلاشتۇرغاندا ئەۋلاد مودەنگۈلنىڭ رەڭگى قانداق بولىدۇ؟
2. سىز يۇقىرىدىكى قاراشقا قوشۇلمايسىز؟ ئاساسىڭىزنى سۆزلەپ بېقىڭ.



رەڭگى ئوخشىمايدىغان مودەنگۈللەر

19 - ئەسىرنىڭ ئوتتۇرىلىرى ئاۋستىرىيىدىكى بىر موناستىر (ھازىر چېخىيە تەۋەلىكىدە) غا مېندېل (G.J.Mendel, 1822 ~ 1884) ئىسىملىك بىر ياش كېلىمىدۇ. يېرىم ئەسىردىن كېيىن ئۇنىڭ ئىرسىيەت ئىلمىدىكى زور بايقاشلىرى بىلەن ئىسمىنىڭ تارىخ بېتىگە يېزىلىدىغانلىقىنى ئەينى ۋاقىتتا كىممۇ ئويلىغان دەيسىز.

مېندېل كىچىكىدىن تارتىپلا تەبىئىي پەنلەرگە قىزىقتى، ئۇ ئائىلە قىيىنچىلىقى تۈپەيلىدىن 21 يېشىدىلا موناستىرغا كېلىپ موناخ بولىدۇ. كېيىن ئۇ ۋېيىنا ئۇنىۋېرسىتېتىغا ئەۋەتىلىپ تەبىئىي پەنلەر ۋە ماتېماتىكىدىن بىلىم ئاشۇرىدۇ. ئۇ موناستىرغا قايتىپ كەلگەندىن كېيىن، موناستىردىكى بىر پارچە يەرگە كۆك پۇرچاق، قارچىغا ئوت ۋە كۆممىقوناق قاتارلىق كۆپ خىل ئۆسۈملۈكلەرنى تېرىپ شالغۇتلاشتۇرۇش تەجرىبىسى ئېلىپ بارىدۇ ھەمدە بۇنى كۆڭۈل قويۇپ سەككىز يىل تەتقىق قىلىدۇ. بۇلاردىن كۆك پۇرچاق ئۈستىدە ئېلىپ بېرىلغان شالغۇتلاشتۇرۇش تەجرىبىسى ناھايىتى مۇۋەپپەقىيەتلىك بولغاچقا، ئۇ تەجرىبە نەتىجىلىرىنى تەھلىل قىلىش ئارقىلىق جانلىقلار ئىرسىيەتنىڭ قانۇنىيەتلىرىنى بايقايدۇ.

نېمە ئۈچۈن كۆك پۇرچاق ئارقىلىق ئىرسىيەت تەجرىبىسى ئىشلىگەندە مۇۋەپپەقىيەت قازىنىش ئاسان بولىدۇ؟

### بۇ پاراگرافنىڭ مۇھىم نۇقتىسى

- مېندېلنىڭ بىر جۈپ نىسبىي بەلگىلەر ھەققىدىكى شالغۇتلاشتۇرۇش تەجرىبىسى قانداق لايىھىلەنگەن؟
- مېندېل تەجرىبە نەتىجىلىرىنى چۈشەندۈرۈش ئۈچۈن قايسى پەرەزنى ئوتتۇرىغا قويدىغان؟ ئۇ يەنە قايسى تەجرىبىنى لايىھىلەپ بۇ پەرەزنى ئىسپاتلىغان؟
- ئايرىلىش قانۇنىنىڭ مەزمۇنى نېمە؟

تۇخشاش بولساقنا بەلگىلىرى ئارىسىدىكى پەرقلىق ئىختىلاپتىن بولساق.

كۆك پۇرچاق ئۆزىدىن چاڭلىنىدىغان

ئۆسۈملۈك (1.1 - رەسىم)، ئۇنىڭ ئۈس -

تىمگە گۈلى يېپىق ھالەتتە تۇرۇپ چاڭ -

لىنىدۇ، يەنى ئۇنىڭ گۈلى ئېچىلماي

تۇرۇپلا چاڭلىنىشنى تاماملايدىغان بول -

غاچقا، سىرتتىن كەلگەن گۈل چاڭلىرى -

نىڭ دەخلى - تەرۈزىگە ئاسان ئۇچىرى -

مايدۇ. شۇڭا، تەبىئىي ھالەتتە تۇرغان

كۆك پۇرچاق ئومۇمەن ساپ سورتلۇق

بولىدۇ، ئۇنى تەجرىبە ماتېرىيالى قىلىپ

سۈنئىي ئۇسۇلدا چاڭلاشتۇرۇش تەجرى -

بىسى ئىشلىگەندە (2.1 - رەسىم) نەتىجىسى ئىشەنچلىك، تەھلىل قىلىش ئاسان بولىدۇ.



1.1 - رەسىم، كۆك پۇرچاق گۈلى (كەسەمە يۈزى)

ئىككى جىنسلىق گۈلنىڭ كۈل چېگى شۇ گۈلنىڭ ئاندە -  
لىق تۇمشۇقىغا چۈشۈش جەريانى ئۆزىدىن (ئۆز گۈلىدىن) چاڭلىنىش دەپ ئاتىلىدۇ. ئۇ -  
نىڭ كەسەمە كىسىمان گۈل تا -  
جىسىدىكى بىر جۈپ گۈل بەرگى باشقىن - ئاخىر ئاندە -  
لىق ۋە ئانلىقلىرىنى مەھكەم ئوراپ تۇرغاچقا، ئۈزۈلۈشى ئۆزىدىن چاڭلىنىشقا ئولىمۇ ماس كېلىدۇ.

بىسى ئىشلىگەندە (2.1 - رەسىم) نەتىجىسى ئىشەنچلىك، تەھلىل قىلىش ئاسان بولىدۇ.

ئىككى تال گۈل ئارىسىدىكى چاڭلىمە -  
نىش جەريانى چەتتىن (باشقا گۈلىدىن) چاڭلىنىش دەپ ئاتىلىدۇ. ئوخشاش بولمە -  
غان ئۆسۈملۈك تۈپىدىكى گۈللەر چەتتىن چاڭلانغاندا گۈل چېگى بىلەن تەمىنلەيدىغان ئۆسۈملۈك تۈپى ئاتىلىق (♂)، گۈل چېگە -  
ئىخنى قوبۇل قىلىدىغان ئۆسۈملۈك تۈپى ئاتىلىق (♀) دەپ ئاتىلىدۇ. مېندېل شال -  
غۇتلاشتۇرۇش تەجرىبىسى ئىشلىگەندە، ئالدى بىلەن تېخى يېتىلمىگەن گۈلنىڭ بارلىق ئاتىلىقنى ئېلىۋېتىپ (يۇ، ئاندە -  
لىقنى ئېلىۋېتىش دەپ ئاتىلىدۇ)، ئاندىن ئۇنىڭغا قەغەز خالتا كىيدۈرۈپ قويىدۇ. ئا -  
نلىقى پىشپى يېتىلمىگەندە، باشقا بىر تۈپ -  
تىكى گۈل چېگىنى يىغىپ كېلىپ، ئاندە -  
لىقى ئېلىۋېتىلگەن بۇ گۈلنىڭ ئاتىلىق تۇمشۇقىغا چېچىپ قويىدۇ ھەمدە خالتىنى قايتا كىيدۈرۈپ قويىدۇ.



2.1 - رەسىم. سۈنئىي ئۇسۇلدا چەتتىن چاڭلاشتۇرۇش

نەسبىي بەلگە

كۆك پۇرچاق تۈپىدە يەنە پەرقلەندۈرۈش ئاسان بولغان بەلگىلەر (character) بولىدۇ. مەسىلەن، ئۇنىڭ ئىچىدە ئېگىز غوللۇقى (ئېگىزلىكى 1.5 ~ 2 مېتىر) مۇ، پاكار غوللۇقى (ئېگىزلىكى 0.3 مېتىر ئەتراپىدا) مۇ بولىدۇ؛ يۇمىلاق دان تۈتىدىغىنىمۇ، پۈرمىلىك دان تۈتىدىغىنىمۇ بولىدۇ. مانا مۇشۇنىڭغا ئوخشاش، بىر خىل جانلىقنىڭ ئوخشاش بىر خىل بەلگىسىنىڭ ئوخشاش بولمىغان ئىپادىلىنىش تىپلىرى نەسبىي بەلگىلەر (relative character) دەپ ئاتىلىدۇ. بۇ بەلگىلەر مۇقىم ھالدا كېيىنكى ئەۋلادلىرىغا ئىرىسىيەت بولۇپ قالىدۇ. بۇ خىل نەسبىي بەلگىلەرگە ئىگە ئۆسۈملۈك تۈپلىرىدىن پايدىلىنىپ شالغۇتلاشتۇرۇش تەجرىبىسى ئېلىپ بارغاندا، تەجرىبە نەتىجىلىرىنى كۆزىتىشمۇ، تەھلىل قىلىشمۇ ناھايىتى ئاسان بولىدۇ.

مېندېل ئىنچىكىلىك بىلەن كۆزىتىش ئارقىلىق 34 خىل كۆك پۇرچاق سورتى ئىچىدىن يەتتە جۈپ

نېسبىي بەلگىنى تاللاپ (مەسىلەن، غولنىڭ ئېگىزلىكى، دېنى (ئۇرۇقى) نىڭ شەكلى، پەللە يوپۇرمىقىنىڭ رەڭگى، گۈلنىڭ جايلىنىش ئورنى قاتارلىقلار)، شالغۇنلاشتۇرۇش تەجرىبىسى (3.1 - رەسىم) ئىشلىتىلگەن.

غولنىڭ ئېگىزلىكى	گۈلنىڭ جايلىنىش ئورنى	چوڭا مېۋىسىنىڭ نىڭ رەڭگى	چوڭا مېۋىسىنىڭ شەكلى	ئۇرۇق يۈزىدىكى نىڭ رەڭگى	پەللە يوپۇرمىقىنىڭ رەڭگى	ئۇرۇقنىڭ شەكلى
						
ئېگىز غول	يوپۇرماق قولى-تۇقىدا	يېشىل	توق	كۈل رەڭ	سېرىق	يۇمىلاق سىلىق
						
پاكار غول	غول ئۈچىدا	سېرىق	پۈچەك	ئاق	يېشىل	يۈرمىلىك

3.1 - رەسىم. كۆك يۇرچاقنىڭ يەتتە جۈپ نېسبىي بەلگىسى

مېندېل ئوخشاش بولمىغان سورتتىكى كۆك يۇرچاقلار ئارىسىدا بىرلا ۋاقىتتا كۆپ جۈپ نېسبىي بەلگىلەرنىڭ بولىدىغانلىقىغا دىققەت قىلغان. ئۇ تەھلىل قىلىشقا ئاسان بولسۇن ئۈچۈن، ئاۋۋال ھەر بىر جۈپ نېسبىي بەلگىلەرنىڭ ئىرسىيىتىنى ئايرىم - ئايرىم تەتقىق قىلغان.

بىر جۈپ نېسبىي بەلگىلەرنى شالغۇنلاشتۇرۇش تەجرىبىسى

مېندېل ساپ سورتلۇق ئېگىز غوللۇق كۆك يۇرچاق بىلەن ساپ سورتلۇق پاكار غوللۇق كۆك يۇرچاقنى ئەجداد (P بىلەن ئىپادىلىنىدۇ) قىلىپ شالغۇنلاشتۇرغان (cross). ئۇ ھەيرانلىق ئىچىدە، مەيلى ئېگىز غوللۇق كۆك يۇرچاق ئانىلىق تۈپ قىلىنسۇن (ئوڭ شالغۇنلاشتۇرۇش) ياكى ئاتىلىق تۈپ قىلىنسۇن (تەتۈر شالغۇنلاشتۇرۇش)، ئۇلارنى شالغۇنلاشتۇرۇشتىن ھاسىل بولغان بىرىنچى ئەۋلاد (قىسقارتىپ  $F_1$  بىلەن ئىپادىلىنىدۇ) ھامان ئېگىز غوللۇق (4.1 - رەسىم) بولىدىغانلىقىنى بايقىغان.

نېمە ئۈچۈن بىرىنچى ئەۋلادنىڭ ھەممىسى ئېگىز غوللۇق بولۇپ، پاكار غوللۇق بولمايدۇ؟ مېندېل بۇنىڭدىن شۈبھىلەنگەن ھالدا بىرىنچى ئەۋلادنى يەنە ئۆزىدىن چاڭلاشتۇرىدۇ، نەتىجىدە ئىككىنچى ئەۋلاد (قىسقارتىپ  $F_2$  بىلەن ئىپادىلىنىدۇ) تۈپىدە ئېگىز غوللۇقنىڭلا ئەمەس، يەنە پاكار غوللۇقلارنىڭمۇ بارلىقىنى بايقىدۇ.

نېمە ئۈچۈن ئىككىنچى ئەۋلاد ئىچىدە پاكار غوللۇق بەلگىلەر يەنە كۆرۈلىدۇ؟


قارىغاندا پاكار غوللۇق بەلگىلەر بىرىنچى ئەۋلادتا پەقەت يوشۇرۇن بولۇپ ئاشكارىلانمىغان.

مېندېل  $F_1$  دە ئاشكارىلىنىپ چىققان بەلگىلەرنى ئاشكارا بەلگە (dominant character) دەپ ئاتىغان، مە-

سىلەن، ئېگىز غول؛ ئاشكارىلىنىپ چىقمىغان بەلگىلەرنى يوشۇرۇن بەلگە (recessive character) دەپ ئاتى-

غان، مەسىلەن، پاكار غول. شالغۇت كېيىنكى ئەۋلادتا ئاشكارا بەلگە بىلەن يوشۇرۇن بەلگىنىڭ بىرلا

ۋاقىتتا ئاشكارىلىنىپ چىقىش ھادىسىسىنى بەلگىلەرنىڭ ئايرىلىشى دەپ ئاتىغان.



مېندېل تەجرىبە ھادىسىلىرىنى كۆزىتىش ۋە تەسۋىرلەش بىلەنلا توختاپ قالماي، يەنە  $F_2$  دىكى ئوخشىمىغان بەلگىلىك ئىتتىۋىيەلەر (تۈپلەر) نىڭ سانىنى ستاتىستىكىلاپ،  $F_2$  دىكى ئېگىز غوللۇق تۈپلەر بىلەن پاكىر غوللۇق تۈپلەر ئوتتۇرىسىدىكى سانلىق مىقدار مۇناسىۋىتىنىمۇ تەھلىل قىلغان. نەتىجىدە، ئۇ شالغۇنلاشتۇرۇش ئارقىلىق ئېرىشكەن  $F_2$  1064 تۈپ ئىچىدە 787 تۈپى ئېگىز غوللۇق، 277 تۈپى پاكىر غوللۇق ئىكەنلىكىنى، ئېگىز غوللۇق تۈپلەر بىلەن پاكىر غوللۇق تۈپلەرنىڭ سانلىق مىقدار نىسبىتى 3 : 1 گە يېقىنلىشىدىغانلىقىنى بايقىغان.

$F_2$  دە بەلگىلەرنىڭ 3 : 1 نىسبەت بويىچە ئايرىلىشى ئاساسىدا، بىيلىقمۇ؟

مېندېل يەنە كۆك پۇرچاقنىڭ باشقا ئالتە جۈپ نىسبىي بەلگىلىرى ئۈستىدە شالغۇنلاشتۇرۇش تەجرىبىسى ئېلىپ بارغان، تەجرىبە نەتىجىسى 1.1 - جەدۋەلدە كۆرسىتىلگەندەك.

4.1 - رەسىم. ئېگىز غوللۇق كۆك پۇرچاق بىلەن پاكىر غوللۇق كۆك پۇرچاقنى شالغۇنلاشتۇرۇش تەجرىبىسى

1.1 - جەدۋەل. مېندېل ئىشلىگەن كۆك پۇرچاقنى شالغۇنلاشتۇرۇش تەجرىبە نەتىجىسى

$F_2$ نىڭ ئىپادىلىنىشى			بەلگە	
بوشۇرۇن: ئاشكارا	بوشۇرۇنلۇق	ئاشكارىلىق	بوشۇرۇنلۇق	بەلگە
2.96 : 1	1850	پۈرمىلىك دان	5474	يۇمىلاق دان
2.84 : 1	277	پاكىر غول	787	ئېگىز غول
3.01 : 1	2001	يېشىل	6022	سېرىق
3.15 : 1	224	ئاق	705	كۈل رەڭ
2.95 : 1	299	پۈچەك	882	توق
2.82 : 1	152	سېرىق	428	يېشىل
3.14 : 1	207	غول ئۈچى	651	يوپۇرماق قولتۇقى

قارىغاندا  $F_2$  دە بەلگىلەرنىڭ 3 : 1 نىسبەت بويىچە ئايرىلىشى ئاسادىپىيلىق ئەمەستەك قىلىدۇ. قانداق سەۋەب شالغۇت كېيىنكى ئەۋلادلاردىكى ئىرسىيەت بەلگىلىرىنىڭ مۇئەييەن نىسبەت بويىچە ئايرىلىشىنى كەلتۈرۈپ چىقىرىدۇ؟

### ئايرىلىش ھادىسىسىنى چۈشەندۈرۈش

مېندېل كۆزىتىش ۋە ستاتىستىكىلاپ تەھلىل قىلىش ئاساسىدا، ئىلگىرىكىلەرنىڭ قوشۇلۇپ (سە - ئىچى) كېتىش ئىرسىيىتى ھەققىدىكى كۆز قارىشىنى دادىلىق بىلەن چۆرۈۋېتىپ، ئېھتىياتچانلىق بىلەن ئەقلىي خۇلاسىە چىقىرىش ۋە يۈرەكلىك ھالدا تەسەۋۋۇر قىلىش ئارقىلىق، ئايرىلىش ھادىسىسىنىڭ سەۋەبى ئۈستىدە تۆۋەندىكىدەك پەرەزنى ئوتتۇرىغا قويغان (5.1 - رەسىم).

(1) جانلىقلارنىڭ بەلگىلىرى ئىرسىيەت فاكىتورلىرى (hereditary factor) تەرىپىدىن بەلگىلىنىدۇ. بۇ

فاكتورلار خۇددى ئايرىم - ئايرىم مۇستەقىل تۇرغان دانچىلاردەك ھەم ئۆزئارا قوشۇلۇپ كەتمەيدۇ. ھەم ئەۋلادلارغا ئۆتۈش جەريانىدا يوقىلىپ كەتمەيدۇ. ھەر بىر فاككتور بىر خىل ئالاھىدە بەلگىنى بەلگىلەيدۇ. ئۇ ئىگىدىكى ئاشكارا بەلگىلەرنى بەلگىلەيدىغىنى ئاشكارا ئىرسىيەت فاككتورى دېيىلىپ، (D) بىلەن ئىپادىلەنمىدۇ؛ يوشۇرۇن بەلگىلەرنى بەلگىلەيدىغىنى يوشۇرۇن ئىرسىيەت فاككتورى دېيىلىپ، (d) بىلەن ئىپادىلەنمىدۇ.

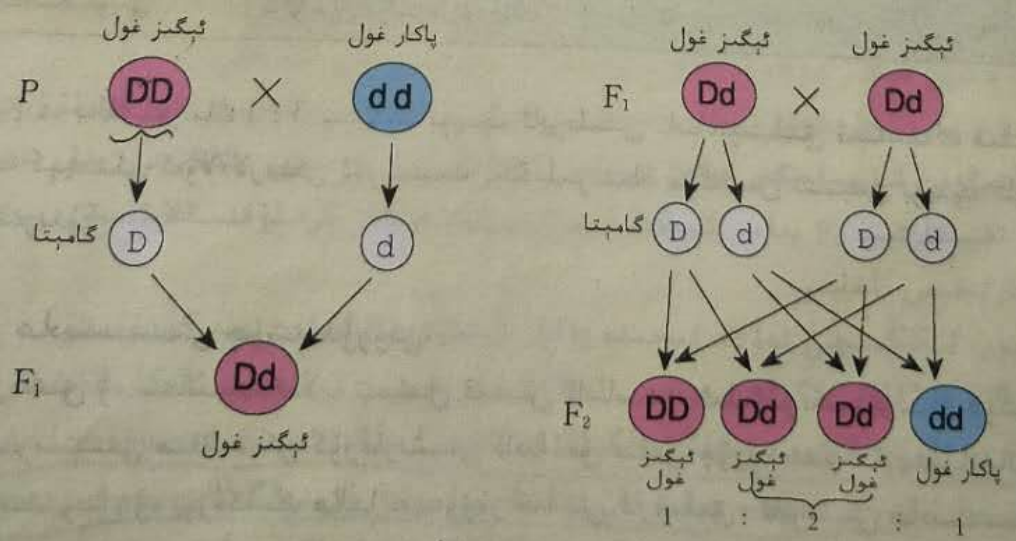
**ئالاقىدار ئۇچۇرلار**

مېندېل بۇ پەرەزنى ئوتتۇرىغا قويغاندا، مېتولوگىيە ساھەسىدە گامېتنىڭ شەكىللىنىشى ۋە ئۇرۇقلىنىش جەريانىدا خروموسومنىڭ ئۆزگىرىشىگە ئائىت تونۇش تېخى تىكلەنمىگەنىدى. مېندېل تەجرىبە ھادىسىلىرىگە ئاساسەن ئوتتۇرىغا قويغان ئىرسىيەت فاككتورلىرى تەن ھۈجەيرىسىدە جۈپ ھالەتتە مەۋجۇت بولۇپ، گامېتتا يەككە ھالەتتە ئىپادىلىنىشى ئۆز دەۋرىدىن ھالقىغان بىر خىل ئادەتتىن تاشقىرى پەرەزىدىنلا ئىبارەت ئىدى.

؟ ناۋادا ئانىلىق ۋە ئاتىلىق گامېتلىرىنىڭ بىرىكىشى تاساددىپى بولسا،  $F_2$  دە بەلگىلەرنىڭ ئايرىلىش نىسبىتى يەنە 1 : 3 نىسبەتتە بولامدۇ؟

(2) تەن ھۈجەيرىسىدىكى ئىرسىيەت فاككتورلىرى جۈپ ھالەتتە مەۋجۇت بولۇپ تۇرىدۇ. مەسىلەن، ساپ سورتلۇق ئىگىز غوللۇق كۆك پۇرچاقنىڭ تەن ھۈجەيرىسىدە جۈپ ھالەتتىكى ئىرسىيەت فاككتورى DD، ساپ سورتلۇق پاكىر غوللۇق كۆك پۇرچاقنىڭ تەن ھۈجەيرىسىدە جۈپ ھالەتتىكى ئىرسىيەت فاككتورى dd بولىدۇ. مانا مۇشۇنداق ئوخشاش ئىرسىيەت فاككتورلىرىدىن تەركىب تاپقان ئىندىۋىدلار ساپ زىگوتا دېيىلىدۇ.  $F_1$  نى ئۆزىدىن چاڭلاشتۇرغان (چېتىشتۈرغان) دىن كېيىن، ھاسىل بولغان كېيىنكى ئەۋلادلار ئىچىدە يوشۇرۇن بەلگىلەر ئاشكارىلىنىپ چىقىدىغان بولغاچقا،  $F_1$  نىڭ تەن ھۈجەيرىسىدە مۇقەررەر ھالدا يوشۇرۇن ئىرسىيەت فاككتورلىرى بار دېيىشكە بولىدۇ؛ ئەمما  $F_1$  دە ئىپادىلەنگىنى ئاشكارا بەلگىلەر بولغاچقا،  $F_1$  نىڭ تەن ھۈجەيرىسىدىكى ئىرسىيەت فاككتورلىرى Dd بولىدۇ. مانا مۇشۇنداق ئوخشاش بولمىغان

ئىرسىيەت فاككتورلىرىدىن تەركىب تاپقان ئىندىۋىدلار ئارىلاش زىگوتا دېيىلىدۇ. (3) جانلىقلار تېنىدە كۆپىيىش ھۈجەيرىسى - گامېتا ھاسىل بولغاندا، جۈپ ھالەتتىكى ئىرسىيەت فاككتورلىرى بىر - بىرىدىن ئايرىلىپ، ئايرىم - ئايرىم ئوخشىمىغان گامېتلارغا كىرىدۇ. گامېتلاردا ھەر بىر جۈپ ئىرسىيەت فاككتورىنىڭ پەقەت بىرىلا بولىدۇ.



5.1 - رەسىم. ئىگىز غوللۇق كۆك پۇرچاق بىلەن پاكىر غوللۇق كۆك پۇرچاقنى شالغۇتلاشتۇرۇش تەجرىبىسى ئۈستىدە تەھلىل

ساپ زىگوتا ئىندىۋىدلىرى dd

(4) ئۇرۇقلانغاندا ئاتلىق ۋە ئاتلىق گامېتلارنىڭ بىرىكىشى تاسادىپىي بولىدۇ. مەسىلەن، تەركىبىدە ئىرسىيەت فاكىتورى D بولغان گامېتا ھەم تەركىبىدە ئىرسىيەت فاكىتورى d بولغان گامېتلار بىلەنمۇ، ھەم تەركىبىدە ئىرسىيەت فاكىتورى D بولغان گامېتلار بىلەنمۇ بىرىكەلەيدۇ. مېندېلىنىڭ پەرىزىگە ئاساسەن، پارتىدىشىڭىز بىلەن ئېگىز غوللۇق كۆك پۇرچاق بىلەن پاكىر غوللۇق كۆك پۇرچاقنى شالغۇتلاشتۇرۇش تەجربىسى تەھلىل قىلىنغان رەسىمنى مۇھاكىمە قىلىڭ. بىز تەقلىدىي تەجربىگە ئارقىلىقمۇ مېندېلىنىڭ پەرىزىنى ھېس قىلالايمىز.



تەجربە

بەلگىلەرنىڭ ئايرىلىش نىسبىتىگە تەقلىد قىلىش

بۇ تەجربىدە A، B ئىككى چېلەك ئايرىم - ئايرىم ئاتلىق ۋە ئاتلىق كۆپىيىش ئەزالىرىغا ۋەكىللىك قىلىدۇ. A، B چېلەكتىكى رەڭلىك شارچىلار ئايرىم - ئايرىم ئاتلىق ۋە ئاتلىق گامېتلارغا ۋەكىللىك قىلىدۇ. ئوخشىمىغان رەڭدىكى شارچىلارنىڭ تاسادىپىي گۇرۇپپىلىشى جانلىقلارنىڭ كۆپىيىش جەريانىدىكى ئاتلىق ۋە ئاتلىق گامېتلارنىڭ تاسادىپىي بىرىكىشىگە تەقلىد قىلىنىدۇ. بۇ تەجربىنى ئىككى ئادەم بىر گۇرۇپپا بولۇپ تاماملىشىنى تەكلىپ قىلىمىز.

● مەقسەت ۋە تەلەپ

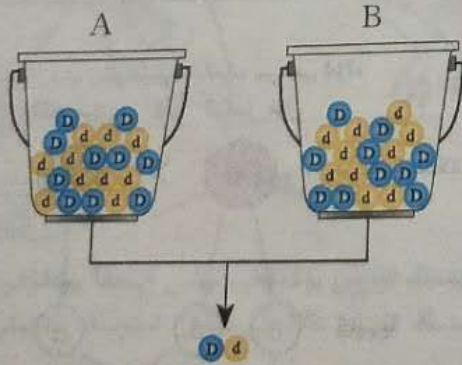
بۇ تەقلىدىي تەجربە ئارقىلىق، ئىرسىيەت فاكىتورلىرىنىڭ ئايرىلىشى ۋە گامېتلارنىڭ تاسادىپىي بىرىكىشىنىڭ بەلگىلەر ئوتتۇرىسىدىكى سانلىق مۇناسىۋىتىنى بىلدۈرۈش ۋە چۈشەندۈرۈش، مېندېلىنىڭ پەرىزىنى ھېس قىلىدۇرۇش.

● ماتېرىيال ۋە سايمانلار

ئىككى چېلەككە ئايرىم - ئايرىم A، B دەپ بەلگە قويۇڭلار. ئىككى خىل رەڭدىكى شارچىنىڭ ھەر بىرىدىن 20 تالدىن ئېلىپ، بىر خىل رەڭدىكى شارچىغا D، يەنە بىر خىل رەڭدىكى شارچىغا d دەپ بەلگە قويۇڭلار؛ خاتىرىلەشكە ئىشلىتىدىغان قەغەز - قەلەم تەييارلاڭلار.

● ئۇسۇل ۋە باسقۇچلار

- (1) A، B ئىككى چېلەككە ئىككى خىل رەڭدىكى شارچىنىڭ ھەر بىرىدىن 10 تالدىن سالغىمىز.
- (2) چېلەكنى چايقىتىپ، ئىچىدىكى رەڭلىك شارچىلارنى تولۇق ئارىلاشتۇرىمىز.



(بىر قېتىم ئالغاندىكى ئەھۋال)

- (3) ئىككى چېلەكتىن ئايرىم - ئايرىم بىردىن شارچىنى خالىغانچە ئېلىپ بىرلەشتۈرۈپ، ئۇلارنىڭ ھەر بىرىنى گۇرۇپپىلاپ خاتىرىلەيمىز.
- (4) چېلەكتىن ئالغان شارچىلارنى يەنە ئەسلىدىكى ئورنىغا سېلىپ، ئارىلاشتۇرۇپ قويىمىز ھەمدە (3) باسقۇچ بويىچە 50 ~ 100 قېتىم تەكرارلايمىز.

● نەتىجە ۋە يەكۈن

1. تەجربە نەتىجىسىنى ستاتىستىكىلاش: رەڭلىك شارچىلار قانچە خىل گۇرۇپپىلىشىدۇ؟ ھەر بىر خىل گۇرۇپپىلىشىنىڭ سانى قانچە؟ رەڭلىك شارچىلارنىڭ گۇرۇپپىلىشى تىپلىرى ئارىسىدىكى سانلىق نىسبەتنى ھېسابلاپ چىقىڭلار. جەدۋەل لايىھىلەپ تەجربە نەتىجىسىنى خاتىرىلەڭلار.
2. پۈتۈن سىنىپنىڭ تەجربە نەتىجىسىنى ستاتىستىكىلاپ، ئوتتۇرىچە قىممىتىنى تېپىڭلار. شارچىلارنىڭ گۇرۇپپىلىشى تىپلىرى ئارىسىدىكى سانلىق نىسبەتنى ھېسابلاپ چىقىڭلار.

3. ئىككى دانە رەڭلىك شارچىنىڭ گۇرۇپپىلىشىنى نېمىگە ۋەكىللىك قىلىدۇ؟  
4. بەكۈن:

● مۇھاكىمە

1. ھەربىر گۇرۇپپىنىڭ تەجرىبە نەتىجىسى بىلەن پۈتۈن سىنىپنىڭ ئومۇمىي تەجرىبە نەتىجىسىنى سېلىشتۇرۇپ، نېمىلەرنى باير قىدىڭىز؟ ئەگەر ئەينى چاغدا مېندېل پەقەت 10 تۈپ كۆك پۇرچاقنى شالغۇتلاشتۇرۇش نەتىجىسىنىلا ستاتىستىكىلىغان بولسا، بەلكى لەرنىڭ ئايرىلىش ھادىسىسىنى توغرا چۈشەندۈرۈپ بېرەلەمتى؟
2. تەقلىدىي تەجرىبىنىڭ نەتىجىسىنى مېندېلنىڭ شالغۇتلاشتۇرۇش تەجرىبىسىنىڭ نەتىجىسى بىلەن سېلىشتۇرغاندا، سىزنىڭچە مېندېلنىڭ پەرىزى مۇۋاپىقمۇ - قانداق؟

ئايرىلىش ھادىسىسىنى چۈشەندۈرۈشنى دەلىللەش

مېندېلنىڭ پەرىزى كۆك پۇرچاقنىڭ بىر جۈپ نىسبىي بەلگىلىرى ئۈستىدە ئېلىپ بېرىلغان شالغۇتلاشتۇرۇش تەجرىبىسىدە كۆرۈلگەن بەلگىلەرنىڭ ئايرىلىش ھادىسىسىنى مۇۋاپىق چۈشەندۈرۈپ بېرەلەيدۇ. ئەمما بىر خىل توغرا پەرەز ئەسلىدە بار بولغان تەجرىبە نەتىجىلىرىنى چۈشەندۈرۈپ بېرەلەسكەندىن سىرت يەنە باشقا تەجرىبە نەتىجىلىرىنىمۇ ئالدىن مۆلچەرلىيەلەيدىغان بولۇشى كېرەك.

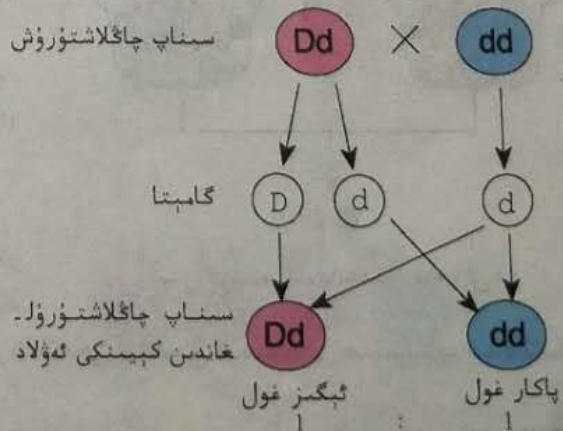
پەرەز - دېدۇكسىيە ئۇسۇلى

كۆزىتىش ۋە تەھلىل قىلىش ئاساسىدا مەسىلىلەر ئوتتۇرىغا قويۇلغاندىن كېيىن، ئەقلىي خۇلاسە ۋە تەسەۋۋۇر ئارقىلىق مەسىلىلەرنى چۈشەندۈرىدىغان پەرەز ئوتتۇرىغا قويۇلىدۇ. پەرەزگە ئاساسەن دېدۇكسىيەلىك ئەقلىي خۇلاسە چىقىرىلىدۇ. ئاندىن يەنە تەجرىبە ئارقىلىق دېدۇكسىيەلىك ئەقلىي خۇلاسەنىڭ يەكۈنى تەكشۈرۈلىدۇ. مەسىلەن، تەجرىبە نەتىجىسى بىلەن ئالدىن كۆزلىگەن يەكۈن ئۆزئارا ماس كەلسە، بۇ پەرەزنىڭ توغرىلىقىنى چۈشەندۈرىدۇ، ئەكسىچە بولسا خاتالىقنى چۈشەندۈرىدۇ. بۇ ھازىرقى ئىلىم - پەن تەتقىقاتىدا دائىم قوللىنىلىدىغان بىر خىل ئىلمىي ئۇسۇل بولۇپ، پەرەز - دېدۇكسىيە ئۇسۇلى دەپ ئاتىلىدۇ. ئويلاپ بېقىش، بۇ ئۇسۇلنىڭ ئەنئەنىۋى خۇلاسەلەش ئۇسۇلى بىلەن قانداق پەرقى بار؟

مېندېل ئەپچىللىك بىلەن سىناپ چاڭلاشتۇرۇش (چېتىشتۈرۈش) (test cross) تەجرىبىسىنى لايىھەلەپ،  $F_1$  نى يوشۇرۇن ساپ زىگوتا بىلەن شالغۇتلاشتۇرغان. ناۋادا مېندېلنىڭ پەرىزىنى توغرا دەپ قارىدىڭىز، ئۇنداقتا سىناپ چاڭلاشتۇرۇش تەجرىبىسىنىڭ نەتىجىسىنى مۆلچەرلەپ بېقىڭ.

مېندېل شالغۇت بىرىنچى ئەۋلاد ئېگىز غوللۇق كۆك پۇرچاق ( $Dd$ ) بىلەن يوشۇرۇن ساپ زىگوتىلىق پاكار غوللۇق كۆك پۇرچاق ( $dd$ ) نى شالغۇتلاشتۇرغان، بۇنىڭدىن ئېرىشكەن 64 تۈپ ئەۋلاد ئىچىدە 30 تۈپى ئېگىز غوللۇق، 34 تۈپى پاكار غوللۇق بولۇپ، بۇنىڭدىكى خىل بەلگىنىڭ ئايرىلىش نىسبىتى  $1:1$  (6.1) -

يوشۇرۇن ساپ زىگوتىلىق شالغۇت بىرىنچى ئەۋلاد ئېگىز غول پاكار غول



6.1 - رەسىم. بىر جۈپ نىسبىي بەلگىلەرنى سىناپ چاڭلاشتۇرۇش تەجرىبىسىنى تەھلىل قىلىش



رەسىم) گە يېقىنلاشقان. شۇنداق قىلىپ، مېندېل ئىشلىگەن سىناپ چاڭلاشتۇرۇش تەجرىبىسىنىڭ نەتىجىسى ئۇنىڭ پەرىزىنىڭ توغرا ئىكەنلىكىنى ئىسپاتلىغان.

**ئايرىلىش قانۇنى**

مېندېلنىڭ بىر جۈپ نىسبىي بەلگىلەر ئۈستىدە ئېلىپ بارغان تەجرىبە نەتىجىلىرىنى ۋە ئۇنىڭ چۈشەندۈرۈشلىرىنى كېيىنكىلەر يىغىنچاقلاپ، مېندېلنىڭ بىرىنچى قانۇنى يەنى ئايرىلىش قانۇنى (law of segregation) دەپ ئاتىغان. ئۇنىڭ مەزمۇنى مۇنداق: جانلىقلارنىڭ تەن ھۈجەيرىسىدە ئوخشاش بىر بەلگىنى كونترول قىلىدىغان ئىرسىيەت فاكىتورلىرى جۈپ ھالەتتە مەۋجۇت بولۇپ، ھەرگىز قوشۇلۇپ كەتمەيدۇ؛ گامېتا ھاسىل قىلغان ۋاقىتتا بۇ جۈپ ھالەتتىكى ئىرسىيەت فاكىتورلىرى ئايرىلىپ، ئايرىم - ئايرىم باشقا - باشقا گامېتلارغا كىرىپ، گامېتا ئارقىلىق كېيىنكى ئەۋلادلارغا ئىرسىيەت بولۇپ قالىدۇ.

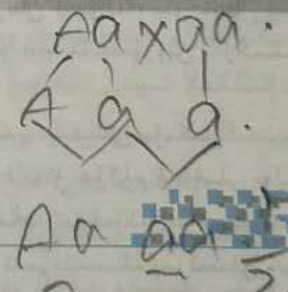

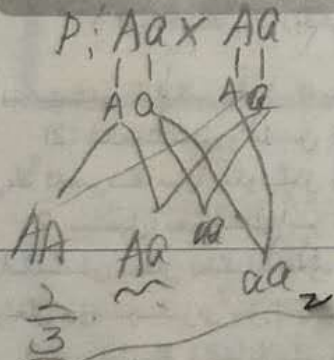
3:1 نىسبىتى  
1:2:1 نىسبىتى

**ماھارەت مەشىقى**



**تەجرىبە تەرتىپىنى لايىھىلەش**

ئۈچ يىلدىن كېيىن، بەلكىم سىز بىرەر گۈل ئۆستۈرۈش ئورنىدا ئىشلەپ قېلىشىڭىز مۇمكىن. كۈنلەرنىڭ بىرىدە توستاتنىلا ئەسلىدە ئاق ئېچىلىدىغان گۈلنىڭ سۆسۈن رەڭدە ئېچىلىدىغان تۈپىنى بايقاپ قېلىشىڭىز مۇمكىن. بۇ چاغدا سىز دەرھال ئۇنىڭ تاماشا قىلىش قىممىتىنى تونۇپ يېتىپ، شۇ خىل گۈلنىڭ يېڭى سورتىنى يېتىشتۈرۈشنى قارار قىلىشىڭىز مۇمكىن. بۇ خىل گۈلنىڭ ئۆز گۈلىدىن چاڭلىنىدىغانلىقىنى بىلگەندىن كېيىن، بۇ سۆسۈن رەڭدە ئېچىلىدىغان گۈلنىڭ ئۇرۇقىنى ئايرىم تېرىيسىز، ئەپسۇس، بۇنىڭدىن ئۆسۈپ چىققان 126 تۈپ يېڭى سورت ئىچىدە 46 تۈپى يەنىلا ئاق ئېچىلىدۇ، بۇ ئەلۋەتتە تاۋارلاشتۇرۇش ئىشلەپچىقىرىشى ئۈچۈن پايدىسىز. قانداق قىلغاندا سۆسۈن رەڭدە ئېچىلىدىغان ساپ سورتقا ئېرىشكىلى بولىدۇ؟ سىز بۇ مەسىلىنى ھەل قىلىشنىڭ تەجرىبە تەرتىپىنى يېزىپ ساۋاقداشلىرىڭىز بىلەن پىكىر ئالماشتۇرۇپ، كىم لايىھىلىگەن تەجرىبە تەرتىپىنىڭ ئاددىي ھەم ئىخچام ئىكەنلىكىنى كۆرۈپ بېقىڭ.



**I ئاساس سوئال**

1. تۆۋەندىكى بەلگىلەردىن نىسبىي بەلگىگە تەۋە بولغىنى (B)

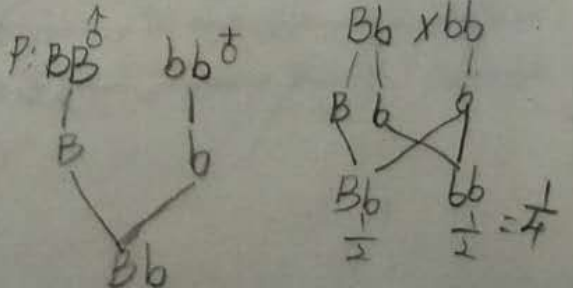
- A. ئادەمنىڭ ئېگىزلىكى بىلەن ئېغىرلىقى
- B. توشقاننىڭ ئۇزۇن يۇڭلۇقى بىلەن قىسقا يۇڭلۇقى
- C. مۈشۈكنىڭ ئاق يۇڭى بىلەن كۆك كۆزى
- D. پاختىنىڭ ئۇزۇن تالالىقى بىلەن ئىنچىكە تالالىقى

جاۋابى: [ B ]

2. ئادەم كۆزىنىڭ رەڭدار پەردىسى قوڭۇر رەڭدە ياكى كۆك رەڭدە بولىدۇ، قوڭۇر رەڭدە بولۇشى ئاشكارا ئىرسىيەت فاكىتورى تەرىپىدىن كونترول قىلىنىدۇ، كۆك رەڭدە بولۇشى يوشۇرۇن ئىرسىيەت فاكىتورى تەرىپىدىن كونترول قىلىنىدۇ. ئەگەر كۆك كۆز ئەر بىلەن قوڭۇر كۆز ئايال (بۇ ئايالنىڭ ئانىسى كۆك كۆز) توي قىلسا، بۇ بىر جۈپ ئەر - ئايالدىن كۆك كۆز قىزنىڭ تۇغۇلۇش ئېھتىماللىقى:

- A. 1/2
- B. 1/4
- C. 1/8
- D. 1/6

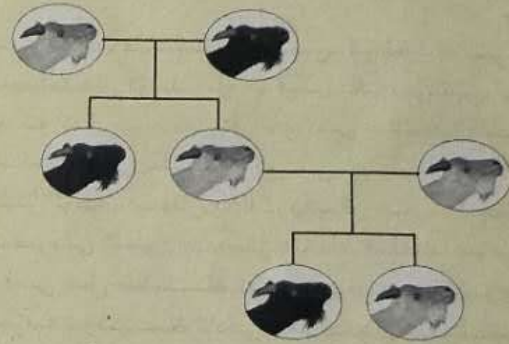
جاۋابى: [ B ]



3. شال گۈل چېڭىنىڭ بېيىشقا ۋە بېيىشقا ئەمەسلىكى بىر جۈپ نىسبى بەلگە، بېيىشقا ئەمەس گۈل چېڭىدىكى كراخمال تۈز زەنجىرلىك كراخمال، ئۇ يودقا يولۇقسا كۆك رەڭگە ئۆزگىرىدۇ؛ بېيىشقا گۈل چېڭىدىكى كراخمال ئارخامال زەنجىرلىك كراخمال، ئۇ يودقا يولۇقسا قىزىل رەڭگە ئۆزگىرىدۇ. گۈل چېڭى بېيىشقا ئەمەس ساپ سورتلۇق شال بىلەن گۈل چېڭى بېيىشقا ساپ سورتلۇق شالنى شالغۇنلاشتۇرۇپ، ئېرىشكەن  $F_1$  نىڭ گۈل چېڭىغا يود تېمىتىپ مىكروسكوپتا كۆزەتسەك، ئۇنىڭ يېرىمى قارا كۆك رەڭدە، يېرىمى قىزغۇچ سېرىق رەڭدە بولىدۇ. مەسىلىلەرگە جاۋاب بېرىڭ:

- (1) گۈل چېڭىدا بۇ خىل نىسبەتنىڭ كۆرۈلۈشىدىكى سەۋەب:
- (2) تەجرىبە نەتىجىسى \_\_\_\_\_ ئىسپاتلايدۇ:
- (3) ئەگەر  $F_1$  نى ئۆزىدىن چاڭلاشتۇرغاندا، ھاسىل بولغان تۈپلەر ئىچىدە گۈل چېڭى \_\_\_\_\_ خىل تىپتا بولىدۇ.
4. ئۆچكىنىڭ يۇڭ رەڭگى ئىرسىيىتى رەسىمىنى كۆزىتىپ، رەسىمگە ئاساسەن مەسىلىلەرگە جاۋاب بېرىڭ.
- (1) يۇڭ رەڭگىدىكى ئاشكارا بەلگە \_\_\_\_\_، يوشۇرۇن بەلگە \_\_\_\_\_.
- (2) ئاق يۇڭلۇق ئۆچكە بىلەن ئاق يۇڭلۇق ئۆچكىنىڭ جىنسلىق كۆپىيىش ئارقىلىق ھاسىل بولغان ئەۋلادلىرىدا قارا يۇڭلۇق ئۆچكە چىقىپ قالسا، بۇ خىل ھادىسە گېنېتىكىدا \_\_\_\_\_ دېيىلىدۇ.
- خىل ھادىسىنىڭ كېلىپ چىقىش سەۋەبى \_\_\_\_\_

## II كېڭەيتىمە سوئال



ئۆچكىنىڭ يۇڭ رەڭگى ئىرسىيىتى

1. مەلۇم دېھقانچىلىق مەيدانى چىلان رەڭلىك ۋە ئاق رەڭلىك بىر توپ ئات باققان. چىلان رەڭ بىلەن ئاق رەڭ ئايرىم - ئايرىم ئىرسىيەت فاكىتورى B ۋە b تەرىپىدىن كونترول قىلىنىدۇ. سورت يېتىشتۈرۈش خادىملىرى ئۇلارنىڭ ئىچىدىن ساغلام چىلان رەڭ بىر ئايغىرنى تاللاپ، نەسىللەندۈرۈش لايىھىسىگە ئاساسەن ئۇنىڭ ساپ زىگوتىلىق ياكى ئارىلاش زىگوتىلىق (پەقەت يۇڭ رەڭگىگە قارىتىلغان) لىقىنى تەكشۈرىدۇ.
- (1) نورمال ئەھۋالدا، بىر بايتال بىر قېتىمدا بىرلا تايچاق تۇغىدۇ. بىر نەسىللەندۈرۈش مەزگىلىدە بۇ خىل تەكشۈرۈپ

بېكىتىشنى تاماملاپ بولۇش ئۈچۈن، قانداق نەسىللەندۈرۈش كېرەك؟

- (2) شالغۇنلاشتۇرۇلغاندىن كېيىنكى ئەۋلادلاردا قانداق نەتىجە كېلىپ چىقىشى مۇمكىن؟ نەتىجىگە ئاساسەن بۇ چىلان رەڭ ئايغىرنىڭ ساپ زىگوتىلىق ياكى ئارىلاش زىگوتىلىق ئىكەنلىكىگە قانداق ھۆكۈم قىلغىلى بولىدۇ؟
2. مېندېل: «ھەرقانداق بىر تەجرىبىنىڭ قىممىتى ۋە ئۈنۈمى ئۇنىڭغا ئىشلەتكەن ماتېرىيالنىڭ تەجرىبە مەقسىتىگە ماسلىشىشى بىلەن بەلگىلىنىدۇ» دەيدۇ. مېندېلنىڭ شالغۇنلاشتۇرۇش تەجرىبىسىگە بىرلەشتۈرۈپ، ئۆزىڭىزنىڭ بۇ سۆزىگە بولغان چۈشەنچىڭىزنى سۆزلەپ بېقىڭ.
3. مېندېلنىڭ شالغۇنلاشتۇرۇش تەجرىبىسىدىن سىرت، سىز يەنە ئىلمىي تەتقىقاتتا پەرەز - دېدۇكسىيە ئۈسۈلى قوللىنىلىدىغان ئەمەلىي مىساللارنى كۆرسىتىپ بېرەلەمسىز؟

§ 2 . مېندېلنىڭ كۆك پۇرچاقنى شالغۇتلاشتۇرۇش تەجرىبىسى (II)



مەسىلىلەر ئۈستىدە مۇھاكىمە

بىر خىل سورتتىكى سېپىرلارنىڭ سۈتى كۆپ، يەنە بىر خىل سورتتىكى سېپىرلارنىڭ ئۆسۈشى تېز بولىدۇ، ھەم سۈتى كۆپ، ھەم ئۆسۈشى تېز بولغان سېپىر يېتىشتۈرۈش ئۈچۈن قانداق ئۇسۇل قوللىنىش كېرەك؟

Y 黄色 (Yellow)  
y 绿色 (Green)  
R 圆 (Round)  
r 皱皮 (Wrinkled)

بۇ ياراڭراقنىڭ مۇھىم نۇقتىسى

- مېندېلنىڭ ئىككى جۈپ نىسبىي بەلگە ئۈستىدىكى شالغۇتلاشتۇرۇش تەجرىبىسى قانداق لايىھىلەنگەن؟
- ئەركىن بىرىكىش قانۇنىنىڭ مەزمۇنى نېمە؟
- مېندېلنىڭ تەجرىبە ئۇسۇلى بىزگە قانداق ئىلھام بەردى؟



مېندېل كۆك پۇرچاقنىڭ بىر جۈپ نىسبىي بەلگىسى ئۈستىدىكى تەتقىقاتىنى تاماملىغاندىن كېيىن، ئۇنىڭدا يەنە: بىر جۈپ نىسبىي بەلگىنىڭ ئايرىلىشى باشقا نىسبىي بەلگىلەرگە تەسىر كۆرسەتمەيدۇ - يوق؟ دېگەن يېڭى بىر گۇمان پەيدا بولىدۇ. ئۇ باغدىكى كۆك پۇرچاق تۈپلىرىنى كۆزىتىۋېتىپ، پەلە يوپۇرماقنىڭ رەڭگى بىلەن ئۇرۇقنىڭ شەكلىدە بىرى سېرىق يۇمىلاق دان، يەنە بىرى يېشىل پۈرمە داندىن ئىبارەت ئىككىلا تىپنى بايقايدۇ. پەلە يوپۇرماقنىڭ رەڭگىنى بەلگىلەيدىغان ئىرسىيەت فاككتورى ئۇرۇق شەكلىنى بەلگىلەيدىغان ئىرسىيەت فاككتورىغا تەسىر كۆرسەتمەيدۇ - قانداق؟ سېرىق رەڭلىك كۆك پۇرچاق دېنى چوقۇم توق، يېشىل رەڭدىكى كۆك پۇرچاق دېنى چوقۇم پۈرمە بولامدۇ؟

ئىككى جۈپ نىسبىي بەلگىلەرنى شالغۇتلاشتۇرۇش تەجرىبىسى مېندېل ساپ سورتلۇق سېرىق يۇمىلاق دانلىق كۆك پۇرچاق بىلەن ساپ سورتلۇق يېشىل پۈرمە دانلىق كۆك پۇرچاقنى ئەجداد قىلىپ شالغۇتلاشتۇرغاندا، مەيلى ئوڭ ياكى تەتۈر چاڭلاش تۈرسۈن، (F<sub>1</sub>) نىڭ ھەممىسى سېرىق يۇمىلاق

7.1 - رەسىم. سېرىق يۇمىلاق دانلىق كۆك پۇرچاق بىلەن يېشىل پۈرمە دانلىق كۆك پۇرچاقنى شالغۇتلاش تۈرۈش تەجرىبىسى

Handwritten genetic analysis:  
 P: YYRR × yyrr  
 F<sub>1</sub>: YyRr  
 F<sub>2</sub>: YYRR, YyRR, yyRR, YYRr, YyRr, yyRr, YYrr, Yyrr, yyrr  
 9 : 3 : 3 : 1

دان تۇتقان. بۇ سېرىق ۋە يۇمىلاق دان ئاشكارا بەلگە. بىر شىل ۋە يۈرمە دان يوشۇرۇن بەلگە ئىكەنلىكىنى كۆرسىتىپ بېرىدۇ.

مېندېل يەنە  $F_1$  نى ئۆزىدىن چاڭلاشتۇرغاندا ھاسىل بولغان  $F_2$  دە سېرىق يۇمىلاق دان بىلەن يېشىل يۈرمە دان بايقالغان. بۇ ئەلۋەتتە ئۇ پەرز قىلغاندەك ئىش ئىدى. غەيبىي يېشىل يۇمىلاق

ماتېماتىكا نۇقتىسىدىن تەھلىل قىلغاندا  $3:1$  بىلەن  $9:3:3:1$  ماتېماتىكىلىق مۇناسىۋەت تۇرغۇزىدۇ - يوق؟ بۇ ئىككى جۈپ نىسبىي بەلگىنىڭ ئىرسىيەت نەتىجىلىرىنى چۈشىنىشتە قانداق يول كۆرسىتىپ بېرىدۇ؟

لىتە يېرى شۇكى،  $F_2$  دە يەنە ئەجدادلىرىدا بولمىغان بەلگىلەرنىڭ گۈرۈپپىلىشىشى بايقالغان. دان بىلەن سېرىق يۈرمە دان (7.1 - رەسىم) بايقالغان.

نېمە ئۈچۈن گۈرۈپپىلانغان يېڭى بەلگە كۆرۈلىدۇ؟

مېندېل يەنە  $F_2$  دىكى ئوخشىمىغان بەلگە تىپلىرى ئۈستىدە سانلىق ستاتىستىكا ئېلىپ بارغان، يەنى: ئومۇمىي ئېرىشكەن 556 تال دان (ئۇرۇق) ئىچىدە سېرىق يۇمىلاق دان، يېشىل يۇمىلاق دان، سېرىق يۈرمە دان ۋە يېشىل يۈرمە دانلارنىڭ سانى تەرتىپ بويىچە 315، 108، 101 ۋە 32، ئۇلارنىڭ سانلىق نىسبىتى  $3:1$  گە يېقىنلاشقان.

بۇنىڭ بىر جۈپ نىسبىي بەلگە ئۈستىدە ئېلىپ بېرىلغان تەجرىبىدىكى  $F_2$  نىڭ سانلىق نىسبىتى  $3:1$  بىلەن مۇناسىۋىتى بارمۇ؟

مېندېل ئالدى بىلەن ھەر بىر جۈپ نىسبىي بەلگىنى مۇستەقىل تەھلىل قىلغان، نەتىجىدە ھەر بىر جۈپ نىسبىي بەلگىنىڭ ئىرسىيىتى ئايرىلىش قانۇنىغا ئەمەل قىلىدىغانلىقىنى بايقىغان:

يۇمىلاق دان  $315 + 108 = 423$

دان شەكلى

يۈرمە دان  $101 + 32 = 133$

يۈرمە دان: يۇمىلاق دان  $3:1$  گە يېقىنلاشقان

سېرىق دان  $315 + 101 = 416$

دان رەڭگى

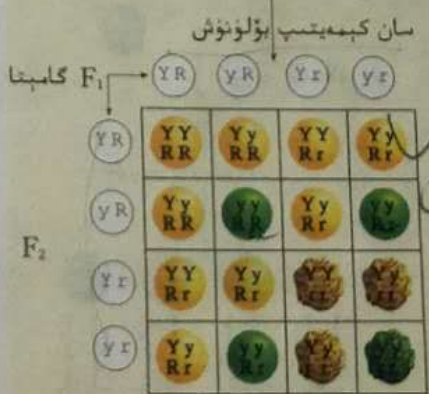
يېشىل دان  $108 + 32 = 140$

يېشىل دان: سېرىق دان  $3:1$  گە يېقىنلاشقان

يۇقىرىدىكى تەھلىل شۇنى چۈشەندۈرۈپ بېرىدۇكى، مەيلى كۆك پۇرچاق دېنىنىڭ شەكلى ياكى رەڭگى بولسۇن، پەقەت بىر جۈپ نىسبىي بەلگە بولسلا ئايرىلىش قانۇنىغا ئەمەل قىلىدۇ. ئۇنداقتا، ئىككى جۈپ نىسبىي بەلگىنىڭ ئىرسىيىتى بىلەن بىرلەشتۈرۈپ ئويلاشقاندا ئۇلارنىڭ ئارىسىدا قانداق مۇناسىۋەت بار؟

ئەركىن بىرىكىش ھادىسىسىنى چۈشەندۈرۈش

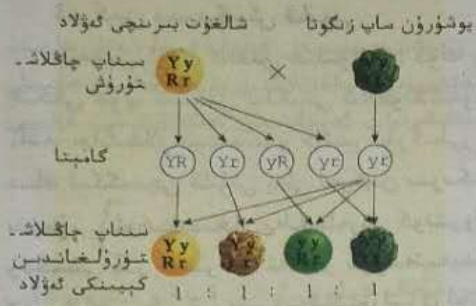
ئەگەر كۆك پۇرچاقنىڭ يۇمىلاق دان بولۇشى بىلەن يۈرمە دان بولۇشىنى ئايرىم - ئايرىم ئىرسىيەت قىلىش



؟ خىل گۈن تىپ بار

8.1 - رەسىم. سېرىق يۇمىلاق دان كۆك پۇرچاق بىلەن يېشىل يۈرمە دان كۆك پۇرچاقنى شالغۇتلاشتۇرۇش نەتىجىسىنى تەھلىل قىلىش

تورى R ۋە r كونترول قىلىدۇ، سېرىق بولۇشى بىلەن يېشىل بولۇشنى ئايرىم-ئايرىم ئىرسىيەت فاككتورى Y ۋە y كونترول قىلىدۇ دېيىلسە، ئۇنداقتا، ساپ سورتلۇق سېرىق يۇمىلاق دانلىق كۆك پۇرچاق بىلەن ساپ سورتلۇق يېشىل پۈرمە دانلىق كۆك پۇرچاقنىڭ ئىرسىيەت فاككتورلىرى ئايرىم-ئايرىم YYRR ۋە yyrr بولىدۇ، ئۇلاردىن ھاسىل بولغان F<sub>1</sub> ئىرسىيەت فاككتورى YyRr بولۇپ، سېرىق يۇمىلاق داننى ئىپادىلەيدۇ (8.1 - رەسىم).



9.1 - رەسىم. سېرىق يۇمىلاق دان كۆك پۇرچاق بىلەن يېشىل پۈرمە دان كۆك پۇرچاقنى سىناپ چاڭلاشتۇرۇش تەجرىبىسى

مېندېلنىڭ چۈشەندۈرۈشى مۇنداق: يەنى F<sub>1</sub> گامېتا ھاسىل قىلغاندا، ھەر بىر جۈپ ئىرسىيەت فاككتورى بىر-بىرىدىن ئايرىلىپ، ئوخشىمىغان جۈپتىكى ئىرسىيەت فاككتورلىرى بىلەن ئىركىن بىرىكىدۇ. شۇنىڭ بىلەن F<sub>1</sub> ھاسىل قىلغان ئانلىق گامېتا بىلەن ئانلىق گامېتنىڭ ھەر بىرىدە 1:1:1:1 نىسبەتتە YR، yR، Yr، yr ۋە ئىبارەت تۆت خىل ئىرسىيەت فاككتورى بولىدۇ. ئۇرۇقلانغاندا ئانلىق ۋە ئانلىق گامېتلارنىڭ قوشۇلۇشى تاسادىپىي بولىدۇ. ئانلىق ۋە ئانلىق گامېتلارنىڭ قوشۇلۇشى شەكلى 16 خىل: ئىرسىيەت فاككتورلىرىنىڭ بىرىكىش شەكلى: YYRR، YYRr، YyRR، YyRr، yyRR، yyRr، Yyrr، YYrr بولۇپ، سېرىق پۈرمە، يېشىل يۇمىلاق ۋە يېشىل پۈرمە داندىن ئىبارەت تۆت خىل بولۇپ، ئۇلارنىڭ سانلىق نىسبىتى 9:3:3:1 (8.1 - رەسىم) بولىدۇ.

ئىركىن بىرىكىش ھادىسىسىنى چۈشەندۈرۈشنى دەلىللەش يۇقىرىدىكىدەك چۈشەندۈرۈش توغرىمۇ - يوق؟ بۇنىڭ ئۈچۈن مېندېل يەنە سىناپ چاڭلاشتۇرۇش، شال-غۇت بىرىنچى ئەۋلاد (YyRr) بىلەن يوشۇرۇن ساپ زىگوتا (yyrr) نى شالغۇتلاشتۇرىدىغان تەجرىبە لايىھە-لىگەن (9.1 - رەسىم).

### ئىركىن بىرىكىش ھادىسىسىنى چۈشەندۈرۈشنى دەلىللەش

مېندېلنىڭ چۈشەندۈرۈشىگە ئاساسەن، سىناپ چاڭلاشتۇرۇشنىڭ نەتىجىسىگە ھۆكۈم قىلىپ بېقىڭ. مېندېل ئىشلىگەن سىناپ چاڭلاشتۇرۇش تەجرىبىسىدە، مەيلى F<sub>1</sub> نى ئانلىق ياكى ئانلىق قىلسۇن، نەتىجىسى مۆلچەردىكى پەرەزگە ئۇيغۇن كەلگەن (2.1 - جەدۋەل).

Handwritten notes:  $YyRr \times yyrr$   
 $YyRr, Yyrr, yyRr, yyrr$   
 $YyRr, Yyrr, yyRr$

2.1 - جەدۋەل. سېرىق يۇمىلاق دانلىق كۆك پۇرچاق بىلەن يېشىل پۈرمە دانلىق كۆك پۇرچاقنى سىناپ چاڭلاشتۇرۇش تەجرىبىسىنىڭ نەتىجىسى

ئىپادىلىنىش تىپى		سېرىق يۇمىلاق دان		يېشىل پۈرمە دان	
تورى	ئىپادىلىنىش تىپى	سېرىق يۇمىلاق دان	يېشىل پۈرمە دان	سېرىق يۇمىلاق دان	يېشىل پۈرمە دان
ئەمەلىي سانى	F <sub>1</sub> ئانلىق قىلىنغان	31	27	26	26
	F <sub>1</sub> ئانلىق قىلىنغان	24	22	26	25
ئوخشاش بولمىغان بەلگىلەرنىڭ سانلىق نىسبىتى		1	1	1	1

ئەركىن بىرىكىش قانۇنى مېندېل ئۆزى تەتقىق قىلىۋاتقان كۆك پۇرچاقنىڭ يەتتە جۈپ نىسبىي بەلگىلىرى ئىچىدىن خالىغان ئىككى جۈپ نىسبىي بەلگىنى شالغۇتلاشتۇرغاندا، نەتىجىسى ئومۇمەن ئوخشاش چىقىدۇ. بۇ خىل ئەھۋالنى باشقا جانلىقلار تېنىدىنمۇ دائىم كۆرگىلى بولىدۇ. كېيىنكىلەر بۇ خىل ئىرسىيەت قانۇنىيىتىنى مېندېلنىڭ ئىككىنچى قانۇنى يەنى ئەركىن بىرىكىش قانۇنى (law of independent assortment) دەپ ئاتىغان. ئۇنىڭ مەزمۇنى ئوخشىمىغان بەلگىلەرنى كونترول قىلىدىغان ئىرسىيەت فاكىتورلىرىنىڭ ئايرىلىشى بىلەن بىر بىرىگە تەسىر كۆرسەتمەيدۇ؛ گامبېتا ھاسىل قىلغاندا، ئوخشاش بەلگىنى بەلگىلەيدىغان جۈپ ھالەتتىكى ئىرسىيەت فاكىتورلىرى ئۆزئارا ئايرىلىدۇ، ئوخشىمىغان بەلگىلەرنى بەلگىلەيدىغان ئىرسىيەت فاكىتورلىرى ئەركىن بىرىكىدۇ.

مېندېل تەجرىبە ئۇسۇلىنىڭ ئىلھامى مېندېلدىن ئىلگىرىكى نۇرغۇن ئالىملار ھايۋان ۋە ئۆسۈملۈكلەر ئۈستىدە شالغۇتلاشتۇرۇش تەجرىبىسى ئىشلىگەن بولسىمۇ، ئەمما ئۇلار ئىرسىيەتنىڭ قانۇنىيىتىنى خۇلاسەلەپ چىقالمىغان. مېندېل نېمە ئۈچۈن مۇۋەپپەقىيەت قازىنالمىدى؟



مۇلاھىزە ۋە مۇھاكىمە

مېندېلنىڭ مۇۋەپپەقىيەت قازىنىشىدىكى سەۋەب

مېندېل ئىرسىيەت قانۇنىيەتلىرىنى بايقاشتىن ئىلگىرىلا، شالغۇتلاشتۇرۇپ سورت يېتىشتۈرۈشنى تەتقىق قىلىدىغان بەزى مۇتەخەسسسلەر شالغۇت كېيىنكى ئەۋلادتا بەلگىلەرنىڭ ئايرىلىش ھادىسىسى كۆرۈلىدىغانلىقىنى بىلگەن، ئەمما ئۇلار بىر خىل جانلىقنىڭ نۇرغۇن بەلگىلىرىنى تەتقىقات ئوبيېكتى قىلىپ، تەجرىبىدىكى مەلۇماتلارنى چوڭقۇر ستاتىستىكىلاپ تەھلىل قىلمىغان.

مېندېلنىڭ شالغۇتلاشتۇرۇش تەجرىبىسىدىكى تەتقىقاتلارمۇ ئۇنداق ئوڭۇشلۇق بولۇپ كەتمىگەن. ئۇ قارچىغا ئوتنى تەتقىق قىلىش ئۈچۈن نەچچە يىل ۋاقىت سەرپ قىلغان بولسىمۇ، نەتىجە چىقمىغان. بۇنىڭ ئاساسلىق سەۋەبى: (1) قارچىغا ئوتنىڭ ھەم ئاسان پەرقلەندۈرگىلى بولىدىغان، ھەم داۋاملىق كۆزەتكىلى بولىدىغان نىسبىي بەلگىلىرى يوق؛ (2) قارچىغا ئوتنىڭ بەزىدە جىنسلىق كۆپىيىپ، بەزىدە جىنسىز كۆپىيىدىغانلىقىنى ئەينى ۋاقىتتا ھېچكىم بىلمەيتتى؛ (3) قارچىغا ئوتنىڭ گۈلى كىچىك بولۇپ، سۈنئىي شالغۇتلاشتۇرۇش تەجرىبىسى ئىشلەش ئىنتايىن قىيىن ئىدى.

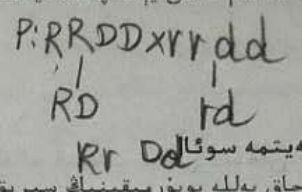
● مۇھاكىمە

1. كۆك پۇرچاقنى شالغۇتلاشتۇرۇش تەجرىبىسىنىڭ ماتېرىيالى قىلىشنىڭ قانداق ئالاھىدىلىكلىرى بار؟ بۇ، تەجرىبە ماتېرىيالىنى تاللاشنىڭ ئىلمىي تەتقىقاتتا قانداق رول ئوينايدىغانلىقىنى چۈشەندۈرىدۇ؟
2. ئەگەر مېندېل نىسبىي بەلگىلەرنىڭ ئىرسىيىتى ھەققىدىكى تەتقىقاتىدا، بىر جۈپتىن كۆپ جۈپكە قاراپ يۈزلەنمىگەن بولسا، ئىرسىيەت قانۇنىيىتىنى بايقىيالاتتى؟ نېمە ئۈچۈن؟
3. ئەگەر مېندېل تەجرىبە نەتىجىلىرىنى ستاتىستىكىلاپ تەھلىل قىلمىغان بولسا، ئايرىلىش ھادىسىسىنى چۈشەندۈرۈپ بېرەلەمتى؟
4. مېندېلنىڭ ئايرىلىش ھادىسىسىنى چۈشەندۈرۈشى لوگىكا جەھەتتە بىر - بىرىگە باغلىنىشلىق ھەم ئېھتىياتچانلىق بىلەن ئوتتۇرىغا قويۇلغان بولسىمۇ، ئۇ يەنە نېمە ئۈچۈن سىناپ چاڭلاشتۇرۇش تەجرىبىسى لايىھىلەپ ئىسپاتلىماقچى بولىدۇ؟
5. مېندېلنىڭ مۇۋەپپەقىيەت قازىنىشىدا، ئۇ ئىلمىي ئۇسۇللاردىن ئىجادىي پايدىلانغاندىن سىرت، يەنە قانداق ئامىللار بار دەپ قارايسىز؟

2. شالنىڭ ئېگىز غولى (D) پاكىر غولى (d) غا نىسبەتەن ئاشكارا بەلگە، شال ۋاباسىغا قارشى تۇرالايدىغىنى (R) شال ۋاباسىغا قارشى تۇرالمىدىغىنى (r) گە نىسبەتەن ئاشكارا بەلگە، بۇ ئىككى جۈپ بەلگە مۇستەقىل ئىرسىيەت بولۇپ قالىدۇ. ئەگەر شال ۋاباسىغا قارشى تۇرالمىدىغان ساپ زىگوتىلىق پاكىر غوللۇق (ئاسان يېتىپ قالمايدىغان) شال سورتى بىلەن شال ۋاباسىغا قارشى تۇرالايدىغان ساپ زىگوتىلىق ئېگىز غوللۇق (ئاسان يېتىپ قالىدىغان) شال سورتى شالغۇتلاش-تۇرۇلسا،  $F_1$  دە ھەم ئاسان يېتىپ قالمايدىغان، ھەم كېسەلگە قارشى تۇرالايدىغان تىپنىڭ كۆرۈلۈش نىسبىتى مۇنداق بولىدۇ:

- A. 1/8      B. 1/16      C. 3/16      D. 3/8

جاۋابى: C




II كېڭەيتمە سوئال

كۆك پۇرچاق پەللە يوپۇرمىقىنىڭ سېرىق بولۇشى (Y) يېشىل بولۇشى (y) غا نىسبەتەن ئاشكارا بەلگە، دېنى (ئۇرۇق-قى) نىڭ يۇمىلاق بولۇشى (R) يۈرمىلىك بولۇشى (r) گە نىسبەتەن ئاشكارا بەلگە. بىر ئادەم سېرىق دانلىق يۇمىلاق كۆك پۇرچاق بىلەن يېشىل دانلىق يۇمىلاق كۆك پۇرچاقنى شالغۇتلاشتۇرغاندا، كېيىنكى ئەۋلادتا تۆت خىل تىپ كۆرۈلگەن. بەلگىلەر توغرىسىدىكى ستاتىستىكا نەتىجىسى تۆۋەندىكى دىئاگراممىدا كۆرسىتىلگەندەك، دىئاگراممىغا ئاساسەن مەسىلەلەرگە جاۋاب بېرىڭ.

(1) ئەجدادلىرىنىڭ گېن تەركىبى \_\_\_\_\_ (سېرىق يۇمىلاق دانلىق)، \_\_\_\_\_ (يېشىل يۇمىلاق دانلىق).

(2)  $F_1$  دە، ئەجدادلىرىنىڭكىگە ئوخشىمايدىغان ئىپادىلە-  
 نىش تىپى \_\_\_\_\_ بىلەن \_\_\_\_\_ دىن ئىبارەت، ئۇلار ئوتتۇ-  
 رىسىدىكى سانلىق نىسبەت \_\_\_\_\_  $F_1$  دىكى ساپ زىگوتىلىق-  
 نىڭ ئىگىلىدىغان نىسبىتى \_\_\_\_\_.



(3)  $F_1$  دىكى سېرىق يۇمىلاق دانلىق كۆك پۇرچاقنىڭ  
 گېن تەركىبى \_\_\_\_\_ . ئەگەر  $F_1$  ئىچىدىكى سېرىق يۇ-  
 مىلاق دانلىق بىر تۈپ كۆك پۇرچاق بىلەن يېشىل پۈرمە  
 دانلىق كۆك پۇرچاق شالغۇتلاشتۇرۇلسا، ئېرىشكەن  $F_2$  دىكى  
 بەلگىلەرنىڭ تىپلىرى \_\_\_\_\_ خىل بولىدۇ، سانلىق نىسبىتى  
 بولىدۇ \_\_\_\_\_.

بۇ بابتىن قىسقىچە خۇلاسە

مېندېلنىڭ كۆك پۇرچاق ئۈستىدە ئېلىپ بارغان شالغۇتلاشتۇرۇش تەجرىبىسى ئىر-  
 سىيەت فاكىتورلىرىنىڭ ئايرىلىش قانۇنى بىلەن ئەركىن بىرىكىش قانۇنىدىن ئىبارەت  
 ئىككى تۈپ قانۇنىيەتنى مۇۋەپپەقىيەتلىك ھالدا ئېچىپ بەردى. بۇ ئىككى تۈپ قانۇن-  
 يەتنىڭ نېگىزى؛ جانلىقلار تېنىدە ئىرسىيەت بولۇپ قالىدىغىنى بەلگىلەر بولماستىن، بەل-  
 كى بەلگىلەرنى كونترول قىلىدىغان ئىرسىيەت فاكىتورلىرىدىن ئىبارەت. ئىرسىيەت فاك-  
 تورلىرى تەن ھۈجەيرىسىدە جۈپ ھالەتتە، گامېتىدا تاج ھالەتتە مەۋجۇت بولىدۇ. ئىرس-  
 يەت فاكىتورلىرى ئاشكارا ۋە يوشۇرۇن دەپ ئايرىلغاچقا، بەلگىلەرمۇ ئاشكارا بەلگە ۋە يو-  
 شۇرۇن بەلگە دەپ ئايرىلىدۇ. شالغۇت ھۈجەيرىدىكى جۈپ ئىرسىيەت فاكىتورلىرى ئۆز-  
 ئارا ئارىلىشىپ كەتمەستىن، گامېتا ھاسىل بولغاندا ئايرىم - ئايرىم گامېتىلارغا كىرىدۇ.

جۈپ ھالەتتىكى ئوغشىمىغان ئىرسىيەت فاكىتورلىرى بىر - بىرىدىن ئايرىلىش بىلەن بىللە، ئۆزئارا ئەركىن بىرىكىپ گامېتلارغا كىرىدۇ، دېگەندىن ئىبارەت. مېندېلنىڭ بۇ غىزىمىتىنى ئەينى ۋاقىتتا ھېچكىم پۈشمەنمەندى. 30 يىلدىن كېيىن ئاندىن كىشىلەر بۇنى قايتا تونۇپ يېتىپ، نۇرغۇن تەجرىبىلەر ئارقىلىق ئۇنىڭ توغرىلىقىنى ئىسپاتلىغان. 1909 - يىلىغا كەلگەندىلا جۇھانسېن مېندېلنىڭ بۇ «ئىرسىيەت فاكىتور» لىرىغا قايتىدىن «گېن» دەپ ئىسىم قويۇپ، ئىپادىلىنىش تىپى بىلەن گېن تىپى ئۇقۇمىنى ئوتتۇرىغا قويغان. گېن تىپى بەلگىلەرنىڭ ئىپادىلىنىشىدىكى ئىچكى ئامىل، ئىپادىلىنىش تىپى بولسا گېن تىپىنىڭ ئىپادىلىنىش شەكلىدىن ئىبارەت.

مېندېلنىڭ تەجرىبە ئۇسۇلى كېيىنكىلەرگە نۇرغۇن پايدىلىق كۆرسەتمىلەرنى ئېلىپ كەلدى. مەسىلەن، تەجرىبە ماتېرىياللىرىنى توغرا تاللاپ ئىشلىتىش؛ ئاۋۋال بىر جۈپ نىسبىي بەلگىنىڭ ئىرسىيىتىنى تەتقىق قىلىپ، ئاندىن ئىككى جۈپ ياكى ئۈچىدىن كۆپ جۈپ بەلگىلەرنىڭ ئىرسىيىتىنى تەتقىق قىلىش؛ ستاتىستىكا ئۇسۇلىدىن پايدىلىنىپ تەجرىبە نەتىجىلەرنى تەھلىل قىلىش؛ كۆپلىگەن سانلىق مەلۇماتلارنى تەھلىل قىلىش ئاساسدا پەرەزنى ئىپادىلەش؛ ئاندىن يېڭى تەجرىبە لايىھىلەپ ئىسپاتلاش قاتارلىقلار. بولۇپمۇ ئۇنىڭ ماتېماتىكىلىق ئۇسۇلىنى بىئولوگىيە تەتقىقاتىغا ئېلىپ كىرىشى، ئىلگىرىكىلەرنى بېسىپ چۈشىدىغان يېڭىلىقتۇر. ئۇنىڭ ئىلىم - پەنگە بولغان قىزىقىشى ۋە قەتئىي بوشاشماس روھى بىزنىڭ ئۆگىنىشىمىزگە ئەرزىيدۇ.

تور ئادرېسى

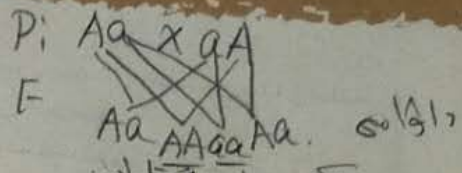
- <http://jpkc.zju.edu.cn/k/531/>
- <http://sw.smez.net>
- <http://www.oursci.org/magazine/200401/040113.htm>
- <http://www.jsyxs.cn>

Handwritten notes and calculations on the right side of the page, including mathematical expressions like  $150 \times \frac{1}{2} = 75$  and  $100 \times \frac{1}{2} = 50$ , and some illegible text.

Handwritten notes on the far right edge of the page, including the letter 'A' and 'C'.



ئۆز - ئۆزىنى سىناش



I ئۇقۇم ھەققىدە سىناش  
ھۆكۈم قىلىش

1. توشقاننىڭ ئاق يۇڭى بىلەن قارا يۇڭى، ئىتتىك ئۇزۇن يۇڭى بىلەن بۇدۇر يۇڭى نىسبىي بەلگىلەردۇر.
2. يوشۇرۇن بەلگە جانلىقلار تېنىدە ئىپادىلىنىپ چىقمايدىغان بەلگىلەرنى كۆرسىتىدۇ.
3. ساپ زىگوتىنى ئۆزىدىن چاڭلاشتۇرغاندىن كېيىنكى ئەۋلادلاردا بەلگىلەرنىڭ ئايرىلىشى كۆرۈلمەيدۇ، ئارىلاش زىگوتىنى ئۆزىدىن چاڭلاشتۇرغاندىن كېيىنكى ئەۋلادلاردا ساپ زىگوت كۆرۈلمەيدۇ.

توغرا جاۋابنى تاللاڭ

1. بىر جۈپ نىسبىي بەلگە ئۈستىدە ئېلىپ بېرىلغان ئىرسىيەت تەجرىبىسىدە، بەلگىلەرنىڭ ئايرىلىشى كۆرۈلىدىغان ئەۋلاد:
  - A. ساپ سورتلۇق ئاشكارا بەلگىلىك ئىندىۋىد بىلەن ساپ سورتلۇق يوشۇرۇن بەلگىلىك ئىندىۋىدنى شالغۇتلاشتۇرغاندا ھاسىل بولىدىغان ئاشكارا بەلگىلىك كېيىنكى ئەۋلاد
  - B. شالغۇت ئاشكارا بەلگىلىك ئىندىۋىد بىلەن ساپ سورتلۇق ئاشكارا بەلگىلىك ئىندىۋىدنى شالغۇتلاشتۇرغاندا ھاسىل بولىدىغان ئاشكارا بەلگىلىك كېيىنكى ئەۋلاد
  - C. شالغۇت ئاشكارا بەلگىلىك ئىندىۋىد بىلەن ساپ سورتلۇق يوشۇرۇن بەلگىلىك ئىندىۋىدنى شالغۇتلاشتۇرغاندا ھاسىل بولىدىغان يوشۇرۇن بەلگىلىك كېيىنكى ئەۋلاد
  - D. شالغۇت ئاشكارا بەلگىلىك ئىندىۋىدلارنى ئۆزىدىن چاڭلاشتۇرغاندا ھاسىل بولىدىغان ئاشكارا ۋە يوشۇرۇن بەلگىلىك كېيىنكى ئەۋلاد

جاۋابى: [D]

2. گېن تىپى AaBb بولغان ئىندىۋىدنى گېن تىپى aaBb بولغان ئىندىۋىد بىلەن شالغۇتلاشتۇرغاندا، F<sub>1</sub> دىكى ئىپادىلەش تىپلىرىنىڭ نىسبىتى:

- A. 9:3:3:1      B. 1:1:1:1      C. 3:1:3:1      D. 3:1

جاۋابى: [C]

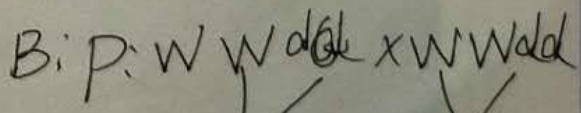
3. بىر جۈپ ئارىلاش زىگوتىلىق برازىلىيە قارا چاشقىنى تۆت بالا تۇغقان بولسا، بۇ تۆت چاشقان بالىسىنىڭ ئىپادىلەش تىپى مۇنداق بولۇشى مۇمكىن:

- A. ئۈچ قارا بىر ئاق  
B. ھەممىسى قارا  
C. ئىككى قارا ئىككى ئاق  
D. يۇقىرىقىدەك ئۈچ خىل تۇغۇلۇش ئىھتىمالى بار

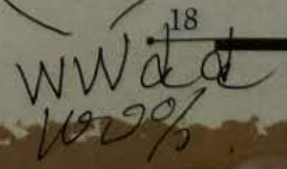

جاۋابى: [D]

4. كاۋا مېۋىسىنىڭ ئاق بولۇشى (W) سېرىق بولۇشى (w) غا نىسبەتەن ئاشكارىلىق، ياپىلاق بولۇشى (D) يۇمشاق بولۇشى (d) غا نىسبەتەن ئاشكارىلىق بولۇپ، بۇ ئىككى جۈپ گېن مۇستەقىل ئىرسىيەت بولۇپ قالىدۇ. تۆۋەندىكى ئوخشاش بولمىغان ئەجدادلارنىڭ بىرىكىشىدىن ھاسىل بولغان كېيىنكى ئەۋلادلار ئىچىدە، ئەڭ كۆپ ئاق رەڭلىك يۇمشاق مېۋە ۋە تۇتىدىغان بىر گۇرۇپپا:

- A. WwDd x wwdd      B. WWdd x WWdd  
C. WwDd x wwDD      D. WwDd x WWDD



جاۋابى: [B]



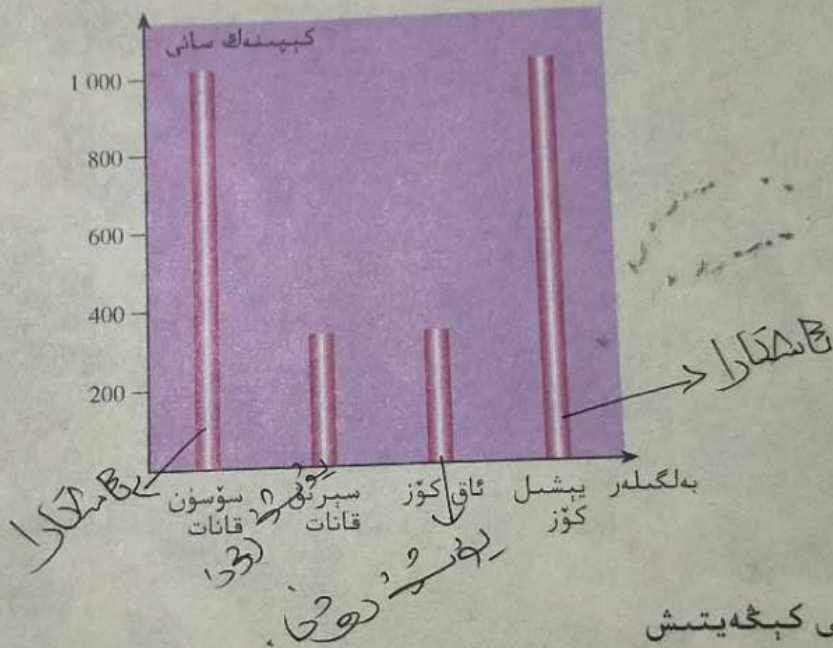
### II بىلىمىنى نامايان قىلىش

ساپ سورتلۇق تاتلىق كۆممىقوناق بىلەن ساپ سورتلۇق تاتلىق ئەمەس كۆممىقوناقنى قۇر ئارىلاپ تېرىپ مەھسۇلاتنى يىغىش ۋاقتىدا، تاتلىق كۆممىقوناق باشقىدا تاتلىق ئەمەس كۆممىقوناق دېنى بايقالغان، ئەمما تاتلىق ئەمەس كۆممىقوناق باشقىدا تاتلىق كۆممىقوناق دېنى تاپقىلى بولمىغان، بۇ خىل ھادىسىنىڭ يۈز بېرىش سەۋەبىنى چۈشەندۈرۈڭ. (ئەسكەر- تىش: تاتلىق بولۇش بىلەن تاتلىق بولماسلىق تۆرەلمە سۈتدە بولىدىغان بەلگە، تۆرەلمە سۈتى بولسا تۆرەلمە تۈگۈندىكى قۇتۇپ ياد- روسى بىلەن ئىسپېرمنىڭ بىرىكىشىدىن يېتىلىدۇ.)

$$n + n + n$$

### III ماھارىتىنى ئىشقا سېلىش

تۆۋەندىكى دىئاگراممىدا مەلۇم خىل ساپ سورتلۇق كېپىنەكنىڭ ئەجدادلىرى شالغۇنلاشتۇرۇلغاندىن كېيىن ھاسىل بولغان  $F_2$  1355 ئەۋلادىنىڭ بەلگىلىرى كۆرسىتىلگەن، قايسى بەلگىلەر ئاشكارا بەلگە؟ قايسى بەلگىلەر يوشۇرۇن بەلگە؟ دىئاگراممىدىكى سانلىق مەلۇماتلارغا ئاساسەن تەھلىل قىلىپ، جاۋابىڭىزنى چۈشەندۈرۈڭ.

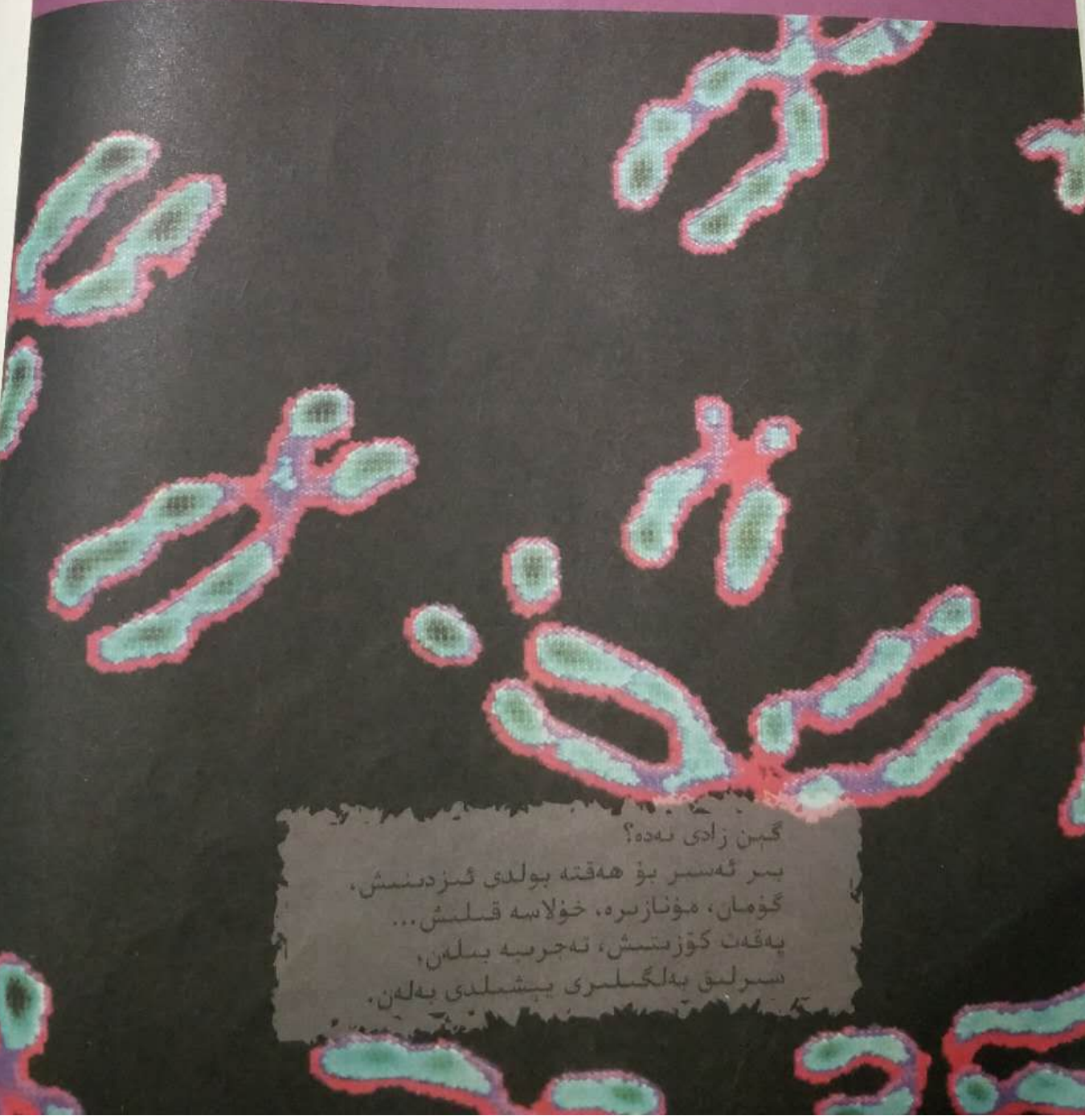


### IV تەپەككۈرنى كېڭەيتىش

1. ئەتراپىڭىزدىكى بىرەر خىل جانلىقتىكى ئىرسىيەت ھادىسىلىرىنى مىسال قىلىپ، بۇ ھادىسە مېندېلنىڭ ئىرسىيەت قانۇنىيىتىگە ئۇيغۇن كېلمەدۇ - يوق؟ تەھلىل قىلىپ چۈشەندۈرۈڭ.
2. ئىككى جۈپ نىسبىي بەلگىنىڭ ئىرسىيىتى ئۈستىدىكى تەھلىلگە ئاساسەن،  $n \sim 3$  جۈپ نىسبىي بەلگىلەرنىڭ ئىرسىيىتى ئۈستىدىكى نەتىجىلەرنى مۇھاكىمە ۋە تەھلىل قىلىش ھەمدە ماتېماتىكىلىق فورمۇلا ئارقىلىق ئىپادىلەڭ.

## 2 - باب. گېن بىلەن خروموسومنىڭ مۇناسىۋىتى

مېندېلىنىڭ ئىرىسىيەت قانۇنىيەتلىرى كىشىلەر تەرىپىدىن قايتا بايقالغاندىن كېيىن، مۇنداق بىر مەسىلە باشتىن - ئاخىر ھەل بولماي كەلگەنىدى، يەنى: زادى ھۈجەيرىلەردىكى گېنلارنىڭ ماددىي ئاساسى بارمۇ - يوق؟ مېندېل پەرەز قىلغان دانچىسىمان فاكتور ماددىنىڭ ئۆزىمۇ - ئەمەسمۇ؟ ئەگەر شۇ بولسا ئۇ ھۈجەيرىنىڭ تەرىپىدە تۇرىدۇ؟ ھۈجەيرە بۆلۈنۈشىنى چوڭقۇرلاپ كۆزىتىشلا، كىشىلەرنى گېن بىلەن خروموسومنىڭ مۇناسىۋىتى ھەققىدە مەلۇم ئىلمىي يەكۈنگە ئىگە قىلدى. مورگاننىڭ مېۋە چىۋىسىنى شالغۇتلاشتۇرۇش ھەققىدىكى مەشھۇر تەجرىبىسى بۇ مەسىلىنى ئىشەنچلىك جاۋابقا ئىگە قىلدى.



گېن زادى نەدە؟  
بىر ئەسىر بۇ ھەقتە بولدى ئىزدىنىش،  
گۇمان، مۇنازىرە، خۇلاسىە قىلىش...  
پەقەت كۆزىتىش، تەجرىبە بىلەن،  
سىزلىق بەلگىلىرى بېشىلدى بىلەن.

مەسىلە  
سو  
مېۋە چىۋىسى  
رەسى  
1  
مىنىڭ  
ياكى  
I  
مېندېل  
ئېلان قىلغان  
قىلغان  
مېندېل  
(1914)  
خۇم  
جەريا  
داۋام  
دۇ؛  
قوش  
تەس  
غان  
لۇپ  
جان  
كې  
سو  
نۇ  
(ئ)

# § 1 . سان كېمەيتىپ بۆلۈنۈش ۋە ئۇرۇقلىنىش رولى

بىلىم بەلگىسى: بىلىم بەلگىسى 2 دىن ئاشۇرۇشقا تەييار



## مەسىلىلەر ئۈستىدە مۇھاكىمە

سول تەرەپتىكى رەسىمدە قارا قورساق ئەر كەك ۋە چىشى مېۋە چۈيىنى (*Drosophila melanogaster*) نىڭ تەن ھۈجەيرىسى بىلەن گامېتسىدىكى خروموسوملار كۆرسىتىلگەن.

- مۇھاكىمە
- 1. گامېتا خروموسومى بىلەن تەن ھۈجەيرىسى خروموسومىنىڭ قانداق پەرقى بار؟ تەن ھۈجەيرىسىدە بىر خالەتتە مەۋجۇت مۇشۇ رەسىمگە ئاساسەن سىز يەنە قانداق مەسىلىلەرنى ياكى پەرەزلەرنى ئوتتۇرىغا قويالايسىز؟

تەن ھۈجەيرىسىدىكى خروموسوملار

## I سان كېمەيتىپ بۆلۈنۈش

بۇ مەزمۇننىڭ مۇھىم نۇقتىسى

- سان كېمەيتىپ بۆلۈنۈشنىڭ مەنىسى نېمە؟
- گامېتلارنىڭ ھاسىل بولۇشى نېمە ئۇ - چۈن سان كېمەيتىپ بۆلۈنۈش جەريانىنى بېسىپ ئۆتىدۇ؟
- سان كېمەيتىپ بۆلۈنۈش قانداق ئېلىپ بېرىلىدۇ؟

مېندېل كىشىلەرگە ئىرسىيەت قانۇنىيەتلىرىنى ئېلان قىلغان ۋاقىتتا، ھۈجەيرە ئىلمى ھەققىدىكى تەتقىقاتلاردا خۇشاللىقلار ئىلگىرىلەشكە بولدى. مېندېل بىلەن دەۋرداش بىئولوگىيە ئالىمى ۋېسمان (*A. Weismann, 1834 ~ 1914*) نەزەرىيە جەھەتتىن: تۇخۇم ھۈجەيرىسى بىلەن ئىسپېرما پىششىق يېتىلىش جەريانىدا، بىر ئالاھىدە جەرياننى بېسىپ ئۆتۈش داۋامىدا خروموسوم سانىنىڭ يېرىمى ئازىيىپ كېتىدۇ؛ ئۇرۇقلانغاندا، ئىسپېرما بىلەن تۇخۇم ھۈجەيرىسى قوشۇلۇپ نورمال خروموسوم سانىنى ئەسلىگە كەلتۈرىدۇ، دەپ ئالدىن پەرەز قىلغان. بۇ تالانت ئىگىسىنىڭ تەسەۋۋۇرى 19 - ئەسىرنىڭ 80 - يىللىرى باشقا ئالىملارنىڭ مىكروسكوپتا كۆزىتىشى بىلەن ئىسپاتلانغان. ۋېسمان ئالدىن ئېيتقان بۇ ئالاھىدە جەريان، ئەمەلىيەتتە ئالاھىدە شەكىلدىكى يىپىلىق بۆلۈنۈش بولۇپ، سان كېمەيتىپ بۆلۈنۈش دەپ ئاتالغان. سان كېمەيتىپ بۆلۈنۈش (*meiosis*) جىنسلىق كۆپىيىدىغان جانلىقلارنىڭ يېتىلگەن كۆپىيىش ھۈجەيرىسى ھاسىل قىلىش ۋاقتىدا، خروموسوم سانىنىڭ يېرىمى كېمەيتىپ ئېلىپ بارىدىغان ھۈجەيرە بۆلۈنۈشىدىن ئىبارەت. سان كېمەيتىپ بۆلۈنۈش جەريانىدا خروموسوملار پەقەت بىر قېتىم نۇسخىلىنىدۇ، ئەمما ھۈجەيرە ئىككى قېتىم بۆلۈنىدۇ. سان كېمەيتىپ بۆلۈنۈشنىڭ نەتىجىسىدە پىششىق يېتىلگەن كۆپىيىش ھۈجەيرىسىدىكى خروموسوملارنىڭ سانى دەسلەپكى (ئىپتىدائىي) كۆپىيىش ھۈجەيرىسىدىكىگە قارىغاندا يېرىمى كەم بولىدۇ.

تۆۋەندە سۈت ئەمگۈچى ھايۋانلارنىڭ ئىسپىرىمىسى بىلەن تۇخۇم ھۈجەيرىسىنىڭ ھاسىل بولۇش جەريانىغا بىرلەشتۈرۈپ، سان كېمەيتىپ بۆلۈنۈشنىڭ پۈتكۈل جەريانى تونۇشتۇرۇلىدۇ.

### ئىسپىرىمىنىڭ ھاسىل بولۇش جەريانى

يۇقىرى دەرىجىلىك ھايۋان ۋە ئۆسۈملۈكلەردىكى سان كېمەيتىپ بۆلۈنۈش جىنسلىق كۆپىيىش ئەزالىرىدا كۆرۈلىدۇ.

ئادەم ۋە باشقا سۈت ئەمگۈچى ھايۋانلارنىڭ ئىسپىرىمىسى ئۆرۈقداندا ھاسىل بولىدۇ. ئۆرۈقداندا نۇرغۇن ئەگرى - بۈگرى ئىنچىكە ئىسپىرما نەيچىسى (1.2 - رەسىم) بولىدۇ. ئەگرى - بۈگرى ئىنچىگە ئىسپىرما نەيچىسىدە نۇرغۇن ئىسپىرما ئىپىرىمىسى تىندائىي ھۈجەيرىسى بولىدۇ. ئىسپىرما ئىپىرىمىسى ھۈجەيرىسى دەسلەپكى ئاتلىق كۆپىيىش ھۈجەيرىسى بولۇپ، ھەربىر ئىسپىرما ئىپىرىمىسى ھۈجەيرىسىدىكى خروموسوملارنىڭ سانى تەن ھۈجەيرىسىدىكى بىلەن ئوخشاش بولىدۇ. ئەگرى ھايۋانلار جىنسىي جەھەتتىن يېتىلگەندە ئۆرۈقدىن بىر قىسىم ئىسپىرما ئىپىرىمىسى ھۈجەيرىلىرى سان كېمەيتىپ بۆلۈنۈشكە باشلايدۇ. ئۇدا ئىككى قېتىملىق ھۈجەيرە بۆلۈنۈش - بىرىنچى قېتىملىق سان كېمەيتىپ بۆلۈنۈش بىلەن ئىككىنچى قېتىملىق سان كېمەيتىپ بۆلۈنۈش، شۇنداقلا ئىسپىرما ھۈجەيرىلىرىنىڭ شەكىل ئۆزگەرتىشى ئارقىلىق يېتىلگەن ئاتلىق كۆپىيىش ھۈجەيرىسى - ئىسپىرما ھاسىل بولىدۇ (2.2 - رەسىم).

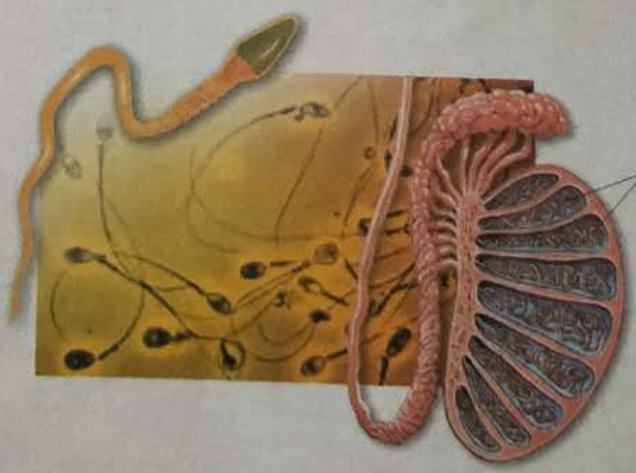
بىرىنچى قېتىملىق سان كېمەيتىپ بۆلۈنۈش ئالدىدىكى ئارىلىق دەۋردە ئىسپىرما ئىپىرىمىسى ھۈجەيرىسىنىڭ ھەجىمى چوڭىيىپ، خروموسوملار نۇسخىلىنىپ، بىرلەمچى ئىسپىرما ئانا ھۈجەيرىسىگە ئايلىنىدۇ. نۆسە خىلانغاندىن كېيىنكى ھەربىر تال خروموسوم ئىككى تال ئاچا - سىڭىل خروماتىدىن تۈزۈلىدۇ. بۇ ئىككى تال ئاچا - سىڭىل خروماتىدىن تۈزۈلۈش بىر يىپلىنىش نۇقتىسىدا تۇتىشىپ تۇرىدۇ.

بىرىنچى قېتىملىق سان كېمەيتىپ بۆلۈنۈش دەۋرى باشلىنىپ ئۇزاق ئۆتمەي، بىرلەمچى ئىسپىرما ئانا ھۈجەيرىسىدىكى ئەسلىدە تارقاق ھالەتتىكى خروموسوملار ئىككى - ئىككىدىن جۈپ تۈزۈشكە باشلايدۇ. بۇ جۈپ تۈزۈلگەن ئىككى تال خروموسومنىڭ شەكلى ۋە چوڭ - كىچىكلىكى ئوخشاش بولۇپ، بىر تىپلى ئانا

### ئالاقىدار ئۇچۇرلار

1883 - يىلى ئالىملار تەن ھۈجەيرىسىدە ئىككى جۈپ خروموسوم بولغان ئات ئاسكارىداسى (سازاڭسىدە) جان مەدە قۇرتنى ماتېرىيال قىلىپ تەتقىقات ئېلىپ بېرىپ، ئۇنىڭ ئىسپىرىمىسى بىلەن تۇخۇم ھۈجەيرىسىدىكى خروموسوم سانىنىڭ پەقەت تەن ھۈجەيرىسىنىڭ يېرىمىغا توغرا كېلىدىغانلىقىنى، ئەمما ئۇرۇقلانغان تۇخۇمدا بولسا يەنىلا ئىككى جۈپ خروموسومنىڭ ئەسلىگە كېلىپ قالدىغانلىقىنى بايقىغان.

1890 - يىلى ئالىملار ئىسپىرما بىلەن تۇخۇم ھۈجەيرىسىنىڭ ھاسىل بولۇشى سان كېمەيتىپ بۆلۈنۈشتىن ئۆتىدىغانلىقىنى مۇئەييەنلەشتۈرگەن. 1891 - يىلى ئالىملار ئىسپىرما بىلەن تۇخۇم ھۈجەيرىسىنىڭ ھاسىل بولۇشىدىكى سان كېمەيتىپ بۆلۈنۈشنىڭ پۈتۈن جەريانىنى شەرھىلەپ بەرگەن.



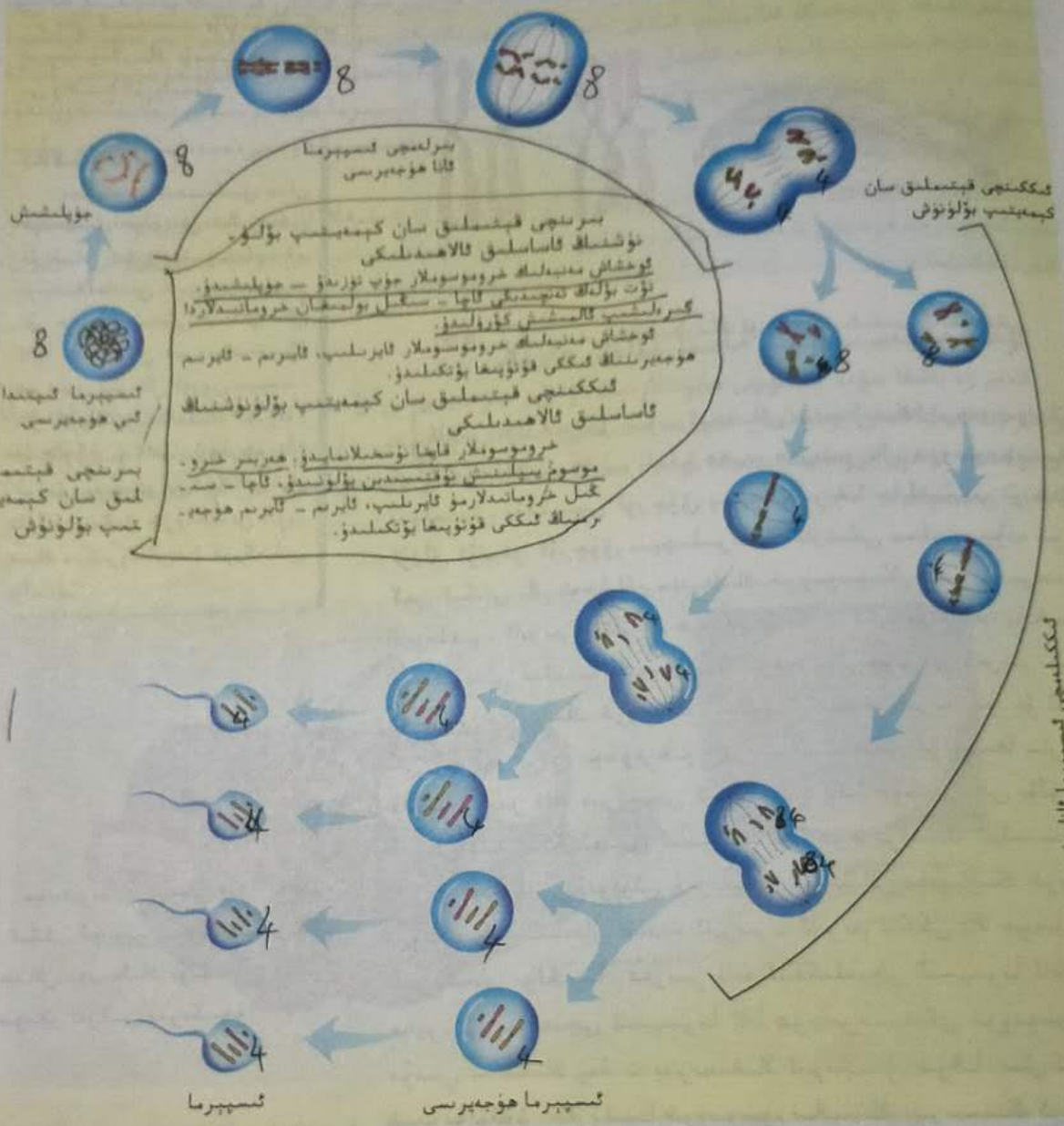
1.2 - رەسىم. ئادەمنىڭ ئۆرۈقدىن ۋە ئىسپىرىمىسى

ئەگرى - بۈگرى ئىنچىكە ئىسپىرما نەيچىسى

ئىككىنچى قېتىم كېمەيتىپ بۆلۈنۈش

ئىككىنچى قېتىم كېمەيتىپ بۆلۈنۈش


تەن ھۈجەيرىسى



2.2 - رەسىم. سۈت ئەمگۈچى ھايۋانلار ئىسپېرمىسىنىڭ ھاسىل بولۇش جەريانى

تەرەپتىن، يەنە بىر تېلى ئانا تەرەپتىن كېلىدىغان بولغاچقا، ئوخشاش مەنبەلىك خروموسوم دېيىلىدۇ، بۇ ئوخشاش مەنبەلىك خروموسوملارنىڭ ئىككى - ئىككىدىن جۈپ تۈزۈش ھادىسىسى جۈپلىشىش دېيىلىدۇ. ھەر بىر تال خروموسومدا ئىككى تال ئاچا - سىڭىل خروماتىد بولىدۇ، جۈپلەشكەندىن كېيىنكى ھەر بىر جۈپ ئوخشاش مەنبەلىك خروموسومدا تۆت تال خروماتىد بولىدىغان بولغاچقا، تۆت بۆلەك تەنچە دەپ ئاتىلىدۇ. تۆت بۆلەك تەنچىدىكى ئاچا - سىڭىل بولمىغان خروماتىدلار ئارىسىدا دائىم ئۆز ئارا يۆگىشىش ھەم - دە مەلۇم بۆلۈكىدە ئالمىشىش كۆرۈلىدۇ (3.2 - رەسىم).

سان كېمەيتىپ بۆلۈنۈشتىكى خروموسوملارنىڭ نۇسخىلىنىشى قايىسى ۋاقىتتا كۆرۈلىدۇ؟



3.2 - رەسىم. خروموسوملارنىڭ ئۆزئارا گىرەلىشىپ ئالمىشىشى

ئالاقىدار ئۇچۇرلار

بىرىنچى قېتىملىق سان كېمەيتىپ بۆلۈنۈش ئالدىدىكى ئارىلىق دەۋردە، خروموسوملار نۇسخىلانغاندىن كېيىن، ھەر بىر تال خروموسومدىكى ئىككى تال ئاچا - سىڭىل خروماتىدىنىڭ ھەر بىرى بىر تال ئۇزۇن يىپىدە - مان خروماتىن ھالىتىدە كۆرۈنىدۇ. شۇڭا، بۇ ۋاقىتتا ھەر بىر تال خروموسومدىكى بۇ ئىككى تال ئاچا - سىڭىل خروماتىدىنى ئويىتىشكە مىكروسكوپتا كۆرگىلى بولمايدۇ.

ھۆججەرنىڭ ئىككى قۇتۇپىدىكى بۇ ئىككى گۇرۇپپا خروموسوملاردىكى ئوخشاش مەنبەلىك بولمىغان خروموسوملار ئىككىنچى بىرىكەمدۇ؟

بىرىنچى قېتىملىق سان كېمەيتىپ بۆلۈنۈش داۋامىدا خروموسوملاردا قانداق ئالاھىدە ھەرىكەتلەر كۆرۈلىدۇ؟ بۇنىڭ جانلىقلارنىڭ ئىرىسىيىتىگە نىسبەتەن قانداق مۇھىم ئەھمىيىتى بار؟

تارتىشى بىلەن ھۆججەرنىڭ لىق سان كېمەيتىپ بىرلەمچى ئىسپىپ دۇ. ئىسپىپ ھەرىكەتلىدۇ.

تۇخۇم ئادەم بوشلۇقىغا بىرى بولىدۇ (4.2 - رەسىم)

ئاخىرىدا، ھەر بىر جۈپ ئوخشاش مەنبەلىك خروموسوملار ئېكۋاتور تاختىسىغا تىزىلىدۇ ھەمدە ھەر بىر تال خروموسومنىڭ يىپىلىنىش نۇقتىسى ئۈزچۈق يىپچىلىرىغا چاپلىشىپ تۇرىدۇ. ئۇزاق ئۆتمەي ئۈزچۈق يىپچىلىرىنىڭ تارتىشى بىلەن، جۈپ تۈزگەن ئىككى تال ئوخشاش مەنبەلىك خروموسوملار بىر - بىرىدىن ئايرىلىپ، ئايرىم - ئايرىم ھۆججەرنىڭ ئىككى قۇتۇپىغا يۆتكىلىدۇ. شۇنداق قىلىپ، ھۆججەرنىڭ ھەر بىر قۇتۇپى ھەر بىر جۈپ ئوخشاش مەنبەلىك خروموسومنىڭ بىر تېلىغا ئېرىشىدۇ. بۇ ئىككى گۇرۇپپا خروموسوم ھۆججەرنىڭ ئىككى قۇتۇپىغا بارغان ۋاقىتتا، بىر دانە بىرلەمچى ئىسپىپما ئانا ھۆججەرنىسى بۆلۈنۈپ ئىككى دانە ئىككىلەمچى ئىسپىپما ئانا ھۆججەرنىسىگە ئايرىلىدۇ. بۇ قېتىمقى بۆلۈنۈش جەريانىدا، ئوخشاش مەنبەلىك خروموسوملار ئايرىلىدىغان ھەمدە ئايرىم - ئايرىم ئىككى بالا ھۆججەرنىگە كىرىدىغان بولغاچقا، ھەر بىر دانە ئىككىلەمچى ئىسپىپما ئانا ھۆججەرنىسى بىرلەمچى ئىسپىپما ئانا ھۆججەرنىسىدىكى خروموسوم ئومۇمى سانىنىڭ پەقەت يېرىمىغا كېلىدۇ. شۇڭا، سان كېمەيتىپ بۆلۈنۈش جەريانىدا خروموسوم سانىنىڭ يېرىمىنىڭ كېمىيىپ كېتىشى بىرىنچى قېتىملىق سان كېمەيتىپ بۆلۈنۈشتە يۈز بېرىدۇ.

شايدى خۇم مەيە قىل لەم ئوخ ئانا

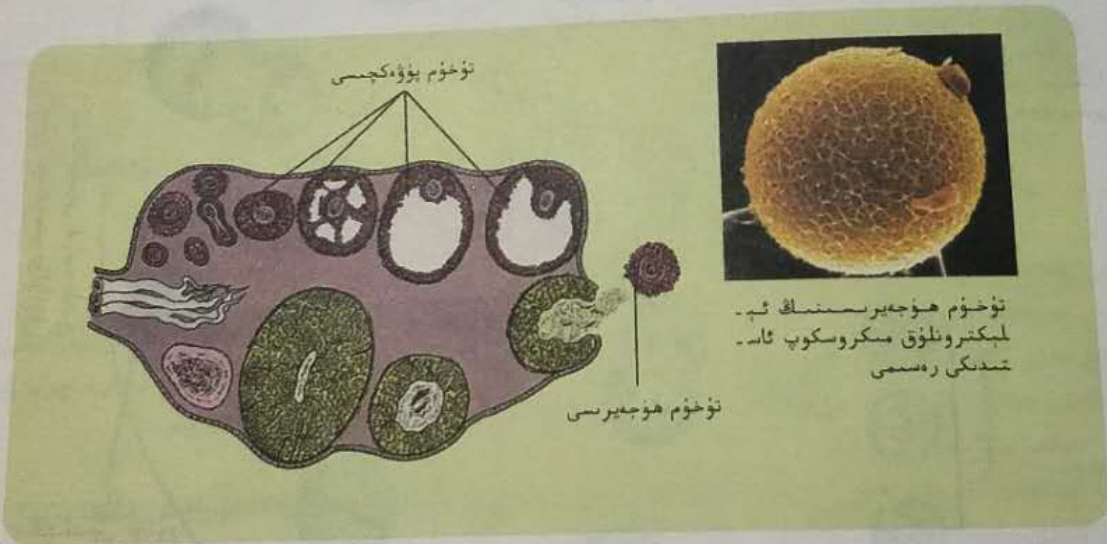
بىرىنچى قېتىملىق سان كېمەيتىپ بۆلۈنۈش بىلەن ئىككىنچى قېتىملىق سان كېمەيتىپ بۆلۈنۈشتە ئارىلىق دەۋر بولمايدۇ، بولغاندىمۇ ۋاقتى ناھايىتى قىسقا بولۇپ، خروموسوملار قايتا نۇسخىلانمايدۇ. ئىككىنچى قېتىملىق سان كېمەيتىپ بۆلۈنۈش جەريانىدا، ھەر بىر تال خروموسوم يىپىلىنىش نۇقتىسىدىن بۆلۈنىدۇ، ئىككى تال ئاچا - سىڭىل خروماتىدلارمۇ ئۇنىڭغا ئەگىشىپ ئايرىلىپ ئىككى تال خروموسومغا ئايرىلىدۇ. ئۈزچۈق يىپچىلىرىنىڭ

تارتىشى بىلەن، بۇ ئىككى تال خروموسوم ئايرىم - ئايرىم ھۆججەرنىڭ ئىككى قۇتۇپىغا يۆتكىلىدۇ ھەمدە  
 ھۆججەرنىڭ بۆلۈنۈشىگە ئەگىشىپ ئىككى دانە بالا ھۆججەرنىڭ كىرىدۇ. شۇنداق قىلىپ، بىرىنچى قېتىمدا -  
 كىنچى قېتىملىق سان كېمەيتىپ بۆلۈنۈشتە ھاسىل بولغان ئىككى دانە ئىككىلەمچى ئىسپېرما ئانا ھۆججەرىسى ئىككى -  
 بىرلەمچى ئىسپېرما ئانا ھۆججەرىسىگە سېلىشتۇرغاندا، ھەربىر ئىسپېرما ھۆججەرىسىنى شەكىللەندۈرىدۇ.  
 نىڭ يېرىمى ئازايغان بولىدۇ.

ئىسپېرما ھۆججەرىسى مۇرەككەپ شەكىل ئۆزگەرتىش ئارقىلىقلا ئاندىن ئىسپېرماغا ئايلىنىدۇ.  
 ئىسپېرما قۇمچاق شەكىلدە بولۇپ، باش قىسمىدا ھۆججەرى يادروسى بولىدۇ، قۇيرۇقى ئۇزۇن،  
 ھەرىكەتلىنەلەيدۇ.

### تۇخۇم ھۆججەرىسىنىڭ ھاسىل بولۇش جەريانى

ئادەم ۋە باشقا سۈت ئەمگۈچى ھايۋانلارنىڭ تۇخۇم ھۆججەرىسى تۇخۇمداندا ھاسىل بولىدۇ. قورساق  
 بوشلۇقىغا جايلاشقان تۇخۇمدان ئىچىدە يېتىلىش ئەھۋالى ئوخشاش بولمىغان نۇرغۇن تۇخۇم پۈۋەكچىلەر -  
 رى بولىدۇ، تۇخۇم پۈۋەكچىسىنىڭ ئوتتۇرىسىغا جايلاشقان بىر دانە ھۆججەرى دەل تۇخۇم ھۆججەرىسىدۇر  
 (4.2 - رەسىم).



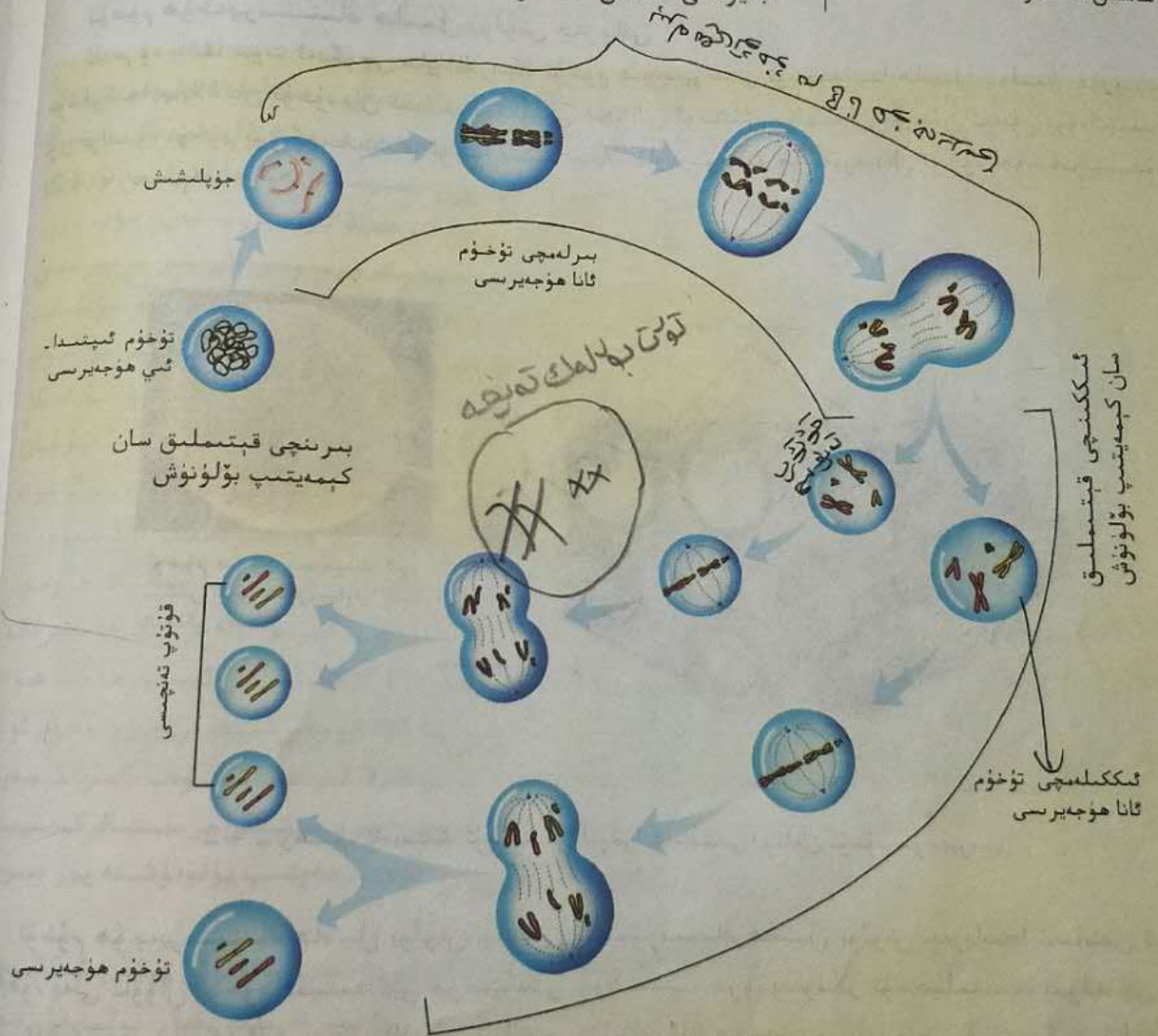
4.2 - رەسىم. ئادەمنىڭ تۇخۇمدېنى (توغرا كەسىمى) بىلەن تۇخۇم ھۆججەرىسى

تۇخۇم ھۆججەرىسىنىڭ ھاسىل بولۇش جەريانى ئىسپېرما ھاسىل بولۇش جەريانىغا ئاساسەن ئوخشاش.  
 شەيدۇ. يەنى ئاۋۋال تۇخۇم ئىپتىدائىي ھۆججەرىسى چوڭىيىپ، خروموسوملار نۇسخىلىنىپ، بىرلەمچى تۇخۇم  
 ئانا ھۆججەرىسىگە ئايلىنىدۇ. ئاندىن بىرلەمچى تۇخۇم ئانا ھۆججەرىسى بىرىنچى قېتىملىق سان كېمەيتىپ  
 بۆلۈنۈش ۋە ئىككىنچى قېتىملىق سان كېمەيتىپ بۆلۈنۈش ئارقىلىق تۇخۇم ھۆججەرىسىنى ھاسىل  
 قىلىدۇ. تۇخۇم ھۆججەرىسى بىلەن ئىسپېرما ھاسىل بولۇش جەريانىدىكى ئاساسلىق پەرق شۇكى: بىر -  
 لەمچى تۇخۇم ئانا ھۆججەرىسى بىرىنچى قېتىملىق سان كېمەيتىپ بۆلۈنۈش ئارقىلىق چوڭ - كىچىكلىكى  
 ئوخشاش بولمىغان ئىككى دانە ھۆججەرى ھاسىل قىلىدۇ، بۇنىڭ ئىچىدىكى چوڭراقى ئىككىلەمچى تۇخۇم  
 ئانا ھۆججەرىسى، كىچىكرەكى قۇتۇپ تەنچىسى دەپ ئاتىلىدۇ. ئىككىلەمچى تۇخۇم ئانا ھۆججەرىسى ئىككىنچى -



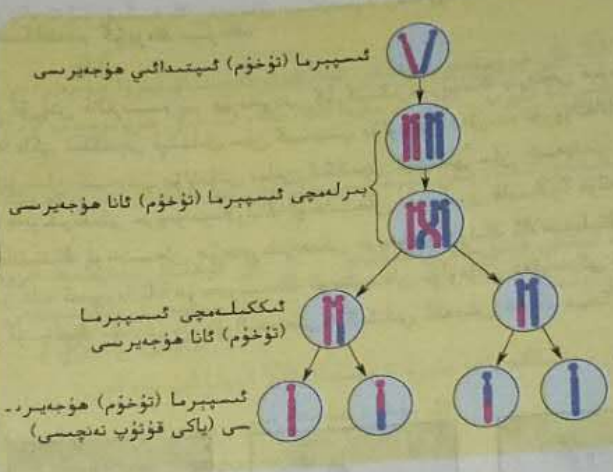
چى قېتىم سان كېمەيتىپ بۆلۈنۈش ئارقىلىق چوڭ بىر دانە تۇخۇم ھۈجەيرىسى بىلەن كىچىك بىر دانە قۇر-  
 تۇپ تەنچىسىنى ھاسىل قىلىدۇ. بىرىنچى قېتىملىق سان كېمەيتىپ بۆلۈنۈش جەريانىدا ھاسىل بولغان  
 قۇتۇپ تەنچىسىمۇ بۆلۈنۈپ ئىككى دانە قۇتۇپ تەنچىسىگە ئايلاندى. شۇنداق قىلىپ، بىر دانە بىرلىمچى  
 تۇخۇم ئانا ھۈجەيرىسى سان كېمەيتىپ بۆلۈنۈش ئارقىلىق، بىر دانە تۇخۇم ھۈجەيرىسى ۋە ئۈچ دانە قۇتۇپ  
 تەنچىسى ھاسىل قىلىدۇ (5.2 - رەسىم). تۇخۇم ھۈجەيرىسى بىلەن  
 قۇتۇپ تەنچىسىنىڭ ھەر ئىككىلىسىدە ساننىڭ يېرىمى كېمەيگەن  
 خروموسوملار بولىدۇ. ئۇزاق ئۆتمەي، ئۈچ دانە قۇتۇپ تەنچىسى رودر-  
 مېنتلىشىپ يوقىلىدۇ، نەتىجىدە بىر دانە تۇخۇم ئىپتىدائىي ھۈجەير-  
 ىسى سان كېمەيتىپ بۆلۈنۈش ئارقىلىق پەقەت بىر دانە تۇخۇم ھۈ-  
 جەيرىسى ھاسىل قىلىدۇ.

نېمە ئۈچۈن بىر دانە تۇخۇم  
 ئىپتىدائىي ھۈجەيرىسى سان  
 كېمەيتىپ بۆلۈنۈش ئارقىلىق  
 پەقەت بىر دانە تۇخۇم ھۈجەيرىسى  
 ھاسىل قىلىدۇ؟



5.2 - رەسىم. سۈت ئەمگۈچى ھايۋانلار تۇخۇم ھۈجەيرىسىنىڭ ھاسىل بولۇش جەريانى

ئومۇملاشتۇرۇپ ئېيتقاندا، سان كېمەيتىپ بۆلۈنۈش جەريانىنى 6.2 - رەسىمدىكىدەك يىغىنچاقلاشقا بولىدۇ:



6.2 - رەسىم. سان كېمەيتىپ بۆلۈنۈش



### چېكەتكە ئىسپېرما ئانا ھۈجەيرىسىنىڭ سان كېمەيتىپ بۆلۈنۈشىنىڭ تۇراقلاشتۇرۇلغان شىلما پىرىپاراتىنى كۆزىتىش

#### مەقسەت ۋە تەلەپ

چېكەتكە ئىسپېرما ئانا ھۈجەيرىسىنىڭ سان كېمەيتىپ بۆلۈنۈشىنىڭ تۇراقلاشتۇرۇلغان شىلما پىرىپاراتىنى كۆزىتىش ئارقىلىق، سان كېمەيتىپ بۆلۈنۈشنىڭ ئوخشىمىغان باسقۇچىدىكى خروموسوملارنىڭ شەكلى، ئورنى ۋە سانىنى پەرقلەندۈرۈپ، سان كېمەيتىپ بۆلۈنۈش جەريانىغا بولغان چۈشەنچىنى چوڭقۇرلاشتۇرۇش.

#### ماتېرىيال ۋە سايمانلار

چېكەتكە ئىسپېرما ئانا ھۈجەيرىسىنىڭ سان كېمەيتىپ بۆلۈنۈشىگە ئائىت تۇراقلاشتۇرۇلغان شىلما پىرىپاراتى، مىكروسكوپ.

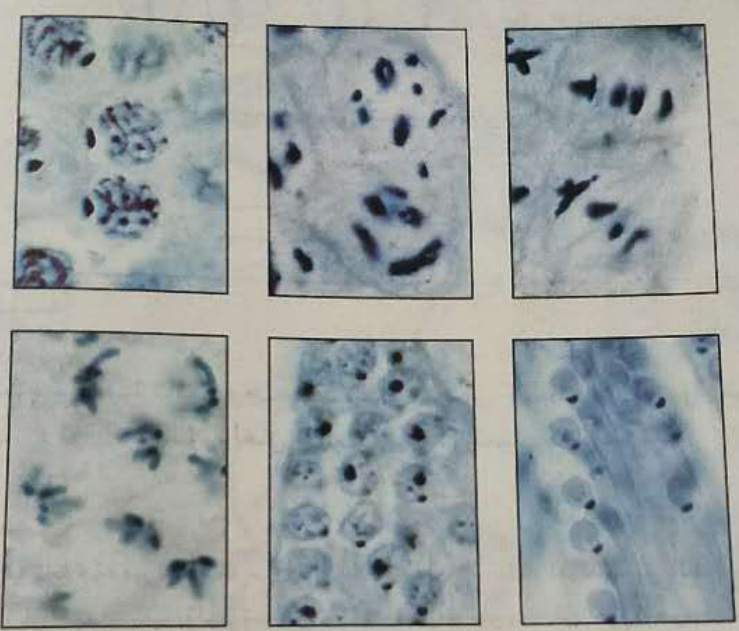
#### ئۇسۇل ۋە باسقۇچلار

1. تۆۋەن ھەسسەلىك مىكروسكوپتا چېكەتكە ئىسپېرما ئانا ھۈجەيرىسىنىڭ سان كېمەيتىپ بۆلۈنۈشىنىڭ تۇراقلاشتۇرۇلغان شىلما پىرىپاراتىنى كۆزىتىش. بىرلەمچى ئىسپېرما ئانا ھۈجەيرىسى، ئىككىلەمچى ئىسپېرما ئانا ھۈجەيرىسى ۋە ئىسپېرما ھۈجەيرىسىنى پەرقلەندۈرۈش.
2. ئاۋۋال تۆۋەن ھەسسەلىك نىشان ئەينىكىدە تەرتىپ بويىچە بىرىنچى قېتىملىق سان كېمەيتىپ بۆلۈنۈشنىڭ ئوتتۇرا ۋە كېيىنكى دەۋرىدە تۇرۇۋاتقان ھۈجەيرىلەر بىلەن ئىككىنچى قېتىملىق سان كېمەيتىپ بۆلۈنۈشنىڭ ئوتتۇرا ۋە كېيىنكى دەۋرىدە تۇرۇۋاتقان ھۈجەيرىلەرنى كۆزىتىپ، ئاندىن يۇقىرى ھەسسەلىك نىشان ئەينىكىدە خروموسوملارنىڭ شەكلى، ئورنى ۋە سانىنى تەپسىلىي كۆزىتىش. سىز يەنە سان كېمەيتىپ بۆلۈنۈشنىڭ باشقا دەۋرىدە تۇرۇۋاتقان ھۈجەيرىلەرنى تاپالامسىز؟
3. كۆزىتىش نەتىجىسىگە ئاساسەن، سان كېمەيتىپ بۆلۈنۈشنىڭ ئوخشىمىغان دەۋرىدە تۇرۇۋاتقان ھۈجەيرىدە...

لەرنىڭ رەسىمىنى ئىمكاقتەدەر كۆپرەك سىزىڭ.

**مۇھاكىمە**

1. مىكروسكوپنىڭ كۆرۈش دائىرىسىدە بىر ھۈجەيرىنى كۆرگىنىڭىزدە، ئۇنىڭ بىرىنچى قېتىملىق سان كېمەيتىپ بۆلۈنۈشى دەۋرىدە تۇرۇۋاتقانلىقىغا ياكى ئىككىنچى قېتىملىق سان كېمەيتىپ بۆلۈنۈش دەۋرىدە تۇرۇۋاتقانلىقىغا قانداق ھۆكۈم قىلىسىز؟
2. بىرىنچى قېتىملىق سان كېمەيتىپ بۆلۈنۈش بىلەن ئىككىنچى قېتىملىق سان كېمەيتىپ بۆلۈنۈشنى ئۆزئارا سېلىشتۇرغاندا، ئوتتۇرا دەۋر ھۈجەيرىلىرىدىكى خروموسوملارنىڭ ئوخشىمىغان تەرەپلىرى قايسىلار؟ تۈگەنچى دەۋرىدىكىچۇ؟
3. ئوخشاش بىر جانلىقنىڭ ئوخشىمىغان ھۈجەيرىلىرىدىكى خروموسوملارنىڭ ئالاھىدىلىكلىرىنى ئوخشاش بىر ۋاقىتتا سېلىشتۈرۈش ئارقىلىق، بىر دانە ئىسپېرما ئانا ھۈجەيرىسىنىڭ ئوخشىمىغان بۆلۈنۈش دەۋرىدىكى خروموسوملىرىنىڭ ئۆزگىرىشىگە ھۆكۈم قىلىڭ. بۇ خىل ئۇسۇلنىڭ پۈت تىرەپ تۇرالىشىدىكى لوگىكىلىق ئالدىنقى شەرت نېمە؟



چېكەتكە ئىسپېرما ئانا ھۈجەيرىسىنىڭ سان كېمەيتىپ بۆلۈنۈشىنىڭ مىكرو فوتو سۈرىتى

(3) ھەربىر دا  
 ھۈجەيرىسى ھاسىل  
 (4) ئادەتتىكى  
 ئانا ھۈجەيرىسى  
 بولىدۇ.  
 2. يېملىق،  
 ئۆزگىرىش:  
 A. خروموسوم،  
 C. ئۇرچۇق  
 3. سول تە  
 A. ئىسپېرما،  
 C. يىرىل  
 4. رەسىم  
 (1) سول  
 سىلىكلەرگە  
 ① بۇ،  
 ② ھۇ،  
 ③ ھۇ،  
 ئوخشاش  
 ④ ھ،  
 ⑤ ب،  
 خروموسوم  
 ⑥  
 (2)  
 جاۋاب

**مەشىق**

**I ئاساس سوئال**

1. تۆۋەندىكى بايانلارنىڭ توغرا - خاتالىقىغا ھۆكۈم قىلىڭ.

- (1) سان كېمەيتىپ بۆلۈنۈش جەريانىدا، بىرىنچى قېتىملىق سان كېمەيتىپ بۆلۈنۈشتە خروموسوم سانىنىڭ يېرىمى كەمەلەپ كېتىدۇ.
- (2) كۆممىقوناقنىڭ تەن ھۈجەيرىسىدە 10 جۈپ خروموسوم بولىدۇ، سان كېمەيتىپ بۆلۈنۈشتىن كېيىنكى تۇخۇم ھۈجەيرىسىدە بولسا بەش جۈپ خروموسوم بولىدۇ.

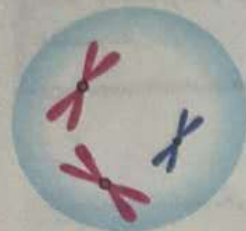
(3) ھەربىر دانە دەسلەپكى كۆپىيىش ھۆججەتسى سان كېمەيتىپ بۆلۈنۈش ئارقىلىق تۆت دانە يېتىلگەن كۆپىيىش ھۆججەتسى ھاسىل قىلىدۇ.

(4) ئادەمنىڭ ئىسپېرمىسىدا 23 تال خروموسوم بولىدۇ، ئۇنداقتا، ئادەمنىڭ نېرۋا ھۆججەتسى، بىرلەمچى ئىسپېرما ئانا ھۆججەتسى ۋە تۇخۇم ھۆججەتلىرىدە ئايرىم - ئايرىم ھالدا 46، 46، 23 تال خروموسوم، 0، 23 تال خروماتىد بولىدۇ.

2. يېملىق بۆلۈنۈش بىلەن مېلىشتۇرغاندا، سان كېمەيتىپ بۆلۈنۈش جەريانىدىكى خروموسوملاردا بولىدىغان روشەن ئۆزگىرىش:

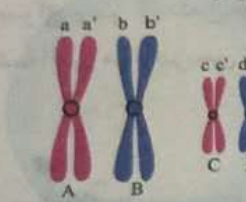
- A. خروموسوملار ھۆججەتلىك ئىككى قۇتۇپقا بۆتكىلىدۇ
- B. ئوخشاش مەنبەلىك خروموسوملار جۈپلىشىدۇ
- C. ئۆزچۈقىمان تەنچە ھاسىل بولىدۇ
- D. يېملىنىش نۇقتىسىدىن ئايرىلىدۇ

3. سول تەرەپتىكى رەسىمدە كۆرسىتىلگەن ھۆججەت ئېھتىمال (D) بولۇشى مۇمكىن.
- A. ئىسپېرما ھۆججەتسى
  - B. تۇخۇم ھۆججەتسى
  - C. بىرلەمچى ئىسپېرما ئانا ھۆججەتسى
  - D. ئىككىلەمچى ئىسپېرما ئانا ھۆججەتسى
4. رەسىمگە قاراپ جاۋاب بېرىڭ.

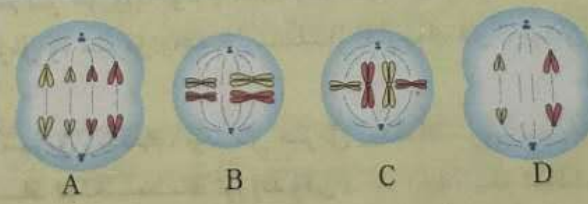


(1) سول تەرەپتىكى رەسىمدە بۆلۈنۈۋاتقان ھۆججەت كۆرسىتىلگەن، رەسىمگە ئاساسەن مەسىلىلەرگە جاۋاب بېرىڭ.

- ① بۇ ھۆججەت قايىسى خىل بۆلۈنۈش ئېلىپ بېرىۋاتىدۇ؟ نېمە ئۈچۈن؟ سان كېمەيتىپ بۆلۈنۈش.
- ② ھۆججەتتە قانچە تال خروموسوم بار؟ قانچە تال خروماتىد بار؟
- ③ ھۆججەتتە قانچە جۈپ ئوخشاش مەنبەلىك خروموسوم بار؟ قايىسى خروموسوملار ئوخشاش مەنبەلىك بولمىغان خروموسوملار؟
- ④ ھۆججەت قايىسى ئاچا - سىڭىل خروماتىدلىرىنى ئۆز ئىچىگە ئالىدۇ؟
- ⑤ بۇ ھۆججەت بۆلۈنۈشىنى تاماملاپ بولغاندىن كېيىن، يالا ھۆججەتتە قانچە تال خروموسوم بولىدۇ؟ اتال.



- ⑥ بۇ ھۆججەتتىكى بۆلۈنۈشتىن كېيىنكى دەۋرنىڭ رەسىمىنى سىزىپ چىقىڭ.
- (2) تۆۋەندە مەلۇم بىر ھايۋان ھۆججەت بۆلۈنۈشىنىڭ بىر گۇرۇپپا رەسىمى بېرىلگەن، رەسىمگە ئاساسەن مەسىلىلەرگە جاۋاب بېرىڭ.



- ① بۇ ھايۋاننىڭ تەن ھۆججەتسىدە 23 تال خروموسوم بار.
- ② رەسىمدىكى ھۆججەت سان كېمەيتىپ بۆلۈنۈشكە تەۋە. تەركىبىدە خروماتىد بولىدىغان ھۆججەت رەسىمىدىكى D ھۆججەت.

II كېڭەيتمە سوئال

سان كېمەيتىپ بۆلۈنۈش ئارقىلىق ھاسىل بولغان ئىسپېرما ياكى تۇخۇم ھۆججەتسىدىكى خروموسوملارنىڭ سانى چوقۇم تەن ھۆججەتسىدىكىكىنىڭ يېرىمىچىلىك بولامدۇ؟ بۇنىڭدىن باشقىچە ئەھۋال بولامدۇ - يوق؟ ئەگەر بولسا قانداق ئاقىۋەت كېلىپ چىقار؟ سىز بۇنىڭغا قارىتا ئەڭ ئاددىي دەپ قارىغان يولنى تاللاپ جاۋاب بېرىڭ.

## II ئۇرۇقلىنىش رولى

سان كېمەيتىپ بۆلۈنۈشتىن ھاسىل بولغان ئىسپىرما بىلەن تۇخۇم ھۈجەيرىسى قوشۇلۇپ ئۇرۇقلانغان تۇخۇم ھاسىل قىلغاندىلا ئاندىن يېڭى ئىندىۋىد بولۇپ يېتىلەلەيدۇ. گامېتلارنى يەنىمۇ ئىلگىرىلەپ چۈشىنىش ئۇرۇقلىنىش رولى (fertilization) نىڭ ماھىيىتىنى چۈشىنىشكە ياردەم بېرىدۇ.

بۇ مەزمۇنىڭ مۇھىم نۇقتىسى

- گامېتىدىكى خروموسوملارنىڭ بىرىكىشى نېمە ئۈچۈن كۆپ خىل بولىدۇ؟
- ئۇرۇقلىنىش دېگەن نېمە؟ ئۇرۇقلىنىش نىڭ جانلىقلارنىڭ ئىرسىيىتىدە قانداق مۇھىم ئەھمىيىتى بار؟

### گامېتىدىكى خروموسوملار بىرىكىشىنىڭ

#### كۆپ خىللىقى

ئاتىنىڭ تېنىدىكى بارلىق ئىسپىرما ئىپتىدائىي ھۈجەيرىلىرىدىكى خروموسوملارنىڭ تەشكىللىنىشىدە پەرق بولمايدۇ، ئانىنىڭ تېنىدىكى تۇخۇم ئىپتىدائىي ھۈجەيرىلىرىدىمۇ مۇشۇنىڭغا ئوخشاش بولىدۇ. بىراق «بىر ئاندىن تۇغۇلغان بالىلار بىر - بىرىگە ئوخشىمايدۇ»، ئوخشاش بىر ئىسپىرما (تۇخۇم) ئىپتىدائىي ھۈجەيرىسى ئوخشىمىغان گامېتا ھاسىل قىلامدۇ؟

### مودېل تۇرغۇزۇش

#### سان كېمەيتىپ بۆلۈنۈشتىكى خروموسوم ئۆزگىرىشىنىڭ مودېلىنى تۇرغۇزۇش

##### پائالىيەت تەييارلىقى

بۇ پائالىيەتنى ئىككى ئادەم بىر گۇرۇپپا بولۇپ ھەمكارلىشىپ تاماملايدۇ.

1. دەرىستىن ئىلگىرى قىزىل ۋە سېرىق رەڭدىكى ماستىكا (كاۋچوك لاي)، يوغان بىر پارچە ئاق قەغەز تەييارلاپ قويۇڭلار.

2. ماستىكىدىن تۆت تال سېرىق رەڭلىك، تۆت تال قىزىل رەڭلىك خروماتىد ياساڭلار، ئۇلارنىڭ ئىچىدىكى تۆت تال سېرىق رەڭلىك خروماتىدىن ئىككىسىنىڭ ئۇزۇنلۇقى 3 ~ 4cm، يەنە ئىككىسىنىڭ ئۇزۇنلۇقى 6 ~ 8cm بولسۇن؛ يەنە تۆت تال قىزىل رەڭلىك خروماتىدىن ئىككىسىنىڭ ئۇزۇنلۇقى 3 ~ 4cm، يەنە ئىككىسىنىڭ ئۇزۇنلۇقى 6 ~ 8cm بولسۇن.

3. رەڭگى ۋە ئۇزۇنلۇقى ئوخشاش ئىككى تال خروماتىدىن جۈپلەشتۈرۈپ تىزىڭلار. ئاندىن ئوخشاش رەڭدىكى بىر پارچە ماستىكىنى يىپلىنىش نۇقتىسىغا ۋەكىل قىلىپ، مۇشۇ ئارقىلىق ئىككى تال خروماتىدىن ئوتتۇرىسىنى چاپلاپ، سان كېمەيتىپ بۆلۈنۈش باشلانغان ۋاقىتتىكى نۇسخىلىنىشىنى تاماملاپ بولغان خروموسوملارغا ۋەكىل قىلىڭلار.

4. قەغەزگە بىر دانە بىرلەمچى ئىسپىرما ئانا ھۈجەيرىسىنىڭ ئومۇمىي كۆرۈنۈشىنى چوڭراق قىلىپ سىزىپ، ئۇنىڭغا ياسىغان تۆت تال خروموسومنى جايلاشتۇرۇپ، ئاندىن يەنە مەركىزىي تەنچە بىلەن ئۇرچۇقسىمان تەنچىنى سىزىڭلار.

I سان كېمەيتىپ بۆلۈنۈشتىكى خروموسوملارنىڭ سانى ۋە ئۇلارنىڭ ئاساسلىق ھەرىكەت ئۆز - ئىرىشلىرىگە تەقلىد قىلىش

**ئۆسۈل ۋە باسقۇچلار**


1. ياساپ قويغان خروموسوملارنى سىزغان ھۆججەرىگە قويۇپ، ئۈزۈنلۈقى ئوخشاش، رەڭگى ئوخشاش بولمىغان ئىككى تال خروموسومنى جۈپلەشتۈرۈپ، يىپىلىنىش نۇقتىسىنى يېقىنلاشتۇرۇڭلار. قە - زىل رەڭلىكى ئانا تەرەپتىن كەلگەن خروموسومغا، سېرىق رەڭلىكى ئاتا تەرەپتىن كەلگەن خروموسومغا ۋەكىللىك قىلسۇن.



2. بۇ ئىككى جۈپ خروموسومنى ئۇرچۇقسىمان تەنچىنىڭ ئوتتۇرىسىدىكى ئېكۋاتور تاختىسى بار ئورۇنغا توغرىسىغا تىزىپ، قىزىل رەڭلىك خروموسومنى ئېكۋاتور تاختىسىنىڭ بىر يېنىغا، سېرىق رەڭلىك خروموسومنى يەنە بىر يېنىغا قويۇڭلار.

3. ئىككى قولۇڭلار بىلەن خروموسومنىڭ يىپىلىنىش نۇقتىسىنى تۇتۇپ ۋە ھەرىكەت - لەندۈرۈپ، قىزىل ۋە سېرىق رەڭلىك خروموسوملارنى ئايرىپ، ئايرىم - ئايرىم ھۆججەرىدە - نىڭ ئىككى قۇتۇپىغا يۆتكەڭلار.

4. يەنە بىر قەغەزگە ئىككى دانە ئىككىلەمچى ئىسپېرما ئانا ھۆججەرىسىنىڭ ئومۇمىي كۆرۈنۈشىنى سىزىڭلار ھەمدە مەركىزىي تەنچە بىلەن ئۇرچۇقسىمان تەنچىنىمۇ سىزىپ قويۇڭلار. ھۆججەرىنىڭ ئىككى قۇتۇپىغا يۆتكەپ قويغان خروموسوملارنى ئايرىم - ئايرىم بۇ ئىككى دانە يېڭى ھۆججەرىگە قويۇڭلار.



5. بۇ يېڭى ھۆججەرىدىكى خروموسوملارنى ھۆججەرىنىڭ ئوتتۇرىسىدىكى ئېكۋاتور تاختىسىغا توغرىسىغا تىزىڭلار. ھەر بىر تال خروموسومدىكى كىچىك بىر پارچە ماستىكىنى خۇددى يىپىلىنىش نۇقتىسىدىن ئايرىلغانغا ئوخشاش تەڭ ئايرىڭلار، كىچىك بىر پارچە ماستىكا (يەنى يىپىلىنىش نۇقتىسى) بىلەن چاپلاپ قويۇلغان ئورۇندىن تۇتۇپ، خروموسوملارنى ئايرىم - ئايرىم ھۆججەرىنىڭ ئىككى قۇتۇپىغا تارتىڭلار. تارتقاندا خۇددى تىرىك ھۆججەرىدە يۈز بېرىۋاتقاندا - دەك، خروموسوملارنىڭ ھەممىسى بىر قېتىمىدىلا يۆتكەلسۇن. ئۇنىڭدىن كېيىن، ئىككى قۇتۇپىدا خروموسوم بولغان قىسمىنى ھۆججەرىنىڭ ئومۇمىي كۆرۈنۈشى قىلىپ سىزىپ، يېڭى ھۆججەرىنىڭ ھاسىل بولۇشىغا ۋەكىل قىلىڭلار.

**مۇھاكىمە**

1. ئۈزۈنلۈقى ئوخشاش، رەڭگى ئوخشاش بولمىغان ئىككى تال خروموسومنىڭ جۈپلىشىشى نېمىگە ۋەكىللىك قىلىدۇ؟
2. سان كېمەيتىپ بۆلۈنۈش باشلانغاندا، ھۆججەرىدە قانچە تال خروموسوم بولىدۇ؟ خروموسوم سانىنىڭ يېرىمى كەملەپ كېتىشى قايسى ۋاقىتتا يۈز بېرىدۇ؟ سان كېمەيتىپ بۆلۈنۈش تاماملانغاندا ھاسىل بولغان ھەر بىر دانە ھۆججەرىدە قانچە تالدىن خروموسوم بولىدۇ؟
3. سىلەر سان كېمەيتىپ بۆلۈنۈش جەريانىدىكى خروموسوملارنىڭ قايسى ھەرىكەتىگە تەقلىد قىلىدىڭلار؟
4. گۇرۇپپاڭلاردىكى مودېلدا قىزىل رەڭلىك خروموسوم بولغان گامېتىدىن قانچىسى بار؟ سېرىق رەڭلىك خروموسوم بولغان گامېتىدىن قانچىسى بار؟

II سان كېمەيتىپ بۆلۈنۈش جەريانىدىكى ئوخشاش مەنبەلىك بولمىغان خروموسوملارنىڭ ئىرىكىنى بىرىكىشىگە تەقلىد قىلىش

**ئۆسۈل ۋە باسقۇچلار**

1. I پائالىيەتتىكى ئۆسۈل ۋە باسقۇچلارنىڭ 1 - سىگە ئوخشايدۇ.
2. ئىككى جۈپ خروموسومنى ئېكۋاتور تاختىسى بار ئورۇنغا توغرىسىغا تىزىڭلار، دىققەت، بۇ قېتىم ئېكۋاتور تاختىسىنىڭ ھەر بىر تەرىپىگە ئىككى تالدىن ئوخشاش بولمىغان رەڭدىكى خروموسوملار قويۇلىدۇ.
3. I پائالىيەتتىكى 3 - ، 4 - ۋە 5 - باسقۇچلار بويىچە داۋاملاشتۇرۇپ، سان كېمەيتىپ بۆلۈنۈشنىڭ پۈتكۈل جەريانىنى تاماملاڭلار.

● مۇھاكىمە


1. بۇ قېتىم تەقلىد قىلىپ ھاسىل قىلىنغان گامبېتا بىلەن I پائالىيەتتە ھاسىل قىلىنغان گامبېتلارنىڭ قانداق ئوخشاشمىلىقلىرى بار؟
2. I پائالىيەتنىڭ نەتىجىسى بىلەن بىرلەشتۈرۈپ ئويلىغاندا، تەركىبىدە ئىككى جۈپ ئوخشاش مەنبەلىك خروموسوم بولغان بىرلەمچى ئىسپېرما ئانا ھۈجەيرىسى قانچە خىل گامبېتا ھاسىل قىلالايدۇ؟
3. ئەگەر ئۈچ جۈپ خروموسوم ئۈستىدە تەقلىد قىلىش ئېلىپ بارساق، قانچە خىل تىپتىكى گامبېتا ھاسىل بولىدۇ؟

ئىپادىلەش ۋە پىكىر ئالماشتۇرۇش

مودېل تۇرغۇزۇش جەريانى ۋە نەتىجىسى ئۈستىدە باشقا گۇرۇپپىدىكىلەر بىلەن پىكىر ئالماشتۇرۇپ، سۆزلەش ۋە رەسىم ئارقىلىق سان كېمەيتىپ بۆلۈنۈش جەريانىدىكى خروموسوملارنىڭ سانى ۋە ئۇلارنىڭ ئاساسلىق ھەرىكەت ئۆزگىرىشىنى چۈشەندۈرۈڭلار. ئەگەر شارائىت بار بەرسە سان كېمەيتىپ بۆلۈنۈشنىڭ ھەرىكەتچان مودېلىنى كومپيۇتېردا ئىشلەپ كۆرسىتىڭلار.



جانلىقلارنىڭ تەن ھۈجەيرىسىدىكى خروموسوملارنىڭ سانى ئادەتتە كۆپرەك بولىدۇ. مەسىلەن، ئادەمنىڭ تەن ھۈجەيرىسىدە 23 جۈپ خروموسوم بولىدۇ. ئۇنداقتا، ئادەم ئىسپېرما ياكى تۇخۇم ھۈجەيرىسى ھاسىل قىلغاندا، قانچە خىل تىپتىكى گامبېتا ھاسىل قىلىشى مۇمكىن؟ ئەگەر ئاچا - سىڭىل بولمىغان خروماتىد ئارىسىدىكى گىرەلىشىش (قاچىلىشىش) بىلەن ئالمىشىشنى قوشۇپ ئويلاشقاندا، سان كېمەيتىپ بۆلۈنۈش ئارقىلىق ھاسىل بولىدىغان گامبېتا تىپلىرىنىڭ تۈرلىرى تېخىمۇ كۆپ بولىدۇ. ئويلاپ بېقىڭ، بۇنىڭ جانلىقلار كۆپ خىللىقىنىڭ شەكىللىنىشىدە قانداق ئەھمىيىتى بار؟



7.2 - رەسىم. ئۇرۇقلىنىش جەريانىنىڭ باشلىنىشى

ئۇرۇقلىنىش رولى

ئۇرۇقلىنىش رولى تۇخۇم ھۈجەيرىسى بىلەن ئىسپېرمىنىڭ ئۆزئارا ئۇچرىشىش ۋە قوشۇلۇپ ئۇرۇقلانغان تۇخۇمغا ئايلىنىش جەريانىدۇر. ئۇرۇقلانغاندا، ئىسپېرمىنىڭ باش قىسمى تۇخۇم ھۈجەيرىسىگە كىرىپ (7.2 - رەسىم)، قۇيرۇق قىسمى سىرتتا قېپقالىدۇ. شۇنىڭ بىلەن بىللە، يەنە تۇخۇم ھۈجەيرىسىنىڭ ھۈجەيرە پەردىسىدە مۇرەككەپ فىزىئولوگىيىلىك ئىنكاس پەيدا بولۇپ، باشقا ئىسپېرمىلارنىڭ كىرىشىنى چەكلەيدۇ. ئىسپېرمىنىڭ باش قىسمى تۇخۇم ھۈجەيرىسىگە كىرىپ ئۇزاق ئۆتمەي، ئۇنىڭدىكى ھۈجەيرە يادروسى تۇخۇم ھۈجەيرىسىنىڭ ھۈجەيرە يادروسى بىلەن قوشۇلىدۇ. شۇنىڭ بىلەن ئۇلارنىڭ خروموسوملىرىمۇ بىرلىشىدۇ، شۇنداق قىلىپ، (ئۇرۇقلانغان تۇخۇمدىكى خروموسوم سانى ئەسلىگە كېلىپ، تەن ھۈجەيرىسىدىكى خروموسوم سانى بىلەن ئوخشاش بولىدۇ. دېمەك، ئۇنىڭدىكى خروموسومنىڭ يېرىمى ئىسپېرما (ئاتا تەرەپ) دىن، يېرىمى تۇخۇم ھۈجەيرىسى (ئانا تەرەپ) دىن كېلىدۇ.)

دى مارك بولغان

تسە رۇپ، تۇش ئا- لار، ساك

و- م- پ- سا- ه-

تۇخۇم ھۈجەيرىسى ئۇرۇقلىنالمىغاندا، خۇددى ئۇخلاپ قالا- غاندەك نەپەسلىنىشى ۋە ماددىلارنى سىنتېزلىشى ئاستىلاپ قا- لىدۇ. ئۇرۇقلىنىش جەريانى تۇخۇم ھۈجەيرىسىنى ئىنتايىن جانلاندۇرۇۋېتىدۇ. ئۇنىڭدىن كېيىن، ئۇرۇقلانغان تۇخۇم تېز- لىكتە ھۈجەيرە بۆلۈنۈشى ۋە دېففېرېنسىيەلىنىش ئېلىپ بارى- دۇ. شۇنىڭ بىلەن يېڭى ھاياتلىقتا ئىرسىيەت ماددىلىرى بىلەن مۇھىت ئۆزئارا تەسىرلىشىدىغان يېتىلىش جەريانى باشلىنىدۇ. ئەۋلادلار ئاتا - ئانا ئىككى تەرەپنىڭ ئىرسىيەت ماددىسىغا

تەسەۋۋۇر بوشلۇقى  
ئەۋلادلار ئاتا - ئانا تەرەپنىڭ 1/2 خروموسومغا ۋارىسلىق قىلىدۇ، بۇ ئەجدادلارنىڭ ئەۋلادلىرىغا قوشقان تۆھ- چىسىمۇ؟ تۇخۇم ھۈجەيرىسىدە مول سى- خوپلازما بولۇپ، ئۇنىڭدىكى قايسى تۈزۈ- لۈشتە DNA بولىدۇ؟ ئۇ جانلىقلارنىڭ ئىرسىيەتتىگە تەسىر كۆرسىتىدۇ؟

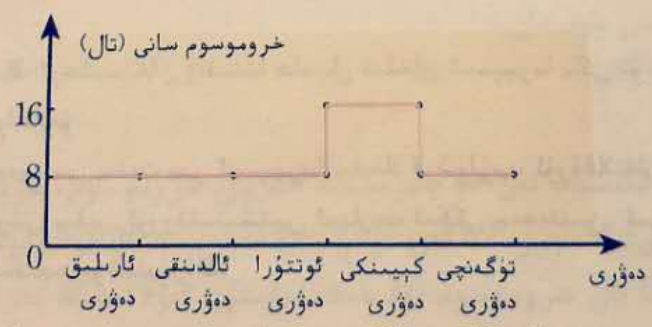
ۋارىسلىق قىلىدۇ. سان كېمەيتىپ بۆلۈنۈشتە ھاسىل بولغان گامېتىلارنىڭ خروموسوم گۇرۇپپىسى كۆپ خىللىققا ئىگە بولغانلىقتىن، ئوخشىمىغان گامېتىلاردىكى ئىرسىيەت ماددىلىرىدا پەرق پەيدا بولىدۇ؛ ئۇ- نىڭ ئۈستىگە ئۇرۇقلىنىشقا قاتناشقان تۇخۇم ھۈجەيرىسى بىلەن ئىسپېرمىنىڭ بىرىكىشى تاسادىپىي بو- لىدىغان بولغاچقا، ئوخشاش بىر ئەجدادتىن تۆرەلگەن كېيىنكى ئەۋلادلاردا مۇقەررەر ھالدا كۆپ خىللىق ئىپادىلىنىدۇ. بۇ خىل كۆپ خىللىق جانلىقلارنىڭ تەبىئىي تاللىنىش جەريانىدا تەدرىجىي تەرەققىي قىلىد- شىغا پايدىلىق بولۇپ، جىنسلىق كۆپىيىشنىڭ ئەۋزەللىكىنى نامايان قىلىدۇ. بۇلاردىن باشقا، جىنسلىق كۆپىيىدىغان جانلىقلارغا نىسبەتەن ئېيتقاندا، سان كېمەيتىپ بۆلۈنۈش بىلەن ئۇرۇقلىنىش رولى ھەر بىر خىل جانلىقنىڭ ئالدىنقى ۋە كېيىنكى ئەۋلادلىرىنىڭ تەن ھۈجەيرىسىدىكى خروموسوم سانىنىڭ تۇراق- لىقىنى ساقلاپ تۇرىدىغان بولغاچقا، جانلىقلارنىڭ ئىرسىيەتى ۋە ئۆزگىرىشىگە نىسبەتەنمۇ ئىنتايىن مۇھىم.



ماھارەت مەشىقى

دىئاگراممىنى تونۇش ۋە سىزىش

مەلۇم خىل جانلىقنىڭ ئىسپېرما ئىپتىدائىي ھۈجەيرىسىدە تۆت جۈپ ئوخشاش مەنبەلىك خروموسوم بار. 1. ئەگرى سىزىق دىئاگراممىسىدىن پايدىلىنىپ جەدۋەلنى تولدۇرۇڭ.



ئىسپېرما ئىپتىدائىي ھۈجەيرىسىنىڭ يېپىلق بۆلۈنۈش جەريانىدىكى خروموسوم سانىنىڭ ئۆزگىرىشى  
ئىسپېرما ئىپتىدائىي ھۈجەيرىسىنىڭ يېپىلق بۆلۈنۈش جەريانىدىكى خروموسوم سانىنىڭ ئۆزگىرىش جەدۋىلى

دەۋرى	ئارىلىق دەۋرى	ئالدىنقى دەۋرى	ئوتتۇرا دەۋرى	كېيىنكى دەۋرى	تۈگەنچى دەۋرى
خروموسوم سانى (تال)	8	8	8	16	8

~~2n = 8~~      2n = 8

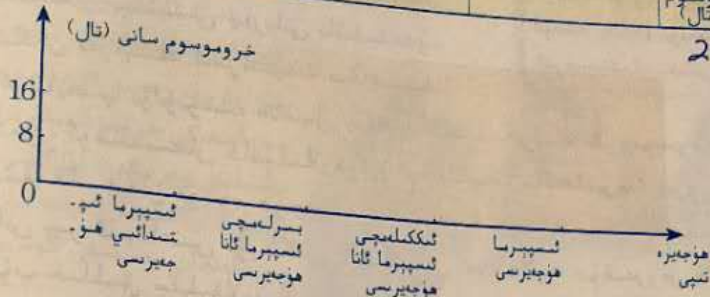


2. جەدۋالنى تولدۇرۇڭ ۋە ئەگرى سىزىق دىئاگراممىسىنى سىزىپ چىقىڭ.

ئىسپېرما ئىپتىدائىي ھۈجەيرىسىنىڭ ئىسپېرما ھاسىل قىلىش جەريانىدىكى خروموسوم سانىنىڭ ئۆزگىرىش جەدۋىلى

ھۈجەيرە تىپى	ئىسپېرما ئىپتىدائىي ھۈجەيرىسى	بىرلەمچى ئىسپېرما ئانا ھۈجەيرىسى	ئىككىلەمچى ئىسپېرما ئانا ھۈجەيرىسى	ئىسپېرما ھۈجەيرىسى
خروموسوم سانى (تال)				

$$2n=8$$



ئىسپېرما ئىپتىدائىي ھۈجەيرىسىنىڭ ئىسپېرما ھاسىل قىلىش جەريانىدىكى خروموسوم سانىنىڭ ئۆزگىرىشى

### مەشىق

#### I ئاساس سوئال

1. تۆۋەندىكى بايانلارنىڭ توغرا - خاتالىقىغا ھۆكۈم قىلىڭ.

(1) ئوخشاش بىر جانلىقنىڭ ئوخشىمىغان ۋاقتتا ھاسىل قىلغان ئىسپېرما ياكى تۇخۇم ھۈجەيرىسىدىكى خروموسوم سانى ئادەتتە ئوخشاش بولىدۇ. (✓)

(2) ئوخشاش بىر جانلىقنىڭ ئوخشىمىغان ۋاقتتا ھاسىل قىلغان ئىسپېرما ياكى تۇخۇم ھۈجەيرىسىدىكى خروموسوم گۈرۈپپىسى ئادەتتە ئوخشاش بولمايدۇ. (✓)

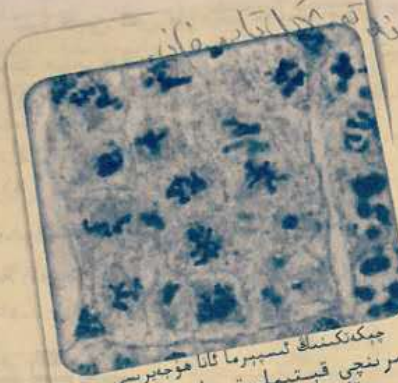
(3) ئادەتتە بىر تۇخۇم ھۈجەيرىسى پەقەت بىر ئىسپېرما بىلەنلا قوشۇلۇپ، ئۇرۇقلانغان تۇخۇمغا ئايلىنىدۇ. (✓)

2. گامېتىنىڭ ھاسىل بولۇشى بىلەن ئۇرۇقلىنىشتىن ئىبارەت ئىككى جەھەتتىن، ئىرسىيەتنىڭ كۆپ خىللىقى بىلەن تۇراقلىقلىقىنىڭ سەۋەبىنى قىسقىچە چۈشەندۈرۈڭ.

#### II كېڭەيتمە سوئال

نورمال ئادەملەردە 23 جۈپ خروموسوم بولىدۇ. «21 - ئۈچ تەنچە يىغىندى كېسەللىكى» دەپ ئاتىلىدىغان بىر خىل ئىرسىيەت كېسەللىكى بولۇپ، بۇنىڭدا بىمارنىڭ ئەقلى ئىقتىدارى تۆۋەن، تېنىنىڭ يېتىلىشى ئاستا بولىدۇ. بۇ بىمارنىڭ خروموسومىنى تەكشۈرگەندە، 21 - نومۇرلۇق بىر جۈپ خروموسومنىڭ نورمال بىر جۈپ بولماستىن ئۈچ تال ئىكەنلىكى بايقالغان. سىز ئىسپېرما ياكى تۇخۇم ھۈجەيرىسىنىڭ ھاسىل بولۇش نۇقتىسىدىن بۇ خىل كېسەللىكنىڭ كېسەل سەۋەبىنى خى پەرەز قىلالامسىز؟

## § 2. گېن خروموسومدا بولىدۇ



چىكىنىك ئىسپېرما ئانا ھۈجەيرىسى بىرىنچى قېتىملىق سان كېمەيتىپ بۆلۈنۈشنىڭ كېيىنكى دەۋرى

### مەسىلىلەر ئۈستىدە مۇھاكىمە

مېندېلنىڭ ئايرىلىش قانۇنىدىكى ئىرسىيەت فاكىتورلىرىنىڭ ئورنىغا ئوخشاش مەنبەلىك خروموسوملارنى ئالماشتۇرۇپ، ئايرىلىش قانۇنىنى يەنە بىر ئوقۇپ بېقىڭ، سىزنىڭچە بۇنداق ئالماشتۇرۇشتا مەسىلە بارمۇ؟ بۇنىڭدىن سىز نېمىنى ئويلىدىڭىز؟ ئادەمنىڭ تەن ھۈجەيرىسىدە پەقەت 23 جۈپ خروموسوم بار، ئۇنىڭدا نەچچە مىليون گېن بولىدۇ، گېن بىلەن خروموسوم ئوتتۇرىسىدا ئۆزئارا ماسلىق مۇناسىۋىتى بارمۇ - قانداق؟

گېن ئېلېمېنتى تەسىرىگە بولغان تىرىشكە بۆلىكى - يا تىرىشكەسى

1903 - يىلى ئامېرىكا گېنېتىكا ئالىمى سۇتتون (W. Sutton, 1877 ~ 1916) چېكەتكە ھۈجەيرىسىنى ما-تېرىيال قىلىپ، ئىسپېرما بىلەن تۇخۇم ھۈجەيرىسىدە نىڭ ھاسىل بولۇش جەريانىنى تەتقىق قىلغان. ئۇ، مېندېل پەرز قىلغان بىر جۈپ ئىرسىيەت فاكىتور - نىڭمۇ تەڭ ئورۇنلۇق گېن ئىكەنلىكىنى، ئۇلارنىڭ ئايرىلىشى سان كېمەيتىپ بۆلۈنۈش جەريانىدىكى ئوخشاش مەنبەلىك خروموسوملارنىڭ ئايرىلىشى بىلەن ئىنتايىن ئوخشىشىپ كېتىدىغانلىقىنى بايقىغان.

### بۇ پاراگرافنىڭ مۇھىم نۇقتىسى

- ئالىملار گېن بىلەن خروموسومنىڭ قايىسى پاراللېل يۈرۈش مۇناسىۋىتىنى بايقىغان؟
- گېننىڭ خروموسومدا ئىكەنلىكى قايىسى تەجرىبىدە ئىسپاتلانغان؟
- مېندېل ئىرسىيەت قانۇنىيىتىنىڭ ھا-زىرقى زاماندىكى چۈشەندۈرۈلۈشى قانداق؟

### سۇتتوننىڭ پەرزى

سۇتتون بىر خىل چېكەتكىنىڭ تەن ھۈجەيرىسىدە 24 تال خروموسوم، كۆپىيىش ھۈجەيرىسىدە پەقەت 12 تال خروموسوم بارلىقىنى؛ ئىسپېرما بىلەن تۇخۇم ھۈجەيرىسىنىڭ قوشۇلۇشىدىن ھاسىل بولغان ئۇ-رۇقلانغان تۇخۇمدا يەنىلا 24 تال خروموسوم بولىدىغانلىقىنى؛ ئەۋلادىنىڭ تەن ھۈجەيرىسىدىكى خروموسوم سانىنىڭ ئەجدادلىرىنىڭ تەن ھۈجەيرىسىدىكى خروموسوم سانى بىلەن ئوخشاش بولىدىغانلىقىنى؛ ئەۋلادىنىڭ تەن ھۈجەيرىسىدىكى بۇ 24 تال خروموسومنى مورفولوگىيىلىك تۈزۈلۈشى بويىچە ئايرىغاندا، ئىككى - ئىككىدىن جۈپ تۈزۈپ 12 جۈپ بولىدىغانلىقىنى؛ ھەر بىر جۈپ خروموسومنىڭ بىر تېلى ئاتا تە-رەپتىن، يەنە بىر تېلى ئانا تەرەپتىن كېلىدىغانلىقىنى بايقىغان.

بۇنىڭغا ئاساسەن سۇتتون مۇنداق يەكۈن چىقارغان: گېن خروموسومنىڭ ئېلىپ يۈرۈشى ئارقىلىقلا ئەجدادتىن ئەۋلادقا يەتكۈزۈلىدۇ. مۇنداقچە ئېيتقاندا، گېن خروموسومدا بولىدۇ، چۈنكى گېن بىلەن خرو-

موسومنىڭ ھەرىكىتىدە روشەن ھالدا پاراللېل يۈرۈش مۇناسىۋىتى بولىدۇ. (1) گېن ئالغۇنلاشقۇرۇش جەريانىدا مۇكەممەللىكىنى ۋە مۇستەقىللىقىنى ساقلايدۇ. خروموسوملار گامېتا ھاسىل قىلىش ۋە ئۇرۇقلىنىش جەريانىدىمۇ، نىسبىي مۇقىم بولغان مورفولوگىيىلىك تۈزۈلۈشكە ئىگە بولىدۇ.

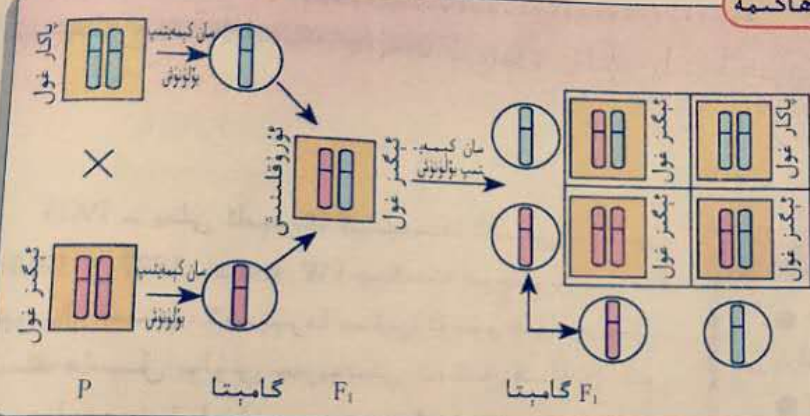
(2) گېن تەن ھۈجەيرىسىدە جۈپ ھالەتتە بولىدۇ، خروموسومۇ جۈپ ھالەتتە بولىدۇ. گامېتىدا بولسا پەقەت جۈپ ھالەتتىكى گېننىڭ بىر تېلى، جۈپ ھالەتتىكى خروموسومنىڭ بىر تېلى بولىدۇ.

(3) تەن ھۈجەيرىسىدىكى جۈپ ھالەتتىكى گېننىڭ بىرى ئانا تەرەپتىن، يەنە بىرى ئاتا تەرەپتىن كېلىدۇ. ئوخشاش مەنبەلىك خروموسوملارمۇ شۇنداق بولىدۇ.

(4) تەڭ ئورۇنلۇق بولمىغان گېنلار گامېتا ھاسىل قىلىش ۋاقتىدا ئەركىن بىرىكىدۇ، ئوخشاش مەنبەلىك بولمىغان خروموسوملارمۇ بىرىنچى قېتىملىق سان كېمەيتىپ بۆلۈنۈشنىڭ كېيىنكى دەۋرىدە ئوخشاشلا ئەركىن بىرىكىدۇ.



مۇلاھىزە ۋە مۇھاكىمە



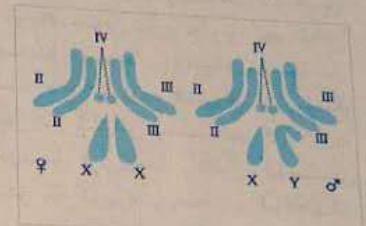
سىز يۇقىرىقى تەھلىلگە قوشۇلاد. سىز؟ ئەگەر سىزمۇ گېن خروموسومدا بولىدۇ دەپ قارىسىڭىز، رەسىمىدىكى خروموسوملارنىڭ ئۈستىگە گېن بەلگە- $F_2$  سىنى قويۇپ، مېنىڭ بىر جۈپ نىسبىي بېلىگە ئۈستىدە ئېلىپ بارغان شال-غۇنلاشتۇرۇش تەجرىبىسىنى چۈشەندۈرۈپ بېقىڭ (رەسىمدە كۆرسىتىلگەن خروموسوملار ئۈستىدىكى قارا توغرا سىزىق گېننىڭ ئورنىغا ۋەكىللىك قىلىدۇ).

سېلىشتۇرما خۇلاسە

بۇ ئىلمىي تەتقىقاتتا دائىم قوللىنىلىدىغان ئۇسۇللارنىڭ بىرى. 19 - ئەسىردە فىزىكا ئالىملىرى نۇرنىڭ خۇسۇسىيىتىنى تەتقىق قىلغاندا، نۇر بىلەن ئاۋازنى سېلىشتۇرغان. ئاۋازدا تۈز سىزىج بويىچە تارقىلىش، قايى-تىش ۋە سۇنۇش قاتارلىق ھادىسىلەر بولىدۇ، بۇنىڭ سەۋەبى ئۇ تەۋرىنىشچانلىققا ئىگە بولىدۇ. كېيىن يەنە نۇردىمۇ تۈز سىزىج بويىچە تارقىلىش، قايىتىش ۋە سۇنۇش قاتارلىق ھادىسىلەرنىڭ بارلىقى بايقىلىپ، نۇرمۇ تەۋرىنىشچانلىققا ئىگە بولۇشى مۇمكىن دەپ پەرەز قىلىنغان. يۇقىرىدا تونۇشتۇرۇلغىنى سۈتتوننىڭ خۇلاسسى بولۇپ، ئۇمۇ سېلىشتۇرما خۇلاسە ھېسابلىنىدۇ. ئۇ كۆرگىلى بولمايدىغان گېن بىلەن كۆرگىلى بولىدىغان خروموسومنىڭ ھەرىكىتى ئۈستىدە سېلىشتۇرۇش ئېلىپ بېرىپ، ئۇلارنىڭ كىشىنى ھەيران قالدۇرغۇدەك بىر دەلىلگە ئاساسەن، گېن خروموسومدا بولىدۇ، دېگەن پەرەزنى ئوتتۇرىغا قويغان. دىققەت قىلىشقا تېگىشلىكى شۇكى، سېلىشتۇرما خۇلاسەدە چىقىرىلغان يەكۈن ھەركىزمۇ لوگىكىلىق مۇقەررەرلىككە ئىگە ئەمەس، شۇڭا ئۇنىڭ توغرا - غاتالىقىنى كۆزىتىش ۋە تەجرىبە ئارقىلىق تەكشۈرۈش كېرەك.

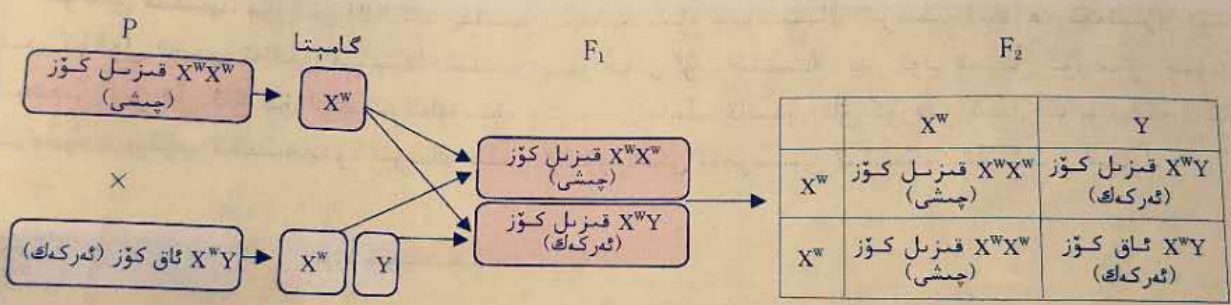
كونتروللۇقىغا ئۇچرايدىغانلىقىنى چۈشەندۈرىدۇ. ئوخشىمايدىغان يېرى شۇكى، ئاق كۆز بەلگىنىڭ ئىپادىسى بىلەننى ھامان جىنسى بىلەن مۇناسىۋەتلىك بولىدۇ. بۇ ھادىسىنى قانداق چۈشەندۈرۈش كېرەك؟

20 - ئەسىرنىڭ باشلىرى، بىر قىسىم ئالىملار بەزى ھال-شارائەتنىڭ ھۈجەيرىسىدىن جىنسىي خروموسومنى بايقىغان. مېۋە چىۋىنىڭ تەن ھۈجەيرىسىدە تۆت جۈپ خروموسوم بولۇپ، ئۇنىڭ ئۈچ جۈپى دائىمىي خروموسوم (autosome)، بىر جۈپى جىنسىي خروموسوم (sex chromosome) دىن ئىبارەت (9.2 - رەسىم). چىشى مېۋە چىۋىنىدىكى بىر جۈپ جىنسىي خروموسوم ئوخشاش تىپتا بولۇپ، XX بىلەن ئىپادىلىنىدۇ؛ ئەركەك مېۋە چىۋىنىدىكى بىر جۈپ جىنسىي خروموسوم ئوخشىمىغان تىپتا بولۇپ، XY بىلەن ئىپادىلىنىدۇ.



9.2 - رەسىم. چىشى ۋە ئەركەك مېۋە چىۋىنىنىڭ تەن ھۈجەيرىسىدىكى خروموسوملار

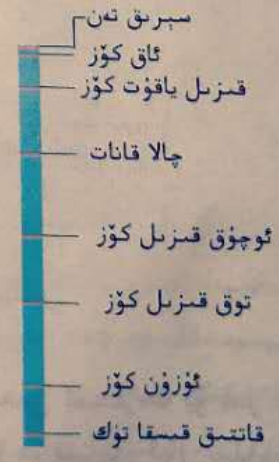
ئاق كۆزنىڭ ئىرسىيىتى جىنسىي پەرق بىلەن مۇناسىۋەتلىك بولىدىغانلىقى، ئۇنىڭ ئۈستىگە X خروموسومنىڭ ئىرسىيىتى بىلەن ئوخشىشىپ كېتىدىغانلىقى ئۈچۈن، مورگان ۋە ئۇنىڭ خىزمەتداشلىرى: ئەگەر ئاق كۆزنى كونترول قىلىدىغان گېن (w بىلەن ئىپادىلىنىدۇ) X خروموسومدا بولسا، ئۇنىڭ ئۈستىگە Y خروموسومدا ئۇنىڭ تەڭ ئورۇنلۇق گېنلىرى بولمىسا، يۇقىرىدىكى ئىرسىيەت ھادىسىلىرىدىن مۇۋاپىق چۈشەنچىگە ئېرىشكىلى بولىدۇ (10.2 - رەسىم)، دەپ پەرەز قىلىشقان.



10.2 - رەسىم. مېۋە چىۋىنىنى شالغۇتلاشتۇرۇش تەجرىبىسىنى تەھلىل قىلىش

10.2 - رەسىمدىن مورگان قاتارلىقلارنىڭ پەرىزى تەجرىبە بە ھادىسىلىرىنى مۇۋاپىق چۈشەندۈرۈپ بېرەلەيدىغانلىقىنى كۆرۈۋېلىشقا بولىدۇ. كېيىن ئۇلار يەنە سىناپ چېتىشتۈرۈش ئۇسۇلى ئارقىلىق، بۇ چۈشەنچىنى يەنىمۇ ئىلگىرىلەپ ئىسپاتلىغان. ئۇلارنىڭ خىزمىتى بىر دانە ئالاھىدە گېن بىلەن بىر تال ئالاھىدە خروموسوم - X خروموسومنى باغلاشتۇرغانغا، تەجرىبە ئارقىلىق گېننىڭ خروموسومدا ئىكەنلىكىنى ئىسپاتلىغان. شۇنىڭدىن ئېتىبارەن، مورگان مېندېل نەزەردىن كەتكۈزۈپ قالغان.

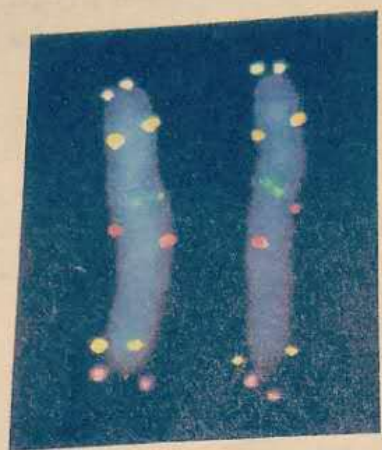
بىزگە مەلۇمكى، ھەر بىر خىل جانلىق گېننىڭ سانى شۇ



11.2 - رەسىم. مېۋە چىۋىنىنىڭ مەلۇم بىر خروموسومىدىكى بىرنەچچە گېن

سەزى ھا-  
 ان- مېۋە  
 ، ئۇنىڭ  
 سىنىسى  
 - چىشى  
 پىتا بو-  
 ر جۈپ  
 مپاد-  
 نلىك  
 سۇن،  
 X  
 نكى  
 ان

خىل جانلىقتىكى خروموسوم سانىدىن خېلىلا كۆپ بولىدۇ. مەسىلەن، مېۋە چىۋىنىنىڭ تەن ھۈجەيرىسىدە تۆت جۈپ خروموسوم بولىدۇ، ئەمما كىشىلەر تەتقىق قىلغان گېنلار نەچچە يۈزگە بارىدۇ؛ يەنە مەسىلەن، ئىنسانلارنىڭ تەن ھۈجەيرىسىدە 23 جۈپ خروموسوم بولىدۇ، ئەمما ئۇلار ئېلىپ يۈرىدىغان گېن تەخمىنەن نەچچە يۈز مىڭغا يېتىدۇ. روشەنكى، بىر تال خروموسومدا نۇرغۇن گېن بولىدۇ. مورگان ۋە ئۇنىڭ ئوقۇ-  
 لىقىنى ئېنىقلايدىغان بىر خىل ئۇسۇلنى كەشىپ قىلغان ھەمدە مېۋە چىۋىنىدىكى ھەر خىل گېنلارنىڭ خروموسومدىكى مۇناسىپ ئورنىنىڭ رەسىمىنى تۇنجى بولۇپ سىزىپ چىقىپ، گېنلارنىڭ خروموسومدا سىزىقلىق تىزىلىپ تۇرىدىغانلىقىنى چۈشەندۈرگەن (11.2 - رەسىم).  
 ھازىرقى زامان مولېكۇلا بىئولوگىيىسى تېخنىكىسى ئالاھىدە بەل-  
 گىلەنگەن مولېكۇلنى خروموسومدىكى مەلۇم بىر گېن بىلەن بىر-  
 لەشتۈرگەن، ئاندىن بۇ مولېكۇلنى يەنە يالتىراق نۇر بىلەن بەلگە  
 قويۇلغان ماددا ئارقىلىق پەرقلەندۈرۈپ، يالتىراق نۇر ئارقىلىق گېن-  
 نىڭ خروموسومدىكى ئورنىنى بىلگەن.



ھازىرقى زامان مولېكۇلا بىئولوگىيىسى تېخ-  
 نىكىسى ئارقىلىق كۆرسىتىلگەن گېنلارنىڭ  
 خروموسومدىكى ئورنى

**مېندېل ئىرسىيەت قانۇنىيىتىنىڭ ھازىرقى جۈ-  
 شەندۈرۈلۈشى**

ھۈجەيرە گېنېتىكىسىنىڭ تەتقىقات نەتىجىلىرى مېندېل  
 ئېيتقان بىر جۈپ ئىرسىيەت فاككتورى بىر جۈپ ئوخشاش  
 مەنبەلىك خروموسومغا جايلاشقان تەڭ ئورۇنلۇق گېندىن ئى-  
 بارەت ئىكەنلىكىنى، جۈپى ئوخشاش بولمىغان ئىرسىيەت  
 فاككتورلىرى بولسا ئوخشاش مەنبەلىك بولمىغان خروموسوم-  
 غا جايلاشقان تەڭ ئورۇنلۇق بولمىغان گېنلاردىن ئىبارەت  
 ئىكەنلىكىنى كۆرسىتىپ بەردى.

**گېنلارنىڭ ئايرىلىش قانۇنىنىڭ ماھىيىتى:** ئارىلاشما زىگوتا ھۈجەيرىسىدە، بىر جۈپ ئوخشاش مەنبە-  
 لىك خروموسومغا جايلاشقان تەڭ ئورۇنلۇق گېنلار مۇئەييەن مۇستەقىللىققا ئىگە بولىدۇ؛ سان كېمەيتىپ  
 بۆلۈنۈپ گامېتا ھاسىل قىلىش جەريانىدا، بۇ تەڭ ئورۇنلۇق گېنلار ئوخشاش مەنبەلىك خروموسوملارنىڭ  
 ئايرىلىشىغا ئەگىشىپ ئايرىلىپ ئايرىم - ئايرىم ئىككى دانە گامېتىغا كىرىپ، گامېتا ئارقىلىق مۇستە-  
 قىل ھالدا كېيىنكى ئەۋلادلارغا ئىرسىيەت بولۇپ قالىدۇ.

گېنلارنىڭ ئەركىن بىرىكىش قانۇنىنىڭ ماھىيىتى: ئوخشاش مەنبەلىك بولمىغان خروموسوملارغا  
 جايلاشقان تەڭ ئورۇنلۇق بولمىغان گېنلارنىڭ ئايرىلىشى ياكى بىرىكىشى بىر - بىرىگە دەخلى قىلمايدۇ؛  
 سان كېمەيتىپ بۆلۈنۈش جەريانىدا، ئوخشاش مەنبەلىك خروموسومغا جايلاشقان تەڭ ئورۇنلۇق گېنلار بىر -  
 بىرىدىن ئايرىلىش بىلەن بىللە، ئوخشاش مەنبەلىك بولمىغان خروموسومغا جايلاشقان تەڭ ئورۇنلۇق بول-  
 مىغان گېنلار ئەركىن بىرىكىدۇ.

M.

D. ئوخشاش كىشى تۈرلىرى

II كېسىش  
1. ناۋادا  
سەلگە گىرىپ  
ئىندىئىلىر  
رىسى ئىچى  
كەم بولسا  
2. ئادا

بولغان خىر  
18 - نومۇر  
كېسىلىش  
بىر تال

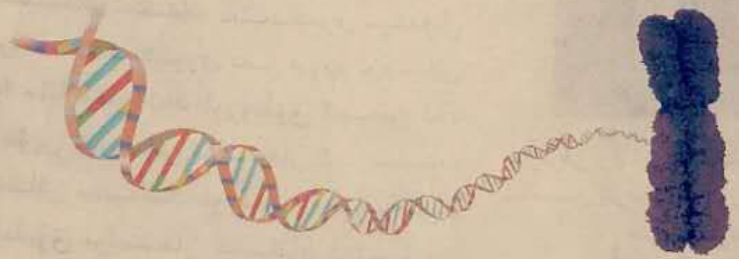
ماھارەت مەشىقى



سېلىشتۇرما خۇلاسى

ئالىملار گېن بىلەن خروموسومنىڭ ھەرىكىتىدە روشەن ھالدا پاراللىل يۈرۈش مۇناسىۋىتىنىڭ بولىدىغانلىقىنى كۆزىتىپ، سېلىشتۇرما خۇلاسى ئۇسۇلى ئارقىلىق گېننىڭ خروموسومغا جايلىشىدىغانلىقىغا ھۆكۈم قىلغان. كېيىن بۇ ھۆكۈم تەجرىبە ئارقىلىق ئىسپاتلانغان، تەجرىبىلەر يەنە گېنلارنىڭ خروموسومدا سىزىقلىق تىزىلىشىدىن خاتالىقىنى كۆرسىتىپ بەرگەن.

ئاساسلىق ئىرسىيەت ماددىسى بولغان DNA مۇ خروموسومغا جايلاشقان، بىر تال خروموسومدا بىر دانە DNA مولېكۇلىسى بولىدۇ. ھۈجەيرە بۆلۈنگەن ۋاقىتتا DNA مۇ نۇسخىلىنىپ، خروموسومنىڭ تەڭ تەقسىملىنىشى بىلەن ئىككى دانە بالا ھۈجەيرىگە بارىدۇ. DNA دېئوكسى رىبونۇكلېئوتىدلارنىڭ تۇتىشىشىدىن ھاسىل بولغان ئۇزۇن زەنجىردىن ئىبارەت. سىز سېلىشتۇرما خۇلاسى ئۇسۇلىنى قوللىنىپ، گېن بىلەن DNA ئۇزۇن زەنجىرىنىڭ مۇناسىۋىتىگە ھۆكۈم قىلىپ بېقىڭ. خۇلاسىڭىزنىڭ توغرا - خاتالىقىنى ئۈچىنچى ۋە تۆتىنچى بابلارنى ئۆگىنىپ بولغاندىن كېيىن ئاندىن بىلەلەيسىز.



ۋىروسنىڭ ياكى DNA ياكى RNA قانداقلىرىنىڭ خۇلاسىسى

مەشىق



I ئاساس سوئال گېن بىلەن DNA نىڭ پارھىسى DNA نىڭ خۇلاسىسىنىڭ قىسقىچەسى

- گېن بىلەن خروموسومنىڭ مۇناسىۋىتىگە ئائىت تۆۋەندىكى بايانلاردىن خاتاسى:
  - A. خروموسوم گېننىڭ ئاساسلىق توشۇغۇچىسى
  - B. گېن خروموسومدا سىزىقلىق تىزىلىپ تۇرىدۇ
  - C. بىر تال خروموسومدا نۇرغۇن گېن بولىدۇ
  - D. خروموسوم گېنلاردىن تەركىب تاپقان

جاۋابى: [ ]
2. گېن بىلەن خروموسومنىڭ سان كېمەيتىپ بۆلۈنۈش جەريانىدىكى ھەرىكىتىنىڭ ئۆزگىرىشىگە ئائىت تۆۋەندىكى بايانلاردىن خاتاسى:
  - A. ئوخشاش مەنبەلىك خروموسوملار ئايرىلىش بىلەن بىر ۋاقىتتا، تەڭ ئورۇنلۇق گېنلارمۇ ئۇنىڭغا ئەگىشىپ ئايرىلىدۇ
  - B. ئوخشاش مەنبەلىك بولمىغان خروموسوملار ئىككىنچى بىرىككەندە، بارلىق تەڭ ئورۇنلۇق بولمىغان گېنلار ئارىسىدا مۇ ئىككىنچى بىرىككەش كۆرۈلىدۇ
  - C. خروماتىدلار ئايرىلغاندا، نۇسخىلىنىشتىن كەلگەن ئىككى دانە گېنمۇ ئۇنىڭغا ئەگىشىپ ئايرىلىدۇ

D. ئوخشاش مەنبەلىك بولمىغان خروموسوملارنىڭ سانى قانچە كۆپ بولسا، ئەڭ ئورۇنلۇق بولمىغان گېنلارنىڭ بىرى - كىش تۈرلىرىمۇ شۇنچە كۆپ بولىدۇ

36  
دائىملىق ئۆزگىرىش  
تۈپەن ئۆزگىرىش  
تەجەبىي ئۆزگىرىش

### II كېڭەيتىمە سوئال

جاۋابى: 1

1. ناۋادا جانلىقلارنىڭ بىر تال ياكى بىر قانچە تال خروموسومى يوقىلىپ كەتسە ياكى قوشۇلۇپ قالسا، ئۇلار ئېغىر كېسەلگە گىرىپتار بولۇشى ھەتتا ئۆلۈپ كېتىشى مۇمكىن. بىراق تەبىئەت دۇنياسىدا بەزى ھايۋان ۋە ئۆسۈملۈكلەرنىڭ مەلۇم رىسى ئىچىدىكى ئىرەككە ھەرە قاتارلىقلار بۇ جانلىقلارنىڭ تەن ھۆججەتلىرىدىن بىخەتەر بېقىلىدۇ، مەسىلەن، ھەسەل ھە - كەم بولىمۇ، ئۇلار يەنىلا نورمال ياشىيالايدۇ. سىز بۇ ھادىسىنى قانداق چۈشەندۈرىسىز؟

2. ئادەمنىڭ تەن ھۆججەتلىرىدە 23 جۈپ خروموسوم بار، ئۇنىڭ ئىچىدىكى 1 - نومۇرلۇقتىن 22 - نومۇرلۇققىچە بولغان خروموسوملار دائىمىي خروموسوم، 23 - نومۇرلۇق خروموسوم بولسا جىنسى خروموسوم. ھازىر 13 - نومۇرلۇق، 18 - نومۇرلۇق ياكى 21 - نومۇرلۇق خروموسومدا بىر تال خروموسومى ئارتۇق بولغان بوۋاقلار بايقىلىپ، ئۇلاردا ئېغىر كېسەللىك ئىپادىلەنمەكتە. مۇكەممەل بولمىغان تەكشۈرۈشلەرگە ئاساسلانغاندا، ھازىر تېخى باشقا دائىمىي خروموسوملاردا بىر تال (ياكى بىر قانچە تال) خروموسومى ئارتۇق بولغان بوۋاقلار بايقالمىغان. بۇنىڭ سەۋەبىنى چۈشەندۈرۈپ بېقىڭ.

دائىمىي خروموسوم - جىنسى خروموسومغا نىسبەتەن ئۆزگىرىشكە ئۇچرىمايدۇ  
جىنسى خروموسوم - جىنسى خروموسومغا نىسبەتەن ئۆزگىرىشكە ئۇچرىمايدۇ

### ئالىملار ھەققىدە ھېكايە



### خروموسوم ئىرسىيىتى نەزەرىيىسىنىڭ ئاساسچىسى - مورگان



قىزىقارلىق يېرى شۇكى، گېنېتىكا ئاتىسى مېندېل تەدبىرى ئارقىلىق نەتىجىسىنى ئېلان قىلغان يىلى، يەنى 1866 - يىلى يە - نە بىر گېنېتىكا ئالىمى مورگان تۇغۇلىدۇ. ۋاقىتنىڭ مۇنداق توغرا كېلىپ قېلىشى كىشىلەرنى خىيالىي ھېسسىياتقا تولدۇرۇپ تەپەككۈر دېڭىزىدا ئۆز دۈرىدۇ.

مورگان جاسارەتلىك، پەرەز قىلىشقا ماھىر، تىرىشچان ۋە ئەمەلىيەتچىل ئادەم. مورگان بىر قېتىملىق خەلقئارا گېنې - تىكا يىغىنىدا، ئۆزىنىڭ ئىلمىي بايقاش جەريانىنى تونۇشتۇرۇپ: «ناۋادا سىز مەندىن بۇ بايقاشقا قانداق ئېرىشتىڭىز دەپ سورىسىڭىز، ئۇنداقتا مەن تىرىشچانلىققا... ئاقىلانلىك بە - لمەن ئوتتۇرىغا قويۇلغان پەرەزگە، شۇنداقلا پايدىلىق ماتېرىيالنى تېپىش .... قاتارلىقلارغا تاياندىم دەپ جاۋاب بېرىمەن»

دەيدۇ. مورگان ئەنە شۇنداق پوزىتسىيىدە تۇرۇپ، مەيلى ئۆزىنىڭ پەرىزى ياكى باشقىلارنىڭ تەلىماتى بولسۇن ھەممە - سىدە بىردەك ئەمەلىيەت ۋە تەجرىبە ئارقىلىق نەزەرىيىنىڭ توغرا - خاتالىقىنى تەكشۈرۈشتىن ئىبارەت ئىلمىي پوزىتسىيىنى قوللىنىدۇ. ئۇنىڭ مېندېلنىڭ ئىرسىيەت قانۇنىيىتىنى ئىسپاتلاش جەريانى بۇنىڭ ئەڭ ياخشى مىسالى بولالايدۇ. چۈنكى، ئۇلار ئىشەنچلىك تەجرىبە ئاساسىدا تىكلەنگەن بولغاچقا، دەسلەپتە مورگان مېندېلنىڭ ئىرسىيەت قانۇنىيىتىنى توغرا دەپ قارىغان. كېيىن، ئۆزى ئىشلىگەن تەجرىبىدە ئۇنىڭغا ئوخشاش نەتىجىگە ئېرىشەلمىگەچكە، ئۇنىڭدا بۇ قانۇنغا نىسبەتەن گۇمان پەيدا بولىدۇ. شۇنىڭ بىلەن ئۇ، تىرىشىپ بىر قاتار يېڭى تەجرىبىلەرنى ئىشلەپ -

دۇ. مېۋە چىۋىنى توغرىسىدىكى نۇرغۇن تەجرىبە نەتىجىلىرى مېندېلىنىڭ قانۇنىنى ئىسپاتلىغاندىن كېيىن، ئۇ مېندېلىنىڭ قانۇنلىرىنى ئېتىراپ قىلىپلا قالماي، يەنە بەزى بىر يېڭى قانۇنلارنىمۇ بايقايدۇ. مورگان ھەققىدە سۆز باشلانسا، كىشىلەر تەبىئىي ھالدا مېۋە چىۋىنىنى كۆز ئالدىغا كەلتۈرىدۇ. كىچىككىنە مېۋە چىۋىنى مورگانغا زور ياردەم قىلىدۇ، شۇنىڭ بىلەن مورگانمۇ ئۇلاردىن ئايرىلالماس بولۇپ قالىدۇ. 1908 - يىلى مورگان بىر ئاسپىرانت ئوقۇغۇچىنى قاراڭغۇ ئۆيدە مېۋە چىۋىنى بېقىشقا ئورۇنلاشتۇرۇپ، ئىشلەتمەسلىك سەۋەبىدىن كۆزى رودىمېنتلاشقان بىر خىل مېۋە چىۋىنى يېتىشتۈرمەكچى بولىدۇ. بىراق بۇ ئوقۇغۇچى ئازراقمۇ يورۇقلۇق بولمىغان بۇ قاراڭغۇ ئۆيدە مېۋە چىۋىنىنى 68 ئەۋلاد كۆپەيتكەن بولسىمۇ، تەتقىقاتتا ئازراقمۇ ئىلگىر - لەش بولمايدۇ. 69 - ئەۋلادقا كەلگەندە كۆزى ۋاقتىنچە ئازراق خىرلەشكەن مېۋە چىۋىنلىرى بايقىلىدۇ، ئوقۇغۇچى شۇ زامانلا مورگاننى چاقىرىدۇ، مورگان دەرھال تەجرىبىخانىغا يېتىپ كەلگەندە، بۇ چىۋىنلەرنىڭ كۆرۈش قۇۋۋىتى ئەسلىگە كېلىپ دېرىزىدىن سىرتقا ئۇچۇپ چىقىپ كېتىدۇ. گەرچە بۇ تەتقىقاتتىن ھېچقانداق نەتىجە چىقمىغان بولسىمۇ، بىراق بۇ كۆڭۈلدىكىدەك تەجرىبە ھايۋىنى مورگاننى كولومبىيە ئۇنىۋېرسىتېتىنىڭ تەجرىبىخانىسىغا كىرىشكە ئۈندەيدۇ. مېۋە چىۋىنلىرى كۆپىيىشكە باشلايدۇ، مورگانمۇ ئۇلار ئۈستىدە بىر - بىرلەپ تەجرىبە ئىشلەيدۇ. تەخمىنەن 1910 - يىلى 5 - ئايغا كەلگەندە، ئۇنىڭ تەجرىبىخانىسىدا بىر ئال ئاق كۆزلۈك ئىر - كەك مېۋە چىۋىنى (ئۇنىڭ ئاكا - ئۇكا ۋە ئاچا - سىڭىللىرىنىڭ ھەممىسى قىزىل كۆزلۈك) دۇنياغا كېلىدۇ. ناھا - يىتى روشەنكى، بۇ بىر خىل ئۆزگەرگەن ئىندىۋىد بولۇپ، ئىلىم - پەن تارىخىدىكى داڭلىق ھايۋان بولۇپ قالىدۇ. مورگان بۇ مېۋە چىۋىننىڭ ھالىدىن كۆڭۈل قويۇپ خەۋەر ئالىدۇ. مورگاننىڭ ئۈچىنچى بالىسى تۇغۇلۇپ، ئۇ دوختۇرخانىغا بارغاندا، ئايالى ئۈنجى بولۇپ «ئۇ مېۋە چىۋىننىڭ ئەھۋالى قانداق؟» دەپ سورايدۇ. مورگاننىڭ ئۇ - چىنچى بالىسى ناھايىتى ساغلام چوڭ بولىدۇ، بىراق ئۇ مېۋە چىۋىنى بەك ئاجىزلاپ كېتىدۇ، مورگان ھەر ئاخشىدا - مى ئۇنى ئۆيىگە ئېلىپ كېتىپ، كارىۋېتىنىڭ يېنىدىكى بىر قۇتىغا سېلىپ باقىدۇ، ئاندىن ئەتىسى يەنە تەجرىبى - خانىغا ئېلىپ كېتىدۇ. ئۇ ئۆلۈشتىن ئىلگىرى ئۇنى ۋاقتىنچە روھلاندۇرۇپ، تەجرىبىخانىدا يەنە بىر قىزىل كۆز - لۈك مېۋە چىۋىنى بىلەن چېتىشتۈرۈپ، ئۇنىڭ توساتتىن ئۆزگەرگەن گېنىنى ئىرسىيەت قىلىپ قالدۇرۇۋالىدۇ. مورگان مېۋە چىۋىنىدىن پايدىلىنىپ نۇرغۇن تەجرىبىلەرنى ئىشلەپ، گېنلارنىڭ باغلىنىش ۋە ئالمىشىش قا - نۇنىنى بايقايدۇ، كىشىلەر ئۇنى گېنېتىكىنىڭ ئۈچىنچى قانۇنى دەپ ئاتىشىدۇ. ئۇ يەنە گېنلارنىڭ خروموسومدا سىزىقلىق تىزىلىدىغانلىقىنى ئىسپاتلاپ، ھازىرقى زامان گېنېتىكىسىغا ستولوگىيە (ھۈجەيرىشۇناسلىق) لىك ئاساس سالدى. مورگاننىڭ خروموسوم ئىرسىيىتى نەزەرىيىسىگە قوشقان تۆھپىسى كۆرۈنەرلىك بولغانلىقى ئۇ - چۈن، گېنېتىكا ساھەسىگە تۆھپە قوشۇپ نوبېل فىزىئولوگىيە ياكى مېدىتسىنا مۇكاپاتىغا ئېرىشكەن تۇنجى ئا - لىم بولۇپ قالىدۇ.



قىيىن، ئىز  
 چىكىنە  
 - 1908 -  
 مەسلىك  
 زىراقىمۇ  
 لىگىرە -  
 تۇغۇ -  
 تۇرۇش  
 نىجە  
 ر -  
 ەپ  
 -  
 -

### § 3 . جىنسقا ئەگىشىش ئىرسىيىتى

#### كېسەللىكلەر ئۈستىدە مۇھاكىمە



قىزىل - يېشىل رەڭ قارغۇسى دائىم ئۇچرايدىغان بىر خىل ئىنسانلار ئىرسىيەت كېسەللىكى بولۇپ، رەڭ سېزىمى توسقۇن - لۇققا ئۇچراش سەۋەبىدىن، بىمار قىزىل ۋە يېشىل رەڭلەرنى نورمال ئادەملەردەك پەرقلەندۈرەلمەيدۇ. تەكشۈرۈشكە ئاساسلانغاندا، قىزىل - يېشىل رەڭ قارغۇسىغا گىرېتتا بولغان ئەرلەر ئاياللاردىن خېلىلا كۆپ بولىدىكەن. <math>X^H Y^h</math> ۋە ئىنسان D غا قارشى راخت كېسەلىمۇ ئىنسانلاردىكى بىر خىل ئىرسىيەت كېسەللىكى بولۇپ، بىمارنىڭ ئىنچىكە ئۇچىيى كالتىسى ۋە فوسفورنى ياخشى سۈمۈرەلمەسلىكتەك توسالغۇلار سەۋەبىدىن، بىماردا دائىم پۇتى O شەكلىدە بولۇپ قېلىش، سۆڭىكى غەلىتە شەكلىدە يېتىلىش ۋە ئۆسۈشى ئاستا بولۇشتەك كېسەللىك ئالامەتلىرى كۆرۈلىدۇ. ئەمما بۇ خىل كېسەللىكنىڭ قىزىل - يېشىل رەڭ قارغۇسى كېسەلىگە ئوخشىمايدىغان يېرى شۇكى، بۇ كېسەللىك ئەرلەرگە قارىغاندا ئاياللاردا كۆپ كۆرۈلىدۇ.

#### مۇھاكىمە

1. يۇقىرىدىكى ئىككى خىل ئىرسىيەت كېسەللىكى ئىپادىلىنىشى جەھەتتە نېمە ئۈچۈن جىنس بىلەن مۇناسىۋەتلىك بولىدۇ؟
2. نېمە ئۈچۈن بۇ ئىككى خىل ئىرسىيەت كېسەللىكنىڭ جىنس بىلەن باغلىنىشلىق ئىپادىسى ئوخشاش بولمايدۇ؟

### يول كۆرۈنۈش ئۈستىدە مۇھاكىمە

ئىنسانلاردىكى قىزىل - يېشىل رەڭ قارغۇسى ۋە ۋىتامىن D غا قارشى راخت كېسەلىنىڭ ئىرسىيەتلىك ئىپادىلىنىشى مېۋە چىۋىنى كۆز رەڭگىنىڭ ئىرسىيەتلىك بىلەن ئىنتايىن ئوخشىشىپ كېتىدۇ، يەنى ئۇلار - نىڭ گېنىمۇ جىنسىي خروموسومغا جايلاشقان بولغاچقا، ئىرسىيەت جەھەتتە ھامان جىنس بىلەن باغلىنىشلىق بولىدۇ. شۇڭا، بۇ خىل ھادىسە جىنسقا ئەگىشىش ئىرسىيىتى (sexlinkage inheritance) دەپ ئاتىلىدۇ. نېمە ئۈچۈن بۇ كېسەللىكلەرنىڭ بەزىلىرى ئەرلەردە، بەزىلىرى ئاياللاردا كۆپ ئۇچرايدۇ؟ جىنسقا ئەگىشىش ئىرسىيىتىنىڭ يەنە قانداق ئالاھىدىلىكلىرى بار؟ بۇنى

#### بۇ پاراگرافنىڭ مۇھىم نۇقتىسى

- جىنسقا ئەگىشىش ئىرسىيىتى دېگەن نېمە؟
- جىنسقا ئەگىشىش ئىرسىيىتىنىڭ قانداق ئالاھىدىلىكى بار؟
- جىنسقا ئەگىشىش ئىرسىيىتى ئەمەلىي تۈرمۈشتە نېمىلەرگە قوللىنىلىدۇ؟

بۇ پاراگرافنىڭ مۇھىم نۇقتىسى  
 جىنسقا ئەگىشىش ئىرسىيىتى دېگەن نېمە؟  
 جىنسقا ئەگىشىش ئىرسىيىتىنىڭ قانداق ئالاھىدىلىكى بار؟  
 جىنسقا ئەگىشىش ئىرسىيىتى ئەمەلىي تۈرمۈشتە نېمىلەرگە قوللىنىلىدۇ؟



قىزىل - يېشىل رەڭ قارىغۇسى كېسىلى بىلەن توي قىلسا، ئۇلارنىڭ ئەۋلادلىرى ئىچىدە، ئوغۇللىرىنىڭ 1/2 ى قىزلىرىنىڭ 1/2 ى بۇ كېسەلگە چىرىپ بولىدۇ. يېشىل رەڭ قارىغۇسى ئايال ئورمان بىلەن توي قىلسا، ئۇلار- چىرىپ بولىدۇ. ئوغۇللىرىنىڭ ھەممىسى رەڭ قارىغۇسى، قىزلىرىنىڭ ھەممىسى ئېلىپ يۈرگۈ-  
 (يۇقىرىدىكى تۆت خىل توي قىلىش شەكلىنى تەھلىل قىلىش ئارقىلىق، ئەرلەردىكى قىزىل - يېشىل رەڭ قارىغۇسى كېسىلى پەقەت ئانا تەرەپتىن ئىرسىيەت بولۇپ كېلىدىغانلىقىنى، كېيىن پەقەت قىزلىرىغا ئىرسىيەت بولۇپ قالدىغانلىقىنى كۆرۈۋالالايمىز. بۇ خىل ئىرسىيەت ئالاھىدىلىكى كېلىپتىكىدا قايچى-لىشىش ئىرسىيەتى دەپ ئاتىلىدۇ.)

خاھتە ئىكەن  
 ئورمان X<sup>B</sup>Y  
 كىسەل X<sup>b</sup>Y  
 ئورمان X<sup>B</sup>X<sup>B</sup>  
 كىسەل X<sup>b</sup>X<sup>b</sup>  
 ئورمان X<sup>B</sup>X<sup>b</sup>  
 كىسەل X<sup>b</sup>X<sup>B</sup>

ۋىتامىن D غا قارشى راخت كېسىلى

X خروموسومغا جايلاشقان كېسەل گېنلار ئىچىدە ھەم يوشۇرۇن گېنلار، ھەم ئاشكارا گېنلار بولىدۇ. يۇقىرىدا ئوتتۇرىغا قىيىنچىلىق بولغان ۋىتامىن D غا قارشى راخت كېسىلى ئەنە شۇ ئاشكارا جىنسقا ئەگىشىش ئىرسىيەت كېسەللىكىدۇر (16.2 - رە-سم). بۇ خىل كېسەللىك ئاشكارا گېن (D) نىڭ كوتترو-لۇقىدا بولۇپ، ئاياللارنىڭ گېن تىپى X<sup>D</sup>X<sup>D</sup> ۋە X<sup>D</sup>X<sup>d</sup> بولغاندا ھەممىسى بۇ كېسەلگە گىرىپتار بولىدۇ، ئەمما كېيىنكىسى ئالدىنقىسىغا قارىغاندا يېنىكرەك بولىدۇ. ئەر بىمارنىڭ گېن تىپىدا پەقەت بىرلا خىل ئەھۋال بولىدۇ، يەنى X<sup>D</sup>Y نىڭ كې-سەللىك دەرىجىسى X<sup>D</sup>X<sup>D</sup> غا ئوخشىشىپ كېتىدۇ. شۇڭا، X خروموسومغا جايلاشقان ئاشكارا گېننىڭ ئىرسىيەتلىك ئالا-ھىدىلىكى مۇنداق بولىدۇ: ئەرلەرگە قارىغاندا ئاياللاردا كۆپ بولىدۇ. بىراق قىسمەن ئايال بىمارلارنىڭ كېسەللىك ئەھۋالى يېنىكرەك بولىدۇ. بۇ كېسەلگە گىرىپتار بولغان ئەر ئورمان ئايال بىلەن توي قىلغاندىن كېيىنكى ئەۋلادلىرى ئىچىدە، قىزلىرىنىڭ ھەممىسى بۇ كېسەلگە گىرىپتار بولىدۇ، ئەمما ئوغۇللار ئورمان بولىدۇ. (ئاياللاردا كۆپ)



16.2 - رەسىم. ۋىتامىن D غا قارشى راخت كېسىلىگە گىرىپتار بولغان بالا

جىنسقا ئەگىشىش ئىرسىيەتنىڭ ئەمەلىي تۇرمۇشتا قوللىنىلىشى

جىنسقا ئەگىشىش ئىرسىيەتنى جانلىقلار دۇنياسىدا ئومۇميۈزلۈك مەۋجۇت. يۇقىرىدا ئېيتىلغان ئادەم-لەردىكى قىزىل - يېشىل رەڭ قارىغۇسى بىلەن ۋىتامىن D غا قارشى راخت كېسىلى شۇنداقلا مېۋە چىۋە-نىدىكى قىزىل كۆز بولۇش بىلەن ئاق كۆز بولۇش ئىرسىيەتىدىن سىرت، ئادەملەردىكى قاناشقا مايىللىق كېسىلى، چىپار روك توخۇسىنىڭ پەيلىرىدىكى تاغىل يول - يول سىزىقلار، شۇنداقلا ئانىلىق ۋە ئاتىلىق-لىرى ئايرىم تۈپتە بولغان ئۆسۈملۈكلەر (مەسىلەن، تېرەك، سۆگەت) دىكى بەزى بەلگىلەرنىڭ ئىرسىيەتنى قاتارلىقلارنىڭ ھەممىسى جىنسقا ئەگىشىش ئىرسىيەتىدۇر.

جىنسقا ئەگىشىش ئىرسىيەتنى ئىشلەپچىقىرىش ئەمەلىيىتىدە ناھايىتى كۆپ قوللىنىلىدۇ. مەسىلەن، توخۇنىڭ جىنسىي پەرقىنىڭ بەلگىلىنىش شەكلى ئادەم ۋە مېۋە چىۋىنىڭكىنىڭ دەل ئەكسىچە بولىدۇ.

جىنسىي خروموسوم  
 راخت خروموسوم  
 ① ② ③ ④ ⑤ ⑥ ⑦ ⑧ ⑨ ⑩ ⑪ ⑫ ⑬ ⑭ ⑮ ⑯ ⑰ ⑱ ⑲ ⑳ ㉑ ㉒ ㉓ ㉔ ㉕ ㉖ ㉗ ㉘ ㉙ ㉚ ㉛ ㉜ ㉝ ㉞ ㉟ ㊱ ㊲ ㊳ ㊴ ㊵ ㊶ ㊷ ㊸ ㊹ ㊺ ㊻ ㊼ ㊽ ㊾ ㊿

بەزى چىشى ئىندىۋىدنىڭ ئىككى تال جىنسى خروموسوم تىپى پەرقلىق (ZW) بولىدۇ، ئەركەك ئىندىۋىدنىڭ ئىككى تال جىنسى خروموسوم تىپى ئوخشاش (ZZ) بولىدۇ. چىپار روك توخۇسىنىڭ پەيلىرىدىكى تاغىل يول - يول سىزىقلارنى Z خروموسومغا جايلاشقان ئاشكارا گېن B بەلگىلەيدىغان يولغاچقا، ئۇنىڭ تەڭ ئورۇنلۇق گېنى b ساپ زىگوتىلىق بولغاندا، نوخۇدا چىپار بەلگە ئىپادىلەنمەيدۇ. پەيلىرىدىمۇ تاغىل يول - يول سىزىقلار بولمايدۇ. ئەگەر چىپار مېكىيان ( $Z^bW$ ) بىلەن چىپار ئەمەس خوراز ( $Z^BZ^b$ ) چېتىشتۈرۈلسا، ئۇنداقتا،  $F_1$  ئىچىدە خورازلارنىڭ ھەممىسى چىپار ( $Z^bW$ )، مېكىيانلارنىڭ ھەممىسى چىپار بولمايدۇ. شۇنداق بولغاندا، چۈچە مەزگىلىدىلا پەي - تۈكلەرنىڭ ئالاھىدىلىكىگە قاراپ مېكىيان بىلەن خورازنى ئايرىۋېلىپ، مېكىيانلارنى كۆپ بېقىپ، كۆپ تۇخۇم ئېلىش مەقسىتىگە يەتكىلى بولىدۇ. ئەگەر بۇنىڭغا قىزىقىشىز مۇناسىۋەتلىك ماتېرىياللارنى كۆپرەك كۆرۈپ، جىنىسقا ئەگىشىش ئىرسىيىتى قانۇنىيىتىنىڭ ئىشلەپچىقىرىش ئەمەلىيىتىدىكى باشقا قوللىنىشلىرىنىمۇ بىلىۋالسىز، ئىز بولىدۇ.

مەشىق

تۆت خىل خروموسوم تىپى ئىككى تال ئاياللارنىڭ تەركىبى  $22X+XX$  ئاساس سوتال  $22X+XY$  تەركىبى

1. جىنسى خروموسومغا ئائىت تۆۋەندىكى بايانلاردىن توغرىسى:
  - A. جىنسى خروموسومدىكى گېنلارنىڭ ھەممىسى جىنسى كونترول قىلىدۇ
  - B. جىنسى پەرق جىنسى خروموسومنىڭ كونتروللۇقىدا بولىدۇ، ئەمما گېن بىلەن مۇناسىۋەتسىز
  - C. قىزلاردىكى جىنسى خروموسومنىڭ بىر تىپى چوقۇم ئانا تەرەپتىن كېلىدۇ
  - D. جىنسى خروموسوم پەقەت كۆپىيىش ھۈجەيرىسىدىلا بولىدۇ

جاۋابى: [ C ]

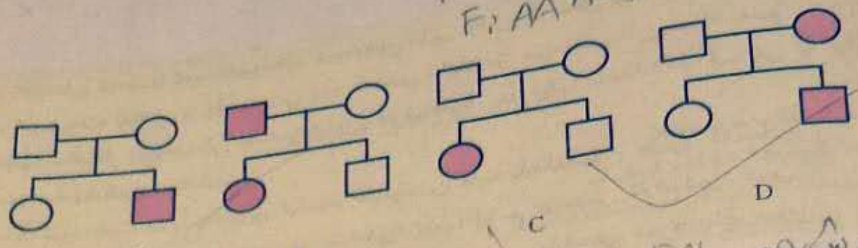
2. X خروموسومدىكى يوشۇرۇن گېنلار كەلتۈرۈپ چىقىرىدىغان ئىرسىيەت كېسەللىكلىرىدە بولۇشقا تېگىشلىك ئالاھىدىلىك:

- A. ئەگەر ئاتىسى ئىرسىيەت كېسەللىكىگە گىرىپتار بولغان بولسا، قىزى چوقۇم بۇ كېسەلگە گىرىپتار بولمايدۇ
- B. ئەگەر ئاپىسى ئىرسىيەت كېسەللىكىگە گىرىپتار بولغان بولسا، ئوغلى چوقۇم بۇ كېسەلگە گىرىپتار بولىدۇ
- C. ئەگەر ئاپىسىنىڭ دادىسى ئىرسىيەت كېسەللىكىگە گىرىپتار بولغان بولسا، ئۇنىڭ ئوغۇل نەۋرىسى چوقۇم بۇ كېسەلگە گىرىپتار بولىدۇ
- D. ئەگەر ئاپىسىنىڭ ئاپىسى ئىرسىيەت كېسەللىكىگە گىرىپتار بولغان بولسا، ئۇنىڭ قىز نەۋرىسى چوقۇم بۇ كېسەلگە گىرىپتار بولىدۇ.

جاۋابى: [ B ]

3. تۆۋەندىكى تۆت سخېمدا، پەقەت دائىمىي خروموسومدىكى يوشۇرۇن گېن بەلگىلەيدىغان ئىرسىيەت كېسەللىكى سخېمىدىكى قېنىق بويالغانلىرى ئىرسىيەت كېسەللىكىگە گىرىپتار بولغانلارنى ئىپادىلەيدۇ:

جاۋابى: [ ]

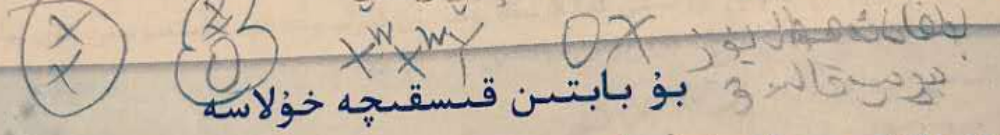


P: AA Aa  
F: AA Aa aa

4. ئىنسانلاردىكى ئاق قىزىش كېسىلى دائىمىي خروموسوملۇق ئىرسىيەتتىن ئىبارەت، نورماللىق (A) ئاق قىزىش (a) غا بولغان، ھەم قىزىل - يېشىل رەڭ قارىغۇسىغا كىرىپتار بولغان بىر جۈپ ئەر - خوتۇندىن ھەم ئاق قىزىش كېسىلىگە كىرىپتار بولغان بىر جۈپ ئەر - خوتۇننىڭ گېن تىپى قانداق بولىدۇ؟

زىل - يېشىل رەڭ قارىغۇسىغا كىرىپتار بولمىغان بالا تۇغۇلدىمۇ؟ بۇ بالىنىڭ گېن تىپىنى يېزىپ چىقىڭ.  
 II كېڭەيتىمە سوئال: ئۇلارنىڭ قانداق كۆز چىشى مېۋە چىۋىنى (XX) بىلەن قىزىل كۆز ئىركەك مېۋە چىۋىنى (XY) ئىرسىيەت قانۇنىيىتى بولمىغاندا، ئاق كۆز چىشى مېۋە چىۋىنى (XX) بىلەن قىزىل كۆز ئىركەك مېۋە چىۋىنى (XY) نى چېتىشتۈرغاندا، كېيىنكى ئەۋلاد ئىركەك مېۋە چىۋىنىنىڭ ھەممىسى ئاق كۆز، چىشى مېۋە چىۋىنىلىرىنىڭ ھەممىسى قىزىل كۆز ئىركەك مېۋە چىۋىنىنى شالغۇتلاشتۇرغاندا پەيدا بولغان بىرىنچى ئەۋلادلار ئىچىدىن بىر ئاق كۆز چىشى مېۋە چىۋىنىنىڭ پەيدا بولۇپ قالغانلىقىنى بايقاپ قالغان. كۆپ قېتىم كۆزىتىپ، يۇقىرىقىدەك شالغۇتلاشتۇرۇشتىن پەيدا بولغان 2000 ~ 3000 تال قىزىل كۆز چىشى مېۋە چىۋىنىنى بايقاپ قالغان. كۆپ قېتىم كۆزىتىپ، يۇقىرىقىدەك شالغۇتلاشتۇرۇشتىن پەيدا بولغان 2000 ~ 3000 تال قىزىل كۆز چىشى مېۋە چىۋىنىنى ئىچىدە بىر تال چىشى ئاق كۆز مېۋە چىۋىنىنىڭ پەيدا بولۇپ قالغانلىقىنى، ئوخشاشلا 2000 ~ 3000 تال ئاق كۆز ئىركەك مېۋە چىۋىنى ئىچىدە بىر تال قىزىل كۆز ئىركەك مېۋە چىۋىنىنىڭ پەيدا بولۇپ قالغانلىقىنى بايقىغان. سىز بۇ خىل غەلىتە ھادىسىنى قانداق چۈشەندۈرسىز؟ بۇ ھەقتىكى چۈشەندۈرۈشىڭىزنى قانداق ئىسپاتلايسىز؟

بۇ بابتىن قىسقىچە خۇلاسە



P: X<sup>w</sup>X<sup>w</sup> X<sup>w</sup>Y  
 X<sup>w</sup>X<sup>w</sup> X<sup>w</sup>Y  
 X<sup>w</sup>X<sup>w</sup> X<sup>w</sup>Y  
 X<sup>w</sup>X<sup>w</sup> X<sup>w</sup>Y

تۇخۇم ھۈجەيرىسى بىلەن ئىسپېرما پىشىپ يېتىلىش جەريانىدا، سان كېمەيتىپ بۆلۈنۈش ئارقىلىق جانلىقلارنىڭ نەسل قالدۇرۇش جەريانىدىكى خروموسوم سانلىرىنىڭ تۇراقلىق بولۇشىنى كاپالەتكە ئىگە قىلىدۇ. سان كېمەيتىپ بۆلۈنۈش داۋامىدا خروموسوم پەقەت بىر قېتىم نۇسخىلەندۈرۈلگەن ھەمما ھۈجەيرە ئىككى قېتىم بۆلۈنىدۇ. سان كېمەيتىپ بۆلۈنۈش نەتىجىسىدە، پىشىپ يېتىلگەن كۆپىيىش ھۈجەيرىلىرىدىكى خروموسوملارنىڭ سانى ئىپتىدائىي كۆپىيىش ھۈجەيرىلىرىدىكىنىڭكىگە قارىغاندا يېرىمى ئاز بولىدۇ. شۇنداقلا بۇ جەرياندا ئوخشاش مەنبەلىك خروموسوملار ئاۋۋال جۈپلىشىپ ئاندىن ئايرىلىدۇ، جۈپلىشىش ۋاقتىدا يەنە ئوخشاش مەنبەلىك خروموسوملاردىكى ئاچا - سىڭىل بولمىغان خروماتىدلار ئارا يەنە قايچىلىشىش (گىرەلىشىش) ۋە ئالمىشىش يۈز بېرىدۇ، ئوخشاش مەنبەلىك بولمىغان خروموسوملار ئىركىن بىرىكىپ، گامېتلارنىڭ ئىرسىيەتلىك تەركىبىنى كۆپ خىللاشتۇرىدۇ.

ئۇرۇقلىنىش تۇخۇم ھۈجەيرىسى بىلەن ئىسپېرما قوشۇلۇپ ئۇرۇقلانغان تۇخۇم ھاسىل قىلىش جەريانىدىن ئىبارەت، ئۇرۇقلىنىش جەريانى گامېتلاردىكى يېرىمى كەملىپ كەتكەن خروموسوم

سانى ئۇرۇقلانغان تۇغۇمدا ئەجدادلىرىنىڭ غرۇموسوم سانى بىلەن ئوخشاش قىلىپ ئەمەلىگە كەلتۈرۈپ، ئىرسىيەت بەلگىلىرىنىڭ نىسبىي مۇقىملىقىنى ساقلايدۇ. ئۇنىڭ بىلەن بىللە يەنە كامپىتلار كۆپ خىللىققا، ئۇرۇقلىنىش ئاسادىيلىققا ئىگە بولغاچقا، بىر جۈپ ئەجدادنىڭ كېيىنكى ئەۋلادلىرىدىمۇ خىلمۇخىللىق ئىپادىلىنىدۇ.

مېندېلىنىڭ ئىرسىيەت قانۇنىيەتلىرى كىشىلەر تەرىپىدىن قايتا بايقالغاندىن كېيىن، ئالىملار كېيىنكى ئەدەلىكى ئۈستىدە قاتتىق ئىزدىنىشكە باشلىدى؛ كۆپ قېتىم كۆزىتىش ئارقىلىق، كېيىن بىلەن غرۇموسوم ھەرىكىتىنىڭ پاراللېل يۈرۈش مۇناسىۋىتى بارلىقىنى بايقىدى، مورگاننىڭ مېۋە چىۋىسىنى ئالغۇتلاشتۇرۇش تەجرىبىسى كېيىنكى غرۇموسومدا بولىدىغانلىقىنى ئىسپاتلىدى.

جىنسى غرۇموسومغا جايلاشقان كېنلار كونترول قىلىدىغان بەلگىلەر ئىرسىيەت بولۇپ قېلىش جەريانىدا ھامان جىنس بىلەن ئۇزۇن ئارىلىقتا باغلىنىش بولىدىغان بولغاچقا، بۇ خىل ھادىسە جىنسىغا ئەگىشىش ئىرسىيىتى دەپ ئاتىلىدۇ. كېنلار ئاشكارا ۋە يوشۇرۇن بولۇشتەك ئوخشىمىغان خۇسۇسىيەتكە ئىگە، شۇنىڭدەك يەنە ئۇلار جىنسى غرۇموسوملار بىلەن ئۇزۇن ئارىلىقتا باغلىنىش بولۇپلا قالماستىن، ئىرسىيەت بولۇپ قېلىش جەريانىدا ئوخشىمىغان ئالاھىدىلىكلىرىنى ئىپادىلەيدۇ.

بىئولوگىيە تەتقىقاتى ئىنچىكە كۆزىتىشلەردىن ئايرىلالمايدۇ ھەمدە مۇئەييەن تەسەۋۋۇر قىلىش ئىقتىدارىغا موھتاج. ئەلۋەتتە يەنە كۆزىتىش ئاساسدا ئوتتۇرىغا قويۇلغان پەرەز ۋە ئالدىن مۆلچەرلەشمۇ زۆرۈر. ئەمما ھەرقانداق بىر پەرەز ۋە ئالدىن مۆلچەرلەشلەر ئەڭ ئاخىرىدا يەنىلا تەسەۋۋۇر بىلەن ئارقىلىق ئىسپاتلىنىپ ئاندىن بېكىتىلىدۇ. بۇ بايىنى ئۆگىنىش ئارقىلىق ئالىملارنىڭ پەن تەتقىقاتى جەريانىدا كۆرسەتكەن مول تەسەۋۋۇرلىرىنى، دادىللىق بىلەن ئوتتۇرىغا قويغان كۇما-نىي قاراشلىرىنى، تىرىشچان ۋە ئىلىم - پەننى قىزغىن سۆيۈش روھىنى چوڭقۇر ھېس قىلغىلى بولىدۇ.

ئۆز - ئۆزىنى سىناش

I ئۇقۇم ھەققىدە سىناش توغرا - خاتالىققا ھۆكۈم قىلىش

1. مېۋە چىۋىسىنىڭ تەن ھۈجەيرىسىدە سەككىز تال خروموسوم بولىدۇ. مېۋە چىۋىسىنىڭ بەلگىلىرىنى كونترول قىلىش ئۈچۈن كىرىم بىلەن ئىلىدىغان بارلىق گېنلار مۇشۇ سەككىز تال خروموسومغا تەكشى تارقىلىدۇ. (X)
2. دائىمىي خروموسومغا جايلاشقان بىر جۈپ ئوخشاش مەنبەلىك خروموسوملارنىڭ ئوخشاش ئورنىدىكى گېنلار ئوخشاش بىر خىل بەلگىنى كونترول قىلىدۇ. (X)
3. تەڭ ئورۇنلۇق بولمىغان گېنلارنىڭ ھەممىسى ئوخشاش مەنبەلىك بولمىغان خروموسوملارغا جايلىشىدۇ. (X)
4. X ياكى Y خروموسومغا جايلاشقان گېنلارنىڭ مۇناسىپ بەلگىلىرىنىڭ ئىپادىلىنىشى بەلگىلىك جىنسى پەرق بىلەن باغلىنىشلىق بولىدۇ. (X)
5. جىنسىي خروموسومدىكى گېنلار ئىرسىيەت بولۇپ قېلىش داۋامىدا مېندېلىنىك قانۇنىغا بويسۇنمايدۇ. بىراق جىنسىغا ئەگىشىش ئىرسىيىتىنىڭ ئالاھىدىلىكلىرى ئىپادىلىنىدۇ. (X)

توغرا جاۋابنى تاللاڭ

1. سان كېمەيتىپ بۆلۈنۈش داۋامىدا ھەرىزىر تۆت بۆلەك نەتىجە (C) ئىكەنلىكى بولىدۇ.
  - A. تۆت يېمىلىنىش نۇقتىسىغا
  - B. ئىككى ئاچا - سىڭىل خروماتىدا
  - C. تۆت DNA مولېكۇلىسىغا
  - D. ئىككى جۈپ خروموسومغا
2. ئىسپېرما ھاسىل بولۇش جەريانىدا جۈپلىشىش كۆرۈلگەندە، DNA مولېكۇلىسىنىڭ سانى بىلەن خروموسوم سانىنىڭ نىسبىتى (C) بولىدۇ.

- A. 1:1                      B. 1:2  
C. 2:1                      D. 4:1

3. ئەرلەرنىڭ كېسەل بولۇش پۇرسىتى ئاياللارنىڭ يوشۇرۇن ئىرسىيەت كېسەللىكلىرىدىن كۆپ بولىدۇ. بۇنىڭ سەۋەبى كېسەللىك گېنى ئېھتىمال (B) دا بولۇشى مۇمكىن.

- A. دائىمىي خروموسوم  
B. X خروموسوم  
C. Y خروموسوم  
D. خوندىئوسوم


4. X خروموسومدىكى ئاشكارا گېن بەلگىلەيدىغان ئىنسانلار ئىرسىيەت كېسەللىكلىرىگە ئائىت تۆۋەندىكى قاراشلار دىن توغرىسى: (B) ئاياللاردا يېرىق

- A. بىمارنىڭ ئاتا - ئانىسىدىن چوقۇم بىرى كېسەل، كېسەلگە گىرىپتار بولغانلار ئىچىدە، ئەرلەرگە قارىغاندا ئاياللار كۆپ بولىدۇ

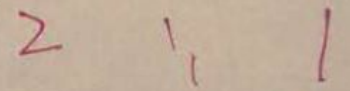
- B. ئەر كېسەل بولسا، ئوغۇللارنىڭ 1/2 ى، قىزلارنىڭ 1/2 ى كېسەلگە گىرىپتار بولىدۇ (X<sup>B</sup>Y, X<sup>b</sup>X<sup>b</sup>)
- C. ئايال كېسەل بولسا ئەۋلادلىرى ئىچىدە، قىزلىرىنىڭ ھەممىسى كېسەل، ئوغۇللىرىنىڭ ھەممىسى نورمال بولىدۇ
- D. ئىپادىلىنىشى نورمال بولغان ئەر - ئايالنىڭ جىنسىي خروموسومىدا كېسەللىك گېنى بولۇشى مۇمكىن

جاۋابى: A

5. جىنسىي پەرقى XY تىپ بىلەن بەلگىلىنىدىغان جانلىقلار توپىدىكى جىنسىي پەرق نىسبىتىنىڭ 1:1 بولۇشىدىكى



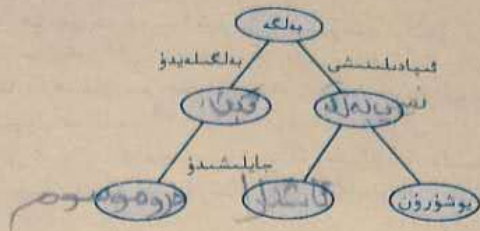
- سەۋەب: 1 2
- A. 1:1 ئائىلىك گامېتا: ئائىلىك گامېتا
- B. 1:1 تەركىبىدە Y بولغان گامېتا: تەركىبىدە X بولغان گامېتا



C = 1:1. C = تەركىبىدە Y بولغان ئىسپىرما: تەركىبىدە X بولغان ئىسپىرما  
 D = 1:1. D = تەركىبىدە Y بولغان تۇخۇم ھۆججەتسى: تەركىبىدە X بولغان تۇخۇم ھۆججەتسى

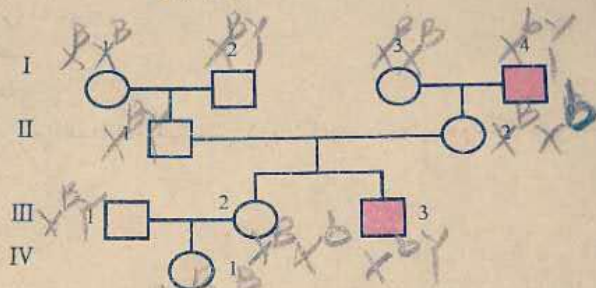
جاۋابى: C

تۇخۇم سخېمىسىنى تاماملاڭ



II بىلىمىنى نامايان قىلىش

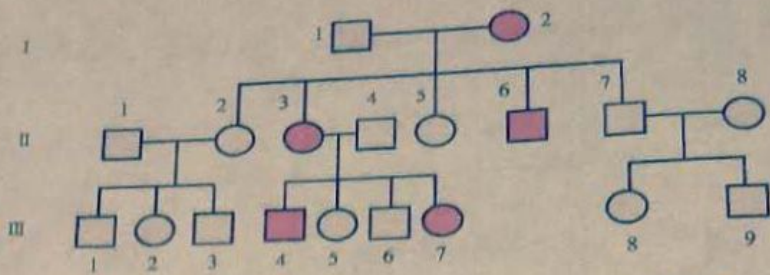
1. تۆۋەندىكى سخېمىدا مەلۇم ئائىلىدىكى قىزىل - يېشىل رەڭ قارىغۇسى ئىرسىيىتى چۈشەندۈرۈلگەن. سخېمىدا قىزىل - يېشىل رەڭ بىلەن كۆرسىتىلگەن ئادەملەر قىزىل - يېشىل رەڭ قارىغۇسى كېسەللىكىگە گىرىپتار بولغاندىن سىرت، قالغانلىرىنىڭ رەڭ سېزىمى نورمال. سخېمىغا ئاساسەن مەسىلىلەرگە جاۋاب بېرىڭ.



- (1) سخېمىدىكى III ئەۋلادتىكى 3 - نومۇرلۇقنىڭ گېن تىپى، III ئەۋلادتىكى 2 - نومۇرلۇقنىڭ گېن تىپى.
  - (2) IV ئەۋلادتىكى 1 - نومۇرلۇقنىڭ قىزىل - يېشىل رەڭ قارىغۇسى گېنىنى ئېلىپ يۈرۈش ئېھتىماللىقى.
2. كېيىنكى بەتتىكى سخېمىغا ۋىتامىن D غا قارشى راخت كېسەللىكىنىڭ ئائىلە نەسەبنامىسى بولۇپ، سخېمىغا ئاساسەن مەسىلىلەرگە جاۋاب بېرىڭ.

- (1) ئالىملار بۇ خىل كېسەللىكنىڭ ئاشكارا گېن كوتترول قىلىدىغان كېسەللىك ئىكەنلىكىنى بېكىتىپ بولغان، سىز بۇ ئائىلە نەسەبنامىسى سخېمىسىغا ئاساسەن بۇنىڭغا ئاساس تاپالامسىز؟
  - (2) ئەگەر سخېمىدىكى II ئەۋلادتىكى 6 - نومۇرلۇق نورمال بىر ئايال بىلەن توي قىلسا، ئەۋلادلىرىنىڭ كېسەلگە گىرىپتار بولۇشىدىن ساقلىنىش ئۈچۈن، قايسى خىل سۈپەتلىك تۇغۇش تەدبىرلىرىنى قوللانسا بولىدۇ؟
  - (3) III ئەۋلادتىكى 5 - ۋە 6 - نومۇرلۇق ئەۋلاد كېسەللىك گېنىنى ئېلىپ يۈرگۈچىمۇ؟ نېمە ئۈچۈن؟
3. 1961 - يىلى تۇنجى قېتىم خروموسومى ئۈچ تال (يەنى XYY) بولغان ئەر ئېلان قىلىنغان، بۇ كېسەلگە گىرىپتار بولغۇچىلارنىڭ كلىنىكىلىق ئىپادىسى: يۈرۈش - تۇرۇشى بىنورمال بولىدىغانلىقى، خاراكتېرىنىڭ تۇراقسىز بولىدىغانلىقى، ئاسان ئاچچىقلىنىدىغانلىقى، قىسمەنلىرىنىڭ جىنسىي ئەزالىرى تولۇق يېتىلمەيدىغانلىقى مەلۇم بولغان. سىزنىڭچە بۇ خىل كېسەللىكنى ئانا - ئانىسىنىڭ قايسىسىنىڭ سان كېمەيتىپ بۆلۈنۈشىدىكى قايسى باسقۇچىدا كۆرۈلگەن بىنورماللىق كەلتۈرۈپ چىقارغان؟





**III ماھارىتىنى ئىشقا سېلىش**

جەدۋەل تۈزۈپ، سان كېمەيتىپ بۆلۈنۈش بىلەن يىملىق بۆلۈنۈشنىڭ ئاساسلىق ئوخشايدىغان ياكى ئوخشىمايدىغان تەرەپلىرىنى سېلىشتۇرۇپ جەدۋەلگە تولدۇرۇڭ.

**IV تەپەككۈرىنى كېڭەيتىش**

1. «مېكېيانىڭ خورازغا ئۆزگىرىشى» ئېلىمىز قەدىمكى خەلقلەرنى خېلى بۇرۇنلا بايقىغان جىننىڭ ئۆزگىرىش ھادىسىسىدۇر. ئەسلىدە نۇخۇم تۇغۇۋاتقان مېكېيان ئوساتتىنلا خورازغا ئۆزگىرىپ، خورازنىڭدەك پەي - تۈكلىرى ئۆسۈپ چىقىدۇ، خورازدەك چىللايدۇ. ئىرسىيەتنىڭ ماددىي ئاساسى ۋە جىننىڭ كونترول قىلىنىشى نۇقتىسىدا تۇرۇپ، بۇ ھادىسىنىڭ كۆرۈلۈش سەۋەبىنى قانداق چۈشەندۈرسىز؟ توخۇننىڭ جىنسىي پەرقى ZW تىپى بىلەن بەلگىلىنىدۇ، خورازنىڭ ئىككى تال جىنسىي خروموسومى ئوخشاش تىپلىق (ZZ)، مېكېياننىڭ ئىككى تال جىنسىي خروموسومى ئوخشىمىغان تىپلىق (ZW) بولىدۇ. ئەگەر بىر مېكېياننىڭ جىنسى ئۆزگىرىپ خورازغا ئايلانسا، مۇشۇ خوراز بىلەن بىر مېكېيان چېمبىشتۈرۈلسا، ئۇلارنىڭ ئەۋلادلىرىنىڭ جىنسىي پەرقى قانداق بولىدۇ؟
2. باكتېرىيەلەردىن تارتىپ تاكى ئىنسانلارغىچە بولغان بارلىق جانلىقلارنىڭ بەلگىلىرى گېننىڭ كونتروللۇقىدا بولىدۇ. ئۇنداقتا، بارلىق جانلىقلارنىڭ گېنلىرى مېندېلىنىڭ ئىرسىيەت قانۇنىيىتىگە بويسۇنمىدۇ - يوق؟ نېمە ئۈچۈن؟

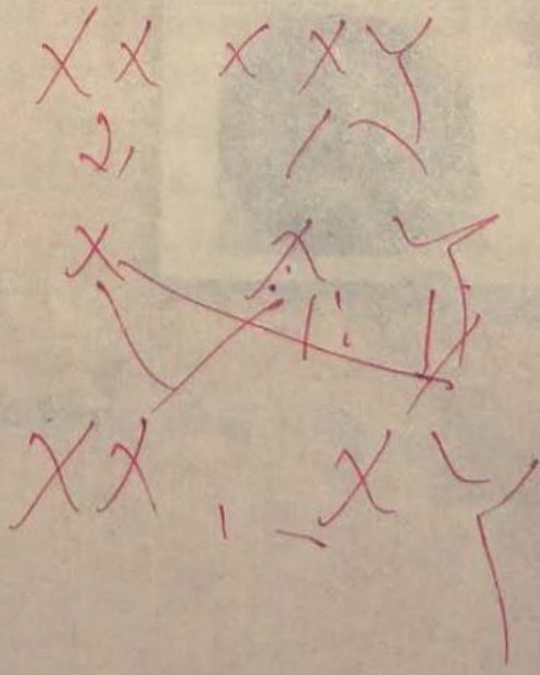
**تور ئادرېسى**

<http://www.cella.cn/>

<http://sw.zxxk.com/>

<http://etc.sjtu.edu.cn/biology/>

<http://www.xedu.net/>



### 3 - باب. گېنىنىڭ ماھىيىتى

مورگان گېنىنىڭ خروموسوم نەزەرىيىسىنى ئوتتۇرىغا قويغاندىن كېيىن، گېن كىشىلەر لىنىيەنىڭ تونۇشىدا بىر خىل ئابستراكت «فاكتور» بولماستىن، بەلكى خروموسومدا مەۋجۇت بولغان بىر خىل دانە - دانە بېرىلىك دەپ قارىلىشى كەلدى. بىراق گېن دېگەن زادى نېمە؟ مورگان ئۆزىنىڭ «گېن نەلىماتى» دېگەن كىتابىنىڭ ئاخىرىدا: «بىز يەنىلا بۇ سوۋمۇلۇك پەرەزدىن ئاسانلىقچە ۋاز كېچەلمەيمىز: چۈنكى ئۇ بىر ئورگانىك تەنچىگە ۋە كىلىك قىلىدىغان بولغاچقا، گېن تۇراقلىق بولىدۇ» دېگەن. بۇ پەرەز كۈچكە ئىگە بولامدۇ؟

1953 April 25, 1953 NATURE 797

request, and to Dr. J. E. H. Drenth and the captain and officers of R.H.M. Drenth for their part in making the observations.

London, E. H. Drenth and James D. Watson, 1953

**MOLECULAR STRUCTURE OF NUCLEIC ACIDS**

**A Structure for Deoxyribonucleic Acid**

**WE wish to suggest a structure for the salt of deoxyribonucleic acid (DNA). This structure has novel features which are of considerable biological interest.**

A structure for nucleic acid has already been proposed by Pauling and Corey<sup>1</sup>. They kindly made their manuscript available to us in advance of publication. Their model consists of three intertwined chains, with the phosphates near the fibre axis and the bases on the outside. In our opinion, this structure is unsatisfactory for two reasons: (1) We believe that the material which gives the X-ray diagram is the salt, not the free acid. Without the acidic hydrogen atoms it is not clear what forces would hold the structure together, especially as the oppositely charged phosphates near the axis will naturally appear to be too weak.

Another three-chain structure has also been suggested by Fowler<sup>2</sup> on the ground that the phosphates are on the outside and the bases on the inside, linked together by hydrogen bonds. This model, linked together by hydrogen bonds, and for this reason is also not convincing.

We wish to put forward a radically different structure for the salt of deoxyribonucleic acid. This structure has two radical chains each coiled round the same axis (see diagram). We have made the usual chemical assumptions, namely, that each chain consists of phosphate dihydrogen residues with 2-5 linkages. The two chains that carry these bases are related by a right-handed helix, the fibre axis. Both chains follow a right-handed helix, but owing to the axial suspension of the atoms in the two chains run in opposite directions. Each chain bears a resemblance to Pauling's model No. 1, that is, the bases are on the inside of the helix and the phosphates on the outside. The configuration of the sugar and the atoms near it is close to Pauling's "staggered configuration", the sugar being roughly perpendicular to the plane of the bases. There is a hydrogen bond between the

The space is partly diagrammatic. The two chains are shown as two phosphate-sugar chains, and the bases are shown as the parts of base linking the chains together. The vertical line marks the fibre axis.

King's College, London, and the Cavendish Laboratory, Cambridge

Medical Research Council Unit, The Molecular Structure of Biological Systems, Cavendish Laboratory, Cambridge

**Structure of Deoxyribonucleic Acid**

**Molecular Structure of Nucleic Acids**

in a helix on each chain every 3.4 Å. In the alternative, we have assumed an angle of 30° between adjacent planes to the same chain, so that the structure repeats after 10 residues on each chain, that is, after 34 Å. The distance of a phosphate atom from the fibre axis is 10 Å. As the phosphates are on the outside, various bases may occur in them.

The structure is an open one, and its weight would be rather high. At lower water content we would expect the bases to tilt so that the structure would become more compact.

The novel feature of the structure is the manner in which the two chains are held together by the guanine and pyrimidine bases. The planes of the bases are perpendicular to the fibre axis. They are joined together in pairs, a single base from one chain being hydrogen-bonded to a single base from the other chain, so that the two helixes are held with identical a continuation. One of the pair must be a pyrimidine for base pairing to occur. One of the pair must be a pyrimidine for base pairing to occur. If it is assumed that the two chains are held together by the structure in the manner described, the only possible arrangement is that only specific pairs (guanine with thymine (pyrimidine), and cytosine with uracil (pyrimidine)) can be paired with guanine (pyrimidine), and cytosine with uracil (pyrimidine).

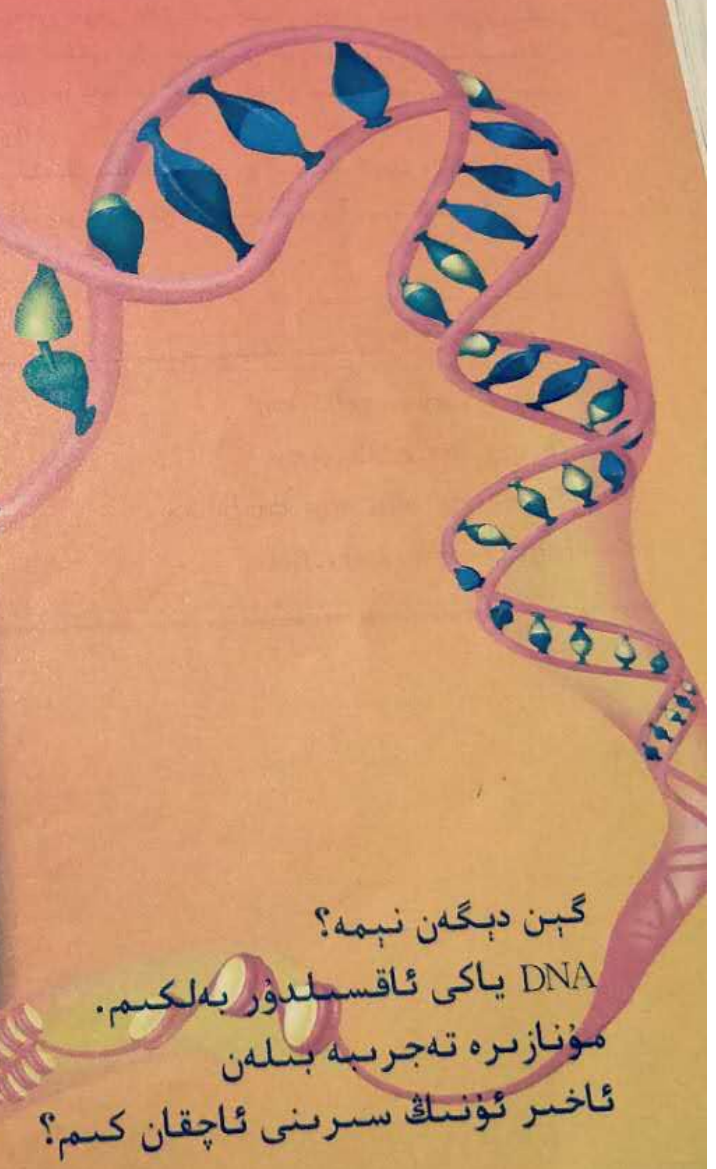
In other words, if an adenine forms one member of a pair, on either chain, then on the other chain the other member must be thymine or cytosine, and vice versa. The sequence of bases on a single chain does not appear to be restricted in any way. However, if only specific pairs of bases can be formed, it follows that if the sequence of the other one chain is given, then the sequence of the other one chain is automatically determined.

It has been found experimentally that the ratio of adenine to cytosine, and thymine to guanine, is constant in DNA. It is probably impossible to build this structure with a ribose sugar in place of the deoxyribose, as the extra oxygen atom would make the chains too close to the fibre axis.

The recently published X-ray data<sup>3</sup> on deoxyribonucleic acid are in excellent agreement with our model. So far as we can tell, it is compatible with the experimental data, but it cannot be regarded as improved until it has been checked against more exact results. Some of them are given in our communications. We were not aware of the details of the results presented there, when we devised our structure, which rests mainly though not entirely on published experimental data.

It has not escaped our notice that our model is a possible copying mechanism for the genetic material. Full details of the structure, including the conditions assumed in building it, together with a set of coordinates for the atoms, will be published elsewhere.

We are much indebted to Dr. Jerry Drenth for constant advice and criticism, especially on interatomic distances. We have also been stimulated by a knowledge of the general nature of the unpublished experimental results and ideas of Dr. M. H. F. Wilkins, Dr. H. E. Franklin and their co-workers at



گېن دېگەن نېمە؟  
 DNA ياكى ئاقسىلدۇر بەلكىم.  
 مۇنازىرە تەجرىبە بىلەن  
 ئاخىر ئۇنىڭ سىرىنى ئاچقان كىم؟

# § 1 DNA ئاساسلىق ئىرسىيەت ماددىسى

## تەستىلەر ئۈستىدە مۇھاكىمە



20 - ئەسىرنىڭ ئوتتۇرىلىرىدا ئاقسىلار خروموسومنىڭ ئاساسىن ئاقسىل بىلەن DNA دىن تۈزۈلگەنلىكىنى بايقىغان. بۇ ئىككى خىل ماددىنىڭ زادى قايسى ئىرسىيەت ماددىسى؟ بۇ مەسىلە بىئولوگىيە ساھەسىدە قاتتىق مۇنازىرە قوزغىغان.

### ● مۇھاكىمە

1. سىزنىڭچە ئىرسىيەت ماددىسى قانداق ئالاھىدىلىكلەرگە ئىگە؟

2. سىزنىڭچە مەلۇم بىر خىل ماددىنىڭ ئىرسىيەت ماددىسى ئىكەنلىكىنى ئىسپاتلايدىغان ئىشەنچلىك ئۇسۇل قايسى؟

## ئىرسىيەت ماددىسىغا ئائىت دەسلەپكى پەرەز

20 - ئەسىرنىڭ 20 - يىللىرى، كىشىلەر ئاقسىلنىڭ كۆپ خىل ئامىنو كىسلاتالارنىڭ ئۆزئارا تۇتۇشىدىن ھاسىل بولغان بىئو چوڭ مولېكۇلا ئىكەنلىكىنى، ھەر خىل ئامىنو كىسلاتالار ئوخشىمىغان شەكىللەردە تىزىلىپ، ئوخشىمىغان ئاقسىلارنى ھاسىل قىلىدىغانلىقىنى تونۇپ يەتكەن. مانا بۇ تەبىئىي ھالدا كىشىلەرنى ئامىنو كىسلاتالارنىڭ خىلمۇخىل تىزىلىش تەرتىپى، كۆپلىگەن ئىرسىيەت ئۇچۇرلىرىنى ئۆز ئىچىگە ئېلىشى مۇمكىن، دېگەن ئويغا كەلتۈرگەن. ئەينى چاغدا باشقا بىئو چوڭ مولېكۇلار ئۈستىدىكى تەتقىقاتلاردا بۇنىڭغا ئوخشاپ كېتىدىغان تۈزۈلۈش ئالاھىدىلىكلىرى تېخى بايقالمىغان بولغاچقا، ئەينى چاغدا كۆپچىلىك ئالىملار ئاقسىلنى جانلىقلار تېنىدىكى ئىرسىيەت ماددىسى، دەپ قاراپ كەلگەنىدى.

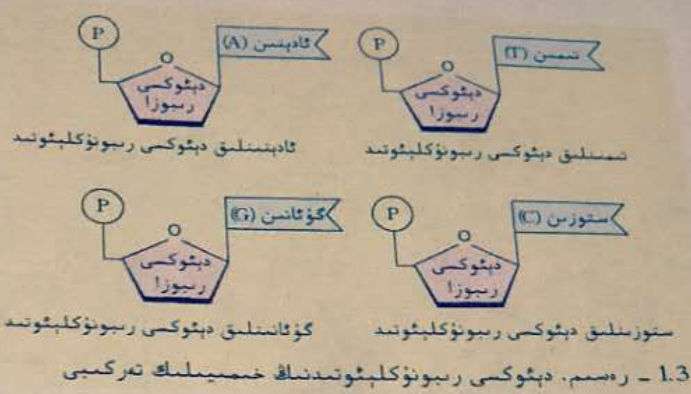
### بۇ پاراگرافنىڭ مۇھىم نۇقتىسى

- ئالىملار DNA نىڭ ئىرسىيەت ماددىسى ئىكەنلىكىنى قانداق ئىسپاتلىغان؟
- نېمە ئۈچۈن DNA نى ئاساسلىق ئىرسىيەت ماددا دەيمىز؟

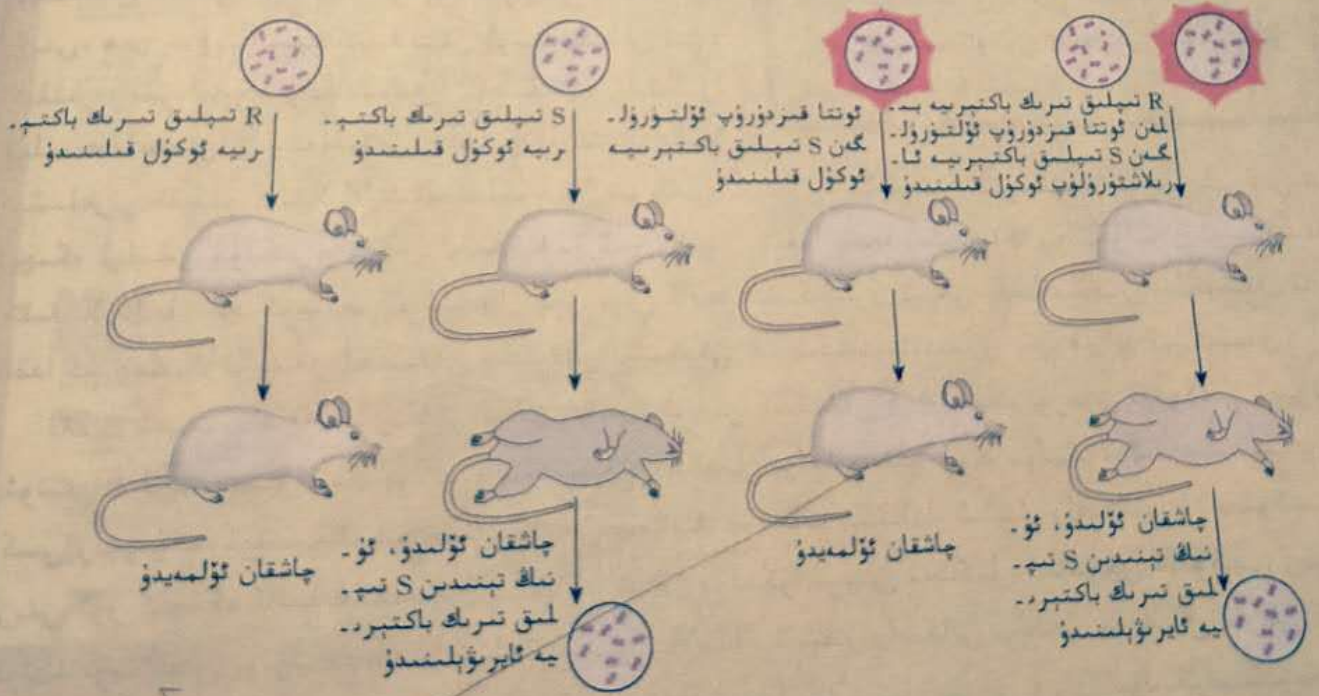
20 - ئەسىرنىڭ 30 - يىللىرىغا كەلگەندە ئاندىن كىشىلەر DNA نىڭ نۇرغۇن دېئوكسى رىبونۇكلىپوتىد (1.3 - رەسىم) نىڭ پولىمېرلىشىشىدىن ھاسىل بولغان بىئو چوڭ مولېكۇلا ئىكەنلىكىنى، دېئوكسى رىبونۇكلىپوتىدنىڭ خىمىيەلىك تەركىبىنىڭ فوسفات كىسلاتا، ئىشقار رادىكالى ۋە دېئوكسى رىبونۇكلىپوتىد تۆت خىل بولۇپ، ھەر بىر خىلدا بىردىن ئالاھىدە ئىشقار رادىكالى بولىدۇ. بۇ خىل قاراش كىشىلەرگە DNA نىڭ ئىنتايىن مۇھىملىقىنى ھېس قىلدۇرغان بولسىمۇ، بىراق DNA مولېكۇلىسىنىڭ تۈزۈلۈشىگە نىسبەتەن ئېنىقراق چۈشەنچە بولمىغاچقا، ئاقسىل ئىرسىيەت ماددىسى دېگەن قاراش يەنىلا ئاساسىي ئورۇننى ئىگىلەپ كەلگەن.

20 - ئەسىرنىڭ 30 - يىللىرىغا كەلگەندە ئاندىن كىشىلەر DNA نىڭ نۇرغۇن دېئوكسى رىبونۇكلىپوتىد (1.3 - رەسىم) نىڭ پولىمېرلىشىشىدىن ھاسىل بولغان بىئو چوڭ مولېكۇلا ئىكەنلىكىنى، دېئوكسى رىبونۇكلىپوتىدنىڭ خىمىيەلىك تەركىبىنىڭ فوسفات كىسلاتا، ئىشقار رادىكالى ۋە دېئوكسى رىبونۇكلىپوتىد تۆت خىل بولۇپ، ھەر بىر خىلدا بىردىن ئالاھىدە ئىشقار رادىكالى بولىدۇ. بۇ خىل قاراش كىشىلەرگە DNA نىڭ ئىنتايىن مۇھىملىقىنى ھېس قىلدۇرغان بولسىمۇ، بىراق DNA مولېكۇلىسىنىڭ تۈزۈلۈشىگە نىسبەتەن ئېنىقراق چۈشەنچە بولمىغاچقا، ئاقسىل ئىرسىيەت ماددىسى دېگەن قاراش يەنىلا ئاساسىي ئورۇننى ئىگىلەپ كەلگەن.

ئۆپكە ياللۇغى قوش شارچە باكتېرىيىسىنىڭ ئۆزگىرىشى ھەققىدىكى تەجرىبە ئىشەنچلىك تەجرىبە ئاساسلىرى ئارقىلىق ئاقسىل - ئىرسىيەت ماددىسى دېگەن قاراشقا ئەڭ ئاۋۋال جەڭ ئېلان قىلغۇچى ئامېرىكا ئالىمى ئاۋېرى (O.Avery, 1877 ~ 1955). ئۇنىڭ تەجرىبىسى يەنىلا ئەنگلىيە ئالىمى گرىففىس (F.Griffith, 1877 ~ 1941) نىڭ تەجرىبىسى ئاساسىدا ئېلىپ بېرىلغان.

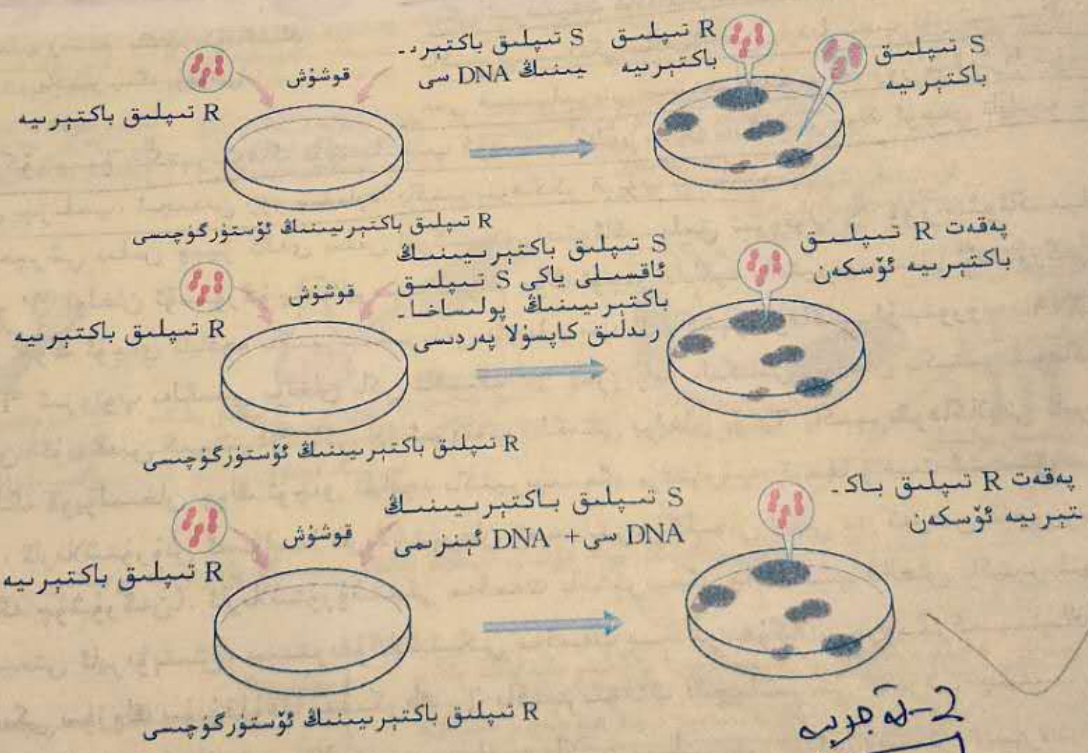


1928 - يىلى گرىففىس چاشقانى تەجرىبە ماتېرىيالى قىلىپ، ئۆپكە ياللۇغى قوش شارچە باكتېرىيىسى ئادەملەرنى ئۆپكە ياللۇغىغا قانداق گىرىپتار قىلىدىغانلىقى ھەققىدە تەتقىقات ئېلىپ بارغان. ئۇ ئالدى بىلەن ئىككى خىل ئوخشىمىغان تىپتىكى ئۆپكە ياللۇغى قوش شارچە باكتېرىيىسىنى چاشقانىغا يۇقتۇرغان. بىر خىل باكتېرىيىنىڭ باكتېرىيە تەنچىسى سىرتىدا پولىساخارىدلىق كاپسۇلا پەردىسى بولۇپ، ئۆستۈر-گۈچتە ھاسىل بولغان باكتېرىيە كولونىيىسىنىڭ سىرتى يۈزى پاراقراق (smooth) بولغىنىنى S تىپلىق باكتېرىيە دەپ ئاتىغان؛ يەنە بىر خىل باكتېرىيىنىڭ باكتېرىيە تەنچىسى سىرتىدا پولىساخارىدلىق كاپسۇلا پەردىسى بولمىغان، ئۆستۈر-گۈچتە ھاسىل بولغان باكتېرىيە كولونىيىسىنىڭ سىرتى يۈزى يىرىك (rough) بولغىنىنى R تىپلىق باكتېرىيە دەپ ئاتىغان. بۇ ئىككى خىل باكتېرىيە ئىچىدە، S تىپلىق باكتېرىيە زەھەرلىك بولۇپ، ئادەملەرنى ئۆپكە ياللۇغىغا گىرىپتار قىلىدۇ ياكى چاشقانى قان بۇزۇلۇش كېسىلىگە گىرىپتار قىلىدۇ؛ R تىپلىق باكتېرىيە زەھەرسىز بولۇپ، يۇقىرىقىدەك كېسەللىكلەرنى كەلتۈرۈپ چىقارمايدۇ. گرىففىسنىڭ تەجرىبە جەريانى 2.3 - رەسىمدە كۆرسىتىلگەندەك.



2.3 - رەسىم. ئۆپكە ياللۇغى قوش شارچە باكتېرىيىسىنىڭ ئۆزگىرىشى ھەققىدىكى تەجرىبە، گرىففىسنىڭ تەجرىبىسى.

گريفيس تۆتىنچى گۇرۇپپا تەجرىبىدىكى ئۆلۈك چاشقان تېنىدىن زەھەرلىك S تىپلىق تىرىك باكتېرىيەلەرنىڭ ئەۋلادلىرىمۇ ئوخشاشلا زەھەرلىك S تىپلىق باكتېرىيە بولىدۇ. بۇ زەھەرسىز R تىپلىق تىرىك باكتېرىيەلەرنىڭ ئەۋلادلىرىمۇ ئوخشاشلا زەھەرلىك S تىپلىق باكتېرىيە بولىدۇ. شۇنداقلا بۇ خىل بەلگىنىڭ ئۆزگىرىشى ئىرسىيەت بولۇپ قالدىغانلىقىنى بىلدۈرىدۇ. كۈچى فاككتور بار بولۇپ، بۇ خىل ئۆزگىرىشى ئىلگىرى سۈرگۈچى مەلۇم خىل ئاكتىپ ماددا «ئۆزگەردەھەرلىك S تىپلىق تىرىك باكتېرىيەگە ئۆزگەرتكۈچى فاككتور زەھەرسىز R تىپلىق تىرىك باكتېرىيەنى زەھەرلىك S تىپلىق تىرىك باكتېرىيەگە ئۆزگەرتكۈچى فاككتور زادى قانداق ماددا؟ بۇ ئۆزگەرتكۈچى فاككتورنى تېخىمۇ ئېنىقراق بىلدۈرۈش ۋە بېكىتىش ئېلىپ بارغان. ئۇلار ساپلاشتۇرغان DNA، ئاقسىل ۋە پولىساخارىد قاتارلىق ماددىلارنى قوشقاندا R تىپلىق باكتېرىيە ئۆستۈرۈلىدىغان ئۆستۈرگۈچكە قوشقان، نەتىجىدە، پەقەت DNA نى دەرىجىسى قانچە يۇقىرى بولسا، ئۆزگىرىشنىڭ شۇنچە ئۈنۈملۈك بولىدىغانلىقىنى؛ ئەگەر DNA ئېنېرمىسى ئارقىلىق S تىپلىق تىرىك باكتېرىيەدىن ئايرىۋېلىنغان DNA پارچىلانسا R تىپلىق باكتېرىيەدە ئۆزگەرتىش يۈز بەرمەيدىغانلىقى (3.3 - رەسىم) نى بايقىغان.



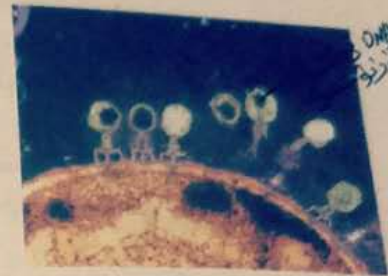
تەجرىبە نەتىجىسى ھەتتا ئاۋېرىنىڭ ئويلىمىغان يېرىدىن چىققان، بۇنىڭ بىلەن ئۇ: «DNA لا R تىپى - باكتېرىيەدە مۇقىم ئىرسىيەتلىك ئۆزگىرىش پەيدا قىلىدىغان ماددا» دېگەن ئەينى ۋاقىتتا كۆپ سادە ئالىملارنىڭ قارشىغا ئوخشىمايدىغان بىر خىل يەكۈننى ئوتتۇرىغا قويغان.

باكتېرىئوفاگانىڭ باكتېرىيىگە يۇقۇش تەجرىبىسى ئاۋېرىنىڭ تەجرىبىسى كىشىلەرنىڭ دىققىتىنى قوزغىغان بولسىمۇ، ئەمما ئۇ تەجرىبىدە ئايرىپ ئالغان DNA نىڭ سايلىق تەجرىبىسى ئەڭ يۇقىرى بولغاندىمۇ تەركىبىدە يەنىلا 0.02% ھاسىل بولىدىغانلىقى ئۈچۈن، بەزىلەر بۇ تەجرىبىنىڭ نەتىجىسىگە بەنئىلا گۇمانى قاراشتا بولغان.

1952 - يىلى خېرشى (A. Hershey, 1908 - 1997) بىلەن چېپېز (M. Chase, 1927 - 2003)  $T_2$  باكتېرىئوفاگ (باكتېرىيىدە ۋىرۇسى) (4.3 - رەسىم) نى تەجرىبە ماتېرىيالى قىلىپ، رادىئوئاكتىپلىق ئىزوتوپ ئارقىلىق بەلگە قويۇش يېڭى تېخنىكىسىدىن پايدىلىنىپ، تېخىمۇ قايىل قىلىش كۈچىگە ئىگە تەجرىبىدىن بىرنى تاماملايدۇ.

$T_2$  باكتېرىئوفاگ مەخسۇس چوڭ ئۈچەي تاياقچە باكتېرىيىسىدە پارازىت ياشايدىغان بىر خىل ۋىرۇس، ئۇنىڭ باش قىسمى بىلەن قۇيرۇق قىسمىنىڭ سىرتى ئاقسىلدىن تۈزۈلىدۇ. باش قىسمىدا DNA بولىدۇ.  $T_2$  باكتېرىئوفاگ چوڭ ئۈچەي تاياقچە باكتېرىيىسى (5.3 - رەسىم) گە يۇققاندىن كېيىن، ئۆز تېنىدىكى ئىرسىيەت ماددىلىرىنىڭ تەسىرىدە، چوڭ ئۈچەي تاياقچە باكتېرىيىسىدىكى ماددىلاردىن پايدىلىنىپ ئۆز تېنىنىڭ تەركىبى قىسىملىرىنى سىنتېزلايدۇ - دە، زور مىقداردا نۇسخىلىنىپ كۆپىيىدۇ.

4.3 - رەسىم.  $T_2$  باكتېرىئوفاگ



5.3 - رەسىم. باكتېرىئوفاگانىڭ باكتېرىيىگە يۇقۇشى

ئىككى كۆپىيىدۇ. باكتېرىئوفاگ نۇسخىلىنىپ كۆپىيىپ مەلۇم سانغا يەتكەندە، چوڭ ئۈچەي تاياقچە باكتېرىيىسى يېرىلىپ، ئىچىدىن زور مىقداردا باكتېرىئوفاگلار قويۇپ بېرىلىدۇ. خېرشى بىلەن چېپېز ئالدى بىلەن تەركىبىدە رادىئوئاكتىپلىق ئىزوتوپ  $^{35}\text{S}$  ۋە رادىئوئاكتىپلىق ئىزوتوپ  $^{32}\text{P}$  بولغان ئۆستۈرگۈچتە ئايرىم - ئايرىم چوڭ ئۈچەي تاياقچە باكتېرىيىسىنى ئۆستۈرگەن، ئاندىن يەنە بۇ چوڭ ئۈچەي تاياقچە باكتېرىيىلىرىدىن پايدىلىنىپ  $T_2$  باكتېرىئوفاگنى ئۆستۈرۈپ، DNA تەركىبىدە  $^{32}\text{P}$  ئىزوتوپ بەلگىسى بولغان ياكى ئاقسىلدا  $^{35}\text{S}$  ئىزوتوپ بەلگىسى بولغان باكتېرىئوفاگلارغا ئېرىشكەن. ئۇنىڭدىن كېيىن  $^{32}\text{P}$  ياكى  $^{35}\text{S}$  ئىزوتوپ بەلگىسى بولغان  $T_2$  باكتېرىئوفاگلارنى ئايرىم - ئايرىم بەلگە قويۇلمىغان چوڭ ئۈچەي تاياقچە باكتېرىيىسىگە يۇقتۇرۇپ، قىسقا ۋاقىت ئىسسىق ساقلىغاندىن كېيىن، ئارىلاشتۇرۇش ئەسۋابىدا ئارىلاشتۇرغان ۋە سېنتىرىفۇگلىغان (يەنى مەركەزدىن قاچۇرۇش ئارقىلىق چۆكمىگە چۈشۈرگەن). ئارىلاشتۇرۇشتىكى مەقسەت باكتېرىيىگە چاپلىشىپ قالغان باكتېرىئوفاگ بىلەن باكتېرىيىنى ئايرىۋېتىش، سېنتىرىفۇگلاشتىكى مەقسەت سېنتىرىفۇگلاش پروبىركىسىنىڭ ئۈستۈنكى قىسمىدىكى سۈزۈك سۇيۇقلۇققا يېنىكرەك  $T_2$  باكتېرىئوفاگ دانچىلىرىنى ئايرىپ چىقىپ، ئاستىدىكى چۆكمە ماددىلاردا يۇقۇملانغان چوڭ ئۈچەي تاياقچە باكتېرىيىلىرىنى قالدۇرۇشتىن ئىبارەت. سېنتىرىفۇگلىمىغاندىن كېيىن، سېنتىرىفۇگلاش پروبىركىسىنىڭ ئۈستۈنكى قىسمىدىكى سۈزۈك سۇيۇقلۇق بىلەن ئاساسىدىكى چۆكمە ماددا تەركىبىدىكى رادىئوئاكتىپلىق ماددىلارنى تەكشۈرگەندە:  $^{35}\text{S}$  ئارقىلىق بەلگە قىلىنغان بىر يۈرۈش يۇقۇملاندۇرۇش تەجرىبىسىدە، رادىئوئاكتىپلىق ئىزوتوپلارنىڭ ئاساسەن پروبىركىنىڭ ئۈستۈنكى قىسمىدىكى سۈزۈك سۇيۇقلۇققا تارقالغانلىقىنى؛  $^{32}\text{P}$  ئارقىلىق بەلگە قىلىنغان بىر يۈرۈش يۇقۇم

قۇملاندۇرۇش تەجرىبىسىدە، رادىئوئاكتىپلىق ئىزوتوپلارنىڭ ئاساسەن پروبىرىنىڭ ئاستىدىكى چۆكمە ماددىلارغا تارقىلىدىغانلىقىنى بايقىغان. ئويلاپ بېقىڭ، بۇ نەتىجە نېمىنى چۈشەندۈرىدۇ؟  
يەنىمۇ ئىلگىرىلەپ كۆزىتىش ئارقىلىق، باكتېرىيە يېرىلغاندا قويۇپ بېرىلگەن باكتېرىئوفاگىدس  $^{32}P$  ئارقىلىق بەلگە قىلىنغان DNA نى تەكشۈرۈپ چىققىلى بولىدىغانلىقىنى، ئەمما  $^{35}S$  ئارقىلىق بەلگە قىلىنغان ئاقسىلنى تەكشۈرۈپ چىققىلى بولمايدىغانلىقىنى بايقىغان. ئويلاپ بېقىڭ، بۇ نەتىجە يەنە نېمىنى چۈشەندۈرىدۇ؟

**ئالاقىدار ئۇچۇرلار**

$T_2$  باكتېرىئوفاگىنىڭ خىمىيەلىك تەركىبىنىڭ 60% ى ئاقسىل، 40% ى DNA بولىدۇ. بۇ ئىككى خىل ماددا ئۈستىدە ئېلىپ بېرىلغان ئانالىزلار: ئاقسىل مولېكۇلىسىنىڭ تەركىبىدە پەقەت گۇئىگۇرۇنلا بولىدىغانلىقىنى، فوسفورنىڭ ھەممىسى دېگۈدەكلا DNA مولېكۇلىسى تەركىبىدە بولىدىغانلىقىنى كۆرسىتىپ بەردى.

ئۈستۈنكى سۈزۈك سۈيۈۋە. لۇقنىڭ رادىئوئاكتىپلىقى ناھايىتى يۇقىرى

چۆكمە ماددىنىڭ رادىئوئاكتىپلىقى ناھايىتى تۆۋەن

باكتېرىيە يېرىلىدۇ

يېڭى ھاسىل بولغان باكتېرىئوفاگ تەركىبىدە  $^{32}S$  ئىزوتوپ يوق

سېنتىرىفۇگىلەندىڭدىن كېيىن

ئارىلاشتۇرۇش ئەسۋابىدا ئارىلاشتۇرغاندىن كېيىن سېنتىرىفۇگلاش

ئارىلاشتۇرۇش ئەسۋابىدا ئارىلاشتۇرۇپ، ئاندىن سېنتىرىفۇگلاپ، ئۈستۈنكى سۈزۈك سۈيۈقلۈك بىلەن چۆكمە ماددىدىكى رادىئوئاكتىپلىق ماددىلارنى تەكشۈرۈپ ئېسىقلاش

ئۈستۈنكى سۈزۈك سۈيۈۋە يۇقلۇقىنىڭ رادىئوئاكتىپلىقى ناھايىتى تۆۋەن

چۆكمە ماددىنىڭ رادىئوئاكتىپلىقى ناھايىتى يۇقىرى

باكتېرىيە يېرىلىدۇ

يېڭى ھاسىل بولغان باكتېرىئوفاگ تەركىبىدە  $^{32}P$  ئىزوتوپ بار

ئارىلاشتۇرۇش ئەسۋابىدا ئارىلاشتۇرغاندىن كېيىن سېنتىرىفۇگلاش

سېنتىرىفۇگىلەندىڭدىن كېيىن

$^{32}P$  ئىزوتوپ ئارقىلىق بەلگە قويۇلغان باكتېرىئوفاگنى باكتېرىيەگە قوشۇش

$^{32}P$  ئىزوتوپ ئارقىلىق بەلگە قويۇلغان باكتېرىئوفاگ

6.3 - رەسىم.  $T_2$  باكتېرىئوفاگنىڭ چوڭ ئۈچەي تايماچە باكتېرىيىسىگە يۇقۇش تەجرىبىسى

**3- تەجرىبە**

(خېرىشى بىلەن چېزىنىڭ) بۇ تەجرىبىسى: باكتېرىئوفاگ باكتېرىيەگە يۇققان ۋاقىتتا DNA نىڭ باكتېرىيە ھۈجەيرىسىگە بىرىدىغانلىقىنى، ئاقسىللىق سىرتقى پوستى بولسا سىرتتا قالدىغانلىقىنى، ئەۋلاد باكتېرىئوفاگلاردىكى ھەر خىل بەلگىلەر دادىنىڭ DNA سى ئارقىلىق ئىرسىيەت بولۇپ قالىدىغانلىقىنى چۈشەندۈرىدۇ. شۇڭا، DNA ھەقىقىي ئىرسىيەت ماددىسى بولىدىدۇ.

ئاقسىللىق تاشقى پوستى

يۇقىرىدىكى تەجرىبىدە نېمە ئۈچۈن  $^{35}S$  بىلەن  $^{32}P$  دىن ئىبارەت بۇ ئىككى خىل ئىزوتوپنى تاللاپ، ئايرىم - ئايرىم ئاقسىل بىلەن DNA غا بەلگە سېلىنىدۇ؟  $^{14}C$  بىلەن  $^{18}O$  ئىزوتوپلىرى ئارقىلىق بەلگە سېلىشقا بولامدۇ؟

مۇلاھىزە ۋە مۇھاكىمە



1. ئاۋېرى بىلەن خېرشى قاتارلىقلارنىڭ تەجرىبىسىدە تۇزۇلۇشى ئىنتايىن ئاددىي بولغان جانلىق — باكتېرىيە ياكى ۋىرۇس ئىشلىتىلگەن. باكتېرىيە ياكى ۋىرۇسنى تەجرىبە ماتېرىيالى قىلىشنىڭ قانداق ئارتۇقچىلىقى بار؟
2. گەرچە ئاۋېرى بىلەن خېرشى قاتارلىقلارنىڭ تەجرىبە ئۇسۇلى ئوخشىمىسىمۇ، ئەمما تەجرىبە لايىھىلەشتىكى ئوي - پىكىرىدە ئورتاقلىق بار. مۇلاھىزە قىلىپ بېقىڭ، ئۇلارنىڭ تەجرىبە لايىھىلەشتىكى ئەڭ ئاچقۇچلۇق نۇقتىسى نېمە؟
3. ئاۋېرى بىلەن خېرشى قاتارلىقلار ئايرىم - ئايرىم قايسى تېخنىكىلىق ۋاسىتىلەرنى قوللىنىش ئارقىلىق ئۆزلىرىنىڭ تەجرىبە لايىھىسىنى ئەمەلگە ئاشۇرغان؟ بۇ سىزنىڭ ئىلىم - پەن بىلەن تېخنىكىنىڭ مۇناسىۋىتىنى بىر لىۋېلىشىڭىزدا قانداق ئىلھام بولىدۇ؟

1928 - يىلىدىكى گرىففىننىڭ ئۆپكە ياللۇغى قوش شارچە باكتېرىيىسىنىڭ ئۆزگىرىشى ھەققىدىكى تەجرىبىسىدىن 1944 - يىلىدىكى ئاۋېرىنىڭ تەجرىبىسىگىچە، شۇنداقلا 1952 - يىلىدىكى خېرشى بىلەن چېپىزنىڭ باكتېرىئوفاگىنىڭ باكتېرىيىگە يۇقۇش تەجرىبىسىگىچە بولغان 24 يىل مابەينىدە، كىشىلەر ئاز دىن DNA نىڭ ئىرسىيەت ماددىسى ئىكەنلىكىگە ئىشىنىشكە باشلىدى.

DNA نىڭ ئىرسىيەت ماددىسى ئىكەنلىكىگە ئىشىنىشكە باشلىدى. RNA نىڭمۇ بارلىقىنى كېيىنكى تەتقىقاتلار، ئىرسىيەت ماددىسى DNA لا بولۇپ قالماستىن، پەقەت ئاقسىل بىلەن RNA بولىدۇ، مەسىلەن، تاماكا ئالاپوپۇرماق ۋىرۇسلىرىنىڭ تەركىبىدە DNA بولماستىن، پەقەت ئاقسىل بىلەن RNA بولىدۇ، مەسىلەن، تاماكا ئالاپوپۇرماق ۋىرۇسلىرى قاتارلىقلار. تاماكا ئالاپوپۇرماق ۋىرۇسىدىن ئايرىۋېلىنغان ئاقسىل تاماكىنى ۋىرۇس بىلەن يۇقۇملاندۇرمايدۇ، ئەمما بۇ ۋىرۇستىن ئايرىۋېلىنغان RNA تاماكىنى ۋىرۇس بىلەن يۇقۇملاندۇرىدۇ. شۇڭا، بۇ ۋىرۇستا RNA ئىرسىيەت ماددىسى ھېسابلىنىدۇ. كۆپ ساندىكى جانلىقلارنىڭ ئىرسىيەت ماددىسى DNA بولغاچقا، DNA نى ئاساسلىق ئىرسىيەت ماددىسى دەپمىز.

مەشىق



I قاساس سوئال

1. تۆۋەندىكى بايانلارنىڭ توغرا - خاتالىقىغا ھۆكۈم قىلىڭ.
  - (1) خروموسوم جانلىقلار تېنىدىكى ئىرسىيەت ماددىسى، DNA مۇ جانلىقلار تېنىدىكى ئىرسىيەت ماددىسى. (X)
  - (2) ھەقىقىي يادرولۇق جانلىقلار ھۈجەيرىسىدىكى ئىرسىيەت ماددىسى — DNA ، ۋىرۇسلاردىكى ئىرسىيەت ماددىسى — RNA ياكى DNA.
2. ھەقىقىي يادرولۇق جانلىقلاردا DNA (A) غا جايلاشقان.
  - A. ھۈجەيرە يادروسى
  - B. رېبوسوم
  - C. سىتوپلازما
  - D. ئاقسىل
3. خېرشى بىلەن چېپىزنىڭ ئىشلىگەن ئىشلىرى (D) نى كۆرسىتىپ بەردى.

خروموسوم بىلەن سىتوپلازما ھۈجەيرە يادروسىدا DNA



- A. ۋىرۇسقا DNA بولۇپ، ئاقسىلنىڭ بولمايدىغانلىقى
- B. باكتېرىيىدە DNA بولۇپ، ئاقسىلنىڭ بولمايدىغانلىقى
- C. ئىرسىيەت ماددىسى ئاقسىل بىلەن DNA نى ئۆز ئىچىگە ئالىدىغانلىقى
- D. ئىرسىيەت ماددىسىنىڭ DNA ئىكەنلىكى

II كېڭەيتىمە سوئال

1. T<sub>2</sub> باكتېرىئوفاگ چوڭ ئۈچەي تاياقچە باكتېرىيىسىگە يۇققاندا، پەقەت DNA سىلا باكتېرىيە ھۆججەتسىگە كىرىپ، ئاقسىللىق سىرتقى پوستى چوڭ ئۈچەي تاياقچە باكتېرىيىسىنىڭ سىرتىدا قېپىلىدۇ. ئەمما چوڭ ئۈچەي تاياقچە باكتېرىيىسى يېرىلغاندا، ئۇنىڭدىن قويۇپ بېرىلگەن ئەۋلاد باكتېرىئوفاگلار ئەسلىدىكى باكتېرىئوفاگقا ئوخشاش ئاقسىللىق سىرتقى پوستقا ئىگە بولىدۇ. بۇ ئەۋلاد باكتېرىئوفاگلاردىكى ئاقسىللىق سىرتقى پوستنىڭ كېلىش مەنبەسىنى تەھلىل قىلىڭ.
2. ئۆپكە ياللۇغى قوش شارچە باكتېرىيىسىنىڭ ئۆزگىرىشى ھەققىدىكى تەجرىبىنى باكتېرىئوفاگنىڭ باكتېرىيىگە يۇقۇش تەجرىبىسىگە بىرلەشتۈرۈپ، ئىرسىيەت ماددىسى بولغان DNA نىڭ ھازىرلىغان ئالاھىدىلىكلىرىنى تەھلىل قىلىڭ.

Handwritten notes in a rectangular box, likely a student's answer or a summary of the concepts discussed in the text above.

## 2 . § DNA مولېكۇلىسىنىڭ تۈزۈلۈشى



### مەسىلىلەر ئۈستىدە مۇھاكىمە

بېيجىڭ چوڭگۈنەن سۇن يۇقىرى پەن - تېخنىكا رايونى - نىدىكى مەيدانغا DNA نىڭ بىر ھەيكىلى تۇرغۇزۇلغان، ئۇ ئۆزىنىڭ ئىخچام ھەم ئۆزىگە خاس قوش بۇرمىلىق شەكلى بىلەن يولدىن ئۆتكەن كىشىلەرنى ئۆزىگە جەلپ قىلىپ تۇرىدۇ. ئۇنىڭ نېمە ئۈچۈن يۇقىرى پەن - تېخنىكىنىڭ بەلگىسى قىلىنغانلىقىنى بىلەمسىز؟

2003 - يىلى DNA مولېكۇلىسى قوش بۇرمىلىق تۈزۈلۈشىنىڭ بايقالغانلىقىغا 50 يىل بولدى. توردىن DNA غا ئائىت ئۇچۇرلارنى ئاخشۇرۇپ كۆرۈڭ ھەمدە ئۆزىڭىز قىزىقىدىغان ماتېرىياللارنى توپلاپ ساۋاقداشلىرىڭىز بىلەن پىكىر ئالماشتۇرۇڭ.

### بۇ پاراگرافنىڭ مۇھىم نۇقتىسى

- ۋاتسون بىلەن كرىك DNA مولېكۇلىسىنىڭ قوش بۇرمىلىق تۈزۈلۈشىنى قانداق بايقىغان؟
- DNA مولېكۇلىسى قوش بۇرمىلىق تۈزۈلۈشىنىڭ قانداق مۇھىم ئالاھىدىلىكلىرى بار؟

DNA نىڭ جانلىقلار تېنىدىكى ئىرسىيەت ماددىسى ئىكەنلىكى تەجرىبە ئارقىلىق ئىسپاتلانغاندىن كېيىن، كىشىلەر يەنە: DNA مولېكۇلىسى ئىرسىيەت ئۇچۇرلىرىنى قانداق ساقلايدۇ؟ جانلىقلارنىڭ بەلگىلەرنى قانداق بەلگىلەيدۇ؟ دېگەنگە ئوخشاش مەسىلىلەرنى تېخىمۇ چوڭقۇر بىلىپ باقماقچى بولدى. بۇ مەسىلىلەرگە جاۋاب بېرىش ئۈچۈن، ئاۋۋال DNA نىڭ تۈزۈلۈشىنى ئېنىق بىلىۋېلىشقا توغرا كېلىدۇ.

### DNA مولېكۇلىسىنىڭ قوش بۇرمىلىق تۈزۈلۈش مودېلىنى تۇرغۇزۇش

DNA مولېكۇلىسىنىڭ تۈزۈلۈشى ھەققىدىكى تەتقىقاتتا، 1953 - يىلىدىكى ئىككى نەپەر ياش ئالىم - ئامېرىكا بىئولوگىيە ئالىمى ۋاتسون (J.D. Watson, 1928 - ) بىلەن ئەنگىلىيە فىزىكا ئالىمى كرىك (F.Crick, 1916 ~ 2004) ئالدىنقى قاتاردا تۇرىدۇ. تۆۋەندىكى ماتېرىيالدا بۇ ئىككى نەپەر ئالىمنىڭ DNA مولېكۇلىسى قوش بۇرمىلىق مودېلىنى تۇرغۇزۇشى (ياساشى) ھەققىدىكى ھېكايە بايان قىلىنغان. بۇ ھېكايىنى ئوقۇپ، ئۇنىڭ سىزگە ئېلىپ كەلگەن ئىلھامىنى مۇلاھىزە قىلىپ بېقىڭ ھەمدە DNA مولېكۇلىسىنىڭ قوش بۇرمىلىق تۈزۈلۈش مودېلىنىڭ ئالاھىدىلىكىنى يىغىنچاقلاپ چىقىڭ.

1951 - يىلى ئەتىيازدا، ئەزەلدىن گېنىنىڭ سىرىغا چوڭقۇر ئىشتىياق باغلاپ كەلگەن ۋاتسون ئىتالىيىدە ئۆتكۈزۈلگەن بىئو چوڭ مولېكۇلانىڭ تۈزۈلۈشى ھەققىدىكى يىغىنغا قاتنىشىپ قالدۇ. يىغىندا، ئەنگلىيىنىڭ داڭلىق بىئولوگىيە، فىزىكا ئالىمى ۋىلكىنس (M. Willkins 1916 - 2004) (7.3 - رەسىم) دوكلات جەريانىدا DNA نىڭ X نۇرىدا دىفراكسىيەلەنگەن بىر پارچە پروپىيەكسىيە پلاستىنكىسىنى كۆرسىتىدۇ. بۇ ۋاتسوندا ئىنتايىن چوڭقۇر تەسىر قالدۇردى. شۇ يىلى كۈزدە، ۋاتسون ئەنگلىيىنىڭ كامبىرىج ئۇنىۋېرسىتېتىنىڭ كاۋىندش تەجرىبىخانىسىغا بېرىپ خىزمەت قىلىدۇ. بۇ يەردە ئۇ ئۆزىگە ئوخشاش DNA نىڭ تۈزۈلۈشىگە مەستانە بولغان كرىك بىلەن ئۇچرىشىپ قالىدۇ.




7.3 - رەسىم ۋىلكىنس

فىزىكا ئالىمى ئائىلىسىدە

دۇنياغا كەلگەن كرىك DNA نىڭ X نۇرىدا دىفراكسىيەلەنگەن بۇ رەسىمگە ئىنتايىن پىششىق بولۇپ، ۋاتسوننىڭ كرىستاللوگرافىيە پرىنسىپىنى چۈشىنىۋېلىشىغا ياردەم بېرىدۇ، ۋاتسونمۇ ئۇنىڭ بىئولوگىيەگە ئائىت مەزمۇنلارنى چۈشىنىۋېلىشىغا ياردەم بېرىدۇ. ئەينى



8.3 - رەسىم فرانكلين



9.3 - رەسىم DNA نىڭ X نۇرىدا دىفراكسىيەلەنگەن رەسىمى

ھارتاڭ

ۋاقىتتا، ئىلىم - پەن ساھەسىدە: DNA تۆت خىل دېئوكسى رىبونۇكلېئوتىدىنى بىرلىك قىلىپ تۈتەششتىن ھاسىل بولغان بىر ئۇزۇن زەنجىر، بۇ تۆت خىل دېئوكسى رىبونۇكلېئوتىد تەركىبىدە ئايرىم - ئايرىم **A، T، C، ۋە G** دىن ئىبارەت تۆت خىل ئىشقار رادىكالى بولىدۇ، دەپ قارىلىپ كەلگەن. ۋاتسون بىلەن كرىك ۋىلكىنس ۋە ئۇنىڭ خىزمەتدىشى فرانكلين (R. E. Franklin, 1920 - 1958) (8.3 - رەسىم) تەمىنلىگەن DNA نىڭ X نۇرىدا دىفراكسىيەلەنگەن رەسىمى (9.3 - رەسىم) دىكى مۇناسىۋەتلىك سانلىق مەلۇماتلارنى ئاساس قىلىپ، DNA مولېكۇلىسىنىڭ بۇرمىلىق تۈزۈلۈشىنى ھېسابلاپ چىقىدۇ.

ۋاتسون بىلەن كرىك مودېل تۇرغۇزۇش جەريانىدا، باشقىلارنىڭ قايسى تەجرىبىلىرى ۋە قايسى مۇۋەپپەقىيەتلىرىدىن پايدىلانغان؟

ۋاتسون بىلەن كرىك كۆپ خىل ئوخشىمىغان قوش بۇرمىلىق ۋە ئۈچ بۇرمىلىق تۈزۈلۈش مودېللىرىنى سىناپ ياساپ، بۇ مودېللارغا ئىشقار رادىكالىرىنى بۇرمىنىڭ سىرتقى قىسمىغا ئورۇنلاشتۇرىدۇ. بىراق بۇ مودېللار ناھايىتى تېزلا باشقىلار تەرىپىدىن ئىنكار قىلىنىدۇ. ئۇلار مەغلۇبىيەت ئالدىدا قىلچە بو-شىشىپ قالماي، فوسفات كىسلاتا - رىبوزا جازىسى بۇرمىنىڭ سىرتقى قىسمىغا ئورۇنلاشتۇرۇلغان، ئىشقار رادىكالىلىرى بۇرمىنىڭ ئىچكى قىسمىغا ئورۇنلاشتۇرۇلغان بىر قوش زەنجىرلىك بۇرمىلىق تۈزۈلۈش مودېلىنى قايتىدىن تۇرغۇزىدۇ (ياساپ چىقىدۇ). بۇ مودېلدا ئوخشاش ئىشقار رادىكالىلىرى جۈپ تۈزىدۇ، يەنى A بىلەن T، T بىلەن A جۈپ تۈزىدۇ. بىراق، بىر خىمىيە ئالىمى بۇ خىل جۈپ تۈزۈش شەكلىنىڭ خىمىيەلىك قانۇنىيەتكە ئۇيغۇن ئەمەسلىكىنى كۆرسىتىپ بېرىدۇ، شۇنىڭ بىلەن ئۇلار بۇ مودېلدىنمۇ ۋاز كېچىدۇ.

1952 - يىلى ئەتىيازدا، ئاۋستىرىيىلىك مەشھۇر بىئوخىمىيە ئالىمى چارگافى (E. Chargaff, 1905 - 2002) كامبىرىج ئۇنىۋېرسىتېتىنى زىيارەت قىلغىلى كەلگەندە، ۋاتسون بىلەن كرىك ئۇنىڭدىن: ئادېنسىن (A) نىڭ سانى

ھامان تېمىن (T) نىڭ سانى بىلەن ئوخشاش بولىدىغانلىقى؛ گۇئانىن (G) نىڭ سانى ھامان ستوزىن (C) نىڭ سانى بىلەن ئوخشاش بولىدىغانلىقى ھەققىدە مۇھىم بىر ئۇچۇرغا ئىگە بولىدۇ. شۇنىڭ بىلەن ئۇلار قايتا جانلىنىپ، ئىشقار رادىكالىرىنىڭ جۈپ تۈزۈش شەكلىنى ئۆزگەرتىپ، A بىلەن T جۈپ تۈزگەن، G بىلەن C جۈپ تۈزگەن يېڭى بىر DNA مودېلىنى تۇرغۇزىدۇ (ياساپ چىقىدۇ). نەتىجىدە ئۇلار: A-T ئىشقار رادىكالى جۈپلىرى بىلەن C-G ئىشقار رادىكالى جۈپلىرى شەكىل ۋە دىئامېتىر جەھەتتە ئوخشاش بولىدىغانلىقىنى، مۇشۇنىڭدىن تۈزۈلگەن DNA مولېكۇلىسىنىڭ مۇقىم دىئامېتىرىغا ئىگە بولىدىغانلىقىنى، يۇ ئارقىلىق A، T، C، G لارنىڭ سان جەھەتتىكى مۇناسىۋىتىنى چۈشىنىۋېلىشقا بولۇپلا قالماي، DNA نىڭ نۇسخىلىنىشىنىمۇ چۈشىنىش ئاسان بولىدىغانلىقىنى بايقايدۇ. ئۇلار مېتالى ماتېرىيال قىلىپ ياسىغان بۇ مودېلنى X نۇرىدا دىفراكسىيە لەنگەن رەسىم بىلەن سېلىشتۇرغاندا، ئىككىسىنىڭ پۈتۈنلەي ماس كېلىدىغانلىقىنى بايقايدۇ (10.3 - رەسىم).

ۋاتسون بىلەن كرىك مودېل تۇرغۇزۇش جەريانىدا، قانداق خاتالىقلار سادىر بولدى؟ ئۇلار بۇ خاتالىقلارغا قانداق مۇئامىلە قىلغان ۋە تۈزەتكەن؟



10.3 - رەسىم. ۋاتسون (سولدا) بىلەن كرىك (ئوڭدا) تۇرغۇزغان DNA مولېكۇلىسىنىڭ قوش يۈرۈملىك تۈزۈلۈش مودېلى

1953 - يىلى ۋاتسون بىلەن كرىك يازغان «يادرو كىسلاتانىڭ مولېكۇلا تۈزۈلۈشى - دېئوكسى رېبونوكلىپىتىك كىسلاتانىڭ بىر دانە تۈزۈلۈش مودېلى» دېگەن ماقالە ئەنگلىيىنىڭ «تەبىئەت» ژۇرنىلىدا ئېلان قىلىنىپ (مۇشۇ بابنىڭ بېشىدا كۆرسىتىلگەن ئىنگلىزچە ماقالە)، زور ئىنكاس قوزغاپتۇ. 1962 - يىلى ۋاتسون، كرىك ۋە ۋىلكىنس بىرلىكتە بۇ تەتقىقات نەتىجىسىگە ئاساسەن فىزىئولوگىيە ياكى مېدىتسىنا نوبېل مۇكاپاتىغا ئېرىشىدۇ.

مۇلاھىزە ۋە مۇھاكىمە



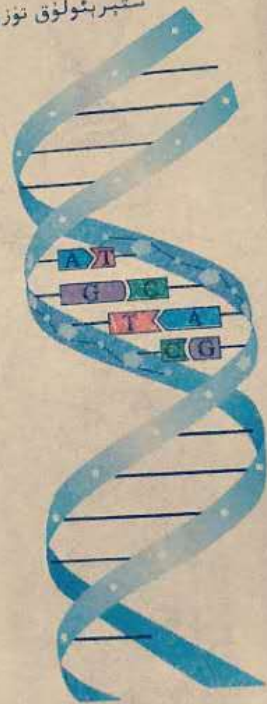
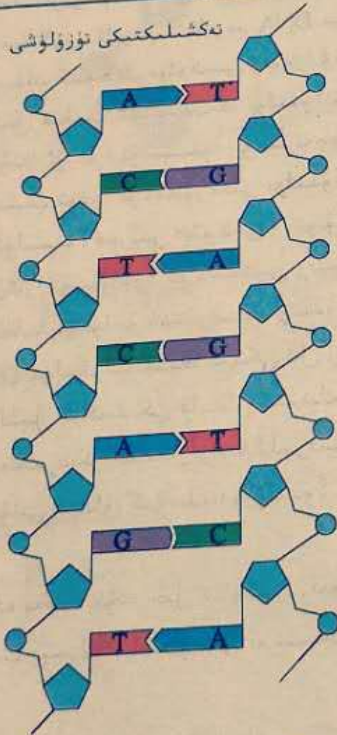
1. ماتېرىيالغا ئاساسەن DNA نىڭ تۈزۈلۈشىگە ئائىت مەسىلىلەرگە جاۋاب بېرىڭ.
  - (1) DNA قانچە تال زەنجىردىن تۈزۈلگەن؟ ئۇ قانداق ستېرېئولۇق تۈزۈلۈشكە ئىگە؟
  - (2) DNA نىڭ ئاساسلىق جازىسى قايسى ماددىلاردىن تۈزۈلگەن؟ ئۇلار ئايرىم - ئايرىم DNA نىڭ قايسى قىسمىغا ئورۇنلاشقان؟
  - (3) DNA دىكى ئىشقار رادىكالىرى قانداق جۈپ تۈزگەن؟ ئۇلار DNA نىڭ قايسى قىسمىغا ئورۇنلاشقان؟
2. يۇقىرىدىكى ماتېرىيال ئىلىم - پەننىڭ قايسى بىلىملىرى ۋە ئۇسۇللىرىغا چېتىلىدۇ؟ ئۇ سىزنىڭ بىئولوگىيە پېنىنىڭ تەرەققىياتىنى چۈشىنىۋېلىشىڭىزغا قانداق ئىلھام بولدى؟
3. ۋاتسون بىلەن كرىكنىڭ يوشۇرۇن ماسلىشىپ DNA نىڭ قوش يۈرۈملىك تۈزۈلۈشىنى بايقاش جەريانى، ئايمىقلارنىڭ ھەمكارلىشىپ تەتقىق قىلىشىدىكى بىر ئۈلگە بولۇپ، ئىلىم - پەن ساھەسىدە بىر قىزىق پاراڭ بولۇپ تارقالغان. ئۇلارنىڭ بۇ خىل خىزمەت ئۇسۇلى سىزگە قانداق ئىلھام بولدى؟

4000  
4000

DNA مولېكۇلىسىنىڭ تۈزۈلۈشى

DNA مولېكۇلىسى قوش بۇرماشلىق تۈزۈلۈشى (11.3 - رەسىم) نىڭ مۇھىم ئالاھىدىلىكى: پاراللېل بۇرماشمان يۆڭگىلىپ قوش بۇرماشلىق تۈزۈلۈشى ھاسىل قىلىنىدۇ. (2) DNA مولېكۇلىسىدىكى دېئوكسى رىبوزا بىلەن فوسفات كىسلاتا ئۆزئارا ئالمىشىپ تۇتىشىپ، سىرتقى يان تەرەپكە تىزىلىپ، ئاساسىي جازىنى تۈزىدۇ؛ ئىشقا رادىكاللىرى ئىچكى يان تەرەپكە تىزىلىدۇ. (3) ئىككى ئال زەنجىردىكى ئىشقا رادىكاللىرى ھىدروگېن بېغى ئارقىلىق تۇتىشىپ ئىشقا رادىكاللى جۈپلىرىنى ھاسىل قىلىدۇ ھەمدە بۇ ئىشقا رادىكاللىرى مۇئەييەن قانۇنىيەت بويىچە جۈپ تۈزىدۇ. يەنى: A (ئادېنىن) چوقۇم T (تىمىن) بىلەن جۈپ تۈزىدۇ؛ G (گۇئانىن) چوقۇم C (سىتوزىن) بىلەن جۈپ تۈزىدۇ. ئىشقا رادىكاللىرى ئارىسىدىكى بىر - بىرىگە ماس بولغان بۇ خىل مۇناسىۋەت، ئىشقا رادىكاللىرىنىڭ گۈزگارا تولۇقلاپ جۈپ تۈزۈش پىرىنسىپى دەپ ئاتىلىدۇ.

ستېرېئولۇق تۈزۈلۈشى

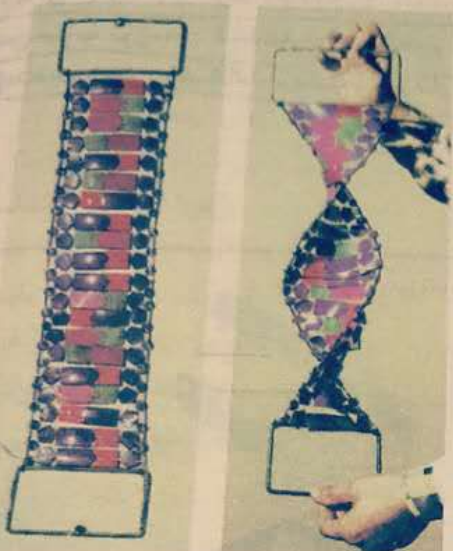


11.3 - رەسىم. DNA مولېكۇلىسىنىڭ تۈزۈلۈش مودېلى

$$\begin{array}{l}
 A_1 + \quad \quad \quad T_2 \\
 T_1 - \quad \quad \quad A_2 \\
 G_1 - \quad \quad \quad C_2 \\
 C_1 - \quad \quad \quad G_2
 \end{array}
 \quad
 \begin{array}{l}
 A_1 = T_2, A_2 = T_1, G_1 = C_2, C_1 = G_2 \\
 A_2 \neq T, G_2 \neq C
 \end{array}$$

DNA مولېكۇلىسىنىڭ قوش بۇرۇلمىلىق تۈزۈلۈش مودېلىنى ياساش

● مەقسەت ۋە تەلەپ  
DNA نىڭ قوش بۇرۇلمىلىق تۈزۈلۈش مودېلىنى ياساش ئارقىلىق، DNA مولېكۇلىسىنىڭ تۈزۈلۈش ئالاھىدىلىكىگە بولغان چۈشىنىش ۋە ئونۇشى تېخىمۇ چوڭقۇرلاشتۇرۇش.



● ماتېرىيال ۋە سايمانلار  
قەغەز قىسقۇچ، بۇلۇتسىمان سۇلياۋ، پارچە قەغەز، چىش كولىغۇچ، ماستىكا (كاۋچوك لاي) قاتارلىق نۇرمۇشتا دائىم ئىشلىتىلىدىغان بۇيۇملارنىڭ ھەممىسىنى مودېل ياساشتىكى ماتېرىيال قىلىشقا بولىدۇ.

● مودېل لايىھىسى  
مودېل ياساشتىن ئىلگىرى ئاۋۋال لايىھىنى تۈزۈۋېلىش ھەمدە تۆۋەندىكى مەسىلىلەرنى ئويلىشىش كېرەك.

1. قايسى ماتېرىياللارنى ئايرىم - ئايرىم DNA مولېكۇلىسىنى تۈزگۈچى فوسفات كىسلاتا، دېئوكسى رىبوزا ۋە ئىش-قار رادىكالىرىغا ۋەكىل قىلىپ ئىشلىتىشكە بولىدۇ؟ بۇ ئۈچ خىل ماددا قايسى ئورۇندا ئۆزئارا تۇتىشىدۇ؟ بۇ بىرنەچچە خىل ماتېرىيالنى قانداق قىلىپ توغرا تۇتاشتۇرغىلى بولىدۇ؟
2. DNA مولېكۇلىسىدا ھەر بىر دېئوكسى رىبونۇكلېئوتىد قايسى ئورۇندا ئۆزئارا تۇتىشىدۇ؟ بۇ دېئوكسى رىبونۇكلېئوتىدلارنى قانداق قىلغاندا توغرا تۇتاشتۇرغىلى بولىدۇ؟
3. مودېلدا، DNA مولېكۇلىسىنىڭ ئىككى تال زەنجىرى تەتۈر يۆنىلىشلىك پاراللېل ئىكەنلىكى قانداق گەۋدىلەندۈرۈلىدۇ؟ بۇ ئىككى تال زەنجىردىكى ئىشقار رادىكالىرىنىڭ ئۆزئارا تولۇقلاپ چۈپ تۈزۈشى قانداق گەۋدىلەندۈرۈلىدۇ؟

● مۇھاكىمە

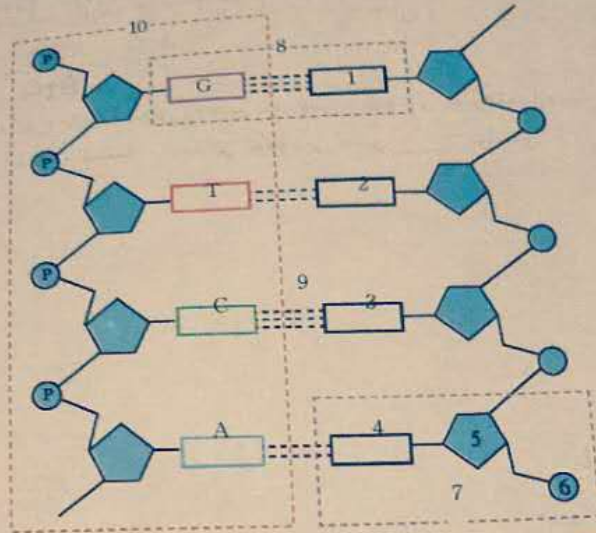
1. DNA تەركىبىدە پەقەت تۆت خىل دېئوكسى رىبونۇكلېئوتىد بار، ئۇلار قانداق قىلىپ يېتەرلىك مىقداردىكى ئىرسىيەت ئۈچۈر-لىرىنى ساقلىيالايدۇ؟
2. DNA مولېكۇلىسى قانداق قىلىپ ئۆزىنىڭ ئىرسىيەت مۇ-قىملىقىنى ساقلاپ تۇرالايدۇ؟
3. DNA مولېكۇلىسىنىڭ تۈزۈلۈش ئالاھىدىلىكىگە ئاساسەن، DNA مولېكۇلىسىنىڭ نۇسخىلىنىش شەكلىنى تەسەۋۋۇر قىلالامسىز؟

● مودېل ياساشتىن مىساللار



I ئاساس سوئال

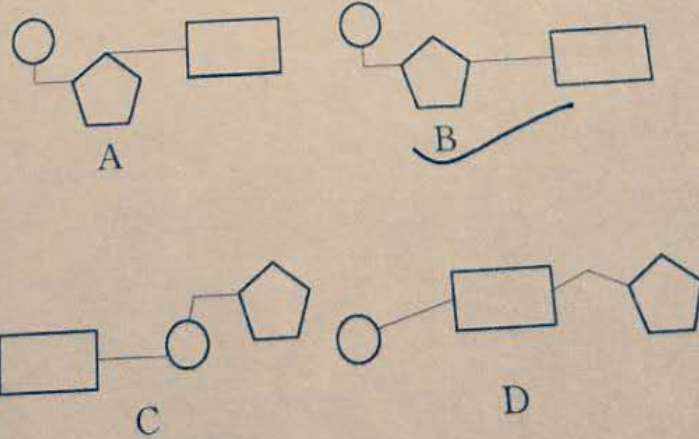
1. تۆۋەندىكىسى DNA مولېكۇلىسى تۈزۈلۈشىنىڭ مودېللىق رەسىمى. رەسىمدىكى 1 - 10 غىچە بولغان قىسىملار. ئىككى نامىنى يېزىپ چىقىڭ.



1. C 2. A 3. G 4. T 5. رېبوزا 6. فوسفات كىسلاتا

2. بىر دانە DNA مولېكۇلىسىدا 4000 ئىشقار رادىكالى جۈپى بار بولۇپ، ئۇلارنىڭ ئىچىدە 2200 دانىسى ستوزىن بۆلۈمىدە بولسا، بۇ DNA مولېكۇلىسىدا بولۇشقا تېگىشلىك دېئوكسى رېبونۇكلېئوتىدنىڭ سانى بىلەن ئادېنىننىڭ سانى ئايرىم-ئايرىم C دانە.

3. تۆۋەندىكى ھەرقايسى رەسىملەردىكى  $\square$   $\circ$   $\text{pentagon}$  شەكىللەر ئايرىم - ئايرىم فوسفات كىسلاتا، دېئوكسى رېبوزا ئىشقار رادىكالىرىغا ۋە كىلىك قىلىدۇ؛ دېئوكسى رېبونۇكلېئوتىدنىڭ مودېلىنى ياساش ۋاقتىدا، ھەرقايسى شەكىللەر ئۆزئارا تۇتاشتۇرۇشقا توغرا كېلىدۇ. تۆۋەندىكىلەردىن توغرا تۇتاشتۇرۇلغىنى:



جاۋابى: B

II كېڭەيتمە سوئال

ئىشقا رادىكاللىرىنىڭ ئۆزئارا تولۇقلاپ چۈپ تۈزۈش پرىنسىپىغا ئاساسەن، مۇناسىۋەتلىك ماتېماتىكىلىق فورمۇلانى كەلتۈرۈپ چىقىرالايمىز؟ كەلتۈرۈپ چىقارغاندىن كېيىن، بەشىمۇ ئىلگىرىلەپ بۇ فورمۇلانى خۇلاسەلەپ، ئۇنىڭدىن بەزى قانۇنىيەتلەرنى يىغىنچاقلاپ چىقىلىڭ.

$\therefore A=T \quad G=C$

$\therefore A+G = T+C$

$\therefore \frac{A+G}{A+G+T+C} = \frac{T+C}{A+G+T+C} = 50\%$

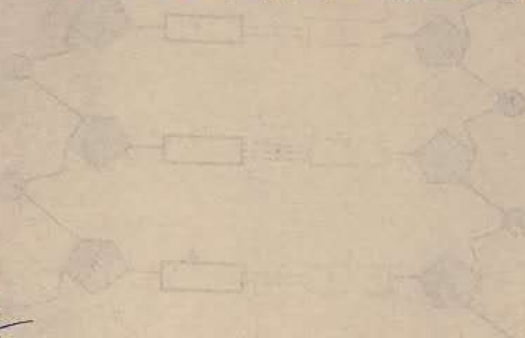
بۇنى تۆۋەندىكىدەك شەكىلدە يېزىپ چىقىشقا بولىدۇ:

$\frac{A+G}{T+C} = \frac{T+C}{A+G} = \frac{A+G}{T+C} \dots = 1$

$\frac{2+3+3+2}{2+3+3+2} = \frac{5}{5} = 1$

$\frac{2+3}{2+3+3+2} = \frac{5}{10} = \frac{1}{2}$

قانۇنىيەتنى يىغىنچاقلاش: DNA قوش زەنجىرىدە، بىر - بىرىنى تولۇقلىمايدىغان خالىغان ئىككى ئىشقا رادىكاللىرىنىڭ يىغىندىسى \_\_\_\_\_ ھەمدە ئىشقا رادىكاللى ئومۇمىي سانى \_\_\_\_\_ بولىدۇ.



$\frac{2}{2}$   
 $\frac{2}{4}$   
 $\frac{2}{8}$   
 $\frac{2}{16}$



تەبىئەتتە مۇھاسىمە



بىيجىڭ ئولىمپىك تەنھەرىكەت يىغىنىنىڭ بەلگىسى جۇڭگو ئولىمپىك تەنھەرىكەت يىغىنىنىڭ بەلگىسى بولۇپ، بۇنىڭدا سەنئەت شەكلى تەنھەرىكەت يىغىنىنىڭ بەلگىسى بولۇپ، ئالغا قاراپ بۆگۈرۈۋاتقان ۋە غەلبىسىنى ئۈستۈن ئويىنىپ تەنھەرىكەت قىلىۋاتقان ئادەمنىڭ شەكلى ئۈستۈن بىلەن سىزىپ چىقىپ قالغان. بۇ بەلگە كۆپەيتىلىپ ئىككى تامغا قىلىپ ئويۇلۇپ (ۋاقىت قىسى بولغاچقا، ئىككى ئادەم قول بىلەن ئويۇنغان)، بىرى خەلقئارا ئولىمپىك كومىتېتىغا ئەۋەتىلىپ، بىرى جۇڭگودا ساقلىنىدۇ. ئويۇلۇپ چىققاندا قانداق قىلغاندا بۇ ئىككى تامغىنى ئويۇنۇشقا قىلىپ ئويۇپ چىقىش قىلى بولىدۇ؟ ئويۇپ بولغاندىن كېيىن، بۇ ئىككى تامغىنىڭ ئوخشاشلىقى دەرىجىسىنى يەنە قانداق ئېنىقلىغىلى بولىدۇ؟

NIS N'14  
11

DNA مولېكۇلىسىنىڭ نۇسخىلىنىشى

ھەققىدىكى پەرەز

- ئالىملار DNA مولېكۇلىسىنىڭ نۇسخىلىنىشى ھەققىدە قايسى پەرەزنى ئوتتۇرىغا قويغان؟
- DNA مولېكۇلىسىنىڭ يېرىمىنى ساقلاپ نۇسخىلىنىشى قانداق ئىسپاتلانغان؟
- DNA مولېكۇلىسىنىڭ نۇسخىلىنىشى جەريانى قانداق بولىدۇ؟

ۋاتسون بىلەن كرىك ئېلان قىلغان DNA مولېكۇلىسىنىڭ قوش بۇرۇملىق تۈزۈلۈشىگە ئائىت مەشھۇر ماقالىسىنىڭ ئاخىرىغا مۇنداق دەپ يېزىلغان: «ئىشقا رادىكاللىرىنىڭ ئالاھىدە جۈپ تۈزۈشى ھەققىدىكى قاراش ئوتتۇرىغا قويۇلغاندىن كېيىن، بىز دەرھال ئىرسىيەت ماددىلىرىنىڭ نۇسخىلىنىشىدىكى بىر خىل ئېھتىماللىق مېخانىزمىنى ئوتتۇرىغا قويدۇق». سىز DNA مولېكۇلىسىنىڭ قوش بۇرۇملىق تۈزۈلۈشىدىن DNA نىڭ نۇسخىلىنىشى شەكلىنى پەرەز قىلالامسىز؟

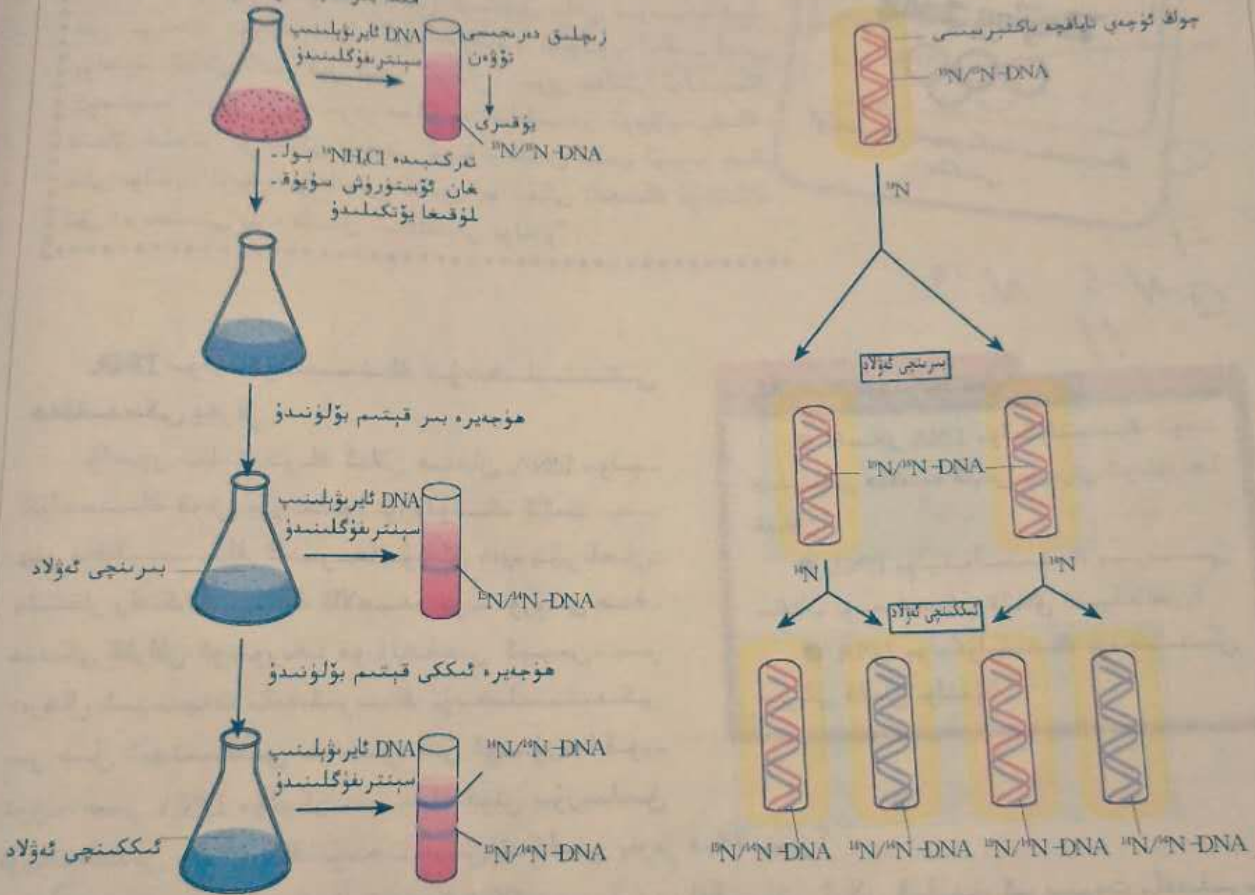
ۋاتسون بىلەن كرىك ئارقىدىنلا ئىككىنچى پارچە ماقالىسىنى ئېلان قىلىپ، ئىرسىيەت ماددىلىرىنىڭ ئۆز-ئۆزىنى نۇسخىلىشىغا ئائىت يەنە بىر پەرەزنى ئوتتۇرىغا قويدى: يەنى، DNA مولېكۇلىسى نۇسخىلىنىش ۋاقتىدا ئۇنىڭ قوش بۇرۇملىق تۈزۈلۈشى يېشىلىدۇ، ئۆزئارا تولۇقلانغان ئىشقا رادىكاللىرى ئارىسىدىكى ھىدروگېن بېغى ئۈزۈلىدۇ، يېشىلگەن ئىككى يەككە زەنجىر نۇسخىلىنىشنىڭ ئۈلگىسى قىلىنىدۇ، ئەركىن ھالەتتىكى دېئوكسى رىبونوكلىپئوتىدلا ئىشقا رادىكاللىرىنىڭ ئۆزئارا تولۇقلاپ چۈپ تۈزۈش پىرىنسىپى ئاساسىدا ھىدروگېن بېغى ھاسىل قىلىپ، ئۈلگە قىلىنغان يەككە زەنجىر ئۈستىگە توپىلىشىدۇ. يېڭى سىنتېزلانغان ھەر بىر DNA مولېكۇلىسىدا ئەسلىدىكى DNA مولېكۇلىسىنىڭ بىر تال زەنجىرى ساقلىنىپ قالىدىغان بولغاچقا، بۇ خىل نۇسخىلىنىش شەكلى يېرىمىنى ساقلاپ نۇسخىلىنىش

دەپ ئاتىلىدۇ.

**DNA نىڭ يېرىمىنى ساقلاپ نۇسخىلىنىشىدىكى تەجرىبە ئاساسى (تاللاپ ئۆگىنىلىدۇ)**  
 DNA مولېكۇلىسىنىڭ نۇسخىلىنىشىدا زادى يېرىمىنى ساقلاپ نۇسخىلىنمىدۇ ياكى ھەممىسى ساقلىنىپ نۇسخىلىنمىدۇ دېگەن بۇ مەسىلىنى تەھلىل قىلىشتا، يەنىلا ئەجدادلار بىلەن ئەۋلادلارنىڭ DNA سىنى پەرقلەندۈرۈشكە توغرا كېلىدۇ. بۇ ھەقتە ئالىملار 1958 - يىلى چوڭ ئۈچەي ئاياقچە باكتېرىيىسىنى تەجرىبە مائىرىيالى قىلىپ، ئىزوتوپ بىلەن ئىز قوغلاش ئېخنىكىسىنى قوللىنىپ، ئەپچىل بىر تەجرىبە (12.3 - رەسىم) لايىھىلەپ، DNA نىڭ ھەقىقەتەن يېرىمىنى ساقلاش شەكلىدە نۇسخىلىنىدىغانلىقىنى ئىسپاتلىغان.

چوڭ ئۈچەي ئاياقچە باكتېرىيىسى تەركىبىدە  $^{15}\text{NH}_4\text{Cl}$  بولغان ئۆستۈرۈش سۇيۇقلۇقىدا بىر قانچە ئەۋلاد ئۆستۈرۈلىدۇ

DNA يېرىمىنى ساقلاپ نۇسخىلىنىدۇ



12.3 - رەسىم. DNA نىڭ يېرىمىنى ساقلاپ نۇسخىلىنىشىنى ئىسپاتلاش تەجرىبىسى

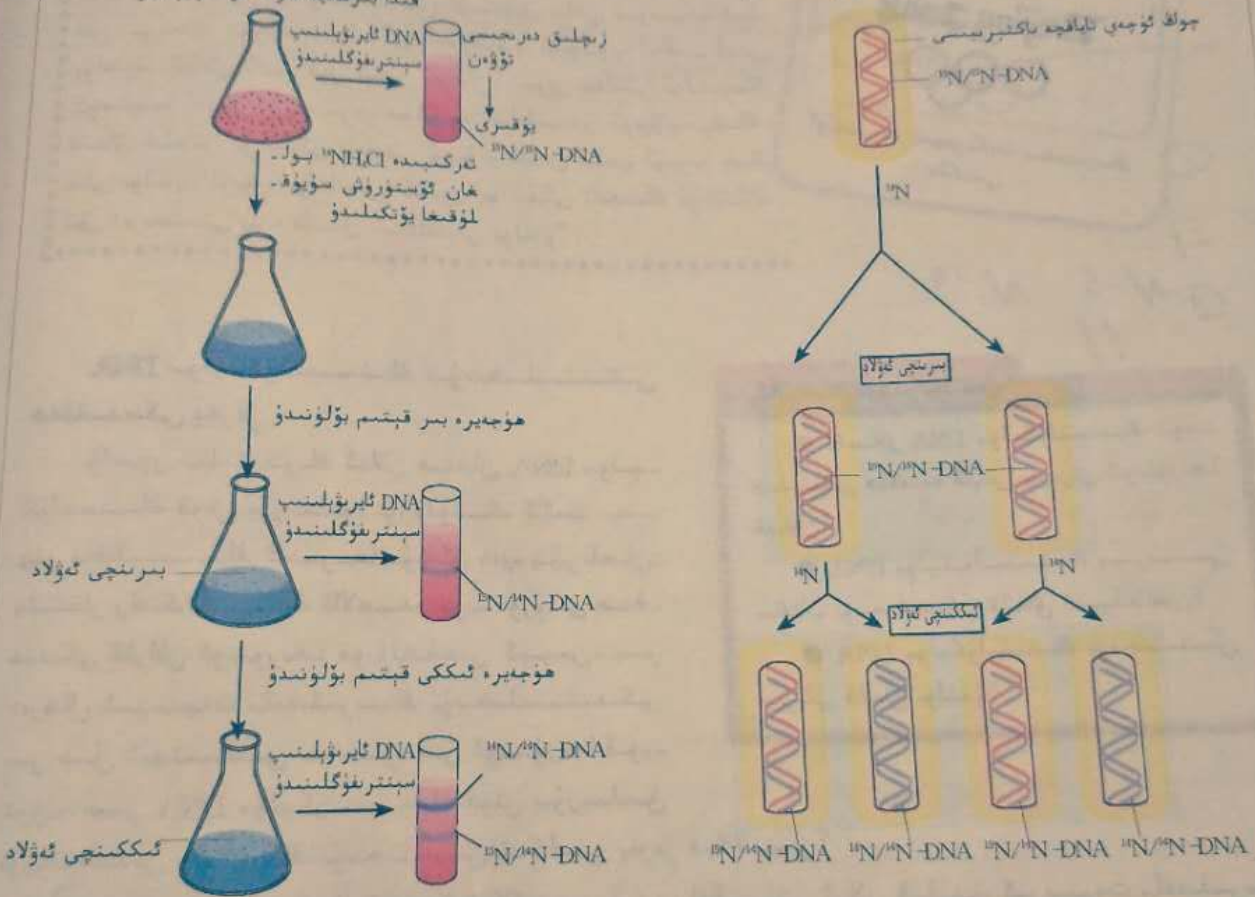
بۇنىڭدا ئالىملار ئالدى بىلەن تەركىبىدە  $^{15}\text{N}$  ئارقىلىق بەلگە قويۇلغان  $\text{NH}_4\text{Cl}$  ئۆستۈرۈش سۇيۇقلۇقىدا چوڭ ئۈچەي ئاياقچە باكتېرىيىسىنى ئۆستۈرۈپ ئۇنى بىر قانچە ئەۋلاد كۆپەيتىدۇ، ئاندىن بۇ چوڭ ئۈچەي ئاياقچە باكتېرىيىسىنى  $^{14}\text{N}$  لىك ئادەتتىكى ئۆستۈرۈش سۇيۇقلۇقىغا يۆتكەيدۇ. ئۇنىڭدىن كېيىن، ئوخشىمىغان ۋاقىتتا بۇ چوڭ ئۈچەي ئاياقچە باكتېرىيىسىنى يىغىۋېلىپ ئۇنىڭدىن DNA نى ئايرىۋالىدۇ، ئاندىن بۇ ئايرىۋېلىنغان DNA نىڭ زىچلىقى گرادىئېنتلىق سېنتىرىفۇگلىنىپ، سېنتىرىفۇگلىنىدىغاندىن كېيىن...

دەپ ئاتىلىدۇ.

DNA نىڭ يېرىمىنى ساقلاپ نۇسخىلىنىشىدىكى تەجرىبە ئاساسى (تاللاپ ئۆگىنىلىدۇ) DNA مولېكۇلىسىنىڭ نۇسخىلىنىشىدا زادى يېرىمىنى ساقلاپ نۇسخىلىنمىدۇ ياكى ھەممىسى ساقلىنىپ نۇسخىلىنمىدۇ دېگەن بۇ مەسىلىنى تەھلىل قىلىشتا، يەنىلا ئەجدادلار بىلەن ئەۋلادلارنىڭ DNA سىنى پەرقلەندۈرۈشكە توغرا كېلىدۇ. بۇ ھەقتە ئالىملار 1958 - يىلى چوڭ ئۈچەي تاياقچە باكتېرىيىسىنى تەجرىبە مائىرىيالى قىلىپ، ئىزوتوپ بىلەن ئىز قوغلاش ئېخنىكىسىنى قوللىنىپ، ئەپچىل بىر تەجرىبە (12.3 - رەسىم) لايىھىلەپ، DNA نىڭ ھەقىقەتەن يېرىمىنى ساقلاش شەكلىدە نۇسخىلىنىدىغانلىقىنى ئىسپاتلىغان.

چوڭ ئۈچەي تاياقچە باكتېرىيىسى تەركىبىدە  $^{15}\text{NH}_4\text{Cl}$  بولغان ئۆستۈرۈش سۇيۇقلۇقىدا بىر قانچە ئەۋلاد ئۆستۈرۈلىدۇ

DNA يېرىمىنى ساقلاپ نۇسخىلىنىدۇ



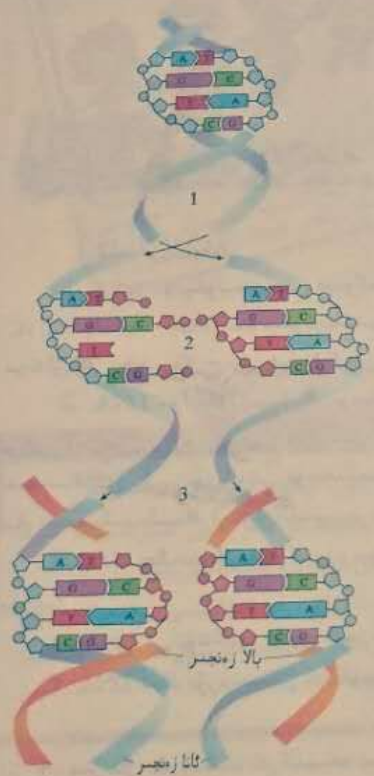
12.3 - رەسىم. DNA نىڭ يېرىمىنى ساقلاپ نۇسخىلىنىشىنى ئىسپاتلاش تەجرىبىسى

بۇنىڭدا ئالىملار ئالدى بىلەن تەركىبىدە  $^{15}\text{N}$  ئارقىلىق بەلگە قويۇلغان  $\text{NH}_4\text{Cl}$  ئۆستۈرۈش سۇيۇقلۇقىدا چوڭ ئۈچەي تاياقچە باكتېرىيىسىنى ئۆستۈرۈپ ئۇنى بىر قانچە ئەۋلاد كۆپەيتىدۇ، ئاندىن بۇ چوڭ ئۈچەي تاياقچە باكتېرىيىسىنى  $^{14}\text{N}$  لىك ئادەتتىكى ئۆستۈرۈش سۇيۇقلۇقىغا يۆتكەيدۇ. ئۇنىڭدىن كېيىن، ئوخشىمىغان ۋاقىتتا بۇ چوڭ ئۈچەي تاياقچە باكتېرىيىسىنى يىغىۋېلىپ ئۇنىڭدىن DNA نى ئايرىۋالىدۇ، ئاندىن بۇ ئايرىۋېلىنغان DNA نىڭ زىچلىقى گرادىئېنتلىق سېنتىرىفۇگلىنىپ، سېنتىرىفۇگلىنىدىغاندىن كېيىن...

يېرىم پروبىرىكىدىكى DNA نىڭ ئورنىنى خاتىرىلىۋالىدۇ.

ئەگەر DNA يېرىمىنى ساقلاش شەكلىدە نۇسخىلانغان بولسا، ئۇنداقتا سېنتىرىفۇگلىغاندىن كېيىن پروبىرىكىدا ئۈچ تال DNA بەلۋىغى كۆرۈنىدۇ؛ يەنى، بىر تال بەلۋاغ  $^{14}\text{N}$  ئارقىلىق بەلگە قويۇلغان ئەجداد قوش زەنجىرلىك DNA ( $^{14}\text{N}/^{14}\text{N}$ ) بىلەن ئىپادىلىنىدۇ، ئۇنىڭ زىچلىق دەرىجىسى ئەڭ يۇقىرى، ئۇ پروبىرىكىنىڭ ئاستى قىسمىغا ئەڭ يېقىن بولىدۇ؛ بىر تال بەلۋاغ بولسا پەقەت بىر تال DNA زەنجىرىدە  $^{15}\text{N}$  بەلگىسى بولغان ئەۋلاد قوش زەنجىرلىك DNA (بۇنىڭدا بىر تال زەنجىر  $^{15}\text{N}$ ، يەنە بىر تال زەنجىر  $^{14}\text{N}$  بولۇپ،  $^{15}\text{N}/^{14}\text{N}$  بىلەن ئىپادىلىنىدۇ)، ئۇنىڭ زىچلىق دەرىجىسى ئوتتۇراھال بولۇپ، ئورنىمۇ ئوتتۇرىدىراق بولىدۇ؛ يەنە بىر تال بەلۋاغ بولسا ئىككى تال DNA زەنجىرىدە  $^{14}\text{N}$  بەلگىسى بولمىغان ئەۋلاد قوش زەنجىرلىك DNA ( $^{14}\text{N}/^{14}\text{N}$ ) بىلەن ئىپادىلىنىدۇ، ئۇنىڭ زىچلىق دەرىجىسى ئەڭ تۆۋەن بولۇپ، پروبىرىكىنىڭ ئاستى قىسمىغا ئەڭ يىراق بولىدۇ. تەجرىبە نەتىجىسى مۆلچەردىكى بىلەن ئوخشاش بولۇپ، پروبىرىكىدا DNA نىڭ ئۈچ تال بەلۋىغى كۆرۈنگەن، بۇ DNA نىڭ نۇسخىلىنىشى يېرىمىنى ساقلاش شەكلىدە ئېلىپ بېرىلغانلىقىنى چۈشەندۈرۈپ بېرىدۇ.

بۇ تەجرىبىدە ئەجداد DNA مولېكۇلىسى بىلەن ئەۋلاد DNA مولېكۇلىسى قانداق پەرقلىنىدۇرۇلگەن؟



1. بۇرغىنىڭ يېشىلىشى
  2. ئانا زەنجىرىنى ئۈلگە قىلىپ ئىشقا رادىكال
  3. ئىككى دانە يېڭى DNA مولېكۇلىسىنىڭ شەكىللىنىشى
- 13.3 - رەسىم. DNA مولېكۇلىسىنىڭ نۇسخىلىنىشى

**DNA مولېكۇلىسىنىڭ نۇسخىلىنىش جەريانى**

DNA نىڭ نۇسخىلىنىشى دېگەننىمىز، ئەجداد DNA نى ئۈلگە قىلىپ ئەۋلاد DNA نى سىنتېزلاش جەريانىنى كۆرسىتىدۇ. بۇ جەريان ھۈجەيرە يىپىلىق بۆلۈنۈشىنىڭ ئارىلىق دەۋرى بىلەن بىرىنچى قېتىملىق سان كېمەيتىپ بۆلۈنۈشنىڭ ئارىلىق دەۋرىدە خروموسوملارنىڭ نۇسخىلىنىشىغا ئەگىشىپ تاماملىنىدۇ.

نۇسخىلىنىش باشلانغاندا، DNA مولېكۇلىسى ئالدى بىلەن ھۈجەيرە تەمىنلىگەن ئېنېرگىيىدىن پايدىلىنىپ، بۇرما يەشكۈچى ئېنېرگىيە تەسىرىدە، بۇرمىلاشقان ئىككى تال قوش زەنجىرىنى يېشىدۇ، بۇ جەريان بۇرمىلارنىڭ يېشىلىشى (13.3 - رەسىم) دەپ ئاتا تىلىدۇ. ئۇنىڭدىن كېيىن، يېشىلگەن ھەر بىر بۆلەك ئانا زەنجىر ئۈلگە قىلىنىپ، (DNA پولىمېرازىسى) قاتارلىق ئېنېرگىيە تەسىرىدە، ھۈجەيرىدىكى ئەركىن ھالەتتە يۈرگەن تۆت خىل دېئوكسى رىبونۇكلېئوتىدلارنى خام ماتېرىيال قىلىپ، ئىشقا رادىكاللىرىنىڭ بىر - بىرىنى تولۇقلاپ چۈپ تۈزۈش پرىنسىپى بويىچە، ھەرقايسى ئانا زەنجىر بىلەن ئۆز ئارا تولۇقلانغان بىر بۆلەك بالا زەنجىر سىنتېزلىنىدۇ. ئۈلگە زەنجىر بۇرمىلىرىنىڭ يېشىلىش جەريانىغا ئەگىشىپ، يېڭىدىن سىنتېزلانغان بۇ بالا زەنجىرلەرمۇ ئۈزلۈكسىز ئۆز ئارا باشلايدۇ. شۇنىڭ بىلەن بىللە، ھەر بىر تال يېڭى زەنجىر ئۆزىگە ماس كەلگەن ئۈلگە زەنجىرگە يۆگىشىپ قوش بۇرمىلىق تۈزۈلۈشكە ئايلاندۇ. شۇنداق قىلىپ، نۇسخىلىنىش تاماملانغاندىن كېيىن، بىر دانە DNA مولېكۇلىسى پۈتۈنلەي ئوخشاش بولغان ئىككى دانە DNA مولېكۇلىسىغا ئايلانىدۇ. يېڭىدىن نۇسخىلانغان ئىككى دانە DNA مولېكۇلىسى



لسى ھۆججەتلەرنىڭ بۆلۈنۈشى ئارقىلىق بالا ھۆججەتلەرگە تەقسىملىنىپ كىرىدۇ.

**DNA مولېكۇلىسىنىڭ نۇسخىلىنىشى** بىر تەرەپتىن بۇرما يېشىلىپ، بىر تەرەپتىن نۇسخىلىنىپ تۇرىدىغان جەريان بولۇپ، نۇسخىلىنىش ئۈلگە، خام ماتېرىيال، ئېنېرگىيە ۋە ئېنېزىم قاتارلىق ئاساسىي شەرتلەرنىڭ تولۇق بولۇشىغا مۇھىتاج. DNA مولېكۇلىسىنىڭ ئۆزىگە خاس قوش بۇرما نۇسخىلىنىشى نۇسخىلىنىشى ئېنىق ھەم توغرا بولغان ئۈلگە بىلەن تەمىنلەيدۇ، ئىشقا رادىكاللىرىنىڭ بىر - بىرىنى تولۇقلاپ چۈپ تۈزۈشى ئارقىلىق نۇسخىلىنىشنىڭ توغرا ئېلىپ بېرىلىشى كاپالەتكە ئىگە قىلىنىدۇ.

**DNA مولېكۇلىسىنى نۇسخىلىنىش ئارقىلىق ئىرسىيەت ئۆچۈرلىرىنى ئەجدادتىن ئەۋلادقا يەتكۈزۈپ بېرىپ، بۇ ئارقىلىق ئىرسىيەت ئۆچۈرلىرىنىڭ داۋاملىشىشىغا تەسەۋۋۇپ ساقلاپ قالىدۇ.**

### مەشىق

#### I ئاساس سوئال

1. DNA مولېكۇلىسىدىكى دېئوكسى رىبونۇكلېئوتىدلارنى تەشكىل قىلغۇچى ئىشقا رادىكاللى تۆت خىل (G, A, T, C) بولغاچقا، DNA مولېكۇلىسىنى تۈزگۈچى دېئوكسى رىبونۇكلېئوتىدلارمۇ تۆت خىل بولىدۇ. ئۇلارنىڭ نامى مۇنداق: **ئادىنېن، گۇانىن، سىتوزىن، ۋە ئوروتىن**.

2. DNA مولېكۇلىسىنىڭ نۇسخىلىنىش جەريانىدىن، DNA مولېكۇلىسىنىڭ نۇسخىلىنىشى ئۈچۈن **ئېنېرگىيە** نامىدا، **ئوروتىن، گۇانىن، سىتوزىن، ۋە ئادىنېن** قاتارلىق ئاساسىي شەرتلەرنىڭ زۆرۈر بولىدىغانلىقىنى كۆرۈۋېلىشقا بولىدۇ. DNA مولېكۇلىسىنىڭ نۇسخىلىنىشى ئېنىق ھەم توغرا بولغان ئۈلگە بىلەن تەمىنلەپ، ئىشقا رادىكاللىرىنىڭ بىر - بىرىنى تولۇقلاپ چۈپ تۈزۈشى ئارقىلىق نۇسخىلىنىشنىڭ توغرا ئېلىپ بېرىلىشى كاپالەتكە ئىگە قىلىنىدۇ.

3. يەككە ھالەتتىكى دېئوكسى رىبونۇكلېئوتىدلارنى تۇتاشتۇرۇپ DNA مولېكۇلىسىغا ئايلاندۇرىدىغان ئاساسلىق ئېنېزىم:

A. DNA نى تۇتاشتۇرغۇچى ئېنېزىم  
 B. DNA ئېنېزىمى  
 C. DNA نىڭ بۇرما نۇسخىلىنىش يەتكۈچى ئېنېزىم  
 D. DNA پولىمېرازىسى

جاۋابى: [C]

4. بىر تال خروماتىد تەركىبىدە بىر دانە قوش زەنجىرلىك DNA مولېكۇلىسى بار بولسا، ئۇنداقتا، تۆت بۆلەك تەنچە مەزگىلىدىكى بىر تال خروموسوم تەركىبىدە (A) بولىدۇ.

- A. تۆت دانە قوش زەنجىرلىك DNA مولېكۇلىسى
- B. ئىككى دانە قوش زەنجىرلىك DNA مولېكۇلىسى
- C. ئىككى دانە تاق زەنجىرلىك DNA مولېكۇلىسى
- D. بىر دانە قوش زەنجىرلىك DNA مولېكۇلىسى

#### II كېڭەيتىمە سوئال

DNA نۇسخىلىنىشتا ئىشقا رادىكاللىرىنىڭ بىر - بىرىنى تولۇقلاپ چۈپ تۈزۈشى ئارقىلىق نۇسخىلىنىشنىڭ توغرىلىقى ناھايىتى زور دەرىجىدە كاپالەتكە ئىگە قىلىنىدۇ، لېكىن، DNA نۇسخىلانغاندا يەنىلا  $10^{10}$  چىلىك خاتالىق پەرقى كۆرۈلىدۇ. مۇشۇ سانلىق مەلۇمات بويىچە ھېسابلىغاندا، تەخمىنەن 3 مىليارد 160 مىليون دانە ئىشقا رادىكاللى جۈپلىرىنىڭ ئىنسانلار گېن گۇرۇپپىسىنى نۇسخىلاش ۋاقتىدا قانچىلىك خاتالىق كۆرۈلۈشى مۇمكىن؟ بۇ خاتالىقلار قانداق تەسىر پەيدا قىلىشى مۇمكىن؟

لسى ھۆججەتلەرنىڭ بۆلۈنۈشى ئارقىلىق بالا ھۆججەتلەرگە تەقسىملىنىپ كىرىدۇ. **DNA** مولېكۇلىسىنىڭ نۇسخىلىنىشى بىر تەرەپتىن بۇرما يېشىلىپ، بىر تەرەپتىن نۇسخىلىنىپ تۇرىدىغان جەريان بولۇپ، نۇسخىلىنىش ئۈلگە، خام ماتېرىيال، ئېنېرگىيە ۋە ئېنېزىم قاتارلىق ئاساسىي شەرتلەرنىڭ تولۇق بولۇشىغا مۇھىتاج. **DNA** مولېكۇلىسىنىڭ ئۆزىگە خاس قوش بۇرما نۇسخىلىنىشى ئېنىق ھەم توغرا بولغان ئۈلگە بىلەن تەمىنلەيدۇ، ئىشقا رادىكاللىرىنىڭ بىر - بىرىنى تولۇقلاپ چۈپ تۈزۈشى ئارقىلىق نۇسخىلىنىشنىڭ توغرا ئېلىپ بېرىلىشى كاپالەتكە ئىگە قىلىنىدۇ. **DNA** مولېكۇلىسىنى نۇسخىلىنىش ئارقىلىق ئىرسىيەت ئۇچۇرلىرىنى ئەجدادتىن ئەۋلادقا يەتكۈزۈپ بېرىپ، بۇ ئارقىلىق ئىرسىيەت ئۇچۇرلىرىنىڭ داۋاملىشىشىغا تەمىنات بولۇپ قالىدۇ.

### مەشىق

#### I ئاساس سوئال

1. DNA مولېكۇلىسىدىكى دېئوكسى رىبونۇكلېئوتىدلارنى تەشكىل قىلغۇچى ئىشقا رادىكاللى تۆت خىل (G, A, T, C) بولغاچقا، DNA مولېكۇلىسىنى تۈزگۈچى دېئوكسى رىبونۇكلېئوتىدلارمۇ تۆت خىل بولىدۇ. ئۇلارنىڭ نامى مۇنداق: **گوانىن دېئوكسى رىبونۇكلېئوتى، ئادېنېن دېئوكسى رىبونۇكلېئوتى، تىمىن دېئوكسى رىبونۇكلېئوتى، سىتوزىن دېئوكسى رىبونۇكلېئوتى**

2. DNA مولېكۇلىسىنىڭ نۇسخىلىنىش جەريانىدىن، DNA مولېكۇلىسىنىڭ نۇسخىلىنىشى ئۈچۈن **ئېنېزىم** ۋە **ئېنېزىم** قاتارلىق ئاساسىي شەرتلەرنىڭ زۆرۈر بولىدىغانلىقىنى كۆرۈۋېلىشقا بولىدۇ. DNA مولېكۇلىسىنىڭ نۇسخىلىنىشى ئېنىق ھەم توغرا بولغان ئۈلگە بىلەن تەمىنلەپ، ئىشقا رادىكاللىرىنىڭ بىر - بىرىنى تولۇقلاپ چۈپ تۈزۈشى ئارقىلىق نۇسخىلىنىشنىڭ توغرا ئېلىپ بېرىلىشى كاپالەتكە ئىگە قىلىنىدۇ.

3. يەككە ھالەتتىكى دېئوكسى رىبونۇكلېئوتىدلارنى تۇتاشتۇرۇپ DNA مولېكۇلىسىغا ئايلاندۇرىدىغان ئاساسلىق ئېنېزىم:

A. DNA ئېنېزىمى

B. DNA نى تۇتاشتۇرغۇچى ئېنېزىم

C. DNA نىڭ بۇرما نۇسخىلىنىش ئېنېزىمى

D. DNA پولىمېرازىسى

جاۋابى: **C**

4. بىر تال خروماتىد تەركىبىدە بىر دانە قوش زەنجىرلىك DNA مولېكۇلىسى بار بولسا، ئۇنداقتا، تۆت بۆلەك تەنچە مەزگىلىدىكى بىر تال خروموسوم تەركىبىدە (A) بولىدۇ.

A. تۆت دانە قوش زەنجىرلىك DNA مولېكۇلىسى

B. ئىككى دانە قوش زەنجىرلىك DNA مولېكۇلىسى

C. ئىككى دانە تاق زەنجىرلىك DNA مولېكۇلىسى

D. بىر دانە قوش زەنجىرلىك DNA مولېكۇلىسى

#### II كېڭەيتىمە سوئال

DNA نۇسخىلىنىشتا ئىشقا رادىكاللىرىنىڭ بىر - بىرىنى تولۇقلاپ چۈپ تۈزۈشى ئارقىلىق نۇسخىلىنىشنىڭ توغرىلىقى ناھايىتى زور دەرىجىدە كاپالەتكە ئىگە قىلىنىدۇ، لېكىن، DNA نۇسخىلانغاندا يەنىلا  $10^{10}$  چىلىك خاتالىق پەرقى كۆرۈلىدۇ. مۇشۇ سانلىق مەلۇمات بويىچە ھېسابلىغاندا، تەخمىنەن 3 مىليارد 160 مىليون دانە ئىشقا رادىكاللى چۈپلىرىنىڭ ئىنسانلار گېن گۇرۇپپىسىنى نۇسخىلاش ۋاقتىدا قانچىلىك خاتالىق كۆرۈلۈشى مۇمكىن؟ بۇ خاتالىقلار قانداق تەسىر پەيدا قىلىشى مۇمكىن؟

## 4 §. گېن ئىرسىيەت تەسىرىگە ئىگە DNA پارچىسى

### ئىسلىكلەر ئۈستىدە مۇھاكىمە



بىر تال DNA بەككە زەنجىرىدىكى ئىشقا رادىكاللىرىنىڭ تىزىلىش شەۋالىغا ۋەكىللىك قىلىش ئۈچۈن، بۇ تۈن سىنىپتىكى ساۋاقداشلار بىر رەت بولۇپ تىزىلىدۇ، ئۇلارنىڭ ھەرىرى DNA زەنجىرىدىكى بىر ئىشقا رادىكاللىغا ۋەكىللىك قىلىدۇ دېسەك، ھەرىرى ئادەم G, C, T, A دىن ئىبارەت تۆت خىل ئىشقا رادىكاللى ئىچىدىن ئۆزى ۋەكىللىك قىلىدىغان ئىشقا رادىكاللىنى خالىغانچە تاللىسا، پۈتۈن سىنىپتىكى ساۋاقداشلار قانچە خىل تىزىلىش تەرتىپىنى بىرىكتۈرۈپ چىقالايدۇ؟

مورگان گېننىڭ خروموسومدا بولىدىغانلىقىنى ئېنىقلىغان، كېيىن خروموسومدا پەقەت DNA نىڭلا ئىرسىيەت ماددىسى ئىكەنلىكىنى ئىسپاتلىغان. ئۇنداقتا، گېن بىلەن DNA ئوخشاش بىر نەرسىمۇ؟ گېن بىلەن DNA نىڭ مۇناسىۋىتىنى چۈشەندۈرىدىغان ئەمەلىي مىساللار گېن بىلەن DNA نىڭ زادى قانداق مۇناسىۋىتى بار؟ تۆۋەندىكى ماتېرىيال سىزگە زور ئىلھام بېرىدۇ. تۆۋەندىكى ماتېرىيالنى ئوقۇڭ ۋە مۇھاكىمە قىلىڭ.

### بۇ بارلىقنىڭ مۇھىم نۇقتىسى

- گېن دېگەن نېمە؟
- DNA مولېكۇلىسى ئىرسىيەت ئىشقا رادىكاللىرىنى قانداق ئېلىپ يۈرىدۇ؟
- DNA مولېكۇلىسى نېمە ئۈچۈن كۆپلىگەن ئىرسىيەت ئىشقا رادىكاللىرىنى ئېلىپ يۈرەلەيدۇ؟

### ماتېرىيال ئۈستىدە تەھلىل

### ماتېرىيال ئۈستىدە تەھلىل

1. چوڭ ئۆچەي تاياقچە باكتېرىيىسىنىڭ ئىپتىدائىي ھۈجەيرە يادروسىدا بىر دانە DNA مولېكۇلىسى (A رەسىم) بولۇپ، ئۇنىڭ ئۇزۇنلۇقى تەخمىنەن 4 مىليون 700 مىڭ دانە ئىشقا رادىكاللى جۈپىنىڭ ئۇزۇنلۇقىغا توغرا كېلىدىكەن؛ بۇ DNA مولېكۇلىسىغا تەخمىنەن 4400 دانە گېن جايلاشقان بولۇپ، ھەرىرى گېننىڭ ئوتتۇرىچە ئۇزۇنلۇقى 1000 دانە ئىشقا رادىكاللى جۈپىنىڭ ئۇزۇنلۇقىغا توغرا كېلىدىكەن.

2. نىچ ئوكياننىڭ غەربىي شىمالىدا ياشايدىغان بىر خىل مېدۇزا يېشىل يالتىراق نۇر چىقىرىدىكەن (B رە. سىم). سەۋەبى بۇ مېدۇزىنىڭ DNA مولېكۇلىسىدا ئۇزۇنلۇق قى 5170 دانە ئىشقا رادىكالى جۈپىنىڭ ئۇزۇنلۇقىغا توغرا كېلىدىغان بىر پارچە - يېشىل يالتىراق نۇرلۇق ئاقسىللىق گېن بولىدىكەن. گېن يۆتكەش تەجرىبىسى، مېدۇزىنىڭ يېشىل يالتىراق نۇرلۇق ئاقسىللىق گېنى يۆتكەلگەن چاشقانغا ئۇلترا بىنەپشە نۇر چۈشۈرۈلسە، خۇددى مېدۇزىغا ئوخشاش يېشىل يالتىراق نۇر چىقىرىدىغانلىقىنى ئىسپاتلىغان (C رەسىم).



A رەسىم. بۇلۇنۇۋاتقان چوڭ ئۈچەي تاياق-چە باكتېرىيىسى ھۈجەيرىسىدىكى DNA مولېكۇلىسى قىزىل رەڭگە بويالغان



B رەسىم. يېشىل يالتىراق نۇر چىقىرىدىغان مېدۇزا

C رەسىم. ئادەتتىكى نۇر (سولدا) ۋە ئۇلترا بىنەپشە نۇر (ئوڭدا) چۈشۈرۈلگەن تۆت چاشقان بالىسى. بۇلارنىڭ ئىچىدىكى 3 - نومۇرلۇق چاشقان بالىسى سېلىشتۇرما گۈرۈپپا بولۇپ، 1، 2، ۋە 4 - نو-مۇرلۇق چاشقان بالىلىرىغا يېشىل يالتىراق نۇرلۇق گېن يۆتكەلگەن

3. ئىنسانلار گېن گۈرۈپپىسى بىلەن ئۆلچەپ ئېنىقلانغىنى 24 تال خروموسوم (22 تال دائىمىي خروموسوم + X+Y) دىكى DNA نىڭ ئىشقا رادىكالىرى تەرتىپى. بۇنىڭدىكى ھەربىر تال خروموسومدا بىر دانە DNA مولېكۇلىسى بولىدۇ. بۇ 24 دانە DNA مولېكۇلىسىدا تەخمىنەن 3 مىليارد 160 مىليون دانە ئىشقا رادىكالى جۈپى بولۇپ، بۇنىڭ ئىچىدە گېننى تۈزگۈچى ئىشقا رادىكالىرىنىڭ سانى ئومۇمىي ئىشقا رادىكالىرى سانى ئىچىدە ئىگىلەيدىغان نىسبىتى 2% تىن ئېشىپ كەتمەيدۇ.

4. نۇرغۇن كىشىلەر ئادەم ۋە ھايۋانلارنىڭ سېمىز - ئورۇقلۇقى ئىرسىيەتلىك بولىدۇ، دەپ قارايدۇ. يېقىنقى پەن تەتقىقاتتا، چاشقان تېنىدىكى HMGIC گېن سەمىرىپ كېتىشى بىلەن بىۋاسىتە مۇناسىۋەتلىك ئىكەنلىكى بايقالدى. تېنىدە HMGIC گېنى كەمچىل بولغان تەجرىبە چاشقىنىنى سېلىشتۇرما قىلىنغان چاشقان بىلەن بىللە يۇقىرى مائىلىق يېمەكلىكنى ئوخشاش مىقداردا بېرىپ باققاندا، مەلۇم ۋاقىتتىن كېيىن، سېلىشتۇرما گۈرۈپپىدىكى چاشقان ناھايىتى سەمىرىپ كەتكەن، ئەمما تېنىدە HMGIC گېنى كەمچىل چاشقانىنىڭ بەدەن ئېغىرلىقى يەنىلا نورمال ھال-تىنى ساقلاپ قالغان.

### مۇھاكىمە

1. جانلىقلار تېنىدىكى DNA مولېكۇلىسىنىڭ سانى بىلەن گېننىڭ سانى ئوخشاش بولامدۇ؟ جانلىقلار تېنىدىكى بارلىق گېنلار-دىكى ئىشقا رادىكالىرىنىڭ ئومۇمىي سانى DNA مولېكۇلىسىدىكى ئىشقا رادىكالىرىنىڭ ئومۇمىي سانى بىلەن ئوخشاش بولامدۇ؟ ئەگەر ئوخشىمىسا، بۇ نېمىنى چۈشەندۈرىدۇ؟
2. سىز گېننىڭ ئىرسىيەت تەسىرىگە ئىگە بولىدىغانلىقىنى قانداق چۈشىنىسىز؟
3. DNA سەۋەبىدە تۇرۇپ گېنغا بىر ئېنىقلىما بېرىڭ، تەلەپ ھەم گېن بىلەن DNA نىڭ مۇناسىۋىتىنى ئەكس ئەتتۈر-رەلەيدىغان، ھەم گېننىڭ رولىنى گەۋدىلەندۈرەلەيدىغان بولسۇن.





كۆرسەتمە: ئەگەر بىر دانە ئىشقار رادىكالى جۈپىدىن بىر دانە گېن تۈزۈلسە، تۆت خىل ئىشقار رادىكالى جۈ- پىنىك تىزىلىشىدىن تۆت خىل گېن ھاسىل بولۇشى مۇمكىن؛ ئەگەر ئىككى دانە ئىشقار رادىكالى جۈپىدىن بىر دانە گېن تۈزۈلسە، ئۇنداقتا 16 (4×4) خىل گېن ھاسىل بولۇشى مۇمكىن؛ ئەگەر ئۈچ دانە ئىشقار رادىكالى جۈ- پىدىن بىر دانە گېن تۈزۈلسە، ئۇنداقتا، 64 (4×4×4) خىل گېن ھاسىل بولۇشى مۇمكىن. ئەگەر تۆت دانە بىش دانە ياكى ئۈستىدىن كۆپ ئىشقار رادىكالى جۈپى بىر دانە گېننى تۈزۈسچۇ؟

مۇھىت: 2005 - يىلى 5 - ئايغىچە پۈتۈن يەر شارىدىكى ئومۇمىي نوپۇس 6 مىليارد 500 مىليونغا يې- قىنلاشقان. ئەگەر ئىنسانلار گېن گۇرۇپپىسىدىكى 1 - نومۇرلۇق خروموسومنىڭ بىرىنچى گېنى 17 دانە ئىشقار رادىكالى جۈپىنىڭ ئاسادىپىي تىزىلىشىدىن تۈزۈلگەن بولسا، ئۇنداقتا، 17 دانە ئىشقار رادىكالى جۈپىنىڭ ھەممە تىزىلىش تەرتىپىنىڭ كۆرۈلۈش پۇرسىتى بولامدۇ؟ بۇ گېنلاردىكى دېئوكسى رىبونۇكلېئوتىد تەرتىپىنىڭ پۈتۈنلەي ئوخشاش بولۇش ئېھتىماللىقى قانچىلىك؟ پارتىدىشىڭىز بىلەن سېلىشتۇرۇپ بېقىڭ.

كۆرسەتمە: مۇھىت 2 دىكى 2 - سوئال بىلەن ئوخشىشىپ كېتىدىغان ئەھۋال: بىر خالىغا قىزىل، قىز - غۇچ سېرىق، سېرىق، يېشىل، كۆك، كۆك ۋە سۆسۈن رەڭلىك يەتتە دانە شارچىنى سېلىپ، ئۇنىڭدىن خالىغان بىرنى ئالسىڭىز، ئۇنىڭ قىزىل شارچە بولۇش ئېھتىماللىقى 1/7 بولىدۇ.

● مۇھاكىمە

1. DNA مولېكۇلىسىنىڭ كۆپ خىللىقى ۋە خاسلىقىنى قانداق چۈشىنىسىز؟ DNA سەۋىيىسىدىن جانلىقلار تېپىنىشنىڭ كۆپ خىللىققا ۋە خاسلىققا ئىگە بولۇشىدىكى سەۋەبىنى تەھلىل قىلالامسىز؟
2. جىنايى ئىشلار رازۇڭدىكىچىلىقىدا، DNA مولېكۇلىسىدىن پايدىلىنىپ خۇددى بارماق ئىزىغا ئوخشاش ئادەملەرنىڭ سالاھىيىتىنى تەكشۈرگىلى بولىدۇ. سىز دېئوكسى رىبونۇكلېئوتىد تەرتىپىنىڭ كۆپ خىللىقى ۋە خاسلىقىغا بىرلەشتۈرۈپ، بۇ ئۇسۇلنىڭ ئىلمىي ئاساسىنى تەھلىل قىلالامسىز؟
3. يۇقىرىدىكى ئىزدىنىشلەر بارلىق ئىشقار رادىكال جۈپلىرىنىڭ ئاسادىپىي تىزىلىشى گېننى تۈزىدۇ، دېگەن پەرەز ئاساسىدا بارلىققا كەلگەن. ئەمەلىيەتتە، ئاسادىپىي تىزىلغان كۆپ قىسىم دېئوكسى رىبونۇكلېئوتىد تەرتىپى ئەزەلدىن جانلىقلار تېپىدە كۆرۈلمەيدۇ، ئەمما بەزى تەرتىپلەر جانلىقلار تېپىدە مىڭ قېتىم، ھەتتا نەچچە يۈز مىڭ قېتىم قايتىلىنىپ تۇرىدۇ. سىزنىڭچە گېن ئىشقار رادىكاللىرى جۈپلىرىنىڭ ئاسادىپىي تىزىلىشىدىن شەكىللەنگەن DNA پارچىسىمۇ؟ نېمە ئۈچۈن؟

تەتقىقاتلار DNA مولېكۇلىسىنىڭ يېتەرلىك ئىرسىيەت ئۇچۇرلىرىنى ساقلىيالايدىغانلىقىنى؛ ئىر- سىيەت ئۇچۇرلىرىنىڭ تۆت خىل ئىشقار رادىكاللىرىنىڭ تىزىلىش تەرتىپىدە ساقلىنىدىغانلىقىنى؛ ئىشقار رادىكاللىرى تىزىلىش تەرتىپىنىڭ خىلمۇخىل ئۆزگىرىشى بىلەن، DNA مولېكۇلىسىنىڭ كۆپ خىللىقى شەكىللىنىدىغانلىقىنى، ئىشقار رادىكاللىرىدىكى ئالاھىدە تىزىلىش تەرتىپى بىلەن ھەر بىر DNA مولې- كۇلىسىنىڭ خاسلىقى شەكىللىنىدىغانلىقىنى؛ DNA مولېكۇلىسىدىكى كۆپ خىللىق ۋە خاسلىق جان- لىقلارنىڭ كۆپ خىللىققا، خاسلىققا ئىگە بولۇشىدىكى ماددىي ئاساس ئىكەنلىكىنى كۆرسىتىپ بەردى. DNA مولېكۇلىسىغا نۇرغۇن گېنلار جايلاشقان بولغاچقا، گېن ئىرسىيەت تەسىرى بولغان DNA پارچىسىد-

دۇر.   
 DNA نىڭ تەرتىپى ماددىي   
 ھەر بىر تال خروموسومدا 2 تال DNA بولىدۇ.   
 2. گېن يەنە ئىرسىيەت ماددىسىنىڭ ئۆزۈم ئۆزۈمگە تەسىرىلىكى   
 ۱. گېن ئىرسىيەت تەسىرىگە ئىگە DNA نىڭ بىر پارچىسى ياكى بۆلىكى   
 ⑤ دېئوكسى رىبونۇكلېئوتىد   
 گېننىڭ مۇرەببىلىكى بولمايدۇ.   
 ھەر بىر گېننىڭ ئۆزىدە   
 ئۆزۈم ئۆزۈمگە تەسىرىلىك   
 بولىدۇ.   
 كۆپلىكى دېئوكسى رىبونۇكلېئوتىد   
 تەرتىپىنىڭ تەرتىپى ئىرسىيەت تەسىرىگە تەسىر قىلىدۇ.

## مەشىق

### I ئاساس سوئال

1. تۆۋەندىكى بايانلارنىڭ توغرا - خاتالىقىغا ھۆكۈم قىلىڭ.  
(1) ئىرسىيەت ئۇچۇرلىرى DNA دىكى ئىشقا رادىكاللىرىنىڭ تىزىلىش تەرتىپىنى كۆرسىتىدۇ. (X)  
(2) DNA بىلەن گېن ئوخشاش بىر ئۇقۇم. (X)
2. گېنغا ئائىت تۆۋەندىكى بايانلاردىن خاتاسى:  
A. نۇسخىلىنىشتا خاتالىق كۆرۈلمەيدۇ  
B. ئىرسىيەت ئۇچۇرلىرىنى ساقلىيالايدۇ  
C. تۆت خىل ئىشقا رادىكالى جۈپلىرىنىڭ تاسادىپى تىزىلىشى  
D. ئىرسىيەت تەسىرى بولغان دېئوكسى رىبونۇكلېئوتىد تەرتىپى

جاۋابى: [ C ]

3. DNA نىڭ نېمە ئۈچۈن ئىرسىيەت ماددىسى بولالايدىغانلىقىنى تەھلىل قىلىڭ.

### II كېڭەيتمە سوئال

- تۆۋەندىكىلەر DNA بىلەن گېننىڭ ئۆزئارا مۇناسىۋىتىگە ئائىت قاراشلار، سىز بۇ قاراشلارغا قوشۇلالمىسىز؟ سىز- نىچە DNA بىلەن گېننىڭ قانداق پەرقى ۋە باغلىنىشى بار؟
1. گېن DNA نىڭ پارچىسى بولغاچقا، گېن بىلەن DNA قىسمەن ۋە پۈتۈنلەي مۇناسىۋەتلىك بولىدۇ. (X)
  2. گېن DNA دا بولغاچقا، DNA گېننىڭ توپلانمىسى. (X)
  3. گېن بىلەن DNA نىڭ ھەر ئىككىلىسى ئىرسىيەت ماددىسى ئۇقۇمى بىلەن تەسۋىرلىنىدۇ. گېن ئىرسىيەت ماددىلىرىنىڭ فۇنكسىيەسىنى تەسۋىرلەشكە ئەھمىيەت بېرىدۇ. DNA دا بولسا ئاساسلىقى ئىرسىيەت ماددىلىرىنىڭ خىمىيەلىك تەركىبى ئەكس ئەتتۈرۈلىدۇ. تۈرلۈك مەنبەلىرى بۇنىڭدا مۇنداق مەزمۇنلەر بار: لوگىكۇدۇر.

## پەن تېخنىكا جەمئىيەت



### DNA ئىزى تېخنىكىسى

دۇنيادا بىر نۇخۇمدىن تۆرەلگەن قوشكېزەكلەردىن سىرت، بارماق ئىزى پۈتۈنلەي ئوخشايدىغان ئىككى ئادەم بولمىغاچقا، بارماق ئىزى ئارقىلىق ئادەمنىڭ سالاھىيىتىنى تەكشۈرۈپ ئېنىقلىغىلى بولىدۇ. ئۇنداقتا، DNA ئىزى تېخنىكىسى دېگەن نېمە؟ تەتقىقاتلار ھەربىر ئادەمنىڭ DNA سى پۈتۈنلەي ئوخشىشىپ كەتمەيدىغانلىقىنى، شۇڭا DNA ئارقىلىقىمۇ خۇددى بارماق ئىزىغا ئوخشاش ئادەمنىڭ سالاھىيىتىنى پەرقلەندۈرگىلى بولىدىغانلىقىنى كۆرسىتىپ بەردى، مانا بۇ خىل ئۇسۇل DNA ئىزى تېخنىكىسىدۇر.

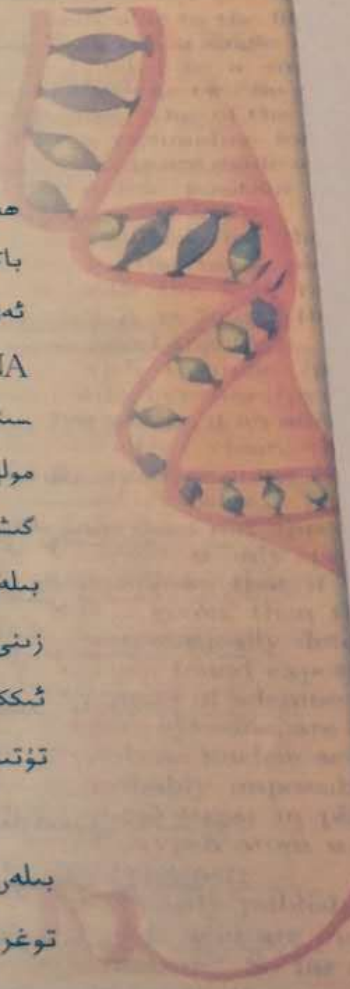
DNA ئىزى تېخنىكىسىنى قوللىنىشتا، ئالدى بىلەن مۇۋاپىق كېلىدىغان ئېنېزىم ئارقىلىق تەكشۈرۈپ ئېنىقلىماقچى بولغان DNA ئەۋرىشكىسىنى پارچىلىۋېلىشقا، ئاندىن ئېلېكتروفورېزلاش ئۇسۇلى ئارقىلىق بۇ پارچىلارنى چوڭ - كىچىكلىكى بويىچە ئايرىپ، بىر قاتار قەدەم باسقۇچلار ئارقىلىق ئەڭ ئاخىرىدا سول تەرەپ-



تىكى رەسىمدە كۆرسىتىلگەندەك DNA ئىزى رەسىمىنى ھاسىل قىلىشقا توغرا كېلىدۇ. چۈنكى، ھەر بىر ئادەمنىڭ DNA ئىزى رەسىمى بىرلا بولىدۇ، شۇڭا يازماق ئىزى رەسىمنىڭ ماس كېلىش دەرىجىسىنى تەھلىل قىلىش ئاساسىدا كىشىلەرنىڭ سالاھىيىتىنى بېكىتىشكە ياردەم بەرگىلى بولىدۇ.

ھازىرقى زامان رازۇپىدكىچىلىق ساھەسىدە، DNA ئىزى تېخنىكا كىشى بارغانسېرى ئۆزىنىڭ مۇھىم رولىنى جارى قىلدۇرماقتا. رازۇپىدكا خادىملىرى پەقەت بىر تامچە قان ۋە ئىسپىرما سۇيۇقلۇقى ياكى بىر تال چاچ قاتارلىق ئەۋرىشكىلەر بولسىلا، DNA ئىزى تېخنىكىسىنى قوللىنىپ ئېنىقلاپ چىقالايدۇ. سىز سول تەرەپتىكى DNA ئىزى رەسىمىدىن گۈ-مانلىق ئوبېيكتلار ئىچىدە قايسىسى جىنايەتچى ئىكەنلىكىگە ھۆكۈم قىلالامسىز؟ بۇلاردىن سىرت، DNA ئىزى تېخنىكىسى يەنە ئاتا - بالىلىق مۇناسىۋىتىنى ئېنىقلاش ۋە ئۆلگۈچىنىڭ قالدۇق سۆڭەكلىرىنى ئېنىقلاش قاتارلىقلاردا مۇ قوللىنىلىدۇ.

### بۇ بابتىن قىسقىچە خۇلاسە



1944 - يىلىدىكى ئاۋېرنىڭ ئۆپكە ياللۇغى قوش شارچە باكتېرىيىسىنىڭ ئۆزگىرىشى ھەققىدىكى تەجرىبىسى بىلەن 1952 - يىلىدىكى خېرشې بىلەن چېيزىنىڭ باكتېرىئىئوفاگىنىڭ باكتېرىيىگە يۇقۇش تەجرىبىسى؛ ئەجدادلارنىڭ ھەر خىل بەلگىلىرى DNA ئارقىلىق ئەۋلادلارغا ئىرسىيەت بولۇپ قالدىغانلىقىنى؛ ئىرسىيەت ماددىسى ئاقسىل بولماستىن بەلكى DNA ئىكەنلىكىنى كۆرسىتىپ بەردى. 1953 - يىلى ۋاتسون بىلەن كرىك DNA مولېكۇلىسىنىڭ قوش بۇرمىلىق تۈزۈلۈش مودېلىنى ئوتتۇرىغا قويدى، ئۇنىڭ ئالاھىدىلىكى: DNA مولېكۇلىسى ئىككى تال زەنجىردىن تەركىب تاپقان، بۇ ئىككى تال زەنجىر تەتۈر پاراللېل يۈز كىشىپ قوش بۇرمىلىق تۈزۈلۈشنى ھاسىل قىلىدۇ؛ DNA مولېكۇلىسىدىكى دېئوكسى رىبوزا بىلەن فوسفات كىسلاتا نۆۋەتلىشىپ تۇتىشىپ، سىرتقى يان تەرەپكە تىزىلىپ ئاساسى جا. زىنى تۈزىدۇ، ئىشقا رادىكاللىرى بولسا ئىچكى يان تەرەپكە تىزىلىدۇ؛ DNA مولېكۇلىسىنىڭ ئىككى تال زەنجىردىكى ئىشقا رادىكاللىرى ئۆزئارا تولۇقلاپ جۈپ تۈزۈش پىرىنسىپى بويىچە تۇتىشىپ ئىشقا رادىكالى جۈپلىرىنى ھاسىل قىلىدۇ.

DNA مولېكۇلىسىدىكى قوش بۇرمىلىق تۈزۈلۈش نۇسخىلىنىشى ئېنىق ھەم توغرا ئۆلگە بىلەن تەمىنلەيدۇ، ئىشقا رادىكاللىرىنىڭ ئۆزئارا تولۇقلاپ جۈپ تۈزۈشى نۇسخىلىنىشىنىڭ توغرىلىقىنى كاپالەتكە ئىگە قىلىدۇ، يېڭىدىن سىنتېزلانغان ھەر بىر دانە DNA مولېكۇلىسىدا

ئەملىدىكى DNA مولېكۇلىسىنىڭ بىر تال زەنجىرى ساقلىنىپ قالىدۇ. DNA مولېكۇلىسى نۇسخىلىنىش ئارقىلىق، ئىرسىيەت ئۆچۈرلىرىنى كېيىنكى ئەۋلادلارغا يەتكۈزۈپ بېرىدۇ. DNA مولېكۇلىسىنىڭ قوش بۇرۇلمىچ تۈزۈلۈشىنى تەھلىل قىلغاندا، DNA مولېكۇلىسىنى تۈزگۈچى ئىشقار رادىكالىرى پەقەت تۆت خىل بولسىمۇ، بىراق ئىشقار رادىكالى جۈپلىرىنىڭ تىزىلىش تەرتىپى خىلمۇخىل بولىدىغانلىقىنى كۆرۈۋېلىشقا بولىدۇ. ئىشقار رادىكالىرى تەرتىپىنىڭ كۆپ خىللىقى DNA مولېكۇلىسىنىڭ كۆپ خىللىقىنى كەلتۈرۈپ چىقىرىدۇ. شۇڭا، DNA مولېكۇلىسى كۆپلىگەن ئىرسىيەت ئۆچۈرلىرىنى ساقلىيالايدۇ.

DNA دىن ئىبارەت بۇ ماددىي تەنچە بىلەن مېندېل پەرز قىلغان «ئىرسىيەت فاكىتىرى» مورگان كۆرسىتىپ بەرگەن خروموسومدىكى كېنلار بىلەن ئۇچراشقاندا، كېندىن ئىبارەت بۇ ئابىتراكت ئۇقۇم مولېكۇلا سەۋىيىسىدە ماددىلارنى توشۇغۇچى تەنچىلەرنى تېم-پىشقا قۇلايلىق ئېلىپ كەلدى. يېقىنقى 100 نەچچە يىللىق ئىزدىنىش ئارقىلىق، كىشىلەر ئاخىر كېننىڭ خروموسومدا ئىكەنلىكىنى، كېن ئىرسىيەت تەسىرى بولغان DNA پارچىسى ئىكەنلىكىنى تونۇپ يەتتى.

بىئو چوڭ مولېكۇلىلارنى ساپلاشتۇرۇش، سېنتىزىفۇكلاش، X نۇرى ئارقىلىق دىفرا-سىيىلەش، رادىئوئاكتىپلىق ئىزوتوپ ئارقىلىق ئىز قوغلاش قاتارلىق تېخنىكىلار فىزىكىلىق ۋە خىمىيىلىك ئۇسۇللارنىڭ قوللىنىلىشى بىلەن زىچ بىرلەشتۈرۈلۈپ، ھاياتلىق پائالىيىتى-نىڭ جەريانى سىستېمىلىق تەكشۈرۈلگەچكە كىشىلەر ھاياتلىقنى تامامەن يېڭى بولغان مو-لېكۇلا نۇقتىسىدىن چۈشەنەلەيدۇ.

بۇ باپتا، مۇھىم يەكۈنلەر بىلەن بىللە كۆرسىتىلگەن ئەڭ دەسلەپتە ئېرىشكەن بۇ يەكۈنلەرنىڭ ئىلمىي تەجرىبىسى بولۇپ، بۇ ئۆگەنگەن ۋاقىتىمىزدا پەننىي بىلىملەرنىڭ بىۋاسىتە كېلىش مەنبەسى كىتاب يولماشنى، بەلكى تەجرىبە ئىكەنلىكىنى سەمىمىزگە سا-لىدۇ، شۇنداقلا ئىلمىي تەتقىقاتتا ناھايىتى ئېھتىياتچان بولۇشىمىزنى ۋە ئۇنىڭ ئىنتايىن سىزلىق بولىدىغانلىقىنى چۈشەندۈرىدۇ. ئەمما ۋاتسون بىلەن كرىكىنىڭ يوشۇرۇن ھەمكار-لىشىپ DNA نىڭ قوش بۇرۇلمىچ تۈزۈلۈشىنى بايقاش جەريانى بىزگە ھەمكارلىشىش ۋە پىكىر ئالماشتۇرۇشنىڭ ئىنتايىن مۇھىم ئىكەنلىكىنى تونۇتتى.

تور ئادرېسى

<http://www.ornl.gov/hgmis/>

<http://www.dnafb.org/dnafb/>

<http://www.pbs.org/wgbh/aso/tryit/dma/>

<http://www.pep.com.cn/gzsw/>

## ئۆز - ئۆزىنى سىناش

### I ئۇقۇم ھەققىدە سىناش ھۆكۈم قىلىش

1. DNA — ئىرسىيەت ماددىسى، ئىرسىيەت ماددىسى — DNA (RNA) نىڭ نۇسخىلىنىشى ئىشقا رادىكاللىرىنىڭ ئۆزئارا ئولۇقلاپ چۈپ تۈزۈش پىرىنسىپىغا بويسۇنىدۇ. يېڭىدىن سىنتېزىلانغان ئىككى تال بالا زەنجىرى يېڭى DNA قوش زەنجىرىنى ھاسىل قىلىدۇ.
2. DNA نىڭ نۇسخىلىنىشىمۇ مۇشۇ مەزگىلدە ئاممىلىنىدۇ.
3. ھۆججەت يېپىلق بۇلغۇنۇشنىڭ ئوتتۇرا دەۋرىدە، ھەر بىر تال خروموسوم ئىككى تال خروماتىدىن تۈزۈلىدۇ، شۇنداقلا DNA گېن DNA مولېكۇلىسى ئېلىپ يۈرگەن ئىرسىيەت ئۇچۇرىدۇر.

(X)  
(X)

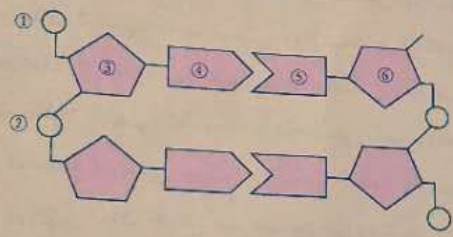
### توغرا جاۋابنى تاللاڭ

گېن (A) نى كۆرسىتىدۇ:

- A. ئىرسىيەت تەسىرى بولغان دېئوكسى رىبونۇكلېئوتىد تەرتىپى
- B. دېئوكسى رىبونۇكلېئوتىد تەرتىپى
- C. ئامىنو كىسلاتا تەرتىپى
- D. رىبونۇكلېئوتىد تەرتىپى

### رەسىمگە قاراپ جاۋاب بېرىڭ

نۆۋەتتىكى DNA مولېكۇلىسىنىڭ قىسمەن تۈزۈلۈش رەسىمى بولۇپ، رەسىمگە ئاساسەن جاۋاب بېرىڭ.



1. رەسىمدە 2 خىل ئىشقا رادىكالى بار، 3 دانە مۇكەممەل دېئوكسى رىبونۇكلېئوتىد بىرلىكى بار، 2 دانە ئەركىن فوسفات كىسلاتا رادىكالى بار.
2. ئاساسىي زەنجىردىن قارىغاندا، ئىككى تال يەككە زەنجىرنىڭ بۆلۈنىشى تەرتىپى: ئىشقا رادىكاللىرىنىڭ مۇناسىۋىتىدىن قارىغاندا، ئىككى تال يەككە زەنجىر بۆلۈنىدۇ.

3. رەسىمدىكى ① بىلەن ② فوسفات، ③ دېئوكسى رادىكالى، ④ بىلەن ⑤ ئىشقا رادىكالى، ⑥ دېئوكسى رىبونۇكلېئوتىد بىرلىكى.

### II بىلىمنى نامايان قىلىش

باكتېرىئوفاگىنىڭ باكتېرىيىگە يۇقۇش تەجرىبىسىدە، باكتېرىئوفاگ سىرتقى پوست ئاقسىلىنىڭ سىنتېزلىنىشىغا ئائىت نۆۋەتتىكى بايانلاردىن توغرىسى:

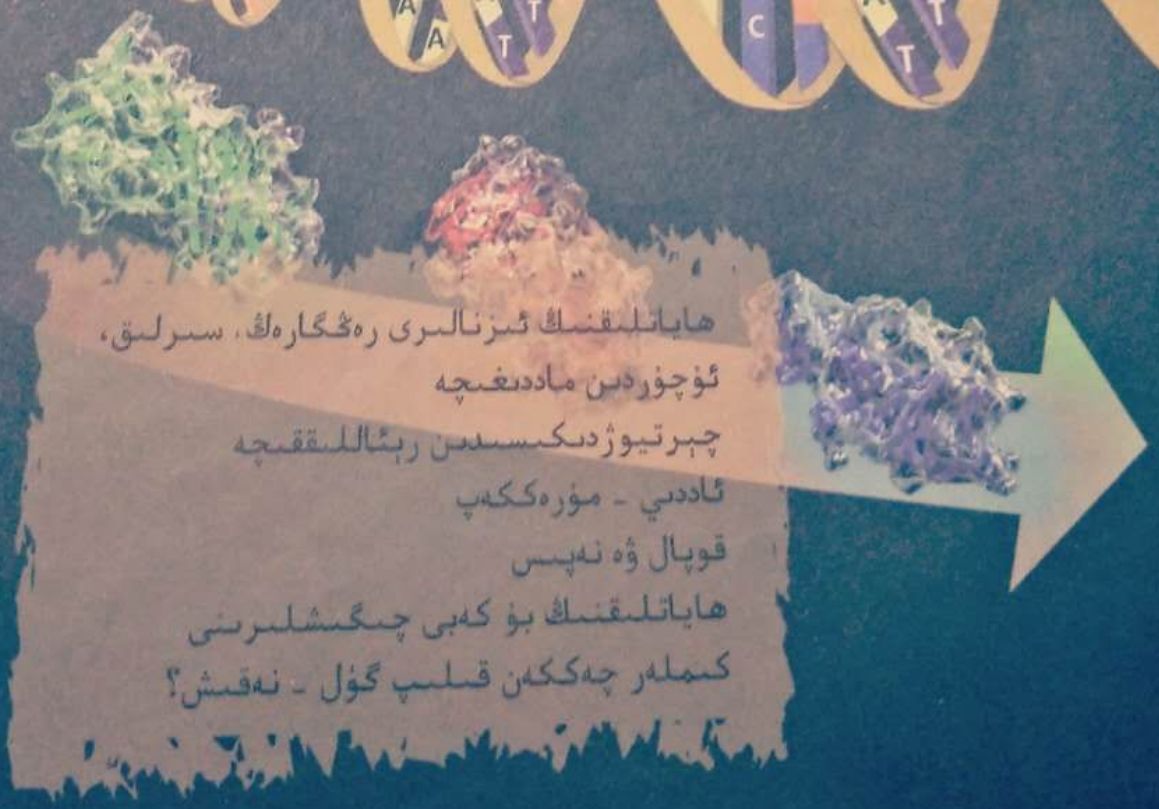
- A. خام ئەشيا بولغان ئامىنو كىسلاتا بىلەن ئېنزىم باكتېرىيىدىن كېلىدۇ
- B. خام ئەشيا بولغان ئامىنو كىسلاتا بىلەن ئېنزىم باكتېرىئوفاگدىن كېلىدۇ
- C. خام ئەشيا بولغان ئامىنو كىسلاتا باكتېرىيىدىن، ئېنزىم باكتېرىئوفاگدىن كېلىدۇ
- D. خام ئەشيا بولغان ئامىنو كىسلاتا باكتېرىئوفاگدىن، ئېنزىم باكتېرىيىدىن كېلىدۇ

جاۋابى: ]

## 4 - باب. گېنىنىڭ ئىپادىلىنىشى

ئىنساننىڭ ماددىلىرىنىڭ تەجرىبە ئارقىلىق ئىسپاتلىنىشى ۋە DNA قوش بۇرماشلىق ئۈزۈلۈش مودېلىنىڭ بارلىققا كېلىشى «گېن دېگەن نېمە» دېگەن مەسىلىنى ھەل قىلدى. شۇنىڭدىن كېيىنكى رەن بىئولوگىيە تەتقىقاتى مەسىلىنى كۆرۈلۈپ باقمىغان زور قەدەملەر بىلەن ئىلگىرىلىدى. ئۇزاقتىن بۇيان ھەل بولمىدى كېلىۋاتقان يەنە بىر مەسىلە - «گېن قانداق رول ئوينايدۇ» دېگەن بۇ مەسىلە تەتقىق قىلىنىدىغان يېڭى بىر قىزىق نۇقتىغا ئايلاندى.

ئاقسىللار توغرىسىدىكى تەتقىقاتلارمۇ شۇنىڭدىن ئېتىبارەن تېز ئىلگىرىلەشكە ئېرىشتى. كىشىلەر بەلگىلەرنىڭ شەكىللىنىشى ئاقسىل (بولۇپمۇ ئېنزىم) نىڭ رولىدىن ئايرىلالمايدىغانلىقىنى تونۇپ يەتتى، شۇنىڭ بىلەن گېننىڭ ئاقسىللارنىڭ سىنتېزلىنىشىغا يېتەكچىلىك قىلىش ئارقىلىق بەلگىلەرنى كونترول قىلىدىغانلىقىنى پەرەز قىلىپ، بۇ جەرياننى گېننىڭ ئىپادىلىنىشى دەپ ئاتىدى.



ھاياتلىقنىڭ ئىزنالىرى رەڭگارەڭ، سىرلىق،  
 ئۇچۇردىن ماددىغىچە  
 چېرتىۋىژدىكىسىدىن رېئاللىققىچە  
 ئاددىي - مۇرەككەپ  
 قوپال ۋە نەپىس  
 ھاياتلىقنىڭ بۇ كەبى چىڭشىلىرىنى  
 كىملىر چەككەن قىلىپ گۈل - نەقىش؟

تەبىئەت ئىنساننىڭ ئىنساننىڭ ئىنساننىڭ  
 ۱. گېن ئاقسىلنىڭ سىنتېزلىنىشىغا يېتەكچىلىك قىلىدىغان



«بۇرا دەۋرىدىكى باغچە» فىلىمىدىكى دىنوزاۋرلار

**مەسىلىلەر ئۈستىدە مۇھاكىمە**

تەبىئەتنىڭ «بۇرا دەۋرىدىكى باغچە» دېگەن فىلىمى بىر مەھەل رەتلەپ بەردا قىلغانىدى. بۇ فىلىمدىكى بۇرا دەۋرىدىكى باغچىدا ياشاۋاتقان خىلمۇخىل دىنوزاۋرلار ئىپتىدا - ئىچى - چەرىپىلەردە سەكرىشىۋاتقان، ئۇچۇۋاتقان ۋە چوڭقۇر تەسىر قالدۇرغان. فىلىمدە، بۇ تىرىلدۈرۈلگەن دىنوزاۋرلار ئالىملار ئايرىپ ئالغان دىنوزاۋر DNA مولېكۇلىسىنى يېتىلدۈرۈش ئارقىلىق كۆپەيتىلگەنلىكى تەسۋىرلىنىدۇ.

**مۇھاكىمە**

ئاللىبۇرۇن يوقىلىپ كەتكەن جانلىقلارنىڭ DNA مولېكۇلىسىدىن پايدىلىنىپ راستتىنلا يوقىلىپ كەتكەن جانلىقلارنى قايتا تىرىلدۈرگىلى بولامدۇ؟

گېن ئاقسىلنىڭ سىنتېزلىنىشىغا قانداق يېتەكچىلىك قىلىدۇ؟ گېننىڭ ئىرسىيەت تەسىرى بولغان DNA پارچىسى ئىكەنلىكى: DNA ئاساسەن ھۈجەيرە يادروسىدا بولىدىغانلىقى، ئەمما ئاقسىلنىڭ سىنتېزلىنىشى سىتوپلازمىدا ئېلىپ بېرىلىدىغانلىقى ھەممىمىزگە مەلۇم. ئۇنداقتا، DNA ئېلىپ يۈرگەن ئىرسىيەت ئۇچۇرلىرى سىتوپلازمىغا قانداق يەتكۈزۈلىدۇ؟ بۇ ئىرسىيەت ئۇچۇرلىرى سىتوپلازمىغا بارغاندىن كېيىن، ھۈجەيرە بۇ ئۇچۇرلارنى قانداق يېشىدۇ (ئوقۇيدۇ)؟

بۇ پاراگرافنىڭ مۇھىم نۇقتىسى

- ھۈجەيرىنىڭ قايسى تەركىبلىرى ئاقسىلنىڭ سىنتېزلىنىشىغا قاتنىشىدۇ؟
- ئىرسىيەت كودى (شىقىرى) دېگەن نېمە؟
- گېن ئاقسىللىرىنىڭ سىنتېزلىنىشىغا قانداق يېتەكچىلىك قىلىدۇ؟

سۈپەتلىك نۇسخە  
 志 艾 爱 艾 艾

**ئىرسىيەت ئۇچۇرلىرىنىڭ كۆچۈرۈلۈشى**

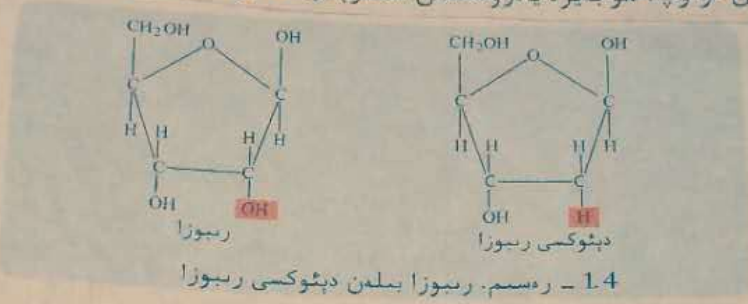
ھۈجەيرە يادروسىدىكى DNA سىتوپلازمىدىكى ئاقسىلنىڭ سىنتېزلىنىشىغا قانداق يېتەكچىلىك قىلىدۇ؟ بۇ ھەقتە ئالىملار، DNA بىلەن ئاقسىل ئارىلىقىدا يەنە بىر خىل خەۋەرچى ئارىلىق ماددا بولۇشى مۇمكىن دەپ پەرەز قىلىشقان. كېيىن ھۈجەيرىدە ھەقىقەتەن شۇنداق بىر ماددىنىڭ بارلىقىنى بايقىغان، مانا بۇ RNA دۇر.

RNA نېمە ئۈچۈن DNA نىڭ خەۋەرچىسى بولۇشقا ماس كېلىدۇ؟ RNA يەنە بىر خىل يادرو كىسلاتا، ئۇنىڭ مولېكۇلا تۈزۈلۈشى DNA نىڭكىگە ناھايىتى ئوخشىشىپ تۇرىدۇ، يەنى ئۇمۇ ئاساسىي بىرلىك - رىبونوكلىئوتىدلارنىڭ تۇتىشىشىدىن ھاسىل بولىدۇ، بۇ نۇكلىپ -



شوتىلار تەركىبىدىمۇ ئىرسىيەت ئۇچۇرلىرىنى ساقلانغان ئۆت خىل ئىشقا رادىكالى بار بولغاچقا، كىشىلەر RNA نى DNA نىڭ قوشۇمچە نۇسخىسى دەپ ئاتىغان. ئۇنىڭ DNA بىلەن ئوخشىمايدىغان يېرى شۇكى، RNA نى تەشكىل قىلغۇچى بەش كاربونلۇق قەنت دېئوكسى رىبوزا بولماستىن بەلكى رىبوزىدۇر. (رەسىم 1.4)؛ RNA دىكى ئىشقا رادىكالىرى تەر- كىبىدە ئىشقا رادىكالى T (تىمىن) بولماستىن بەلكى ئۇنىڭ ئورنىغا ئىشقا رادىكالى U (ئۇراتسىل) (2.4) - رەسىم) ئالمىشىدۇ؛ RNA ئادەتتە يەككە زەنجىرلىك بولىدۇ. ئۇنىڭ ئۈستىگە DNA دىن قىسقا بولغاچقا، يادرو تۆشۈكچىسىدىن ئۆتۈپ، ھۈجەيرە يادروسىدىن سىتوپلازمىغا يۆتكىلىپ بارالايدۇ.

تەسەۋۋۇر بوشلۇقى  
تەكەر ھۈجەيرە يادروسىنى قوماندا- لىق شتاب، سىتوپلازمىنى ئۇرۇش مەيدانى دەپ تەسەۋۋۇر قىلساق، ئۇنداقتا، DNA قانداق رول ئالىدۇ؟ ئۇ نېمە ئۈچۈن سى- توپلازمىغا بىۋاسىتە كىرىپ ئاقسىلنىڭ سىنتېزلىنىشىغا قوماندالىق قىلمايدۇ؟



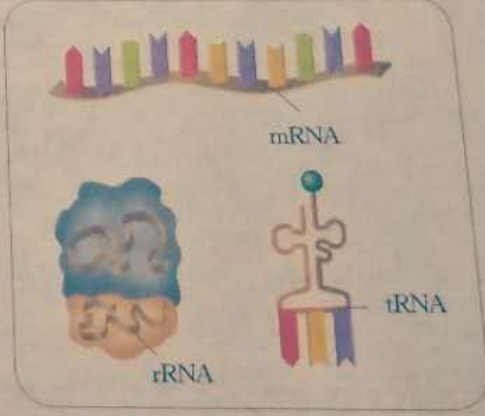
1.4 - رەسىم. رىبوزا بىلەن دېئوكسى رىبوزا

RNA ئۈچ خىل (3.4 - رەسىم) بولىدۇ. يۇقىرىدا تو- نۇشتۇرۇلغان DNA نىڭ خەۋەرچىسى بولغان RNA خەۋەر- چى RNA (messenger RNA) دېيىلىپ، mRNA بىلەن ئى- چادىلىنىدۇ. بۇنىڭدىن باشقا يەنە توشۇغۇچى RNA (transfer RNA) بولۇپ، tRNA بىلەن ئىپادىلىنىدۇ؛ شۇنداقلا يەنە رىبوسومدىكى RNA (ribosomal RNA) مۇ بار بولۇپ، rRNA بىلەن ئىپادىلىنىدۇ.

رىبوزا	نۇسخان كىسلاتا	دېئوكسى رىبوزا
RNA	ئادىتىن (A)	DNA
ئۇراتسىل (U)	گۇئاڭلىن (G)	تىمىن (T)

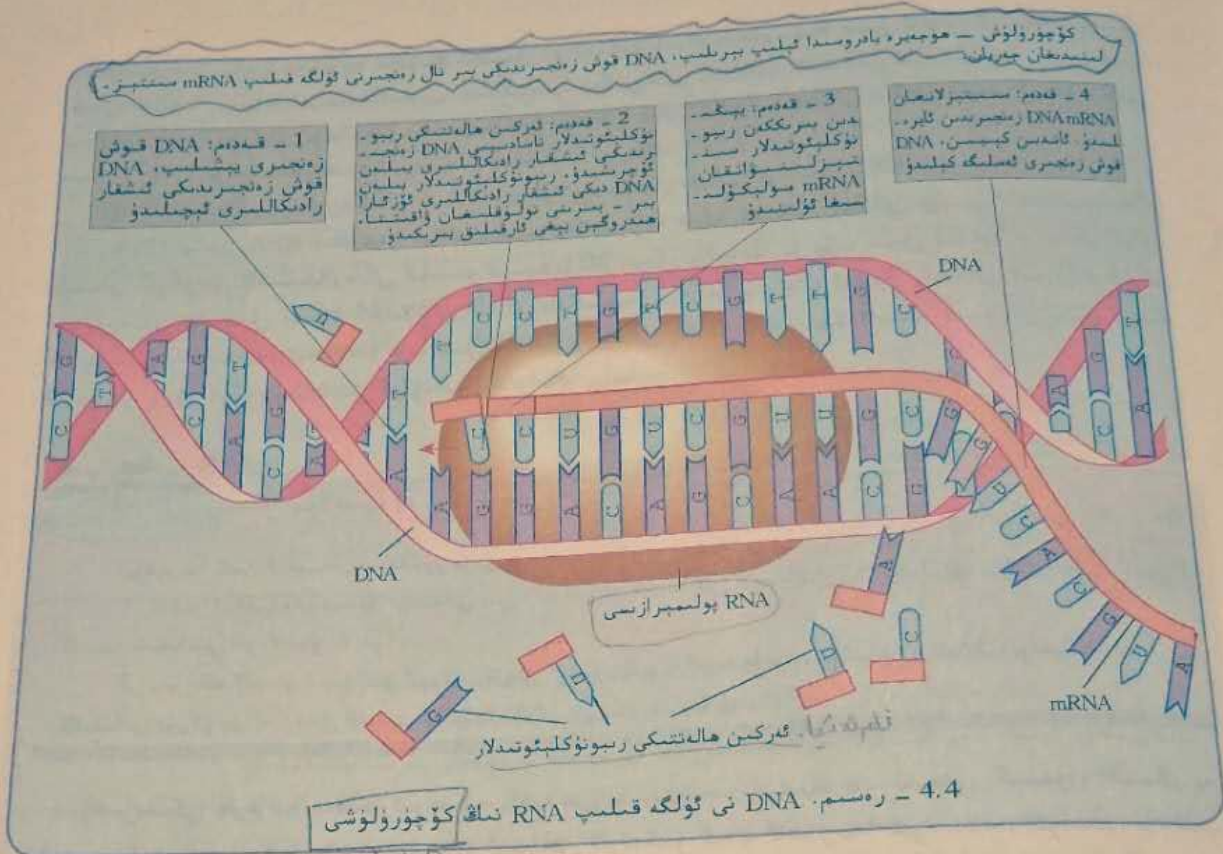
2.4 - رەسىم. DNA بىلەن RNA نىڭ خىمىيەلىك تەركىبى جەھەتتىكى پەرقى

DNA دىكى ئىرسىيەت ئۇچۇرلىرى mRNA غا قانداق يەت- كۈزۈلىدۇ؟



3.4 - رەسىم. ئۈچ خىل RNA

ئالىملار تەتقىق قىلىش ئارقىلىق شۇنى بايقىدىكى، RNA ھۈجەيرە يادروسىدا DNA نىڭ بىر تال زەنجىرىنى ئۈلگە قىلىپ سىنتېزلىنىدۇ، بۇ جەريان كۆچۈرۈلۈش (transcription) دېيىلىدۇ. ھۈجەيرە مەلۇم خىل ئاقسىلنى سىنتېزلاشقا باشلىغاندا، بۇ ئاقسىلنى كودلاشتۇرىدۇ- غان (شىفىر تۈزەيدىغان) قوش زەنجىرلىك DNA بۆلىكى زەنجىرىنى يېشىدۇ - دە (4.4 - رەسىم)، قوش زەنجىردىكى ئىشقا رادىكالىرى ئېچىلىپ قالىدۇ. ھۈجەيرىدىكى گەركىن رىبونوكلىپوتىدلار كۆچۈرۈلۈشتە ئىشلىتىد- لىدىغان DNA نىڭ بىر تال زەنجىرىدىكى ئىشقا رادىكالىرى بىلەن ئۆزئارا تولۇقلاپ جۈپ تۈزۈپ، RNA پولىمېرازىنىڭ تەسىرىدە، تەرتىپ بويىچە ئۆلىنىپ، بىر دانە mRNA مولېكۇلىسىنى ھاسىل قىلىدۇ.



ئاۋۋال كېيىن كۆچۈرۈلۈش

مۇلاھىزە ۋە مۇھاكىمە

1. كۆچۈرۈلۈش بىلەن DNA نىڭ نۇسخىلىنىشىنىڭ قانداق ئورتاقلىق تەرەپلىرى بار؟ بۇنىڭ ئىرسىيەت ئۆزۈرلىرىنىڭ توغرا كۆچۈرۈلۈشىگە كاپالەتلىك قىلىشتا قانداق ئەھمىيىتى بار؟
2. كۆچۈرۈلۈپ بولغان RNA دىكى ئىشقا رادىكاللى تەرتىپى بىلەن ئۈلگە قىلىنغان DNA يەككە زەنجىرىدىكى ئىشقا رادىكاللى تەرتىپىدە قانداق ئوخشاشلىق ۋە پەرقلەر بار؟ مۇشۇ DNA نىڭ يەنە بىر تال زەنجىرىدىكى ئىشقا رادىكاللى تەرتىپى بىلەن قانداق ئوخشاشلىقى ۋە پەرقى بار؟

ئىرسىيەت ئۆچۈرلىرىنىڭ ئاغدۇرۇلۇشى

mRNA سىنتېزىلىنىپ بولغاندىن كېيىن، يادرو تۆشۈكچىسى ئارقىلىق سىتوپلازمىغا كىرىدۇ. سىتوپلازمىدا ئەركىن ھالەتتە تۇرغان ھەر خىل ئامىنو كىسلاتالار mRNA نى ئۈلگە قىلىپ مۇئەييەن ئامىنو كىسلاتا تەرتىپىگە ئىگە ئاقسىلنى سىنتېزلايدۇ، مانا بۇ جەريان ئاغدۇرۇلۇش (translation) دېيىلىدۇ. يادرو كىسلاتادىكى ئىشقا رادىكاللى تەرتىپىنىڭ ئىرسىيەت ئۆچۈرى ئىكەنلىكى سىزگە مەلۇم. ئاغدۇرۇلۇش ئەمەلىيەتتە mRNA دىكى ئىشقا رادىكاللى تەرتىپىنىڭ ئاقسىلدىكى ئامىنو كىسلاتا تەرتىپىگە ئاغدۇرۇلۇشىدىن ئىبارەت. ئىنگىلىزچە - خەنزۇچە لۇغەتنى ئاقتۇرۇش جەريانىنى ئويلاپ بېقىڭ، ئىنگىلىزچە



يەككە سۆزلەر بىلەن خەنزۇچە خەتتە ماسلىق مۇناسىۋىتىنىڭ باردىمىدىلا سىز ئاندىن ئىنگلىزچىنى خەنزۇچىگە ئاغدۇرۇپ تەرجىمە قىلىپ چىقالايسىز. ئەگەر سىز mRNA ئاقسىلىنى قانداق ئاغدۇرۇپ چىقىرىدىغانلىقىنى بىلمەكچى بولىشىڭىز، ئالدى بىلەن mRNA دىكى ئىشقار رادىكالى بىلەن ئامىنو كىسلاتا ئارىسىدىكى ماسلىق مۇناسىۋىتىنى تېپىپ چىقىشىڭىز كېرەك.

ئىشقار رادىكالىرى بىلەن ئامىنو كىسلاتالىرى ئوتتۇرىسىدىكى ماسلىق مۇناسىۋەت قانداق بولىدۇ؟

DNA بىلەن RNA نىڭ ھەر ئىككىلىسىدە پەقەت تۆت خىللا ئىشقار رادىكالى بولىدۇ، ئەمما جانلىقلار تېنىنى تۈزگۈچى ئاقسىللاردىكى ئامىنو كىسلاتا 20 خىل بولىدۇ. بۇ تۆت خىل ئىشقار رادىكالى ئاقسىللاردىكى 20 خىل ئامىنو كىسلاتانى قانداق بەلگىلەيدۇ؟ ئەگەر بىر دانە ئىشقار رادىكالى بىر دانە ئامىنو كىسلاتانى بەلگىلىسە، ئۇنداقتا، تۆت خىل ئىشقار رادىكالى پەقەت تۆت خىللا ئامىنو كىسلاتانى بەلگىلىيەلەيدۇ. بۇ خىل گۈرۈپپىلىشىش ئەلۋەتتە يېتەرلىك بولمايدۇ.

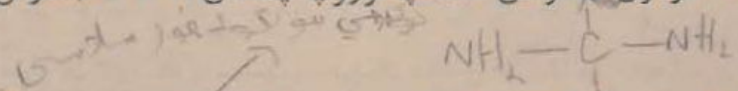


**مۇلاھىزە ۋە مۇھاكىمە**

يۇقىرىدا بايان قىلىنغان نەپەككۈر يولى بويىچە مۇھاكىمە قىلىڭلار:

1. ئەگەر ئىككى دانە ئىشقار رادىكالى بىر دانە ئامىنو كىسلاتانى كودلاشتۇرسا، ئەڭ كۆپ بولغاندا قانچە خىل ئامىنو كىسلاتانى كودلاشتۇرالايدۇ؟
2. بىر دانە ئامىنو كىسلاتانى كودلاشتۇرۇش ئۈچۈن كەم دېگەندە قانچە دانە ئىشقار رادىكالى بولغاندا، ئاندىن ئاقسىلىنى تۈزگۈچى 20 خىل ئامىنو كىسلاتانىڭ گۈرۈپپىلىنىشىغا يېتىدۇ؟

يۇقىرىدىكى پەرەزلەر پەقەت ئىرسىيەت كودىنى يېشىش جەريانىنىڭ بىر قەدىمى. كېيىن، ئالىملار يەنە قەدەممۇقەدەم پەرەز قىلىش ۋە تەجرىبە ئىشلەش ئارقىلىق ئەڭ ئاخىرىدا ئىرسىيەت كودىنى يېشىپ، mRNA دىكى ئۈچ دانە قوشنا ئىشقار رادىكالىنىڭ بىر دانە ئامىنو كىسلاتانى بەلگىلەيدىغانلىقىنى بىلگەن. ئالىملار بۇ خىل ھەر ئۈچ دانە ئىشقار رادىكالىنى بىر كودون (شىفر) قىلىپ بېكىتىپ، 64 دانە ئىرسىيەت كودونىنى تۆۋەندىكىدەك كودون جەدۋىلى قىلىپ تۈزۈپ چىققان (1.4 - جەدۋەل).



**1.4 - جەدۋەل. 20 خىل ئامىنو كىسلاتانىڭ كودون جەدۋىلى**

ئۈچىنچى ھەرپ	ئىككىنچى ھەرپ				بىرىنچى ھەرپ
	G	A	C	U	
U	سىستېئىن	تىروزىن	سېرىن	فېنىل ئالانىن	U
C	سىستېئىن	تىروزىن	سېرىن	فېنىل ئالانىن	
A	ئاخىرلىشىدۇ	ئاخىرلىشىدۇ	سېرىن	لېيىتسىن	
G	ترېتوفان	ئاخىرلىشىدۇ	سېرىن	لېيىتسىن	
U	ئارگىنىن	گىستىدىن	پرولىن	لېيىتسىن	C
C	ئارگىنىن	گىستىدىن	پرولىن	لېيىتسىن	
A	ئارگىنىن	گىلۇتامىن	پرولىن	لېيىتسىن	
G	ئارگىنىن	گىلۇتامىن	پرولىن	لېيىتسىن	

U	سېرىن	ئاسپاراگىن	تريپتونىن	ئىزولېتسىن	A
C	سېرىن	ئاسپاراگىن	تريپتونىن	ئىزولېتسىن	
A	ئارگىنىن	لىزىن	تريپتونىن	ئىزولېتسىن	
G	ئارگىنىن	لىزىن	تريپتونىن	مېتتىئونىن (باشلىنىدۇ)	
U	گلىتسىن	ئاسپاراتىك	ئالانىن	ۋالىن	G
C	گلىتسىن	ئاسپاراتىك	ئالانىن	ۋالىن	
A	گلىتسىن	گلوتامات	ئالانىن	ۋالىن	
G	گلىتسىن	گلوتامات	ئالانىن	ۋالىن (باشلىنىدۇ)	

مۇلاھىزە ۋە مۇھاكىمە



كودون جەدۋىلىگە بىرلەشتۈرۈپ، تۆۋەندىكى مەسىلىلەرنى مۇھاكىمە قىلىڭلار.

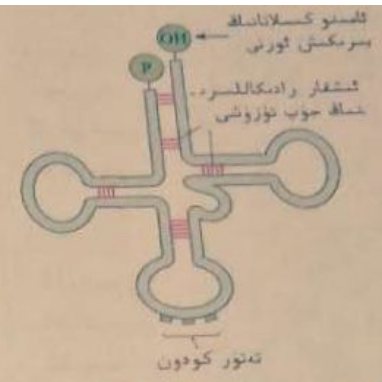
1. بىر بۆلەك mRNA دىكى ئىشقار رادىكالىرى تەرتىپى AUGGAAGCAUGUCCGAGCAAGCCG ئىكەنلىكى مەلۇم بولسا، سىز ئۇنىڭغا ماس كېلىدىغان ئامىنو كىسلاتا تەرتىپىنى يېزىپ چىقالامسىز؟
2. يۇقىرىدىكى كودون جەدۋىلى يەر شارىدىكى بارلىق جانلىقلارنىڭ ھەممىسىگە دېگۈدەك ئۇيغۇن كېلىدۇ، بۇ ئەمەلىيەتكە ئاساسەن، سىز نېمىنى ئويلىدىڭىز؟
3. كودون جەدۋىلىدىن بىر ئامىنو كىسلاتانىڭ نەچچە كودوننى بولىدىغانلىقىنى كۆرۈۋېلىشقا بولىدۇ، بۇ خىل ھادىسە كودلارنىڭ ئاددىي بىرىكىشى دېيىلىدۇ. سىزنىڭچە كودلارنىڭ بۇ خىل ئاددىي بىرىكىشىنىڭ جانلىقلارنىڭ مەۋجۇت بولۇشى ۋە تەرەققىي قىلىشىدا قانداق ئەھمىيىتى بار؟

mRNA سىتوپلازمىغا كىرگەندىن كېيىن، ئاقسىل «قۇراشتۇرۇش ماشىنىسى» رېبوسوم بىلەن بىرىكىپ، ئاقسىل سىنتېزلايدىغان «ئىشلەپچىقىرىش لىنىيىسى» ھاسىل قىلىدۇ. «ئىشلەپچىقىرىش لىنىيىسى» بىلەن «ئىشچىلار» بولغاندىلا، ئاندىن مەھسۇلات ئىشلەپچىقارغىلى بولىدۇ.

سىتوپلازمىدىكى ئەركىن ئامىنو كىسلاتالىرى ئاقسىلنى سىنتېزلايدىغان «ئىشلەپچىقىرىش لىنىيىسى» گە قانداق يەتكۈزۈلىدۇ؟

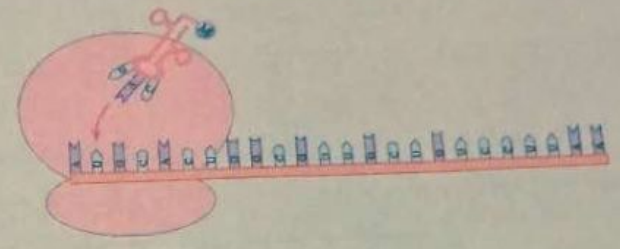
ئامىنو كىسلاتالىرىنى «ئىشلەپچىقىرىش لىنىيىسى» گە توشۇيدىغان «يۈك توشۇش ئىشچىسى» بولغان يەنە بىر خىل RNA — tRNA دۇر. tRNA نىڭ تۈرلىرى ناھايىتى كۆپ بولسىمۇ، بىراق ھەر بىر خىل tRNA پەقەت بىر خىل ئامىنو كىسلاتانى تونۇيدۇ ۋە توشۇيدۇ. tRNA مولېكۇلىسى mRNA غا قارىغاندا خېلىلا كىچىك، مولېكۇلا تۈزۈلۈشىمۇ ناھايىتى ئالاھىدە (5.4 - رەسىم) بولىدۇ، يەنى RNA زەنجىرى خۇددى ئۇچقۇلاقنىڭ يوپۇرماق شەكلىگە ئوخشاش قاتلىنىدۇ، بىر ئۇچى ئامىنو كىسلاتانى ئېلىپ يۈرگۈچى قىسىم بولسا، يەنە بىر ئۇچىدا ئۈچ دانە ئىشقار رادىكالى بولىدۇ. ھەر بىر دانە tRNA دىكى بۇ ئۈچ دانە ئىشقار رادىكالى mRNA دىكى كودونلار بىلەن ئۆزئارا تولۇقلاپ چۈپ تۈزىدىغان بولغاچقا، تەتۈر كودون دېيىلىدۇ.

6.4 - رەسىم سىزگە ئاقسىل سىنتېزلايدىغان بۇ «ئىشلەپچىقىرىش قىزىش لىنىيىسى» نىڭ ئەھۋالىنى كۆرسىتىپ بېرىدۇ. دىققەت، بۇ نىڭدا رىبوسوم mRNA نى بويلاپ يۆتكىلىدۇ. رىبوسوم بىلەن mRNA نىڭ بىرىكىش ئورنىدا ئىككى دانە tRNA نىڭ بىرىكىش نۇقتىسى شەكىللىنىدۇ. ئەگەر رەسىمدە كۆرسىتىلگەندەك تەتۈر كودوننى UAC بولغان tRNA مېتېئونىننى ئېلىپ يۈرۈپ، mRNA دىكى ئىشقا رادىكالىسى AUG بىلەن ئۇزۇنلار جۈپ تۈزۈش ئارقىلىق نۇقتا 1 گە كىرىدۇ. گىستىدىننى ئېلىپ يۈرگەن tRNA مۇ ئوخشاش ئۇسۇل بىلەن نۇقتا 2 گە كىرىدۇ. مېتېئونىن گىستىدىن ئارقىلىق پېپتىد بەغى ھاسىل قىلىپ نۇقتا 2 نى ئىگىلىۋالغان tRNA غا يۆتكىلىپ بارىدۇ. ئاندىن رىبوسوم mRNA نى بويلاپ يۆتكىلىپ، كېيىنكى بىر كودوننى ئوقۇيدۇ. ئەسلىدە نۇقتا 1 نى

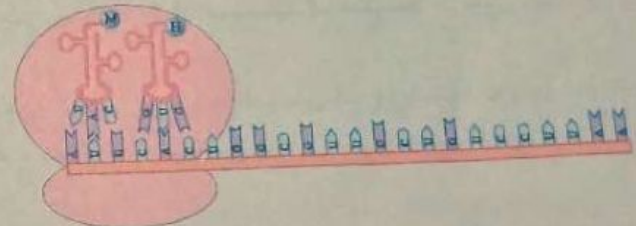


5.4 - رەسىم. tRNA نىڭ تۈزۈلۈشى

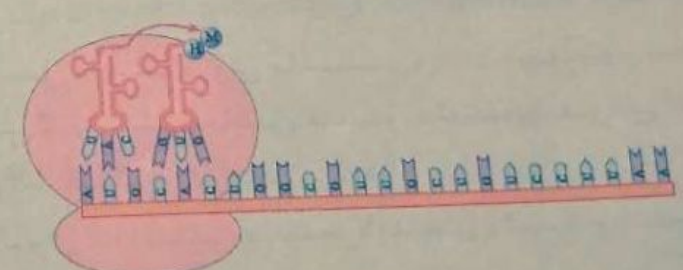
1 - قەدەم: mRNA سىتوبلازمغا كىرىپ، رىبوسوم بىلەن بىرىكىدۇ. مېتېئونىننى ئېلىپ يۈرگۈچى tRNA ئىشقا رادىكالى AUG بىلەن ئۇزۇنلار جۈپ تۈزۈش ئارقىلىق نۇقتا 1 گە كىرىدۇ.



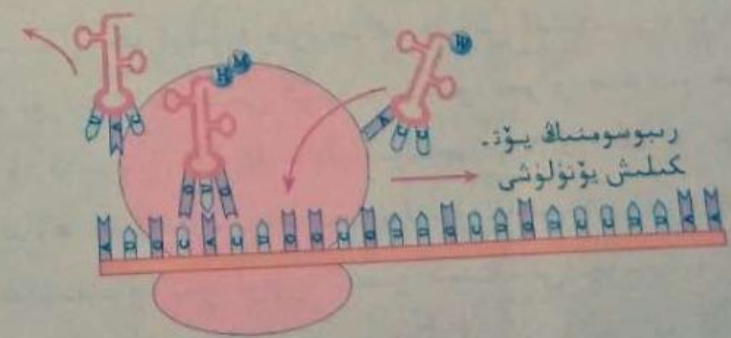
2 - قەدەم: گىستىدىننى ئېلىپ يۈرگۈچى tRNA مۇ ئوخشاش ئۇسۇل بىلەن نۇقتا 2 گە كىرىدۇ.



3 - قەدەم: مېتېئونىن گىستىدىن بىلەن پېپتىد بەغى ھاسىل قىلىپ نۇقتا 2 نى ئىگىلىۋالغان tRNA غا يۆتكىلىدۇ.



4 - قەدەم: رىبوسوم كېيىنكى بىر كودوننى ئوقۇيدۇ، ئەسلىدە نۇقتا 1 نى ئىگىلىۋالغان tRNA رىبوسومدىن ئايرىلىدۇ، نۇقتا 2 نى ئىگىلىۋالغان tRNA نۇقتا 1 گە كىرىدۇ، ئامىنو كىسلاتانى ئېلىپ يۈرگۈچى يېڭى بىر tRNA نۇقتا 2 گە كىرىپ، پېپتىد زەنجىرىنىڭ سىنتېزلىنىشىنى داۋاملاشتۇرىدۇ. 2، 3، 4 - قەدەملەر قايتا - قايتا تەكرارلىنىپ، رىبوسوم mRNA دىكى ئاخىرلاشتۇرغۇچى كودوننى ئوقۇپ بولغاندا ئاندىن توختايدۇ.



M: مېتېئونىن      H: گىستىدىن      W: ترىپتوفان

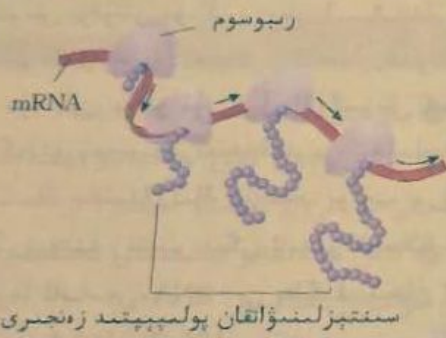
6.4 - رەسىم. ئاقسىلنىڭ سىنتېزلىنىشى

ئىككىنچى قىسىمدا mRNA رىبوسومدىن ئايرىلىپ، كېيىنكى بىر مېتسئونىنى توشۇيدۇ، نۇقتا 2 نى ئىگىدە -  
 لىۋالغان tRNA نۇقتا 1 گە كىرىدۇ، ئامىنو كىسلاتانى ئېلىپ يۈرگۈچى يېڭى بىر tRNA نۇقتا 2 گە كىرىدۇ،  
 رىب، پېپتىد زەنجىرىنىڭ سىنتېزلىنىشىنى داۋاملاشتۇرىدۇ. يۇقىرىدا بايان قىلىنغان باسقۇچلار mRNA  
 زەنجىرىنى بويلاپ، mRNA دىكى ئاخىرلاشتۇرغۇچى كودنى ئوقۇپ بولۇپ سىنتېزلىنىش توختىغانغا قەدەر  
 داۋاملىق ئېلىپ بېرىلىدۇ.

مۇلاھىزە ۋە مۇھاكىمە



1. 6. 4 - رەسىمدە كۆرسىتىلگىنى ئالدىنقى ئۈچ دانە ئامىنو كىسلاتانىڭ تۇتىشىش جەريانى بولۇپ، سىز  
 رەسىم سىزنىڭ ئارقىلىق 4 - ۋە 5 - ئامىنو كىسلاتالىرىنىڭ پېپتىد زەنجىرىگە تۇتىشىش جەريانىنى ئىپادىلەپ  
 بېرىڭ. قانداق قىلغاندا ئىپادىلەش رەسىمىنى توغرا ھەم ئېنىق سىزىپ چىققىلى بولىدىغانلىقى ھەققىدە ساۋاقداش -  
 لىرىڭىز بىلەن مۇھاكىمە ئېلىپ بېرىڭ.
2. 6. 4 - رەسىمدە كۆرسىتىلگەندەك، سىنتېزلىنىۋاتقان پېپتىد زەنجىرىدىكى ئامىنو كىسلاتا تەرتىپى  
 قانداق بولىدۇ؟



ستوپلازىمىدىكى ئاغدۇرۇلۇش بىر تېز سۈرئەتلىك جەرياندۇر.  $37^{\circ}\text{C}$  تا باكتېرىيە ھۈجەيرىسىدە پېپتىد زەنجىرىنىڭ  
 سىنتېزلىنىش سۈرئىتى تەخمىنەن ھەر سېكۇنتتا 15 دانە ئامىنو كىسلاتانى تۇتاشتۇرۇش تېزلىكىدە بولىدۇ. ئادەتتە، بىر دانە  
 mRNA مولېكۇلىسىغا نۇرغۇن رىبوسوملار كەينى - كەينىدىن بىرىكىش بىلەن بىللە، كۆپلىگەن پېپتىد زەنجىرىنىڭ سىنتېزلىنىشى  
 (مەسىلەن، سول تەرەپتىكى رەسىم) تەڭ ئېلىپ بېرىلىدۇغان بولغاچقا، ئاز مىقداردىكى mRNA مولېكۇلىسى ناھايىتى  
 تېزلىكتە كۆپ مىقداردىكى ئاقسىللارنى سىنتېزلاپ چىقالايدۇ.  
 پېپتىد زەنجىرى سىنتېزلىنىۋاتقاندىن كېيىن، رىبوسوم بىلەن mRNA نىڭ مۇرەككەپ ماددىسىدىن ئايرىلىدۇ،  
 بىر قاتار قەدەم باسقۇچلار ئارقىلىق ھەرقايسى «ئۆز ئورنى»غا توشۇلىدۇ، ئەگرى - بۈگرى قاتلىنىدىغان ئالاھىدە بوشلۇق تۈزۈلۈشى ۋە فۇنكسىيەگە  
 ئىگە ئاقسىل مولېكۇلىسى ھاسىل بولۇپ، ھۈجەيرىنىڭ ھاياتلىق پائالىيىتىنىڭ تۈرلۈك مەجبۇرىيەتلىرىنى ئۈستىگە ئېلىشقا باشلايدۇ.

بىر دانە mRNA مولېكۇلىسىغا نۇرغۇن رىبوسوملار بىرىكىش بىلەن بىللە كۆپلىگەن پېپتىد زەنجىرىنىڭ سىنتېزلىنىشى

«ئۆز ئورنى»غا توشۇلىدۇ، ئەگرى - بۈگرى قاتلىنىدىغان ئالاھىدە بوشلۇق تۈزۈلۈشى ۋە فۇنكسىيەگە ئىگە ئاقسىل مولېكۇلىسى ھاسىل بولۇپ، ھۈجەيرىنىڭ ھاياتلىق پائالىيىتىنىڭ تۈرلۈك مەجبۇرىيەتلىرىنى ئۈستىگە ئېلىشقا باشلايدۇ.

I ئاساس سوئال

1. ئەگەر DNA مولېكۇلىسىنىڭ بىر تال زەنجىرىدىكى ئىشقا رادىكاللىرىنىڭ تىزىلىش تەرتىپى ... ACGGATCTT ... بولسا، ئۇ ھالدا، ئۇنىڭ بىلەن ئۆزئارا تولۇقلىنىدىغان يەنە بىر تال DNA زەنجىرىدىكى ئىشقا رادىكاللىرىنىڭ تەرتىپى IGCC TAGA بولىدۇ؛ ئەگەر بۇ DNA زەنجىرىنى ئۆلگە قىلغان بولسا، كۆچۈرۈلۈپ چىققان mRNA نىڭ ئىشقا رادىكاللىرى تەرتىپى ACCGAUC بولىدۇ. بۇ بۆلەك mRNA 3 دانە كودوننى ئۆز ئىچىگە ئالغان بولۇپ،                      دانە tRNA بولغاندا، ئاندىن ئېھتىياجلىق ئامىنو كىسلاتالىرىنى رېبوسومغا يەتكۈزۈپ بېرەلەيدۇ، بۇ ئامىنو كىسلاتالىرىنىڭ تۈرلىرى تەرتىپ بويىچە                     .

2. ئامىنو كىسلاتالارنى بەلگىلەيدىغان كودون ( ) نى كۆرسىتىدۇ.

- A. DNA دىكى ئۆزئارا قوشنا ئۈچ دانە ئىشقا رادىكاللى
- B. tRNA دىكى ئۆزئارا قوشنا ئۈچ دانە ئىشقا رادىكاللى
- C. mRNA دىكى ئۆزئارا قوشنا ئۈچ دانە ئىشقا رادىكاللى
- D. گېنىدىكى ئۆزئارا قوشنا ئۈچ دانە ئىشقا رادىكاللى

II كېڭەيتمە سوئال

1. ئەگەر لېيتىننى كودلاشتۇرىدىغان كودون CUA دىكى بىر دانە ئىشقا رادىكاللىدا ئۆزگىرىش يۈز بەرسە، مۇنداق ئۆزگىرىش بولۇشى مۇمكىن: يەنى 1 - ئىشقا رادىكاللى C بولسا U، A ياكى G گە ئۆزگىرىشى مۇمكىن؛ ياكى 2 - ئىشقا رادىكاللى U بولسا C، A ياكى G گە ئۆزگىرىشى مۇمكىن؛ ياكى 3 - ئىشقا رادىكاللى A بولسا U، C ياكى G گە ئۆزگىرىشى مۇمكىن. بۇ توققۇز خىل ئۆزگىرىش ئېھتىماللىقىدا، قايسى خىل ئۆزگىرىشلەر ئامىنو كىسلاتالىرىنىڭ ئۆزگىرىشىنى كەلتۈرۈپ چىقىرىدىغانلىقىنى تەھلىل قىلىڭلار. بۇ ئەمەلىي مىسالدىن قارىغاندا، سىزنىڭچە كودلارنىڭ ئاددىي بىر رېكشىنىڭ جانلىقلارنىڭ مەۋجۇت بولۇپ تۇرۇشى ۋە تەرەققىي قىلىشىدا قانداق ئەھمىيىتى بار؟
2. پېپتىد زەنجىرىدىكى ئامىنو كىسلاتالار تەرتىپى، مەسىلەن، مېتىئونىن - ئالانىن - لېيتىن - گلىتسىن - قانداق تارلىقلارغا ئاساسەن RNA نى بەلگىلەيدىغان ئىشقا رادىكاللىرى تەرتىپىنى يېزىپ چىقالامسىز؟ سىزنىڭچە گىرسىيەت ئۆچۈرلىرى ئىشقا رادىكاللىرى تەرتىپىدىن ئامىنو كىسلاتالار تەرتىپىگە يەتكۈزۈلۈش جەريانىدا، يوقىلىپ كېتىش ئەھۋالى بولامدۇ - يوق؟ ئەگەر بار بولسا، قانداق يوقىلىپ كېتىدۇ؟

## § 2 . گېننىڭ بەلگىلەرنى كونترول قىلىشى

### مەسىلىلەر ئۈستىدە مۇھاكىمە



بىر تۈپ سۇ ئېيىقتاينىنىڭ بوشلۇقتا ئوچۇق تۇرغان يېرىمى بۇرمىقى بىلەن سۇغا چۆكۈپ تۇرغان يوپۇرمىقى ئوخشىمىغان ئىككى خىل مورفولوگىيىلىك شەكىلدە بولىدۇ.

### مۇھاكىمە

1. بۇ ئىككى خىل يوپۇرماق شەكلىنىڭ قانداق پەرقى بار؟
2. بۇ ئىككى خىل شەكىلدىكى يوپۇرماقنىڭ ھۈجەيرىسىدىكى گېننىڭ تۈزۈلۈشى ئوخشاشمۇ؟
3. سىز يەنە قانداق مەسىلىنى ئوتتۇرىغا قويالايسىز؟

### بۇ پاراگرافنىڭ مۇھىم نۇقتىسى

- مەركەز قانۇنىيىتى دېگەن نېمە؟
- نېمە ئۈچۈن گېن جانلىقلار تېنىدىكى بەلگىلەرنى كونترول قىلىدۇ دەيمىز؟
- گېن جانلىقلار تېنىدىكى بەلگىلەرنى قانداق كونترول قىلىدۇ؟

سىز گېنلارنىڭ ئاقسىللارنىڭ سىنتېزلىنىشىغا يېتەكچىلىك قىلىش جەريانىغا ئاساسەن، بىر پارچە ئىش تەرتىپى سىخىمىسى سىزىپ، ئىرسىيەت ئۈچۈرلىرىنىڭ يەتكۈزۈلۈش يۆنىلىشىنى ئىپادىلەپ بېرەلمەيسىز؟ ئاقسىللارنىڭ سىنتېزلىنىش جەريانىنى پۈتۈنلەي ئېنىق بىلىشتىن ئىلگىرى، ئالىم كرىك ئىرسىيەت ئۈچۈرلىرىنىڭ يەتكۈزۈلۈشتىكى ئادەتتىكى قانۇنىيەتلىرىنى ئالدىن پەرەز قىلغان ھەمدە بۇ

قانۇنىيەتكە مەركەز قانۇنىيىتى (central dogma) دەپ نام بەرگەن. «مەركەز» دېگەن سۆزلا بۇ قانۇنىيەتنىڭ بىئولوگىيىدىكى مۇھىم ئورنىنى نامايان قىلىپ بېرىدۇ.

مەركەز قانۇنىيىتىنىڭ ئوتتۇرىغا قويۇلۇشى ۋە ئۇ.

نىڭ تەرەققىياتى

1957 - يىلى كرىك: ئىرسىيەت ئۈچۈرلىرى DNA دىن

DNA غا ئاقىدۇ، يەنى DNA ئۆز - ئۆزىنى نۇسخىلايدۇ؛ DNA

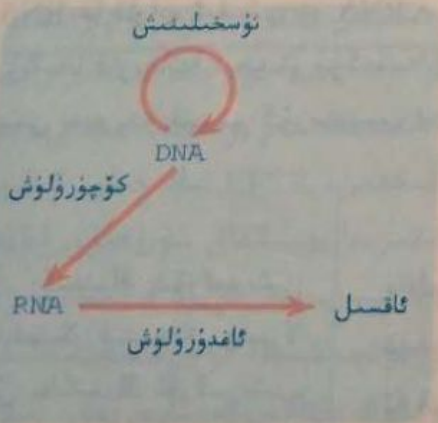
دىن RNA غىمۇ ئاقىدۇ، بۇنىڭدىن يەنە ئاقسىلغا ئاقىدۇ، يەنى

ئىرسىيەت ئۈچۈرلىرى كۆچۈرۈلىدۇ ۋە ئاغدۇرۇلىدۇ (7.4 - رە.

سىم) دېگەن مەركەز قانۇنىيىتىنى ئوتتۇرىغا قويغان. لېكىن،

ئىرسىيەت ئۈچۈرلىرى ئاقسىلدىن ئاقسىلغا يەتكۈزۈلمەيدۇ،

شۇنداقلا يەنە ئاقسىلدىن RNA غا ياكى DNA غا قاراپ ئاقمايدۇ.



7.4 - رەسىم. مەركەز قانۇنىيىتى



شۇنىڭدىن بەش - ئالتە يىل كېيىن، ئالىملار ئاقسىلنىڭ سىنتېزلىنىش جەريانىنى كۆرسىتىپ بەرگەندىن كېيىنلا، مەركەز قانۇنىيىتى ئېتىراپ قىلىنغان، لېكىن، تەجرىبە سانلىق مەلۇماتلىرىنىڭ كۆپىيىشىگە ئەگىشىپ، كىشىلەر ئەنئەنىۋى مەركەز قانۇنىيىتىدە يېتەرسىزلىك تەرەپلەرنىڭ بارلىقىغا دىققەت قىلىشقا باشلىغان.

### ماتېرىيال ئۈستىدە تەھلىل



#### مەركەز قانۇنىيىتىنىڭ تەرەققىياتى

1. 1965 - يىلى ئالىملار RNA ئۆسە ۋىرۇسىدىن RNA نى ئۇسخىلىغۇچى بىر خىل ئېنزىمنى بايقايدۇ. ئۇ خۇددى DNA نى ئۇسخىلىغۇچى ئېنزىمنىڭ DNA نى ئۇسخىلىغىنىغا ئوخشاش RNA نى ئۇسخىلايدىكەن.
2. 1970 - يىلى ئالىملار رايك پەيدا قىلغۇچى RNA ۋىرۇسىدىن تەنۇر كۆچۈرگۈچى ئېنزىمنى بايقايدۇ، ئۇ RNA نى ئۆلگە قىلىپ DNA نى سىنتېزلايدىكەن.
3. 1982 - يىلى ئالىملار يەنە كالا غالجىر كېسىلىنىڭ تۈزۈلۈشى غەيرىي بىر خىل ئاقسىلنىڭ كالا مېڭە ھۆججەرىسىدە زور مىقداردا «كۆپىيىش» سەۋەبىدىن كېلىپ چىقىدىغانلىقىنى بايقايدۇ. بۇ خىل خاتا قاتلىنىش سەۋەبىدىن شەكىللەنگەن تۈزۈلۈشى غەيرىي ئاقسىللار ئۆزى بىلەن ئوخشاش ئامىنو كىسلاتا تەرتىپىگە ئىگە ئاقسىللاردا ئوخشاش قاتلىنىش خاتالىقى پەيدا قىلىپ، نۇرغۇن تۈزۈلۈشى غەيرىي ئاقسىللارنى شەكىللەندۈرىدىكەن.

#### ● مۇھاكىمە

1. سىزنىڭچە يۇقىرىدىكى تەجرىبە دەلىللىرى ئەنئەنىۋى مەركەز قانۇنىيىتىنى ئاغدۇرۇۋېتەمدۇ؟ نېمە ئۈچۈن؟
2. بىئولوگىيىدىكى يادرو لۇق قانۇنىيەتلەرنىڭ بىرى بولغان مەركەز قانۇنىيىتى ئىرسىيەت ئۆچۈرلىرىنىڭ يەتكۈزۈلۈشى قانۇنىيىتىنى ئومۇميۈزلۈك ئەكسى ئەتتۈرۈپ بېرەلەيدىغان بولۇشى كېرەك. يۇقىرىدىكى ماتېرىيالغا ئاساسلانغاندا، سىزنىڭچە ئەنئەنىۋى مەركەز قانۇنىيىتىنى ئۆزگەرتىش كېرەكمۇ؟ ئەگەر ئۆزگەرتىش كېرەك بولسا قانداق ئۆزگەرتىش كېرەك؟
3. مۇھاكىمە نەتىجىسىگە ئاساسەن، 4، 7 - رەسىمدىكى مەركەز قانۇنىيىتىنىڭ رەسىملىك چۈشەندۈرۈشىگە ئۆزگەرتىش كىرگۈزۈپ، ئىشەنچلىك دەپ قارىغان يەكۈنىڭىزنى قېنىق سىزىق بىلەن، توغرا بولۇشى مۇمكىن دەپ قارىغان يەكۈنىڭىزنى ئۈزۈك سىزىق بىلەن ئىپادىلەڭ.

نۇرغۇن سىناقلىرىنى باشتىن كەچۈرگەن مەركەز قانۇنىيىتىگە ئىرسىيەت ئۆچۈرلىرىنىڭ RNA دىن RNA غا قاراپ ئېقىشى ۋە RNA دىن DNA غا قاراپ ئېقىشىدىن ئىبارەت بۇ ئىككى يول تولۇقلىنىپ، بۇ رۇنقىغا قارىغاندا تېخىمۇ مۇكەممەللەشكەن. بۇ بىزگە، ئىلىم - پەننىڭ تەرەققىياتى چەكسىز بولىدىغانلىقىنى يەنە بىر قېتىم كۆرسىتىپ بەردى.

#### گېن، ئاقسىل ۋە بەلگىلەرنىڭ مۇناسىۋىتى

بۇنىڭدىن 100 نەچچە يىل ئىلگىرى مېندېل كۆك پۇرچاقنىڭ يۇمىلاق دانلىقى بىلەن پۈرمە دانلىقىدىن ئىبارەت بۇ بىر جۈپ نىسبىي بەلگە ئۈس-تىمدە تەتقىقات ئېلىپ بارغان ھەمدە ئىرسىيەت فاكىتورى ھەققىدىكى پەرىزى ئارقىلىق قالىتس چۈشەنچە بەرگەن. بۈگۈنكى كۈندە، گېننىڭ ئاقسىلنىڭ سىنتېزلىنىشىنى كونترول قىلىش نۇقتىسىدىن بۇ بىر جۈپ نىسبىي

؟ گېننىڭ ئۆزگىرىشى جانلىقلار تېنىدىكى بىرلا خىل بەلگىنىڭ ئۆزگىرىشىنى كەلتۈرۈپ چىقىرامدۇ؟

بەلگىنىڭ شەكىللىنىشى قانداق چۈشەندۈرۈش كېرەك؟ ئەسلىدە، يۇمىلاق دانلىق كۆك پۇرچاقنىڭ DNA سى بىلەن ئوخشىمايدىغىنى شۇكى، يۈرمە دانلىق كۆك پۇرچاقنىڭ DNA سىغا سىرتتىن كەلگەن قانلاشتۇرۇپ، كىراخمال تارماق ئېنېزىمىنى كودلاشقان كىراخمال تارماق ئېنېزىمىنىڭ گېنىنى قالايمىدە. كىراخمال تارماق ئېنېزىمىنىڭ كەمچىل بولۇشى بىلەن ھۈجەيرىدىكى كىراخمال مىقدارى تۆۋەنلەپ كېتىپ، ئەركىن ھالەتتىكى ساخاروزىنىڭ مىقدارى ئۆرلەپ كېتىدىكەن. كىراخمال سۇ سۈمۈرۈپ كۆيىدۇ. ساخاروزا تۇنداق بولمايدۇ. شۇڭا، كۆك پۇرچاق دېنى پىشقاندا كىراخمال مىقدارى يۇقىرى بولغان كۆك پۇرچاق دېنى سۇ تەركىبىنى ئۈنۈملۈك ساقلاپ قالىدۇ - دە، يۇپىيۇمىلاق ھەم توق كۆرۈنىدۇ. ئەمما كىراخمال مىقدارى تۆۋەن بولغان كۆك پۇرچاق بولسا تەركىبىدىكى سۇنى يوقاتقانلىقتىن پۇرمىلىك ھەم ئاچ كۆرۈنىدۇ. لې-كىن، يۈرمىلىك كۆك پۇرچاق دېنىدا ساخاروزا مىقدارى يۇقىرى بولغاچقا، ئەمى ناھايىتى تاتلىق بولىدۇ.



8.4 - رەسىم. ئاقىرىش كېسىلىگە گىرىپتار بولغۇچى

يۇقىرىدىكى ئەمەلىي مىسالدىن، گېن ئېنېزىمىنىڭ سىنتېزلىنىشىنى كونترول قىلىش ئارقىلىق مېتابولىزم جەريانىنى كونترول قىلىدىغانلىقىنى، شۇنىڭ بىلەن يەنىمۇ ئىلگىرىلەپ جانلىقلار تېپىلىدىكى بەلگىلەرنى كونترول قىلىدىغانلىقىنى كۆرۈۋېلىشقا بولىدۇ. يەنە مەسىلەن، ئادەمنىڭ ئاقىرىش كېسىلى تىرروزىن ئېنېزىمى (تىرروزىنازا) نى كونترول قىلغۇچى گېننىڭ نورمالسىزلىقى سەۋەبىدىن كېلىپ چىقىدۇ. نورمال ئادەملەرنىڭ تېرىسى ۋە چېچى قاتارلىق جايلىرىدا تىرروزىن ئېنېزىمى بولىدۇ. ئۇ تىرروزىننى قارا پىگمېنتقا ئۆزگەرتىدۇ؛ ئەگەر بىرەر ئادەمدە گېننىڭ نورمالسىزلىقىدىن تىرروزىن ئېنېزىمى كەمچىل بولسا، ئۇنداقتا بۇ ئادەم قارا پىگمېنتنى سىنتېزلىيالمىدۇ - دە، ئاقىرىش كېسىلىگە گىرىپتار بولىدۇ (8.4 - رەسىم).

يۇقىرىدىكى شەكىللەردىن سىرت، گېن يەنە ئاقسىلنىڭ تۈزۈ-

لۈشىنى كونترول قىلىش ئارقىلىقىمۇ جانلىقلارنىڭ بەلگىلىرىنى بىۋاسىتە كونترول قىلىدۇ. تۆۋەندە خال-تىلىق تالا كېسىلىنى مىسال قىلىپ گېننىڭ بۇ خىل كونترول قىلىش رولى تەھلىل قىلىنىدۇ. خال-تىلىق تالا كېسىلى شىمالىي ئامېرىكىدىكى ئاق تەنلىكلەردە دائىم كۆرۈلىدىغان بىر خىل ئىرسىيەت كېسەلىمىكى بولۇپ، بىمارنىڭ تىر سۇيۇقلۇقىدا خلور ئىئونىنىڭ قويۇقلۇقى يۇقىرى بولغانلىقتىن، كانايچىلار نورمالسىز يېپىشقاق سۇيۇقلۇق بىلەن توسۇلۇپ قېلىپ، كۆپىنچە بالىلىق مەزگىلىدىلا ئۆپكە يۇقۇملىنىش سەۋەبىدىن ئۆلۈپ كېتىدۇ. تەتقىقاتلار بۇ كېسەلگە گىرىپتار بولغان تەخمىنەن 70% بىمارلاردا پەردىدىن ھالقىپ ئۆتەلەيدىغان ئاقسىل (CFTR ئاقسىلى) نى كودلاشتۇرىدىغان بىر دانە گېندا ئۈچ دانە ئىشقار رادىكالى كەم بولغانلىقتىن، CFTR ئاقسىلىنىڭ 508 - ئورنىدا فېنىل ئالانىنىڭ كەم بولىدىغانلىقىنى، بۇ يەنىمۇ ئىلگىرىلەپ CFTR ئاقسىلىنىڭ تۈزۈلۈشىگە تەسىر كۆرسەتكەنلىكتىن، CFTR نىڭ خلور ئىئونىنى يۆتكەش فۇنكسىيىسىدە نورمالسىزلىق كۆرۈلۈپ بىمارنىڭ كانايچىلىرىدا يېپىشقاق سۇيۇقلۇق كۆپىيىپ كېتىدىغانلىقىنى، بۇنىڭ بىلەن كانايچە بوشلۇقى توسۇلۇپ، باكتېرىيىلەر ئۆپكە قىسمىدا زور مىقداردا كۆپىيىپ، ئەڭ ئاخىرىدا ئۆپكەنىڭ فۇنكسىيىسىنى ئېغىر بۇزغۇنچىلىققا ئۇچرىتىدىغانلىقى (9.4 - رەسىم) نى كۆرسىتىپ بەردى. بۇ كېسەلنى ھازىرچە بىرەر ئۈنۈملۈك داۋالاش تەدبىرى يوق، بىراق ئېن سەۋەبىدىن بۇ خىل كېسەلنىڭ كېسەللىك سەۋەبىنى چۈشەنسەلا كەلگۈسىدە كىشىلەرنىڭ بۇ خىل

كېسەلنى داۋالانغان مۇۋاپىق ۋە ئۈنۈملۈك ئۇسۇلنى تېپىشىغا بار-  
دىمى بولىدۇ. يەنە مەسىلەن، نورمال گېن كودلاشتۇرغان ھېموگلوبىن-  
بىندىن تەركىب تاپقان قىزىل قان ھۈجەيرىلىرىنىڭ تۈزۈلۈشى نور-  
مال بولغانلىقتىن، يۇمىلاق تەخىمىسىمان كۆرۈنىدۇ؛ ئەمما نورمالسىز  
گېن كودلاشتۇرغان ھېموگلوبىندىن تەركىب تاپقان قىزىل قان ھۈ-  
جەيرىلىرىنىڭ تۈزۈلۈشى نورمال بولمىغانلىقتىن، ئۇنىڭ نورمال  
قۇتقىسىنى تەسىرگە ئۇچرايدۇ.

بۇقىرىدىكى ئەمەلىي مىساللارنىڭ ھەممىسى پەقەت بىر گېننىڭ  
جانلىقلار تېنىدىكى بەلگىلەرنى كونترول قىلىشىدىنلا ئىبارەت. ئىد-  
مەلىيەتتە، گېن بىلەن بەلگىلەرنىڭ مۇناسىۋىتى ئۇنداق ئاددىي ھال-  
دىكى تۈز سىزىقلىق مۇناسىۋەت ئەمەس. مەسىلەن، ئادەمنىڭ بوي  
ئېگىزلىكى نۇرغۇن گېن تەرىپىدىن بەلگىلىنىدىغان بولغاچقا، ئۇنىڭ  
ئىچىدىكى ھەر بىر گېننىڭ بوي ئېگىزلىكىگە نىسبەتەن مەلۇم رولى  
بولدۇ. شۇنىڭ بىلەن بىللە، بوي ئېگىزلىكى يەنە پۈتۈنلەي گېن تە-  
رىپىدىن بەلگىلەنمەستىن، كېيىنكى ئوزۇقلۇق ۋە بەدەن چېنىقتۇ-

CFTR گېنىدا ئۈچ دانە ئىشقا  
رادىكالى كەم بولىدۇ

CFTR ئاقسىل تۈزۈلۈشى نور-  
مالسىز بولغاچقا، قۇتقىسى-  
مە نورمالسىزلىق كۆرۈلىدۇ

بىمارنىڭ كىتابچىلىرى ئىچىدە  
يېپىشقان سۇيۇقلۇق كۆپىيىدۇ

يېپىشقان سۇيۇقلۇقنى چىقىرىۋې-  
تىش ئەسلىتىپ، پاكىتىرىيىلەر  
كۆپىيىپ، ئۆپكەسى يۇقۇملىنىدۇ

9.4 - رەسىم. خالتىلىق تالا كېسە-  
لىنىڭ كېسەللىك سەۋەبلىرى

رۇش قاتارلىقلارنىڭمۇ مۇھىم رولى بولۇشى مۇمكىن.  
گېن بىلەن گېن، گېن بىلەن گېن ھاسىلاتلىرى ۋە گېن بىلەن  
مۇھىت ئوتتۇرىسىدا مۇرەككەپ ئۆزئارا تەسىرلىشىش مەۋجۇت بو-  
لۇپ، بۇ خىل ئۆزئارا تەسىرلىشىش بىر چىگىش، مۇرەككەپ مۇناسى-  
ۋەت تورىنى شەكىللەندۈرۈپ، جانلىقلارنىڭ بەلگىلىرىنى ئىنچىكە-  
لىك بىلەن تەڭشەپ تۇرىدۇ.

ستوپىلازما گېنى ھەققىدە 1962 - يىلى ئالىملار خلامىدوموناس ۋە  
كۆممىقوناق قاتارلىق ئۆسۈملۈكلەر خلوروپلاستىنىڭ دەرىجىدىن تاشقىرى  
نېپىز كېسىندى پېرېپاراتىنى ئېلېكترونلۇق مىكروسكوپتا كۆزىتىش ئارقىلىق،  
خلوروپلاست ئاساسىي ماددىسىدا ئۇزۇنلۇقى تەخمىنەن 20.5nm ئەتراپىدا  
كېلىدىغان ئىنچىكە تالانىڭ بارلىقىنى بايقىغان. بۇ خىل ئىنچىكە تالانى

DNA ئېنىزىمى بىلەن بىر تەرەپ قىلغاندا يوقىلىپ كەتكەن. بۇ خىل ئىنچىكە تالا خلوروپلاست DNA سى ئىكەن-  
لىكىنى ئىسپاتلاپ بېرىدۇ. كېيىن ئالىملار بىئوخىمىيەلىك ئۇسۇللار ئارقىلىق يەنە ھۈجەيرىدىكى خوندېرئوسومدىمۇ  
DNA بولىدىغانلىقىنى ئىسپاتلىغان. خوندېرئوسوم بىلەن خلوروپلاستتىكى DNA لارنىڭ ھەممىسى يېرىمنى قالدۇرۇپ  
ئۆز - ئۆزىنى نۇسخىلىيالايدۇ ھەمدە كۆچۈرۈلۈش ۋە ئاغدۇرۇلۇش ئارقىلىق بەزى ئاقسىللارنى سىنتېزلىيالايدۇ. ھۇ-  
جەيرە يادروسىدىكى گېنلار بىلەن پەرقلەندۈرۈش ئۈچۈن، خوندېرئوسوم بىلەن خلوروپلاستتىكى بۇ گېنلار ستوپىلاز-  
ما گېنى دەپ ئاتىلىدۇ.

ئادەمنىڭ خوندېرئوسوم DNA سى ئۈستىدە ئېلىپ بېرىلغان تەتقىقاتلار، خوندېرئوسوم DNA سىنىڭ كەم بو-  
لۇشى نەچچە ئون خىل ئىنسانلار ئىرسىيەت كېسەللىكلىرى بىلەن مۇناسىۋەتلىك ئىكەنلىكىنى ئىسپاتلىدى. بۇ خىل  
كېسەللىكلەرنىڭ كۆپىنچىسى مېڭە ۋە مۇسكۇل بىلەن مۇناسىۋەتلىك. مەسىلەن، خوندېرئوسوم مۇسكۇل كېسەلى ۋە  
نېرۋا خاراكتېرلىك مۇسكۇل ئاجىزلىقى، ھەرىكەت ئىقتىدارىنى يوقىتىش ۋە كۆرۈش تور پەردىسى ياللۇغى قاتارلىقلار.  
بۇ خىل ئىرسىيەت كېسەللىكلىرىنىڭ ھەممىسى ئانىسى ئارقىلىق ئەۋلادلىرىغا ئىرسىيەت بولۇپ قالىدۇ.

تەنقىدىي تەپەككۈر  
گېن جانلىقلارنىڭ بەلگىلى-  
رىنى كونترول قىلىدۇ، دېگەن بۇ  
قاراشقا قانداق باھا بېرىسىز؟

كېسەلنى داۋالانغان مۇۋاپىق ۋە ئۈنۈملۈك ئۇسۇلنى تېپىشقا بار-  
دىمى بولىدۇ. يەنە مەسىلەن، نورمال گېن كودلاشتۇرغان ھېموگلوبىن-  
بىندىن تەركىب تاپقان قىزىل قان ھۈجەيرىلىرىنىڭ تۈزۈلۈشى نور-  
مال بولغانلىقتىن، يۇمىلاق تەخىمىسىمان كۆرۈنىدۇ؛ ئەمما نورمالسىز  
گېن كودلاشتۇرغان ھېموگلوبىندىن تەركىب تاپقان قىزىل قان ھۈ-  
جەيرىلىرىنىڭ تۈزۈلۈشى نورمال بولمىغانلىقتىن، ئۇنىڭ نورمال  
قۇتقىسىنى تەسىرگە ئۇچرايدۇ.

بۇقىرىدىكى ئەمەلىي مىساللارنىڭ ھەممىسى پەقەت بىر گېننىڭ  
جانلىقلار تېنىدىكى بەلگىلەرنى كونترول قىلىشىدىنلا ئىبارەت. ئىد-  
مەلىيەتتە، گېن بىلەن بەلگىلەرنىڭ مۇناسىۋىتى ئۇنداق ئاددىي ھال-  
دىكى تۈز سىزىقلىق مۇناسىۋەت ئەمەس. مەسىلەن، ئادەمنىڭ بوي  
ئېگىزلىكى نۇرغۇن گېن تەرىپىدىن بەلگىلىنىدىغان بولغاچقا، ئۇنىڭ  
ئىچىدىكى ھەر بىر گېننىڭ بوي ئېگىزلىكىگە نىسبەتەن مەلۇم رولى  
بولىدۇ. شۇنىڭ بىلەن بىللە، بوي ئېگىزلىكى يەنە پۈتۈنلەي گېن تە-  
رىپىدىن بەلگىلەنمەستىن، كېيىنكى ئوزۇقلۇق ۋە بەدەن چېنىقتۇ-  
رۇش قاتارلىقلارنىڭمۇ مۇھىم رولى بولۇشى مۇمكىن.

گېن بىلەن گېن، گېن بىلەن گېن ھاسىلاتلىرى ۋە گېن بىلەن  
مۇھىت ئوتتۇرىسىدا مۇرەككەپ ئۆزئارا تەسىرلىشىش مەۋجۇت بو-  
لۇپ، بۇ خىل ئۆزئارا تەسىرلىشىش بىر چىڭگىش، مۇرەككەپ مۇناسى-  
ۋەت تورىنى شەكىللەندۈرۈپ، جانلىقلارنىڭ بەلگىلىرىنى ئىنچىكە-  
لىك بىلەن تەڭشەپ تۇرىدۇ.

ستوپىلازما گېنى ھەققىدە 1962 - يىلى ئالىملار خلامىدوموناس ۋە  
كۆممىقوناق قاتارلىق ئۆسۈملۈكلەر خلوروپلاستىنىڭ دەرىجىدىن تاشقىرى  
نېپىز كېسىندى پېرېپاراتىنى ئېلېكترونلۇق مىكروسكوپتا كۆزىتىش ئارقىلىق،  
خلوروپلاست ئاساسىي ماددىسىدا ئۇزۇنلۇقى تەخمىنەن 20.5nm ئەتراپىدا  
كېلىدىغان ئىنچىكە تالانىڭ بارلىقىنى بايقىغان. بۇ خىل ئىنچىكە تالانى

DNA ئېنىزىمى بىلەن بىر تەرەپ قىلغاندا يوقىلىپ كەتكەن. بۇ خىل ئىنچىكە تالا خلوروپلاست DNA سى ئىكەن-  
لىكىنى ئىسپاتلاپ بېرىدۇ. كېيىن ئالىملار بىئوخىمىيەلىك ئۇسۇللار ئارقىلىق يەنە ھۈجەيرىدىكى خوندېرئوسومدىمۇ  
DNA بولىدىغانلىقىنى ئىسپاتلىغان. خوندېرئوسوم بىلەن خلوروپلاستتىكى DNA لارنىڭ ھەممىسى يېرىمنى قالدۇرۇپ  
ئۆز - ئۆزىنى نۇسخىلىيالايدۇ ھەمدە كۆچۈرۈلۈش ۋە ئاغدۇرۇلۇش ئارقىلىق بەزى ئاقسىللارنى سىنتېزلىيالايدۇ. ھۇ-  
جەيرە يادروسىدىكى گېنلار بىلەن پەرقلەندۈرۈش ئۈچۈن، خوندېرئوسوم بىلەن خلوروپلاستتىكى بۇ گېنلار ستوپىلاز-  
ما گېنى دەپ ئاتىلىدۇ.

ئادەمنىڭ خوندېرئوسوم DNA سى ئۈستىدە ئېلىپ بېرىلغان تەتقىقاتلار، خوندېرئوسوم DNA سىنىڭ كەم بو-  
لۇشى نەچچە ئون خىل ئىنسانلار ئىرسىيەت كېسەللىكلىرى بىلەن مۇناسىۋەتلىك ئىكەنلىكىنى ئىسپاتلىدى. بۇ خىل  
كېسەللىكلەرنىڭ كۆپىنچىسى مېڭە ۋە مۇسكۇل بىلەن مۇناسىۋەتلىك. مەسىلەن، خوندېرئوسوم مۇسكۇل كېسەلى ۋە  
نېرۋا خاراكتېرلىك مۇسكۇل ئاجىزلىقى، ھەرىكەت ئىقتىدارىنى يوقىتىش ۋە كۆرۈش تور پەردىسى ياللۇغى قاتارلىقلار.  
بۇ خىل ئىرسىيەت كېسەللىكلەرنىڭ ھەممىسى ئانىسى ئارقىلىق ئەۋلادلىرىغا ئىرسىيەت بولۇپ قالىدۇ.

CFTR گېنىدا ئۈچ دانە ئىشقا  
رادىكالى كەم بولىدۇ

CFTR ئاقسىل تۈزۈلۈشى نور-  
مالسىز بولغاچقا، قۇتقىسى-  
مە نورمالسىزلىق كۆرۈلىدۇ

بىمارنىڭ كىتابچىلىرى ئىچىدە  
يېشىغان سۇيۇقلۇق كۆپىيىدۇ

يېشىغان سۇيۇقلۇقنى چىقىرۇپ،  
ئىش تەسلىشىپ، پاكىتىرى-  
كۆپىيىپ، ئۆپكەسى يۇقۇملىنىدۇ

9.4 - رەسىم. خالتىلىق تالا كېسە-  
لىنىڭ كېسەللىك سەۋەبلىرى

تەنقىدىي تەپەككۈر  
گېن جانلىقلارنىڭ بەلگىلى-  
رىنى كونترول قىلىدۇ، دېگەن بۇ  
قاراشقا قانداق باھا بېرىسىز؟

قۇرۇقچىلىق  
سۇيۇقلۇق  
ئورگانىزىم



ماھارەت مەشىقى

پەرەزنى ئوتتۇرىغا قويۇش، يەكۈن چىقىرىش

گېنېتىكا ئالىملىرى مۇنداق بىر تەجرىبە ئىشلىگەن: نورمال يېتىلىش تېمپېراتۇرىسى 25°C بولغان ئۇ-زۇن قانات مېۋە چىۋىنىنىڭ تۇخۇمىدىن چىققىنىغا ئەمدىلا 4 - 7 كۈن بولغان ئۇزۇن قاناتلىق لىچىنكىسىدە - 35 - 37°C لۇق مۇھىتقا قويۇپ بېرىپ، 6 - 24h بىر تەرەپ قىلغاندىن كېيىن جالا قانات مېۋە چىۋىنىگە ئېرىشكەن، بۇ جالا قانات مېۋە چىۋىنىلىرى نورمال مۇھىت تېمپېراتۇرىسى ئاستىدا ھاسىل قىلغان كېيىنكى ئەۋلادلىرى يەنىلا ئۇزۇن قانات بولۇپ يېتىلگەن.

1. جالا قانات مېۋە چىۋىنىنىڭ كۆرۈلۈش سەۋەبلىرى ئۈستىدە قاراتمىلىقى بولغان ھالدا پەرىزىڭىزنى ئوتتۇرىغا قويۇپ، چۈشەندۈرۈپ بېقىڭ.

كۆرسەتمە: قاناتنىڭ يېتىلىشى ئېنېزىم كاتالىزاتور - لۇقىدىكى رېئاكسىيە ئارقىلىق بولامدۇ؟ ئېنېزىم بىلەن گېننىڭ مۇناسىۋىتى قانداق بولىدۇ؟ ئېنېزىم بىلەن تېمپېراتۇرىنىڭ مۇناسىۋىتى قانداق بولىدۇ؟

2. بۇ تەجرىبە گېن بىلەن بەلگىلەرنىڭ مۇناسىۋىتى قانداق بولىدىغانلىقىنى چۈشەندۈرىدۇ؟



ئۇزۇن قانات مېۋە چىۋىنى (سولدا) بىلەن جالا قانات مېۋە چىۋىنى (ئوڭدا)

مەشىق

I ئاساس سوئال

1. گېن، ئاقسىل ۋە بەلگىلەر ئوتتۇرىسىدىكى مۇناسىۋەتكە ئائىت تۆۋەندىكى بايانلاردىن خاتاسى:
  - A. جانلىقلار تېنىدىكى بەلگىلەرنى پۈتۈنلەي گېن كونترول قىلىدۇ
  - B. ئاقسىلنىڭ تۈزۈلۈشى بىۋاسىتە بەلگىلەرگە تەسىر كۆرسىتىدۇ
  - C. گېنلارنىڭ بەلگىلەرنى كونترول قىلىشى ئاقسىللارنىڭ سىنتېزلىنىشىنى كونترول قىلىش ئارقىلىق ئەمەلگە ئاشىدۇ
  - D. ئاقسىلنىڭ فۇنكسىيىسى بەلگىلەرگە تەسىر كۆرسىتىدۇ

جاۋابى: [ A ]

2. تۆۋەندىكىدەك ئىپادىلەشلەرنىڭ توغرا - خاتالىقىغا ھۆكۈم قىلىڭ.
  - (1) گېن بىلەن بەلگىلەر ئوتتۇرىسىدا بىر - بىرىگە ماس كېلىش مۇناسىۋىتى بولىدۇ. (✓)
  - (2) گېن ئېنېزىملارنىڭ سىنتېزلىنىشىنى كونترول قىلىش ئارقىلىق جانلىقلار تېنىدىكى بارلىق بەلگىلەرنى كونترول قىلىدۇ. (X)
  - (3) مەركەز قانۇنىيىتى ئىرسىيەت ئۇچۇرلىرىنىڭ ھۈجەيرىدىكى يەتكۈزۈلۈش قانۇنىيىتىنى يەكۈنلەپ چىقتى. (✓)

ھىلەلەتلىك خىمىيە ئۈچۈن تەييارلىق

II كېڭەيتىمە سوئال

1. مېۋە چىۋىنىنىڭ قىزىل كۆز بولۇپ يېتىلىشىدىكى سۈپەتتە مەۋەب قىزىل رەڭلىك پىگمېنتنىڭ شەكىللىنىشىدىن ئىبارەت، ئەمما قىزىل رەڭلىك پىگمېنتنىڭ شەكىللىنىشى ئۈچۈن بىر قاتار سىتوخىمىيەلىك رېئاكسىيەلەرنى بىر-بىرىگە ئۇتۇشكە توغرا كېلىدۇ، ھەر بىر رېئاكسىيەگە چېتىلىدىغان ئېنېرژىيە مەنبەسى ھالدىكى گېن بىلەن مۇناسىۋەتلىك. شۇڭا قىزىل كۆز بولۇپ يېتىلىش ئەمەلىيەتتە كۆپ گېنلارنىڭ بىرلىكتە ھەمكارلىشىپ تەسىر كۆرسىتىشىنىڭ نەتىجىسىدۇر. بىراق، ئالىملار ئۇلارنىڭ ئىچىدىكى بەقەت نوساتتىن ئۆزگىرىشى بىلەن قىزىل كۆزنى شەكىللەندۈرمەيدىغان گېننى قىزىل كۆز گېنى دەپ ئاتىغان. يۇقىرىدىكى ئەمەلىيەتكە ئاساسەن، قىزىل كۆز بولۇپ شەكىللىنىش بىلەن قىزىل كۆز گېنىنىڭ مۇناسىۋىتىنى تەھلىل قىلىڭ. **پەن ئىلمى: مۇناسىۋەتلىك گېنلارنىڭ تەسىرى**
2. مورگان ئاق كۆزدىن ئىبارەت بۇ بىر نورمالسىز بەلگە ئارقىلىق مېۋە چىۋىنىنىڭ كۆز رەڭگىنى كونترول قىلىدىغان گېننى بايقىغان. يەنە نۇرغۇن ئالىملارمۇ جانلىقلار تېنىدىكى نورمالسىز بەلگىلەر ئۈستىدە تەكشۈرۈش ئېلىپ بېرىپ، مۇناسىۋەتلىك گېنلارنىڭ رولىنى تەتقىق قىلغان. ئويلاپ بېقىڭ، بۇ زادى نېمە ئۈچۈن؟

ئىلىم - پەن يېتىللىقلىرى



بىئولوگىيە ئۈچۈن ئىلمى

— بىئولوگىيە كومپيۇتېر ئىلمى بىلەن يۇغۇرۇلۇپ گۈللىنىۋاتقان يېڭى پەن

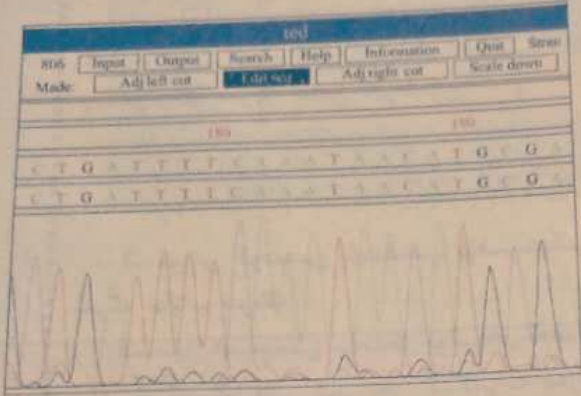
ئۆتكەن نەچچە ئون يىل داۋامىدا، بىئولوگىيە بىلەن كومپيۇتېر ئىلمى ئۇچقاندەك تېز تەرەققىي قىلدى. ستاتىستىكىغا ئاساسلانغاندا، DNA رەت تەرتىپىگە ئائىت سانلىق مەلۇماتلار ئوتتۇرا ھېساب بىلەن ھەر 14 ئايدا بىر ھەسسە ئاشىدۇ، كومپيۇتېرنىڭ ھېسابلاش سۈرئىتى ئوتتۇرا ھېساب بىلەن ھەر 18 ئايدا بىر ھەسسە ئاشىدۇ. كۈندىن - كۈنگە كۆپىيىۋاتقان DNA رەت تەرتىپىگە ئائىت سانلىق مەلۇماتلار زور مىقداردىكى سانلىق مەلۇماتلارنى بىر تەرەپ قىلىش ئەسۋابىغا موھتاج. ھالبۇكى، كومپيۇتېر دەل مۇشۇ خىل ئىقتىدارنى ھازىرلىغان. بىئوئۇچۇر ئىلمى مۇشۇ ئىككى پەننىڭ ئۆزئارا بىر - بىرىگە سىڭىپ كىرىشى ئارقا كۆرۈنۈشىدە مەيدانغا كەلگەن.

بىئوئۇچۇر ئىلمىنىڭ چېتىلىش دائىرىسى ناھايىتى كەڭ، گېن گۇرۇپپىسى ھەققىدىكى سانلىق مەلۇماتلارنى تەھلىل قىلىش نۇقتىسىدىن ئېلىپ ئېيتقاندا، ئاساسلىقى يادرو كىسلاتا بىلەن ئاقسىلنىڭ رەت تەرتىپىگە ئائىت سانلىق مەلۇماتلارنىڭ كومپيۇتېردا بىر تەرەپ قىلىنىشى ۋە تەھلىل قىلىنىشىنى يەنى تېز ھېسابلاش ئىقتىدارىغا ئىگە كومپيۇتېر ئارقىلىق مىليونلىغان رەت تەرتىپى سانلىق مەلۇماتلىرىنى بىر تەرەپ قىلىپ، DNA دىكى ئىشقا رادىكاللىرى تەرتىپىدە زادى قايسى ئۇچۇرلار بار؟ بۇ ئۇچۇرلار ئورگانىزمنىڭ يېتىلىشىنى قانداق كونترول قىلىدۇ؟ گېن گۇرۇپپىسىنىڭ ئۆزى يەنە قانداق تەرەققىي قىلىدۇ؟ دېگەنگە ئوخشاش مەسىلىلەرنى كۆرسەتمەيدۇ.

20 - ئەسىرنىڭ 90 - يىللىرىدىن بۇيان، ھەر خىل گېن گۇرۇپپىلىرىنىڭ رەت تەرتىپىنى ئۆلچەش پىلانىنىڭ يۈكسىلىشى ۋە ئىنتېرنېت تورىنىڭ ئومۇملىشىشىغا ئەگىشىپ، بىئولوگىيەلىك سانلىق مەلۇمات ئامبارلىرى خۇددى يامغۇردىن كېيىنكى باسبۇكتەك تېز بارلىققا كەلدى ۋە زورايىدى. خەلقئارالىق يادرو كىسلاتا رەت تەرتىپى سانلىق مەلۇمات ئامبارلىرى ئىچىدە، تەسىرى ئەڭ زور بولغان ئۈچ سانلىق مەلۇمات ئامبارى ئامېرىكىدىكى Gen Bank، ياۋروپا مولېكۇلا بىئولوگىيەسى تەجرىبىخانىسىدىكى EMBL ۋە ياپونىيىدىكى DDBJ قاتارلىقلاردىن

ئىبارەت.

نوبىل مۇكاپاتىغا ئېرىشكەن گىلبېرت (W. Gilbert) 1991 - يىلى مۇنداق دەپ كۆرسەتكەن: «ئەنئەنىۋىي بىر-  
بىر دېگۈدەك چۈشەنچىلىك ھەمدە ئېلېكترون مەشغۇلات شەكلىدە سانلىق مەلۇمات ئامبىرىغا كىرىپ بولىدۇ.  
رېسۇى يەرزى چىقىش قىلىپ تەجرىبىگە كىرىپ كەتسىلا بۇ نەزەرىيىۋى يەرزى ئىزدەيدىدۇ ۋە ئىسپاتلا-  
يالايدۇ.»



DNA رەت تەرتىپىنى ئانالىز قىلىش



DNA رەت تەرتىپىنى ئېنىقلاش ئەسۋابى

### § 3 . ئىرسىيەت كودلىرىنىڭ تەرجىمە قىلىنىشى (تاللاپ ئۆگىنىلىدۇ)

#### مەسىلىلەر ئۈستىدە مۇھاكىمە

مورس كودى بىر خىل تېلېگرافى مەخپىي شىفېردىن ئىبارەت.

1. سىز سول تەرەپتىكى مورس كودى جەدۋىلىگە ئاساسەن، تۆۋەندىكى مورس كودىدىن پايدىلىنىپ يېزىلغان مەسىلىلەرنى ئىنگلىزچىگە تەرجىمە قىلىڭ، ھەربىر كود ئا-زىلىقى يانتۇ سىزىق بىلەن ئايرىلسۇن.

—••//•—//—/••••/•//•—•//•//•—//  
 •—•//•//—•//•//•—•//•//•••//•—••//  
 —•—//—•••//•—//—/•//—•••//

2. مورس كودىدىن پايدىلىنىپ يۇقىرىدىكى مەسىلىلەرگە جاۋاب بېرىڭ.

3. سول تەرەپتىكى جەدۋەل بولمىغان ئەھۋالدا، سىز مورس كودىدىن پايدىلىنىپ يېزىلغان جۈملىلەر ۋە ئۇنىڭغا ماس كېلىدىغان ئىنگلىزچە ھەرپلەرگە ئاساسەن مورس كودىنى تەرجىمە قىلىپ، سول تەرەپتىكى جەدۋەلدىكىدەك كود جەدۋىلىنى خۇلاسەلەپ چىقالامسىز؟



مورس كودى جەدۋىلى

#### بۇ پاراگرافنىڭ مۇھىم نۇقتىسى

- ئىرسىيەت كودلىرى قانداق تەرجىمە قىلىنىدۇ؟
- ئىرسىيەت كودلىرىنىڭ قانداق ئالاھىدىلىكى بار؟

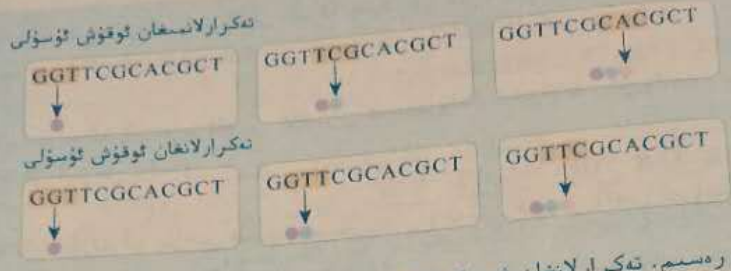
ئىرسىيەت كودلىرىنىڭ تەرجىمە قىلىنىشى بىئولوگىيە تارىخىدىكى بىر ئۇلۇغ ئابىدە. 1953 - يىلى DNA نىڭ قوش بۇرمىلىق تۈزۈلۈش مودېلى ئوتتۇرىغا قويۇلغاندىن كېيىن، ئالىملار ئىرسىيەت كودلىرىنى تەرجىمە قىلىشنى چۆرىدىگەن ھالدا تولۇق يۈزلىشىش بويىچە ئىزدىنىشنى قانات يايدۇردى. گاموۋ (G.Gamov, 1904 ~ 1968) ئۈچ دانە ئىششار رادىكالى بىر دانە ئامىنو كىسلاتانى كودلاشتۇرىدۇ دېگەن پەرەزنى ئوتتۇرىغا قويغاندىن كېيىن، ئالىملار يەنە ئۈچ لۈكسىز پەرەز قىلىش ۋە تەجرىبە ئىشلەش ئارقىلىق ئاخىرىدا بۇلارغا جاۋاب تاپتى.

#### ئىرسىيەت كودلىرىنى ئوقۇش ئۇسۇلى

«مەسىلىلەر ئۈستىدە مۇھاكىمە» دىكى مورس كودىنىڭ يېزىلىش مەسىلىسىنى ئەسكە ئالساق، ئۇنىڭدىكى ھەربىر كودون ئارىلىقى يانتۇ سىزىق بىلەن ئايرىلغان، ئوقۇغاندا پەقەت كودلارنى بىر - بىرلەپ تەرجىمە قىلىپ قويسا كۇپايە. ئىرسىيەت كودلىرىنى خۇلاسەلەپ، ئەگەر ئۈچ دانە ئىششار رادىكالى بىر دانە ئامىنو كىسلاتانى بەلگىلىسە، ئۇنداقتا ئۈچ دانە ئىششار رادىكالىنى بىر ئوقۇش بىرلىكى قىلىشقا



بولامدۇ قانداق؟ تەرتىپ بويىچە ئوقۇغاندىچۇ؟ نەزەرىيە جەھەتتىن تەھلىل قىلغاندا، بۇ خىل ئۇسۇلدىن سىرت يەنە بىر خىل ئوقۇش ئۇسۇلى - تەكرارلانغان ئوقۇش ئۇسۇلى (10.4 - رەسىم) بار. ئالمىلار ئېمە ئۈچۈن ئىرسىيەت كودلىرىنىڭ ئوقۇلۇش ئۇسۇلىنى تەھلىل قىلىدۇ؟ چۈنكى ئوخشاش بىر دانە ئىشقار رادىكالى تەرتىپنىڭ ئوخشىمىغان ئوقۇلۇش ئۇسۇلىدا يېشىپ بېرىدىغان مەنىسى پۈتۈنلەي ئوخشاش بولمايدۇ. ئىرسىيەت كودلىرىنىڭ مەنىسىنى توغرا چۈشىنىش ئۈچۈن، چوقۇم كودلارنىڭ ئوقۇ-لۇش ئۇسۇلىنى ياخشى ئىگىلەش كېرەك.



10.4 - رەسىم. تەكرارلانغان ۋە تەكرارلانمىغان ئۇسۇلدا DNA تەرتىپىنى ئوقۇش

مۇلاھىزە ۋە مۇھاكىمە



1. رەسىمدىكى DNA نىڭ 3 - ئىشقار رادىكالى (T) دا ئۆزگىرىش كۆرۈلگەندە، ئەگەر كودلار تەكرارلانمىغان بولسا، بۇ خىل ئۆزگىرىش قانچە دانە ئامىنو كىسلاتاغا تەسىر كۆرسىتىدۇ؟ ئەگەر كودلار تەكرارلانغان بولسا، يەنە قانداق تەسىر كۆرسىتىدۇ؟
2. رەسىمدىكى DNA نىڭ 3 - ئىشقار رادىكالى (T) نىڭ كەينىگە يەنە بىر ئىشقار رادىكالى A قىستۇرۇلغان بولۇپ، ئەگەر كودلار تەكرارلانمىغان بولسا، بۇ خىل ئۆزگىرىش قانچە دانە ئامىنو كىسلاتاغا تەسىر كۆرسىتىدۇ؟ ئەگەر كودلار تەكرارلانغان بولسا، يەنە قانداق تەسىر كۆرسىتىدۇ؟ ئەگەر ئىككى ياكى ئۈچ ئىشقار رادىكالى قىستۇرۇلغان بولسىچۇ؟

كرىكنىڭ تەجرىبە ئىسپاتى

ئىرسىيەت كودلىرى راستتىنلا ئۈچ دانە ئىشقار رادىكالىنىڭ بىر گۇرۇپپا قىلىنىشىمۇ؟ ئىرسىيەت كودلىرىنىڭ ئوقۇلۇش ئۇسۇلى ھەقىقەتەن تەكرارلانمىدۇ ياكى تەكرارلانمىدۇ؟ كود ئارىلىقىدا ئايرىش بەلگىسى بولامدۇ - يوق؟ بۇ مەسىلىلەرگە جاۋاب بېرىشتە پەقەت نەزەرىيە پەرەزگىلا تايىنىۋالماي، چو-قۇم تەجرىبە ئىسپاتى بولۇش كېرەك. ئالىم كرىك ۋە ئۇنىڭ خىزمەتداشلىرى نۇرغۇن تەجرىبە ئىشلەش ئارقىلىق، 1961 - يىلى بۇ مەسىلىلەرگە ئاخىر جاۋاب تاپقان.

كرىك T<sub>4</sub> باكتېرىئوفاگىنى تەجرىبە ماتېرىيالى قىلىپ، ئۇنىڭدىكى مەلۇم بىر گېندىكى ئىشقار رادىكا-لىنىڭ كۆپىيىشى ياكى ئازىيىشىنىڭ ئۇ كودلاشتۇرغان ئاقسىلغا كۆرسىتىدىغان تەسىرىنى تەتقىق قىل-غان. نەتىجىدە ئۇ، مۇناسىۋەتلىك ئىشقار رادىكالى تەرتىپىگە بىر دانە ئىشقار رادىكالىنى قوشقان ياكى چى-قىرىۋەتكەندە، نورمال فۇنكسىيىگە ئىگە ئاقسىل ھاسىل بولمايدىغانلىقىنى؛ ئىككى دانە ئىشقار رادىكالىنى قوشقان ياكى چىقىرىۋەتكەندەمۇ ئوخشاشلا نورمال فۇنكسىيىگە ئىگە ئاقسىلنىڭ ھاسىل بولمايدىغانلىقىدە-

ئى: ئەمما ئۈچ دانە ئىشقا رادىكالنى قوشقان ياكى چىقىرىۋەتكەن بولسا، نورمال فۇنكسىيىگە ئىگە ئاق سىلىنىك سىنتېزلىنىدىغانلىقىنى بايقىغان، نېمە ئۈچۈن مۇشۇنداق نەتىجە كۆرۈلىدۇ؟ سىز تۆۋەندىكى ئەمەلىي مىسالغا بىرلەشتۈرۈپ، سېلىشتۇرما تەھلىل قىلىڭ.

THE FAT CAT ATE THE BIG RAT

جۈملىدىكى ھەر بىر ئاق سۆز ئۈچ ھەرپتىن تۈزۈلگەن، يەتتە ئاق سۆز تۇتىشىپ بىر جۈملىگە ئايلانغان.

THE FAT CAR TAT ETH EBI GRA T

3 - ئاق سۆزگە بىر R ھەرپى قىستۇرۇلغان، شۇڭا بەنلا ئۈچ ھەرپ بىر ئاق سۆزنى تۈزۈشتەك ئوقۇش ئۇسۇلى بويىچە ئوقۇغاندا قىستۇرۇلغان ئورۇندىن باشلانغان بارلىق ئاق سۆزلەردە ئۆزگىرىش بولىدۇ.

THE FAT CAR TAR TET HEB IGR AT

3 - ۋە 4 - ئاق سۆزلەرگە ئايرىم - ئايرىم R ھەرپى قىستۇرۇلغان، شۇڭا قىستۇرۇلغان ئورۇندىن باشلانغان بارلىق ئاق سۆزلەردە ئۆزگىرىش بولىدۇ.

THE FAT CAR TAR TOE THE BIG RAT

3 - 4 - 5 - ئاق سۆزلەرگە بىردىن ھەرپ قىستۇرۇلغان ۋاقىتتا، قىستۇرۇلغان ئورۇندىكى ئاق سۆزلەردىن سىرت، باشقا قىسمىدىكى ئاق سۆزلەردە ئۆزگىرىش بولمايدۇ.

كرىك ئىرسىيەت كودلىرىدا ئۈچ دانە ئىشقا رادىكالنىڭ بىر دانە ئامىنو كىسلاتانى كودلاشتۇرىدىغانلىقىنى تۇنجى قېتىم تەجرىبە ئارقىلىق ئىسپاتلىغان ئالم. بۇ تەجرىبە يەنە: ئىرسىيەت كودلىرىنىڭ مۇقىم بىر باشلىنىش نۇقتىسىدىن باشلىنىپ، تەكرارلانمايدىغان ئوقۇلۇش ئۇسۇلىدا ئوقۇلىدىغانلىقىنى، كودلاشتۇرۇش ئارقىلىقىدا ئايرىش بەلگىسىنىڭ بولمايدىغانلىقىنى كۆرسىتىپ بەردى.

### ئىرسىيەت كودلىرى ماسلىق قائىدىسىنىڭ بايقىلىشى

كرىكنىڭ تەجرىبىسى گەرچە ئىرسىيەت كودلىرىنىڭ ئومۇمىي ئالاھىدىلىكىنى شەرھىلەپ بەرگەن بولمىمۇ، ئەمما ئۈچ دانە ئىشقا رادىكالنى تىزىلىپ ھاسىل قىلغان بىر دانە كودقا ماس كېلىدىغىنى زادى قايسى ئامىنو كىسلاتا ئىكەنلىكىنى چۈشەندۈرۈشكە ئامالسىز قالغان. كرىكنىڭ تەجرىبىسى تاماملانغان شۇ يىلى، نامى چىقىمىغان ئىككى ياش نىرېنبرگ (M. W. Nirenberg, 1927 — 2010) بىلەن ماتاي (H. Matthaei, 1929 — ) تۇنجى ئىرسىيەت كودىنى تەرجىمە قىلغان.

ئۇلارنىڭ پىكىر يولى كرىكنىڭكىگە پۈتۈنلەي ئوخشىمىغان، ئۇلار ئاقسىلنى تەن سىرتىدا سىنتېزلاش تېخنىكىسىنى قوللانغان. ئۇلار ئالدى بىلەن ھەر بىر پروبىر كىغا ئايرىم - ئايرىم بىر خىل ئامىنو كىسلاتا قۇيغان، ئاندىن يەنە DNA بىلەن mRNA چىقىرىۋېتىلگەندىن كېيىنكى ھۈجەيرىدىن ئايرىۋالغان سۈيۈكە. لۇقنى ھەمدە سۈنئىي سىنتېزلانغان پولى ئۇراتسىل نۇكلېئوتىدلىق RNA نى قۇيغان. نەتىجىدە فېنىل ئالانىن قوشۇلغان پروبىر كىدا پولى فېنىل ئالانىننىڭ پېپتىد زەنجىرى (11.4 - رەسىم) كۆرۈلگەن.

تەجرىبە نەتىجىسى، پولى ئۇراتسىل نۇكلېئوتىدنىڭ پولى فېنىل ئالانىننىڭ سىنتېزلىنىشىنى كەلتۈرۈپ چىقىرىدىغانلىقىنى، پولى ئۇراتسىل نۇكلېئوتىدنىڭ ئىشقا رادىكالى تەرتىپى كۆپلىگەن ئۇراتسىل (UUUU... ) دىن تۈزۈلىدىغانلىقىنى، بۇنىڭدىن ئۇراتسىلنىڭ ئىشقا رادىكالى تەرتىپى فېنىل ئالانىندىن تۈزۈلگەن پېپتىد زەنجىرىنى كودلاشتۇرىدىغانلىقىنى كۆرۈۋېلىشقا بولىدىغانلىقىنى چۈشەندۈرۈپ بەردى. كرىك كەلتۈرۈپ چىقارغان ئۈچ

نېمە ئۈچۈن ھۈجەيرىدىن ئايرىۋېلىنغان سۈيۈكەلۈقتىكى DNA بىلەن mRNA چىقىرىۋېتىلىدۇ؟



11.4 - رەسىم. ئاقسىلنى تەن سىرتىدا سىنتېزلاش تەجرىبىسى

دائە ئىشقا رادىكالى بىر دانە ئامىنو كىسلاتانى بەلگىلەشتىن ئىبارەت تەجرىبە يەكۈنى بىلەن بىرلەشتۈرگەندە، فېنىل ئالانىن بىلەن ماس كېلىدىغان كودونلار چوقۇم UUU بولۇشى كېرەك. شۇنىڭدىن كېيىنكى ئالتە - يەتتە يىل ئىچىدە، ئالىملار ئاقسىلنى تەن سىرتىدا سىنتېزلاشتىن ئىبارەت بۇ پىكىر يولىنى بويلاپ، تەجرىبە ئۇسۇلىنى ئۈزلۈكسىز ئۆزگەرتىپ، ئاخىر بارلىق كودونلارنى تەرجىمە قىلىپ چىققان ھەمدە كودون جەدۋىلى (1.4 - جەدۋەل) نى تۈزۈپ چىققان.

ئەگەر سىز نىرېنېرگ ياكى ما-تاي بولسىڭىز سېلىشتۇرما كۆرۈپىيا تەجرىبىسىنى قانداق لايىھىلەپ، بۇ غايەت زور بايقىشىڭىزنى كەسىپداش-لىرىڭىزنىڭ ھەقىقىي ئېتىراپ قىلىشىغا ئېرىشتۈرەلەيسىز؟

## مەشىق

### I ئاساس سوئال

1. mRNA مولېكۇلىسىنى تۈزگۈچى تۆت خىل نۇكلېئوتىد قانچە خىل كودوننى تۈزىدۇ؟

- A. 16      B. 32      C. 46      D. 64

جاۋابى: [      ]

2. مۇشۇ پاراگرافنىڭ «مەسىلىلەر ئۈستىدە مۇھاكىمە» قىسمىدىكى مورس كودى بىلەن ئىرسىيەت كودلىرىنىڭ ئوخشاشلىق ۋە پەرقلىق تەرەپلىرىنى سېلىشتۇرۇپ، ئىرسىيەت كودلىرىنىڭ ئالاھىدىلىكىنى خۇلاسەلەپ چىقىڭ.

### II كېڭەيتىمە سوئال

كرىك بىلەن نىرېنېرگ قوللانغان تەجرىبە ئۇسۇللىرىنى ئۆزئارا سېلىشتۇرۇپ، بۇ ئىككى خىل ئۇسۇلنىڭ ھەرقايسىسىدا قانداق ئارتۇقچىلىق ۋە يېتەرسىزلىكلەر بارلىقىنى ئويلاپ بېقىڭ.

## بۇ بايتىن قىسقىچە خۇلاسە

كېنىنىڭ ئىپادىلىنىشى ئاقسىلنىڭ سىنتېزلىنىشىنى DNA بىلەن كونترول قىلىش ئارقىلىق -  
لىق ئەمەلگە ئاشىدۇ. ئاقسىلنىڭ سىنتېزلىنىشى - كۆپۈرۈلۈش بىلەن ئاغدۇرۇلۇشتىن ئىبارەت  
ئىككى باسقۇچنى ئۆز ئىچىگە ئالىدۇ. كۆپۈرۈلۈش ھۈجەيرە يادروسىدا ئېلىپ بېرىلىدۇ. بۇ  
DNA نىڭ بىر تال زەنجىرىنى ئۆلكە قىلىپ، ئىشقار رادىكالىرىنىڭ بىر - بىرىنى تولۇقلاپ  
چۆپ تۈزۈش پەرىمىسى بويىچە، mRNA نىڭ سىنتېزلىنىش جەريانىدۇر. ئاغدۇرۇلۇش سە -  
توھپىسىدا ئېلىپ بېرىلىدۇ. بۇ mRNA نى ئۆلكە قىلىپ، مۇئەييەن ئامىنو كىسلاتا تەرتىپ -  
پىكىگە ئىگە ئاقسىلنىڭ سىنتېزلىنىش جەريانىنى كۆرسىتىدۇ. mRNA دىكى ئىزقارا قوشما  
بولغان ئۈچ دانە ئىشقار رادىكالى بىر دانە ئامىنو كىسلاتانى كودلاشتۇرىدىغان بولغاچقا، بۇ  
ئۈچ دانە ئىشقار رادىكالى يەنە كودون دەپمۇ ئاتىلىدۇ. tRNA ئامىنو كىسلاتالىرىنى ئوشۇغۇ -  
پى قورال، ئۇ mRNA دىكى كودونلارنى پەرقلىنىدۇرلەيدۇ. شۇڭا، ھەر بىر خىل tRNA  
پەقەت بىر خىل ئامىنو كىسلاتانى پەرقلىنىدۇرلەيدۇ ھەم ئوشۇيدۇ. رېپوسوم ھۈجەيرە ئىچىدە  
ئامىنو كىسلاتالىرىدىن پايدىلىنىپ ئاقسىل سىنتېزلىنىدىغان ئورۇندۇر.

مەركەز قانۇنىيىتى ئىرسىيەت ئۆپچۈرلىرىنىڭ ئېقىش يۈنىلىشىنى ئىشەپ بېرىدۇ، ئۇ -  
نىڭ ئاساسلىق مەزمۇنى مۇنداق: يەنى ئىرسىيەت ئۆپچۈرلىرى DNA دىن DNA غا قاراپ  
ئاقىدۇ، يەنى DNA ئۆز - ئۆزىنى نۇسخىلايدۇ، DNA دىن RNA غا قاراپ ئاقىدۇ. بۇ -  
نىڭدىن يەنە ئاقسىلغا قاراپ ئاقىدۇ، يەنى ئىرسىيەت ئۆپچۈرلىرى كۆپۈرۈلىدۇ ۋە ئاغدۇرۇلىدۇ.  
دۇ. ئەمما، ئىرسىيەت ئۆپچۈرلىرى ھەرگىزمۇ ئاقسىلدىن ئاقسىلغا يەتكۈزۈلمەيدۇ، شۇنداقلا  
يەنە ئاقسىلدىن RNA غا ياكى DNA غا قاراپ ئاقمايدۇ. ئۆزگەرتىلگەندىن كېيىنكى  
مەركەز قانۇنىيىتىگە ئىرسىيەت ئۆپچۈرلىرىنىڭ RNA دىن RNA غا قاراپ ئېقىشى ۋە  
RNA دىن DNA غا قاراپ ئېقىشىدىن ئىبارەت بۇ ئىككى يول قوشۇلغان.

كېنلارنىڭ جانلىقلار تېنىدىكى بەلگىلەرنى كونترول قىلىشى ئاقسىللىرىنىڭ سىنتېزلىنىشى -  
گە يېتەكچىلىك قىلىش ئارقىلىق ئەمەلگە ئاشىدۇ. كېنلار ئېنزىملىرىنىڭ سىنتېزلىنىشىنى  
كونترول قىلىش ئارقىلىق مېتابولىزم جەريانىنى كونترول قىلىپ، يەنىمۇ ئىلگىرىلەپ جازە -  
لىقلار تېنىدىكى بەلگىلەرنى كونترول قىلىدۇ؛ شۇنداقلا ئاقسىلنىڭ تۈزۈلۈشىنى كونترول قى -  
لىش ئارقىلىق جانلىقلار تېنىدىكى بەلگىلەرنى بىۋاسىتە كونترول قىلىدۇ.

كېن بىلەن بەلگە ئوتتۇرىسىدىكى مۇناسىۋەت ھەرگىزمۇ ئاددىي ھالدىكى بىر - بىرىگە  
ماس كەلگەن مۇناسىۋەت ئەمەس. بەزى بەلگىلەرنى نۇرغۇن كېنلار ئورتاق بەلگىلىسە، بەزى  
كېنلار كۆپ خىل بەلگىلەرنى بەلگىلەيدۇ ياكى ئۇنىڭغا تەسىر كۆرسىتىدۇ. مۇنداقچە ئېيتقاندا،  
بەلگىلەر كېن بىلەن مۇھىتنىڭ ئورتاق تەسىر كۆرسىتىشىنىڭ نەتىجىسىدۇر.

## ئۆز - ئۆزىنى سىناش

### I ئۇقۇم ھەققىدە سىناش

جەدۋەلنى تولدۇرۇڭ

ئاقسىلنىڭ سىنتېزلىنىش جەريانىدىكى ئىرسىيەت ئۇچۇرلىرىنىڭ يەتكۈزۈلۈشىگە ئاساسەن، جەدۋەلدىكى بوش ئورۇنلارغا ماس كېلىدىغان ئىنگىلىزچە ھەرپلەرنى تولدۇرۇڭ.

			1	DNA قوش زەنجىرى
			2	
C	G	T		mRNA
G	C	A		tRNA
G	C	A		ئامىنو كىسلاتا
C	G	U		ئالانين (كودونى GCA)

### توغرا جاۋابنى تاللاڭ

1. بىر بۆلەك قوش زەنجىرلىك DNA مولېكۇلىسىدا گۇئانىننىڭ ئىگىلىدىغان نىسبىتى 20% ئىكەنلىكى مەلۇم بولسا، بۇ بۆلەك DNA دىن كۆچۈرۈلۈپ چىققان mRNA دا ستوزىننىڭ نىسبىتى قانداق بولىدۇ؟

- A. 10%
- B. 20%
- C. 40%
- D. بېكىتكىلى بولمايدۇ

$$1-3$$

$$500-x$$

$$x=1500$$

جاۋابى: [ D ]

2. بىر تال پولىمېپېتىد زەنجىرىدە 500 دانە ئامىنو كىسلاتا بولسا، ئۇنداقتا بۇ پولىمېپېتىد زەنجىرىنى سىنتېزلىغۇچى mRNA مولېكۇلىسى ۋە mRNA نى كۆچۈرۈشكە ئىشلىتىلىدىغان DNA مولېكۇلىسىدا ئاز دېگەندە قانچە دانە ئىشقار رادىكالى بولىدۇ؟

- A. 1500 دانە ۋە 1500 دانە
- B. 500 دانە ۋە 1000 دانە
- C. 1000 دانە ۋە 2000 دانە
- D. 1500 دانە ۋە 3000 دانە

جاۋابى: [ D ]

3. مەلۇم توشۇغۇچى RNA نىڭ تەتۈر كودونى CAU . ئۇ (A) ئامىنو كىسلاتانى توشۇيدۇ.

- A. ۋالين (GUA)
- B. گىستىدىن (CAU)
- C. تىروزىن (UAC)
- D. مېتىئونىن (AUG)

جاۋابى: [ B ]

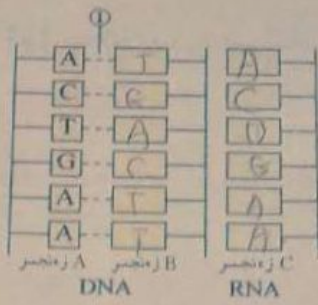
4. DNA نىڭ mRNA نىڭ رەت تەرتىپىنى بەلگىلىشى ( ) ئارقىلىق بولىدۇ.

- A. mRNA نىڭ كودى
- B. DNA نىڭ ئۆز - ئۆزىنى نۇسخىلىشى
- C. ئىشقار رادىكاللىرىنىڭ بىر - بىرىنى تولۇقلاپ جۈپ تۈزۈشى
- D. tRNA نىڭ توشۇشى

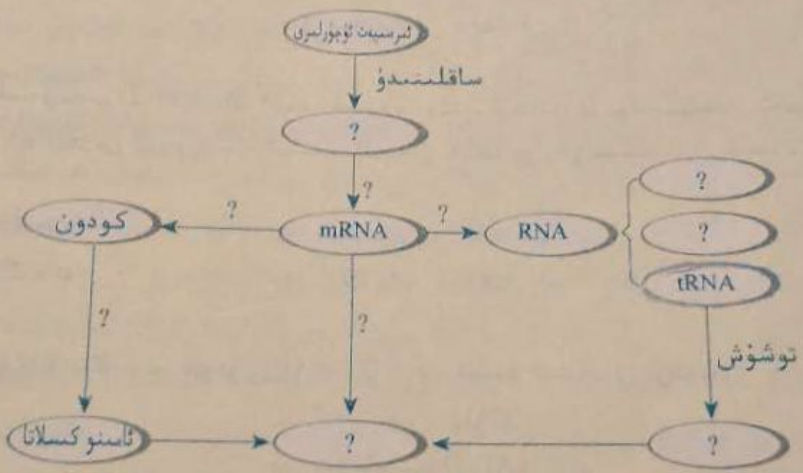
جاۋابى: [ C ]

### رەسىمگە قاراپ جاۋاب بېرىڭ

تۆۋەندىكى رەسىم ئىككى دانە يادرو كىسلاتا مولېكۇلىسىنىڭ بىر قىسمىغا ۋە كىلىلىك قىلىدۇ، رەسىمگە ئاساسەن مەسىلىلەرگە جاۋاب بېرىڭ.



- (1) DNA مولېكۇلىسى تۇسخىلانغان ۋاقىتتا، رەسىم ① ئورۇندىكى ئۆزگىرىش بولسا، ئېنېرژىيە ئارقىلىق بۇ ئۆزگىرىشنى تەزىيە قىلىشقا كىرىشكەنلىكىنىڭ بولۇشىنى شەرت قىلىدۇ.
- (2) B زەنجىرىنى ئۆلگە قىلىپ C زەنجىرى سىنتېزلىنىدۇ، C زەنجىردىكى ئىشقار رادىكاللىرىنىڭ تىزىلىش تەرتىپى يۇقىرىدىن تۆۋەنگە قاراپ ACU بولىدۇ، ئىرسىيەت ئۇچۇرلىرىنىڭ بۇ خىل بەتكۈزۈلۈشىنىڭ نەتىجىسىدە ئاتىلىدۇ.
- (3) A، B ۋە C دىن ئىبارەت ئۈچ زەنجىردە، جەمئىي 2 دانە كودون بار.
- (4) رەسىمدە كۆرسىتىلگەن جىرياننى تەھلىل قىلغاندا، DNA پېرېپېتىپى بويىچە C زەنجىردىكى ئىشقار رادىكاللىرى تەرتىپىنى بەلگىلەيدۇ.
- ئۇقۇم سىخېمىسىنى تاماملاڭ



### II بىلىمنى نامايان قىلىش

تېترائىسكىلىن، سترېپتومىتسىن، خلورومىتسىن ۋە ئېرىترومىتسىن قاتارلىق ئانتىبىيوتىكلىك پاكىتېرىيىمىنىڭ ئۆسۈشىنى تورمۇزلايدۇ، ئۇلارنىڭ بەزىلىرى پاكىتېرىيىلەردىكى رېبوسومنىڭ ھاسىل بولۇشىنى قالايمىقانلاشتۇرسا، يەنە بەزىلىرى tRNA بىلەن mRNA نىڭ بىرىكىشىنى توسىدۇ. يۇقىرىدىكى ئەمەلىيەتكە ئاساسەن، بۇ ئانتىبىيوتىكلارنىڭ بەزى كېسەللىكلەرنى داۋالاشقا ئىشلىتىلىشىدىكى ئاساسىنى چۈشەندۈرۈڭ.

### III ماھارىتىنى ئىشقا سېلىش

مەلۇم بىر ئاقسىل 1251 دانە ئامىنو كىسلاتادىن تۈزۈلگەن، ئۇنىڭ بىر بۆلەك پېپتىد زەنجىرىدىكى ئامىنو كىسلاتالىرىنىڭ رەت تەرتىپى: — ئالانىن — سېرىن — مېتھيونىن — لېيىتسىن — گلىتسىن — سېرىن — .

1. بۇ بۆلەك پېپتىد زەنجىرىنى كودلاشتۇرىدىغان DNA قوش زەنجىرىدىكى ئىشقار رادىكال تەرتىپىنى پەرەز قىلىڭ.

بىغاك.

2. بۇ خىل ئۇسۇل ئارقىلىق گېنلاردىكى ئىشقا رادىكال تەرتىپىنى يەزەز قىلىشقا بولامدۇ؟ بۇ خىل ئۇسۇلنىڭ قانداق ئارتۇقچىلىقى بار؟
3. يەزەزنى رەت تەرتىپىنى ئۆلچەش ئەسۋابى ئارقىلىق ئېلىپ بېرىلغان گېن تەرتىپىنى ئۆلچەشنىڭ ئورنىغا قويۇشقا بولامدۇ؟ نېمە ئۈچۈن؟

#### IV تەپەككۈرىنى كېڭەيتىش

1. ئادەمنىڭ ئاشقازان ئاستى بەز ئارالچىسى ھۈجەيرىلىرى ئىنسۇلېن ئىشلەپچىقىرىدۇ، ئەمما ھېمىوگلوبىن ئىشلەپچىقىرىدۇ. A. پەقەت ئىنسۇلېن گېنى بار  
B. ئادەمنىڭ ئۇرۇقلانغان تۇخۇمىغا قارىغاندا گېن ئاز بولىدۇ  
C. ھەم ئىنسۇلېن گېنى، ھەم ھېمىوگلوبىن گېنى بىلەن باشقا گېنلار بار  
D. ئىنسۇلېن گېنى بىلەن باشقا گېنلار بار، بىراق ھېمىوگلوبىن گېنى يوق

2. ئىرسىيەت كودلىرىنىڭ تەرجىمە قىلىنىشى نەزەرىيەسى يەكۈن بىلەن تەجرىبە ئىسپاتىنىڭ جەۋھىرى، سىز يەنە باشقا ئەمەلىي مىساللارنى كەلتۈرۈپ، نەزەرىيە بىلەن تەجرىبىنىڭ ئىلمىي بايقاش جەريانىدىكى ھەرقايسىسىنىڭ مۇھىم رولى ۋە مۇناسىۋىتىنى چۈشەندۈرۈپ بېرەلەمسىز؟

جاۋابى: [ ]


#### تور ئادرېسى

<http://www.jpke.henu.edu.cn/ycx/ziwangye/zhuye.htm>  
<http://taihang.hebau.edu.cn/jingpinke/shengji/shengwu>  
<http://web.jjay.cuny.edu/~acarpi/NSC/12-dna.htm>  
<http://www.eurekascience.com/ICanDoThat/protein-syn.htm>

## 5 - باب . گېنلارنىڭ توساتتىن ئۆزگىرىشى ۋە باشقا ئۆزگىرىشلەر

ئىرسىيەت ماددىلىرى مۇقىم ھالدا كېيىنكى ئەۋلادلارغا بەتكۈزۈلىشىمۇ، كېيىنكى ئەۋلادلارغا يەنە نېمە ئۈچۈن ئەجدادى بىلەن مۇئەييەن پەرق بولىدۇ؟ گېنلارنىڭ ئەركىن يىرىكىشى كېيىنكى ئەۋلادلارغا ئۆزگىرىش پەيدا قىلىدىغانلىقى ھەممىمىزگە مەلۇم. ئۇنداقتا، جانلىقلار كۆپىيىش جەريانىدا، گېننىڭ ئۆزىگە ئۆزگىرىش بولامدۇ - يوق؟ بىر پۈتۈن خروموسومدا ياكى قىسىمەن بۆلىكىدە قوشۇلۇپ قېلىش ياكى كېمىيىپ كېتىش بولامدۇ - يوق؟

ئىنسانلار قەدىمدىن تارتىپلا ئىرسىيەت كېسەللىكلىرىنىڭ تازىلىنى تارتماقتا. ئىرسىيەت كېسەللىكلىرىنىڭ پەيدا بولۇشىدىكى سەۋەب زادى نېمە؟ قانداق قىلغاندا ئىرسىيەت كېسەللىكلىرىنىڭ ئالدىنى ئالغىلى ۋە داۋالىغىلى بولىدۇ؟ ئىنسانلار گېن گۇرۇپپىسى بىلەن كىتىپلەرنىڭ ھەر خىل ئىرسىيەت كېسەللىكلىرىنى گېن سەۋەبىدە بىلىۋېلىشى ۋە ئالدىنى ئېلىپ داۋالىشىغا ياردەم بېرىپ، ئىنسانلارنىڭ ئۆز نەقىدىرىنى ئۆز قولىغا ئېلىشىغا تېخىمۇ ياخشى شارائىت يارىتىپ بېرىدۇ.



the  
human  
genome

ئەگىشىپ ئىرسىيەتنىڭ ئۆزگىرىشىگە،  
چاپچىتىپ تەدرىجىي تەرەققىياتنىڭ دولقۇنلىرىنى،  
ئىرسىيەت ئۆزگىرىشى ئارقىلىق ئىنسان،  
يېڭىپ شادلاندى كېسەللىكلەرنى.



# § 1 . گېنلارنىڭ توماتتىن ئۆزگىرىشى ۋە گېنلارنىڭ قايتا گۇرۇپپىلىشىشى



## مەسىلىلەر ئۈستىدە مۇھاكىمە

ئۈچ ئوقۇغۇچى ئىنگلىزچە جۈملە «THE CAT SAT ON THE MAT» (مۈشۈكنىڭ ماتراستا ئولتۇرۇشى) نى كۆچۈرۈۋېتىپ ئايرىم - ئايرىم سول تەرەپتىكى رەسىمدىكىدەك كۆچۈرۈپ قويغان. كۆچۈرۈلگەن جۈملە بىلەن ئەسلىدىكى جۈملەنى سېلىشتۇرۇپ، ئۇنىڭ مەنىسىدە قانداق ئۆزگىرىش بولغانلىقىنى كۆرۈپ بېقىڭلار.

### ● مۇھاكىمە

ئەگەر DNA مولېكۇلىسىنىڭ نۇسخىلىنىشى جەريانىدا، يۈ-قىرىقغا ئوخشاش خاتالىق يۈز بەرسە، DNA مولېكۇلىسى ئېلىپ يۈرگەن ئىرسىيەت ئۆچۈرلىرىدا قانداق ئۆزگىرىش كۆرۈلىدۇ؟ بۇ ئۆزگىرىش جانلىقلار تېنىگە نىسبەتەن قانداق تەسىر پەيدا قىلىشى مۇمكىن؟

### بۇ پاراگرافنىڭ مۇھىم نۇقتىسى

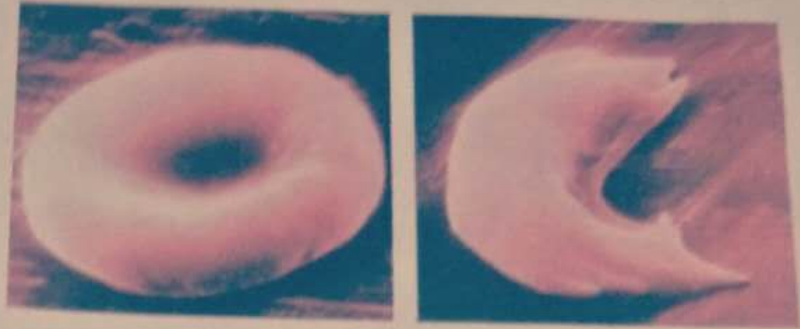
- ئورغاقسىمان ھۈجەيرىلىك كەم قانلىق كې-سىلىنىڭ پەيدا بولۇشىدىكى سەۋەب نېمە؟
- گېنلارنىڭ توماتتىن ئۆزگىرىش سەۋەبى نېمە؟
- گېنلارنىڭ توماتتىن ئۆزگىرىشى قانداق ئالاھىدىلىكلەرگە ئىگە؟
- گېنلارنىڭ توماتتىن ئۆزگىرىشى بىلەن گېنلارنىڭ قايتا گۇرۇپپىلىشىشىنىڭ قانداق مۇ-ھىم ئەھمىيىتى بار؟

جىنسلىق كۆپىيىدىغان جانلىقلار سان كېمەي-تىپ بۆلۈنۈش ئارقىلىق گامبىتا ھاسىل قىلىش جەريانىدا، خروموسوملار نۇسخىلىنىدۇ. بۇ ئەمەل-دەتتە ئىرسىيەت ماددىسى بولغان DNA نىڭ نۇسخىلىنىشىدۇر. ئىشقا رادىكاللىرىنىڭ بىر - بىر-نى تولۇقلاپ چۈپ تۈزۈش پرىنسىپى DNA نىڭ نۇسخىلىنىشىنىڭ توغرىلىقىغا كاپالەتلىك قىلىپ، ئىرسىيەت ئۆچۈرلىرىنىڭ ئەجداد بىلەن ئەۋلاد ئوت-تۇرسىدىكى بىردەكلىكىنى ساقلايدۇ. ئەمما يۇقىر-قىدەك جۈملىلەرنىڭ خاتا كۆچۈرۈلۈشىگە ئوخ-شاش خاتالىقلار يۈز بېرىپ قالامدۇ - قانداق؟

## گېننىڭ توماتتىن ئۆزگىرىشىگە ئائىت ئەمەلىي مىساللار

ئورغاقسىمان ھۈجەيرىلىك كەم قانلىق كېسىلى بىر خىل ئىرسىيەت كېسەللىكىدۇر. نورمال ئادەمنىڭ قىزىل قان ھۈجەيرىسى ئوتتۇرىسى سەل ئىچىگە ئويمانلاشقان يۇمىلاق توقاچسىمان بولىدۇ، ئورغاقسىمان ھۈجەيرىلىك كەم قانلىق كېسىلىگە گىرىپتار بولغۇچىلارنىڭ قىزىل قان ھۈجەيرىسى ئورغاقسىمان (1.5 - رەسىم) بولىدۇ. بۇنداق قىزىل قان ھۈجەيرىلىرى ئاسان يېرىلىپ ئادەمنى قان ئېرىش خاراكتېرىدە-دىكى كەم قانلىق كېسىلىگە گىرىپتار قىلىدۇ، كېسەللىك ئېغىر بولغاندا ئادەم ئۆلۈپ كېتىدۇ. بۇ خىل

كېسەللىك قانداق پەيدا بولىدۇ؟ بۇ خىل كېسەلگە گىرىپىتار بولغۇچىلارنىڭ قىزىل قان ھۆججەتلىرىدىكى ھېمىوگلوبىن مولېكۇلىسىنى ئەھلىل قىلىش ۋە تەتقىق قىلىش ئارقىلىق، ھېمىوگلوبىن مولېكۇلىسىنى تەشكىل قىلغۇچى بولغان ھېپتسىد زەنجىرىدە ئامىنو كىسلاتالىرىنىڭ ئالماشتۇرۇلۇشى يۈز بېرىدىغانلىقى (2.5 - رەسىم) مەلۇم بولغان.



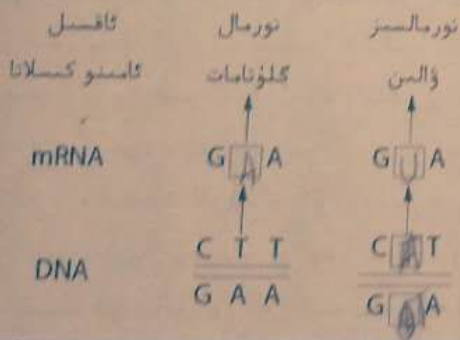
1.5 - رەسىم. نورمال قىزىل قان ھۆججەتلىرى (سولدا) بىلەن ئورغاقسىمان قىزىل قان ھۆججەتلىرى (ئوڭدا)

نورمال ..... ئىرىن - گىلۇتات - گىلۇتات - پىرولىن - تىرېئونىن - لېيىسىن - گىتىدىن - ۋالىن  
 نورمالسىز ..... ئىرىن - گىلۇتات - ۋالىن - پىرولىن - تىرېئونىن - لېيىسىن - گىتىدىن - ۋالىن  
 2.5 - رەسىم. ھېمىوگلوبىن مولېكۇلىسىدىكى قىسمەن ئامىنو كىسلاتالىرىنىڭ تەرتىپى

مۇلاھىزە ۋە مۇھاكىمە



1. رەسىمدىكى قايسى ئامىنو كىسلاتادا ئۆزگىرىش بولغان؟
2. تەتقىقاتلاردا بۇ ئامىنو كىسلاتالىرىدىكى ئۆزگىرىش ھېمىوگلوبىن مولېكۇلىسىنىڭ سىنتېزلىنىشىنى كونترول قىلىدىغان DNA دىكى ئىششار رادىكالى تەرتىپىدە ئۆزگىرىش يۈز بەرگەنلىكىدىن بولىدىغانلىقى بايقالغان. سول تەرەپتىكى سىخېما ئورغاقسىمان ھۆججەتلىك كەم قانلىق كېسەلنىڭ كېسەللىك سەۋەبىنىڭ چۈشەندۈرۈلۈشى بولۇپ، كودون جەدۋىلىگە ئاساسەن سىخېمىنى تاماملاڭ.
3. سىخېمىغا ئاساسەن ئورغاقسىمان ھۆججەتلىك كەم قانلىق كېسەلنىڭ سەۋەبىنى چۈشەندۈرۈڭ، ئويلاپ بېقىڭ، ئۇ ئىرسىيەت بولۇپ قالامدۇ - قالمامدۇ؟ ئەگەر ئىرسىيەت بولۇپ قالسا قانداق ئىرسىيەت بولۇپ قالىدۇ؟



ئىششار رادىكالىرىنىڭ ئالماشتۇرۇلۇشى گېنلارنىڭ ئۆزگىرىشىنى كەلتۈرۈپ چىقىرىدۇ - دە، كودلاشقان ئاقسىللاردا ئۆزگىرىش كۆرۈلىدۇ. ئۇنداقتا، ئەگەر ئاقسىلنى كودلاشتۇرىدىغان DNA دىكى ئىششار رادىكالى تەرتىپىدە ئىششار رادىكالىرىنىڭ قوشۇلۇپ قېلىشى ياكى كېمىيىپ كېتىشى يۈز بەرسە، ئاقسىل ئۈزۈلۈشىنىڭ ئۆزگىرىشىنى كەلتۈرۈپ چىقىرىپ، بەلگىلەرنىڭ ئۆزگىرىشىنى پەيدا قىلامدۇ؟ بۇنىڭ جاۋابى

ناھايىتى ئېنىق. DNA مولېكۇلىسىدا كۆرۈلگەن ئىشقا رادىكالى جۈپلىرىنىڭ ئالماشتۇرۇشى، قوشۇلۇپ قېلىشى ۋە كېسىپ كېتىشى سەۋەبىدىن كېلىپ چىققان كېيىن تۈزۈلۈشىدىكى ئۆزگىرىش گېنلارنىڭ تۈسە گېنىنىڭ تۈسەتتىن ئۆزگىرىشى دەپ ئاتىلىدۇ.

گېننىڭ تۈسەتتىن ئۆزگىرىشى ئەگەر گامېتتلاردا كۆرۈلسە، ئىرسىيەت قانۇنىيەتلىرى بويىچە كېيىنكى ئەۋلادلارغا يەتكۈزۈلىدۇ. ئەگەر تەن ھۈجەيرىسىدە كۆرۈلسە، ئادەتتە ئىرسىيەت بولۇپ قالمايدۇ. ئەمما بەزى ئۆسۈملۈكلەرنىڭ تەن ھۈجەيرىسىدە گېنلارنىڭ تۈسەتتىن ئۆزگىرىشى كۆرۈلسە، جېنىسىز كۆپەيىش ئارقىلىق كېيىنكى ئەۋلادلارغا ئۆتىدۇ. بۇلاردىن باشقا، ئادەم بەدىنىدىكى بەزى تەن ھۈجەيرىلىرىدىكى گېنلارنىڭ تۈسەتتىن ئۆزگىرىشى، شۇ ھۈجەيرىلەرنى رايون ھۈجەيرىلىرىگە تەرقىقى قىلدۇرۇشى مۇمكىن.

گېننىڭ تۈسەتتىن ئۆزگىرىش سەۋەبلىرى ۋە ئالاھىدىلىكى

گېنلارنىڭ تۈسەتتىن ئۆزگىرىشى قانداق پەيدا بولىدۇ؟  
1927 - يىلى ئامېرىكا گېنېتىكا ئالىمى مۇلېر (H.J. Muller, 1890 ~ 1967) مېۋە چىۋىنىڭ X نۇرىنى چۈشۈرگەندە، كېيىنكى ئەۋلادلاردا تۈسەتتىن ئۆزگەرگەن ئىندىۋىدلار سانىنىڭ زور دەرىجىدە ئاشقانلىقىنى بايقىغان. شۇ يىلى يەنە بىر ئالىم كۆممىقوناق ۋە ئارپا ئۇرۇقىغا X نۇرى ۋە  $\gamma$  نۇرىنى چۈشۈرۈپ، ئوخشاش نەتىجىگە ئېرىشكەن. شۇنىڭدىن كېيىن كىشىلەر، جانلىقلار گېننىڭ تۈسەتتىن ئۆزگىرىشىنى ئاسانلا پەيدا قىلىدىغان ھەمدە تۈسەتتىن ئۆزگىرىش تەكرارلىقى (چاستوتىسى) نى يۇقىرى كۆتۈرىدىغان ئامىللارنىڭ تۈسەتتىن ئۆزگىرىشىنى پەيدا قىلىدىغانلىقىنى ئىسپاتلىدى.

نېمە ئۈچۈن كىشىلەر كۈچلۈك كۈن نۇرىدا كۈن نۇرىدىن مۇداپىئەلىنىش مەجبۇرىيەت بولۇپ قالىدۇ؟  
نېمە ئۈچۈن X نۇرىدا رېنتگېننىڭ ئېلىشى ئوردا-ئوردا ئىشلەيدىغان مېدىتسىنا خادىملىرى مۇداپىئە كىيىمى كىيىۋالىدۇ؟

تۈسەتتىن ئۆزگىرىش سەۋەبلىرى  
1. ئىشقا رادىكالى جۈپلىرىنىڭ ئالماشتۇرۇشى  
2. قوشۇلۇپ قېلىشى  
3. كېسىپ كېتىشى  
4. ئۆسۈملۈكلەرنىڭ تەن ھۈجەيرىسىدە گېنلارنىڭ تۈسەتتىن ئۆزگىرىشى  
5. ئادەم بەدىنىدىكى بەزى تەن ھۈجەيرىلىرىدىكى گېنلارنىڭ تۈسەتتىن ئۆزگىرىشى

بىئولوگىيەلىك ئامىل دەپ ئۈچ تۈرگە بۆلۈنىدىغانلىقىنى تەدرىجىي بايقىغان. مەسىلەن، ئۇلترا سەۋەب كىسلاتا، ئىشقا رادىكاللىرىغا ئوخشاپ كېتىدىغان بەزى ماددىلار يادرو كىسلاتادىكى ئىشقا رادىكاللىرىنى ئۆزگەرتىۋېتىدۇ؛ بەزى ۋىرۇسلارنىڭ ئىرسىيەت ماددىلىرى ئۆزى تۇرۇۋاتقان ھۈجەيرىنىڭ DNA سىغا تەسىر كۆرسىتىدۇ. لېكىن، سىرتتىن كەلگەن بۇ ئامىللارنىڭ تەسىرى بولمىغان ئەھۋالدا، گېنلارنىڭ تۈسەتتىن ئۆزگىرىشى يەنىلا DNA مولېكۇلىسىنىڭ نۇسخىلىنىشىدا تاسادىپىي خاتالىق يۈز بېرىش ۋە DNA دىكى ئىشقا رادىكاللىرى تەركىبىدە ئۆزگىرىش يۈز بېرىشتەك سەۋەبلەردىنمۇ ئۆزلۈكىدىن يۈز بېرىشى مۇمكىن.

گېنلارنىڭ تۈسەتتىن ئۆزگىرىشىنىڭ قانداق ئالاھىدىلىكى بار؟  
تەبىئەت دۇنياسىدا گېنلارنىڭ تۈسەتتىن ئۆزگىرىشىنى كەلتۈرۈپ چىقىرىدىغان ئامىللار ناھايىتى كۆپ بولغانلىقتىن، گېنلارنىڭ تۈسەتتىن ئۆزگىرىشى يەنە ئۆزلۈكىدىنمۇ يۈز بېرىدۇ، شۇڭا، گېنلارنىڭ تۈسەتتىن ئۆزگىرىشى جانلىقلار دۇنياسىدا ئومۇميۈزلۈك مەۋجۇت. مەيلى تۆۋەن دەرىجىلىك جانلىقلار بولسۇن

تۈزگىرىش ئالاھىدىلىكى  
تۈزگىرىش سەۋەبلىرى

1. ئىشقا رادىكالى جۈپلىرىنىڭ ئالماشتۇرۇشى  
2. قوشۇلۇپ قېلىشى  
3. كېسىپ كېتىشى

1. گېنلارنىڭ تۈسەتتىن ئۆزگىرىشى  
2. گېنلارنىڭ قانداق تۈزگىرىشى  
3. ئۆزگىرىش ئالاھىدىلىكى

ياكى بۇقىرى دەرىجىلىك ھايۋان، ئۆسۈملۈك ۋە ئادەملەر بولۇپ، سۇن ھەممىسىدە گېنلارنىڭ توماسىنى ئۆزگىرىشى سەۋەبىدىن جانلىقلارنىڭ بەلگىلىرىدە ئۆزگىرىش يۈز بېرىدۇ. مەسىلەن، كېۋەزنىڭ قىسقا مېۋە ئىكەنلىكى، ئالتۇنغا ياكى قاراغۇچى موزىنىڭ ئاق بۇلغۇنى (3.5 - رەسىم)، مېۋە چۈشۈشنىڭ ئاق ئۆزلۈكى، ئوخۇشنىڭ بۇغۇر پەيلىكى، شۇنداقلا ئادەملەردىكى قىزىل - يېشىل رەڭ قارىغۇسى ۋە ئاقىرىش كېسىلى قاتارلىقلار.



3.5 - رەسىم. گېنلارنىڭ توماسىنى ئۆزگىرىشىدىن پەيدا بولغان ناھايىتى كىم ئۇچىراق، دىغان ئاق بۇلغۇن موزى (ئۇنىڭ ئانا - ئاتىسى قوڭۇر بۇلغۇن)

DNA دىكى ئىشغار رادىكاللىرى تەركىبىنىڭ ئۆزگىرىشى ئېنىق بولماستىن ئاسادىيىسى يۈز بېرىدىغان بولغاچقا، گېنلارنىڭ توماسىنى ئۆزگىرىشى يۈزلىنىشلىك بولماي ئاسادىيىسى يۈز بېرىدۇ. گېنلارنىڭ توماسىنى ئۆزگىرىشىنىڭ ئاسادىيىسى ئىكەنلىكى ئىندىۋىدى يېتىلىشىنىڭ ھەرقانداق بىر مەزگىلىدە ھۈجەيرىدىكى ئوخشىمىغان DNA مولېكۇلىسىدا، ئوخشاش بىر DNA مولېكۇلىسىنىڭ ئوخشىمىغان ئورۇنلىرىدا ئىپادىلىنىدۇ. گېنلار توماسىنى ئۆزگىرىشىنىڭ يۈزلىنىشلىك بولماسلىقى بىر گېننىڭ ئوخشىمىغان يۈزلىنىشتە توماسىنى ئۆزگىرىش پەيدا قىلىپ، بىردىن ئارتۇق تەڭ ئورۇنلۇق گېنلارنى ھاسىل قىلىشىدا ئىپادىلىنىدۇ، مەسىلەن، چاشقانىنىڭ يۇڭ رەڭگىنى كونترول قىلىدىغان كۆل رەڭ گېنى توماسىنى ئۆزگىرىپ سېرىق رەڭ گېنىگە ئايلىنىشىمۇ، قارا رەڭ گېنىگە ئايلىنىشىمۇ مۇمكىن، ئۇنىڭ ئۈستىگە گېنلارنىڭ توماسىنى ئۆزگىرىش يۈزلىنىشى بىلەن مۇھىت ئوتتۇرىسىدا ھېچقانداق ئېنىق سەۋەب - نەتىجە مۇناسىۋىتى بولمايدۇ.

تەنقىدىي تەپەككۈر

بەزىلەر، تەبىئىي شارائىتتا گېنلارنىڭ توماسىنى ئۆزگىرىش تەكرارلىقى ناھايىتى تۆۋەن بولىدۇ، ئۇنىڭ ئۈستىگە كۆپ ساندىكى گېنلارنىڭ توماسىنى ئۆزگىرىشى جانلىقلار ئۈچۈن زىيانلىق بولغاچقا، ئۇنىڭ جانلىقلارنىڭ تەدرىجىي تەرەققىياتىنى خام ماتېرىيال بىلەن تەمىنلىشى مۇمكىن ئەمەس، دەپ قارايدۇ. سىزنىڭچە بۇ خىل قاراش توغرىسىدا نېمە ئۈچۈن؟

تەبىئىي ئەھۋالدا گېنلارنىڭ توماسىنى ئۆزگىرىش تەكرارلىقى ناھايىتى تۆۋەن بولىدۇ. مۆلچەرلەرگە ئىشىنىشچە، يۇقىرى دەرىجىلىك جانلىقلاردا تەخمىنەن  $10^6 \sim 10^8$  دانە كۆپىيىش ھۈجەيرىسىدىن ئاران بىر دانە كۆپىيىش ھۈجەيرىسىدە گېنلارنىڭ توماسىنى ئۆزگىرىشى يۈز بېرىدىكەن. گېنلارنىڭ توماسىنى ئۆزگىرىش تەكرارلىقى گەرچە ناھايىتى تۆۋەن بولسىمۇ، بىر تۈر توپى ئىچىدە نۇرغۇن ئىندىۋىدلار بولغاچقا، خىلمۇخىل ئاسادىيىسى توماسىنى ئۆزگىرىش يۈز بېرىپ، ئىرسىيەت بولۇپ قالدىغان مول ئۆزگىرىشلەر بىلەن تەمىنلەشنى ئىلگىرى سۈرۈشى مۇمكىن. مەسىلەن، مۇۋاپىق شارائىتتا، بىر - ئىككى كۈن (d) ئۆستۈرۈلگەن چوڭ ئۈچەي تاياقچە باكتېرىيە ئۆستۈرگۈچىسىنىڭ قويۇقلۇقى تەخمىنەن  $10^8/ml$  دانە ھۈجەيرە بولىدۇ. DNA نۇسخىلىنىشتىكى خاتالىق نىسبىتى  $10^{-8}$ ، شۇنداقلا ھەر  $10^8$  دانە نۇكلىئوتىدنىڭ تۇتىشىدا ئاران بىر خاتالىق يۈز بېرىش ئېھتىماللىقى بولسىمۇ، ئەمما تەركىبىدە  $10^8$  دانە باكتېرىيە ھۈجەيرىسى بولغان ئۆستۈرگۈچىدە، DNA نۇسخىلىنىشتىكى خاتالىق پەرقى تۈپەيلىدىن نەچچە مىليون دانە توماسىنى ئۆزگىرىش يۈز بېرىپ، چوڭ ئۈچەي تاياقچە باكتېرىيىسى گېنىنى ئۆز ئىچىگە ئالغان نەچچە مىڭ تۈرلۈك ئۆزگىرىش شەكلىنى كەلتۈرۈپ چىقىرىدۇ.

بىر تۈر توپى ئىچىدە نۇرغۇن ئىندىۋىدلار بولغاچقا، خىلمۇخىل ئاسادىيىسى توماسىنى ئۆزگىرىش يۈز بېرىپ، ئىرسىيەت بولۇپ قالدىغان مول ئۆزگىرىشلەر بىلەن تەمىنلەشنى ئىلگىرى سۈرۈشى مۇمكىن. مەسىلەن، مۇۋاپىق شارائىتتا، بىر - ئىككى كۈن (d) ئۆستۈرۈلگەن چوڭ ئۈچەي تاياقچە باكتېرىيە ئۆستۈرگۈچىسىنىڭ قويۇقلۇقى تەخمىنەن  $10^8/ml$  دانە ھۈجەيرە بولىدۇ. DNA نۇسخىلىنىشتىكى خاتالىق نىسبىتى  $10^{-8}$ ، شۇنداقلا ھەر  $10^8$  دانە نۇكلىئوتىدنىڭ تۇتىشىدا ئاران بىر خاتالىق يۈز بېرىش ئېھتىماللىقى بولسىمۇ، ئەمما تەركىبىدە  $10^8$  دانە باكتېرىيە ھۈجەيرىسى بولغان ئۆستۈرگۈچىدە، DNA نۇسخىلىنىشتىكى خاتالىق پەرقى تۈپەيلىدىن نەچچە مىليون دانە توماسىنى ئۆزگىرىش يۈز بېرىپ، چوڭ ئۈچەي تاياقچە باكتېرىيىسى گېنىنى ئۆز ئىچىگە ئالغان نەچچە مىڭ تۈرلۈك ئۆزگىرىش شەكلىنى كەلتۈرۈپ چىقىرىدۇ.

رۇپ چىقىرىشى مۇمكىن. بۇ ئۆزگىرىشلەرنىڭ بەزىلىرى چوڭ ئۈچەي ئاياقچە باكتېرىيىلىرىنىڭ باشلىشىغا نەتىجىسى كۆرسىتىدۇ. ئەمما ناھايىتى ئاز ساندىكىلىرى چوڭ ئۈچەي ئاياقچە باكتېرىيىلىرىنىڭ باشلىشىغا نەتىجىسى كۆرسىتىدۇ، مەلۇم ئانتىبىيوتىكلارغا قارشى تۇرۇشچانلىققا ئىگە قىلىشى مۇمكىن.

جانلىقلار ئۈچۈن ئېيتقاندا، گېنلارنىڭ نوساتتىن ئۆزگىرىشى جانلىقلار بىلەن ئۇلار تۇرۇۋاتقان نوساتتىن ئۆزگىرىشلىرى جانلىقلاردا يېڭى بەلگىلەرنى ھاسىل قىلىپ، ئۇلارنى ئۆزگىرىۋاتقان مۇھىتقا ماسلاشتۇرۇپ، يېڭى ياشاش بوشلۇقىغا ئىگە قىلىدۇ. يەنە بەزى نوساتتىن ئۆزگىرىشلەر جانلىقلار ئۈچۈن زىيانلىق ئەمەس، پايدىلىق ئەمەس. گېنلارنىڭ نوساتتىن ئۆزگىرىشى يۈنلىشىلىك بولسىمۇ، بىراق ئومۇميۈزلۈك مەۋجۇت بولۇپ تۇرىدۇ. گېنلارنىڭ نوساتتىن ئۆزگىرىشى ناھايىتى تۆۋەن ھاسىل بولۇشنىڭ يولى، جانلىقلار ئۆزگىرىشىنىڭ تۈپ مەنبەسى، شۇنداقلا جانلىقلار تەدرىجىي تەرەققىياتىنىڭ دەسلەپكى ماتېرىيالىدۇر.



گېنلارنىڭ قايتا گۇرۇپپىلىشىشى (gene recombination) جانلىقلار جىنسلىق كۆپىيىش جەريانىدا، ئوخشاش بولمىغان بەلگىلەرنى كونترول قىلىدىغان گېنلارنىڭ قايتىدىن گۇرۇپپىلىشىشىنى كۆرسىتىدۇ. گېنلارنىڭ ئەركىن بىردەكش قانۇنىدىن شۇنى بىلەلەيمىزكى، جانلىقلار سان كېمەيتىپ بۆلۈنۈش ئارقىلىق گامبىتا ھاسىل قىلغاندا، ئوخشاش مەنبەلىك بولمىغان خروموسوملارنىڭ ئەركىن بىردەكشكە ئەگىشىپ، تەڭ ئورۇنلۇق بولمىغان گېنلارمۇ ئەركىن بىرىكىدۇ، شۇنداق قىلىپ، ئاتىلىق - ئانىلىق گامبىتلىرىنىڭ بىرىكىشىدىن ھاسىل بولغان ئورۇنلۇق تۇخۇم ئەجدادىغا ئوخشىمايدىغان گېنلارنىڭ قايتا گۇرۇپپىلىشىشى سان كېمەيتىپ بۆلۈنگەندە ھاسىل بولغان تۆت بۆلەك تەنچە مەزگىلىدە يۈز بېرىدۇ، بۇنىڭدا ئوخشاش مەنبەلىك خروموسومدىكى تەڭ ئورۇنلۇق گېنلاردا بەزىدە ئاچا - سىڭىل بولمىغان خروماتىدلارنىڭ ئالمىشىشىغا ئەگىشىپ ئالمىشىش يۈز بېرىپ، خروماتىدىكى گېنلارنىڭ قايتا گۇرۇپپىلىشىشىنى كەلتۈرۈپ چىقىرىدۇ.

4.5 - رەسىم. گېنلارنىڭ قايتا گۇرۇپپىلىشىشىدىن مۇشۇكتە ھاسىل بولغان يۈك

رەڭگىدىكى ئۆزگىرىش ئارقىلىق مەنبەلىك بولمىغان خروموسوملارنىڭ

بىر خىل ئىپتىكى گېنلارنىڭ قايتا گۇرۇپپىلىشىشى سان كېمەيتىپ بۆلۈنگەندە ھاسىل بولغان تۆت بۆلەك تەنچە مەزگىلىدە يۈز بېرىدۇ، بۇنىڭدا ئوخشاش مەنبەلىك خروموسومدىكى تەڭ ئورۇنلۇق گېنلاردا بەزىدە ئاچا - سىڭىل بولمىغان خروماتىدلارنىڭ ئالمىشىشىغا ئەگىشىپ ئالمىشىش يۈز بېرىپ، خروماتىدىكى گېنلارنىڭ قايتا گۇرۇپپىلىشىشىنى كەلتۈرۈپ چىقىرىدۇ. مەسىلەن، ئادەملەردىكى بىر تۇخۇمدىن يېتىلگەن قوشكېزەكلەرنىڭ گېن تەركىبى ئوخشاش بولغاچقا، بەلگىلىرى ناھايىتى ئوخشىشىپ كېتىدۇ. بۇنىڭدىن باشقا، پۈتۈنلەي ئوخشىشىپ كېتىدىغان ئاكا - ئۇكا ۋە ئاچا - سىڭىل بولمايدۇ.

نېمە ئۈچۈن مۇنداق پەرق كېلىپ چىقىدۇ؟

گېنلارنىڭ نوساتتىن ئۆزگىرىشى مەنبەلىك بولمىغان خروموسوملارنىڭ قايتا گۇرۇپپىلىشىشىنى كەلتۈرۈپ چىقىرىدۇ.

2) ئوخشاش مەنبەلىك مەزمۇرىدىكى گېنلارنىڭ قايتا گۇرۇپپىلىشىشى خروماتىدلار ئارقىلىق گېنلارنىڭ قايتا گۇرۇپپىلىشىشىنى كەلتۈرۈپ چىقىرىدۇ.

مۇلاھىزە ۋە مۇھاكىمە



1. كىشىنىڭ تەن ھۆججەتلىرىدە 23 جۈپ خروموسوم بولىدۇ. سىز ئىركىن بىرىكىش قانۇنىغا ئاساسەن، بىر كىشىنىڭ خروموسوم گۇرۇپپىسى ئوخشاش بولمىغان قانچە خىل ئىسپىرما ھاسىل قىلىدىغانلىقىنى، بىر ئانىنىڭ خروموسوم گۇرۇپپىسى ئوخشاش بولمىغان قانچە خىل تۇخۇم ھۆججەتلىرىنى ھاسىل قىلىدىغانلىقىنى ھېسابلاي چىقىڭ.
2. گېنلارنىڭ نوساتىنى ئۆزگىرىشىنى ئويلاشنىڭ ئەھۋال ئاستىدا، پەرزەنتلەر ئىچىدە پەقەت ئىككىسىنىڭ بىرلىق كېلىشى تىلىمىن ئوخشاش بولۇشى ئۈچۈن، پەرزەنتلەرنىڭ سانى كېمىدە قانچە بولۇشى كېرەك؟
3. سىز گېنلارنىڭ قايتا گۇرۇپپىلىشىنى بۇقتىسىدىن كىشىلەر توپىدىكى ئىندىۋىد بەلگىلىرىنىڭ خىلمۇ-خىل بولىدىغانلىقىنى چۈشەندۈرۈپ بېرەلەمسىز؟

گېنلارنىڭ قايتا گۇرۇپپىلىشىنىڭ قانداق ئەھمىيىتى بار؟

گېنلارنىڭ قايتا گۇرۇپپىلىشىنىڭ ئادەتتىكى چۈشەندۈرۈلۈشى مۇنداق: جىنسلىق كۆپىيىشتىكى گېنلارنىڭ قايتا گۇرۇپپىلىشى تۈرلەرنىڭ قانداق ئۆزگىرىش يۈز بەرگەن مۇھىتتا پاشايدىغانلىقىنى ئالدىن مۆلچەرلىشىمىزگە ياردەم بېرىدۇ. چۈنكى، گېنلارنىڭ قايتا گۇرۇپپىلىشى گېنلىرىنىڭ بىر-كېشى خىلمۇخىل بولغان ئەۋلادلارنى ھاسىل قىلىدىغان يولغاچقا، ئۇلارنىڭ ئىچىدىكى بەزى ئەۋلادلاردا مەلۇم خىل ئۆزگىرىشكە ماسلىشالايدىغان ۋە ياشىشى (مەۋجۇت بولۇپ تۇرۇشى) ئۈچۈن زۆرۈر بولغان گېنلارنىڭ بىرىكىشى كۆرۈلىدۇ. شۇڭا، گېنلارنىڭ قايتا گۇرۇپپىلىشىمۇ جانلىقلار ئۆزگىرىشىنىڭ كېلىشى مەنبەلىرىنىڭ بىرى بولغاچقا، جانلىقلارنىڭ تەدرىجىي تەرەققىياتىغا نىسبەتەن مۇھىم ئەھمىيەتكە ئىگە دەيمىز.

مەشىق



I ئىسمى سوئال

1. تۆۋەندىكى ئىپتىلىشلارنىڭ توغرا - خاتالىقىغا ھۆكۈم قىلىڭ.

- (1) گېنلارنىڭ نوساتىن ئۆزگىرىشى ئومۇميۈزلۈك مەۋجۇت بولۇپ، كۆپ ھاللاردا جانلىقلارنىڭ ئۆزىگە نىسبەتەن زىر-يالىق.
  - (2) گېنلارنىڭ نوساتىن ئۆزگىرىشى جانلىقلارنىڭ ئىپادىلىنىش تىپىنى مۇتلەق ئۆزگەرتىۋېتىدۇ.
  - (3) گېنلارنىڭ قايتا گۇرۇپپىلىشى يېڭى بەلگىلەرنى ھاسىل قىلىدۇ.
2. تۆۋەندىكىلەردىن ئىرسىيەت بولۇپ قالدىغان ئۆزگىرىشكە تەۋە بولغىنى:
- A. ئوغۇت ۋە سۇ يېتەرلىك بولغانلىقتىن، بۇغداي باشقىدا دان كۆپ ھەم چوڭ بولۇشتەك بەلگىلەرنىڭ كۆرۈلۈشى
  - B. ئۇلترا سېنېشە نۇرنىڭ ئادەمنى تېرە رايونىغا گىرىپتار قىلىشى
  - C. قوڭۇر رەڭلىك ماكاكا مايمۇنىنىڭ نەپىشى تۈر توپى ئىچىدىن ئاق رەڭلىك ماكاكا مايمۇنىنىڭ چىقىشى

D. ئادەتتىكى ئاپتاپقا قاقلىنىشى سەۋەبىدىن تېرىسىنىڭ قارىداپ كېتىشى

- 3. جىنىس كۆپىيىشكە سېلىشتۇرغاندا، جىنىسلىق كۆپىيىشتە ھاسىل بولغان كېسىلگە ئەۋلادلار نېخىمۇ چوڭ تۇر.
  - A. گېنلارنىڭ نوساتتىن ئۆزگىرىش تەكرارلىقى يۇقىرى بولسۇ
  - B. گېنلارنىڭ يېڭىدىن بىرىكىش پۇرسىتى كۆپ بولسۇ
  - C. نۇرغۇن يېڭى گېنلار پەيدا بولسۇ
  - D. مۇھىتتىكى تەسىرگە ئاسان ئۇچراپ ئۆزگىرىش ھاسىل قىلىدۇ

جاۋابى: C

- 4. گېنلارنىڭ قايتا گۇرۇپپىلىشىغا مۇناسىۋەتلىك تۆۋەندىكى ئىپتىلاقلاردىن خاتاسى:
  - A. گېنلارنىڭ قايتا گۇرۇپپىلىشى جانلىقلار ئۆزگىرىشىنىڭ ئۈچ مەنبەسى
  - B. گېنلارنىڭ قايتا گۇرۇپپىلىشى كۆپ خىل گېن ئىپتىلىرىنى كەلتۈرۈپ چىقىرىدۇ
  - C. ئوخشاش مەنبەلىك بولمىغان خروموسوملاردىكى تەڭ ئورۇنلۇق بولمىغان گېنلاردا قايتا گۇرۇپپىلىشىش يۈز بېرىدۇ
  - D. ئوخشاش مەنبەلىك بولمىغان خروموسوملاردىكى تەڭ ئورۇنلۇق بولمىغان گېنلاردا قايتا گۇرۇپپىلىشىش يۈز بېرىدۇ

جاۋابى: D

### II كېڭەيتمە سوئال

1. رايون ھۆججەتلىرىنىڭ بىر ئالاھىدىلىكى چەكسىز كۆپىيىش، مېدىتسىنادا رايون كېسىلىگە گىرىپتار بولغان ئادەم. داۋالايىدۇ. بۇ خىل داۋالاش ئۇسۇلىنىڭ پىرىنسىپى ۋە كەلتۈرۈپ چىقىرىدىغان تەسىرىنى تەھلىل قىلىڭ.
2. ئورغاقسىمان ھۆججەتلىك كەم قانلىق كېسىلىنىڭ نوساتتىن ئۆزگەرگەن بىر گېنىغا ئىگە ئادەم (يەنى ئارىلاش بىرلا ۋاقىتتا نورمال ۋە نورمالسىز ھېموفىلوسىز سىنتېزلىمىلايدىكەن ھەمدە بەزىگە كېسىلىگە كۈچلۈك قارشى تۇرۇش كۈچىگە ئىگە ئىكەن. ئورغاقسىمان ھۆججەتلىك كەم قانلىق كېسىلى ئاساسەن ئافرىقىغا ئوخشاش بەزىگە كېسىلى ئەۋج ئالغان رايونغا تارقالغان، بۇنىڭغا ئاساسەن نوساتتىن ئۆزگەرگەن گېنلارنىڭ شۇ جايدىكى ئادەملەرنىڭ ياشاشىغا كۆرسىتىدىغان تەسىرىنى مۇھاكىمە قىلىڭ.

لوگىتىنىڭ دېگەن ماددىنىڭ ئىكالىدىكى دەۋرىگە تەسىر قىلىدىغان ئورغاقسىمان ھۆججەتلىك كەم قانلىق كېسىلىگە بۆلۈنۈپ بېرىدۇ.

## § 2 . خروموسومنىڭ ئۆزگىرىشى



### مەسىلىلەر ئۈستىدە مۇھاكىمە

ئۇرۇقسىز تاۋۇزنىڭ قانداق شەكىللىنىدىغانلىقىنى بىلەمسىز؟ A ئوقۇغۇچى تۇخۇم ھۈجەيرىسى ئۇرۇقلىنالمىغانلىقتىن بولغان دەپ قارىسا، B ئوقۇغۇچى ئۇرۇقلانغان تۇخۇمنىڭ نورمال يېتىلەلمەسلىكىدىن بولغان دەپ قارىغان.

### مۇھاكىمە

سىزنىڭ پەرىزىڭىز قانداق؟

گېنلارنىڭ توساتتىن ئۆزگىرىشى خروموسومنىڭ مەلۇم بىر ئورنىدىكى گېنلارنىڭ ئۆزگىرىشى بولۇپ، بۇ خىل ئۆزگىرىشنى ئوپتىك مىكروسكوپتا بىمۇ ئاستە كۆزەتكىلى بولمايدۇ. ئەمما خروموسوملارنىڭ ئۆزگىرىشى (chromosomal variations)، مەسىلەن، خروموسوم تۈزۈلۈشىنىڭ ئۆزگىرىشى ۋە خروموسوم سانىنىڭ ئېشىپ كېتىشى ياكى كېمىدىن يىپىپ كېتىشى قاتارلىقلارنى ئوپتىك مىكروسكوپتا بىمۇ ئاستە كۆزەتكىلى بولىدۇ.

### بۇ يىراقتىكى مۇھىم نۇقتىسى

- خروموسوم تۈزۈلۈشىدىكى ئۆزگىرىشنىڭ قانداق تىپلىرى بار؟
- ئىككى ھەسسىلەنگەن تەنچە ۋە كۆپ ھەسسىلەنگەن تەنچە دېگەن نېمە؟
- خروموسوم گۇرۇپپىسى دېگەن نېمە؟

### خروموسوم تۈزۈلۈشىنىڭ ئۆزگىرىشى

ئىنسانلاردىكى نۇرغۇن ئىرسىيەت كېسەللىكلىرى خروموسوم تۈزۈلۈشىنىڭ ئۆزگىرىشىدىن كېلىپ چىقىدۇ. مەسىلەن، مۇشۇك مىياۋلاش يىغىندى كېسىلى ئادەمنىڭ 5 - نومۇرلۇق خروموسومىدىكى قىسمەن كەمتۈكلۈكتىن كېلىپ چىقىدىغان ئىرسىيەت كېسەللىكىدۇر. چۈنكى، بۇ خىل كېسەلگە گىرىپتار بولغان بالىنىڭ يىغا ئاۋازى تۆۋەن، ئىنتۇناتسىيىسى يۇقىرى بولۇپ، خۇددى مۇشۇكىنىڭ مىياۋلىشىغا ئوخشايدىغان بولغاچقا، مۇشۇنداق ئاتالغان. مۇشۇك مىياۋلاش يىغىندى كېسىلىگە گىرىپتار بولغۇچىنىڭ ئۆسۈپ يېتىلىشى ئاستا، زېھنىي قابىلىيىتى ئېغىر دەرىجىدە توسالغۇغا ئۇچرايدۇ. تەبىئىي شارائىت ياكى سۈنئىي ئامىللارنىڭ تەسىرىدە، خروموسوملاردا يۈز بېرىدىغان تۈزۈلۈش ئۆزگىرىشى ئاساسەن تۆۋەندىكىدەك تۆت خىل تىپتا بولىدۇ (5.5 - ۋە 6.5 - رەسىم).



خروموسومدىكى مەلۇم بۆلەكنىڭ كېلىشىپ كېلىشىدىن كېلىپ چىقىدىغان ئۆزگىرىش مەسىلىسى، مۇشۇ مۇناسىۋەتتە كۆرسىتىلگەن نەتىجىلەر ئۆزگىرىشنىڭ يۈز بېرىشىگە تەسىر كۆرسىتىدۇ.

5.5 - رەسىم. خروموسوم تۈزۈلۈشىنىڭ ئۆزگىرىشى (I)

خروموسومدىكى مەلۇم بۆلەكنىڭ ئوخشاش مەنبەلىك بولغان يانغا بىر تال خروموسومغا بۆلۈنۈپ كېلىشىپ چىقىدىغان ئۆزگىرىش. رەسىمدە كۆرسىتىلگەن ئۈن لىنىيىسىدە دائىم كۆرۈلىدىغان مۇشۇ نېمىسى ئۆزگىرىش.

6.5 - رەسىم. خروموسوم تۈزۈلۈشىنىڭ ئۆزگىرىشى (II)

يۇقىرىدا ئېيتىلغان خروموسوم تۈزۈلۈشىنىڭ ئۆزگىرىشى خروموسومغا تىزىلغان گېنلارنىڭ سانى ياكى تىزىلىش تەرتىپىدە ئۆزگىرىش پەيدا قىلىپ، بەلگىلەرنىڭ ئۆزگىرىشىنى كەلتۈرۈپ چىقىرىدۇ. مۇتلەق كۆپ ساندىكى خروموسوم تۈزۈلۈشىنىڭ ئۆزگىرىشى جانلىقلار ئۈچۈن پايدىسىز، بەزىلىرى ھەتتا جانلىقلارنىڭ ئۆلۈشىنى كەلتۈرۈپ چىقىرىدۇ.


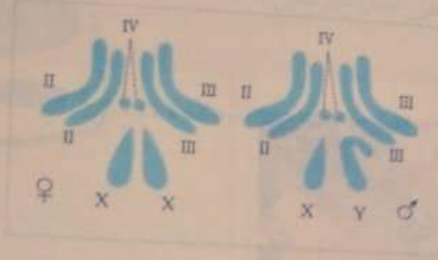
**باغلىنىشلىق بىلىملەر**

- ئايرىم خروموسوملارنىڭ ئىپادىسى.
- كېتىشى ياكى كېمىيىپ كېتىشى.
- كېتىشىدىن كېلىپ چىقىدىغان ئۆزگىرىشلەرنى مۇشۇ باياندا ئۈچىدە كۆرسىتىش.

**خروموسوم سانىنىڭ ئۆزگىرىشى**

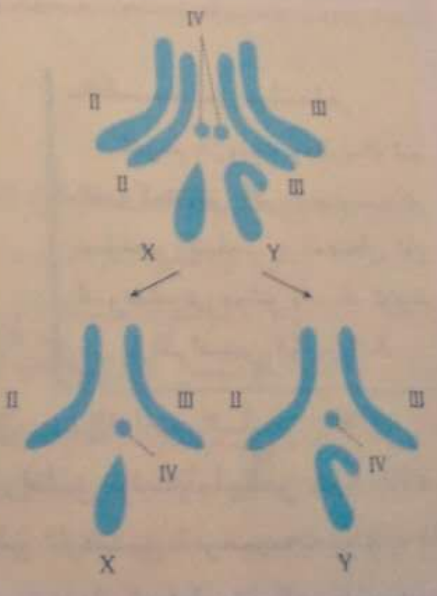
مۇنداقچە ئېيتقاندا، ھەر بىر خىل جانلىقنىڭ خروموسوم سانى تۇراقلىق بولىدۇ، لېكىن بەزى ئالاھىدە ئەھۋاللاردا جانلىقلار تېنىدىكى خروموسوملارنىڭ سانى ئۆزگىرىپ، شۇ ئارقىلىق ئىرسىيەت بولۇپ قالدى. دېنغان ئۆزگىرىشلەرنى پەيدا قىلىدۇ. خروموسوم سانىنىڭ ئۆزگىرىشى مۇنداق ئىككى تۈرگە بۆلۈنىدۇ: بىرى، ھۆججەت ئىچىدىكى ئايرىم خروموسوملارنىڭ كېتىشى ياكى كېمىيىپ كېتىشى، يەنە بىرى، ھۆججەت ئىچىدىكى خروموسوم سانىنىڭ گۈرۈپپىسى شەكىلدە ھەسسىلەپ كېتىشى.

ياكى كېمىسىپ كېتىشىدىن ئىبارەت. خروموسوم گۇرۇپپىسى مۇتلەق كۆپ ساندىكى جانلىقلارنىڭ تەن ھۆججەرىسىدە خروموسوملار ئىككى - ئىككىدىن جۈپ تۈزگەن ھالەتتە بولىدۇ. مەسىلەن، مېۋە چىۋىسىدە تۆت جۈپ، يەنى جەمئىي سەككىز تال خروموسوم (7.5 - ۋە 8.5 - رەسىم) بولىدۇ. بۇ تۆت جۈپ خروموسوم ئىككى گۇرۇپپىغا بۆلۈنگەن. ھەر بىر گۇرۇپپا ئۈچ تال دائىمىي خروموسوم بىلەن بىر تال جىنسىي خروموسومنى ئۆز ئىچىگە ئالىدۇ. ئەركەك مېۋە چىۋىسىنى مىسالغا ئالساق، ئىسپېرما ھاسىل بولۇش جەريانىدا، سان كېمىسىپ بۆلۈنۈش ئارقىلىق خروموسوملار سانىنىڭ يېرىمى كېمىلەپ كېتىدۇ - دە، ئەركەك مېۋە چىۋىسىنىڭ ئىسپېرمىسىدا پەقەت بىر گۇرۇپپا ئوخشاش مەنبەلىك بولمىغان خروموسوملار شەكلى ۋە فۇنكسىيىسى جەھەتتە جەيرىدىكى ئوخشاش مەنبەلىك بولمىغان بىر گۇرۇپپا خروموسوملار ئۆسۈشى، يېتىلىشى، ئىرسىيىتى بىر - بىرىگە ئوخشىمايدۇ، ئەمما يەنە ئۆزئارا ماسلىشىپ، جانلىقلارنىڭ ئۆسۈشى، يېتىلىشى، ئىرسىيىتى ۋە ئۆزگىرىشىنى بىرلىكتە كونترول قىلىدۇ. شۇڭا بۇنداق بىر گۇرۇپپا خروموسوملار بىر خروموسوم گۇرۇپپىسى دەپ ئاتىلىدۇ. مەسىلەن، ئەركەك مېۋە چىۋىسىنى ئىسپېرمىسىدىكى بىر گۇرۇپپا خروموسوم بىر خروموسوم گۇرۇپپىسىنى تۈزىدۇ (9.5 - رەسىم).



7.5 - رەسىم. مېۋە چىۋىسى خروموسومىنىڭ رەسىمى  
8.5 - رەسىم. ئەركەك - چىشى مېۋە چىۋىسىنىڭ تەن ھۆججەرىسىدىكى خروموسوملار

ئىككى ھەسسىلەنگەن تەنچە ۋە كۆپ ھەسسىلەنگەن تەنچە ئۇرۇقلانغان تۇخۇمدىن يېتىلگەن ئىندىر. بۇنداق ئىندىۋىدلار ئىككى ھەسسىلەنگەن تەنچە ۋە كۆپ ھۆججەرىسىدە ئىككى خروموسوم گۇرۇپپىسى بولسا، بۇنداق ئىندىۋىدلار ئىككى ھەسسىلەنگەن تەنچە (diploid) دەپ ئاتىلىدۇ؛ تەن ھۆججەرىسىدە ئۈچ ياكى ئۈچتىن ئارتۇق خروموسوم گۇرۇپپىسى بولغان ئىندىۋىدلار كۆپ ھەسسىلەنگەن تەنچە (polyploid) دەپ ئاتىلىدۇ. بۇنىڭ ئىچىدە، تەن ھۆججەرىسىدە ئۈچ خروموسوم گۇرۇپپىسى بولغان ئىندىۋىد ئۈچ ھەسسىلەنگەن تەنچە دەپ ئاتىلىدۇ؛ تەن ھۆججەرىسىدە تۆت خروموسوم گۇرۇپپىسى بولغان ئىندىۋىد تۆت ھەسسىلەنگەن تەنچە دەپ ئاتىلىدۇ. مەسىلەن، ئادەم، مېۋە چىۋىسى ۋە كۆممىقوناقلار ئىككى ھەسسىلەنگەن تەنچە، بانان ئۈچ ھەسسىلەنگەن تەنچە، ياڭيۇ تۆت ھەسسىلەنگەن تەنچىدۇر. تەبىئەت دۇنياسىدىكى بارلىق ھايۋانلار بىلەن يۇقىرى دەرىجىلىك ئۆسۈملۈكلەرنىڭ يېرىمىدىن كۆپرەكى دېگۈدەك ئىككى ھەسسىلەنگەن تەنچەدۇر. كۆپ ھەسسىلەنگەن تەنچە ئۆسۈملۈكلەردە ناھايىتى كۆپ ئۇچرايدۇ، ھايۋانلاردا بولسا بىرقەدەر ئاز ئۇچرايدۇ.



9.5 - رەسىم. ئەركەك مېۋە چىۋىسىنىڭ خروموسوم گۇرۇپپىسى

ئىككى ھەسسىلەنگەن تەنچىلىك ئۆسۈملۈك تۈپى بىلەن سېلىشتۇرغاندا، كۆپ ھەسسىلەنگەن تەنچىلىك ئۆسۈملۈك تۈپىنىڭ غولى ئوم ھەم مەزمۇت، يوپۇرمىقى، مېۋىسى ۋە ئۇرۇقىلىرى نىسبەتەن چوڭ، تەركىبىدىكى قەنت ۋە ئاقسىل قاتارلىق ئوزۇقلۇق ماددىلارنىڭ مىقدارىمۇ يۇقىرى بولىدۇ. مەسىلەن،

لەن، تۆت ھەسسىلەنگەن تەنچىلىك ئۈزۈمىنىڭ مېۋىسى ئىككى ھەسسىلەنگەن تەنچىلىك سورتىنىڭكىدىن خېلىلا چوڭ بولىدۇ، تۆت ھەسسىلەنگەن تەنچىلىك يەمىدۇرۇشقا تەركىبىدىكى ۋىتامىن C نىڭ مىقدارى ئىككى ھەسسىلەنگەن تەنچىلىك سورتىنىڭكىدىن بىر ھەسسە دېگۈدەك يۇقىرى بولىدۇ. شۇنىڭ ئۈچۈن، كىشىلەر ھەمىشە سۈنئىي ئۇسۇلدا ئىندۇكسىيەلەپ كۆپ ھەسسىلەنگەن تەنچە ھاسىل قىلىش ئۇسۇلىنى قوللىنىپ كۆپ ھەسسىلەنگەن تەنچىگە ئېرىشەيلى، يېڭى سورتلارنى يېتىشتۈرۈمەكتە (10.5 - رەسىم). سۈنئىي ئىندۇكسىيەلەپ كۆپ ھەسسىلەنگەن تەنچە ھاسىل قىلىشنىڭ ئۇسۇللىرى ناھايىتى كۆپ، مەسىلەن، تۆۋەن تېمپېراتۇرىدا بىر تەرەپ قىلىش قاتارلىقلار. ھازىر ئەڭ كۆپ قوللىنىلىۋاتقان ئەڭ ئۈنۈملۈك ئۇسۇل كولخىتسىن ئارقىلىق بىخلىنىۋاتقان ئۇرۇق ياكى مائىسىلارنى بىر تەرەپ قىلىشتۇر. كولخىتسىن بۆلۈنۈۋاتقان ھۈجەيرىگە تەسىر كۆرسەتكەندە، ئۇرۇقنىڭ تەنچىنىڭ شەكىللىنىشىنى تۈزۈۋېلىپ، خروموسوملارنىڭ ھۈجەيرىنىڭ ئىككى قۇتۇپىغا يۆتكىلىشىنى توسۇپ، شۇ ئارقىلىق ھۈجەيرىدىكى خروموسوم سانىنىڭ ھەسسىلىنىشىنى كەلتۈرۈپ چىقىرىدۇ. خروموسوم سانى ھەسسىلەنگەن ھۈجەيرە داۋاملىق يېپىلمىق بۆلۈنۈش ئېلىپ بارسا، كېيىن يېتىلىپ كۆپ ھەسسەلەنگەن تەنچىلىك ئۆسۈملۈك تۈپىگە ئايلىنىدۇ. ھازىر دۈنە يادىكى ھەرقايسى دۆلەتلەر سۈنئىي ئىندۇكسىيەلەپ كۆپ ھەسسىلەنگەن تەنچە ھاسىل قىلىش ئۇسۇلىدىن پايدىلىنىپ، نۇرغۇن يېڭى سورتلارنى يېتىشتۈرۈپ چىقتى، مەسىلەن، تەركىبىدە قەنت مىقدارى يۇقىرى بولغان قىزىلچا بەد-لەن ئۈچ ھەسسىلەنگەن تەنچىلىك ئۇرۇقسىز تاۋۇز قاتارلىقلار. بۇ پاراگرافتىكى مەزمۇنلارنى ئۆگىنىپ بولغاندىن كېيىن، ئۆزىمىز قول سېلىپ تۆۋەن تېمپېراتۇرىدا ئىندۇكسىيەلەپ خروموسوم سانىنى ئۆزگەرتىش تەجرىبىسىنى ئىشلەپ باقايلى.

**ئالاقىدار ئۇچۇرلار**  
 يېپىق ئۇرۇقلۇق ئۆسۈملۈكلەر ئىچىدىكى تەخمىنەن 33% نۇر كۆپ ھەسسىلەنگەن تەنچىدۇر. مەسىلەن، ئادەتتىكى بۇغداي، كېۋەز، تاماكا، ئالما، نەش-چۈت، مۇخارگۈلى ۋە تەرىگىس گۈلى قاتارلىقلارنىڭ ھەممىسى كۆپ ھەسسىلەنگەن تەنچىدۇر.



10.5 - رەسىم. خروموسوم سانى ھەسسىلەنگەندىن كېيىنكى بۆلجۈرگەن (يۇقىرىدا) ۋە ياۋا بۆلجۈرگەن (تۆۋەندە) باۋا

تەنچە 60% ئۆسۈملۈك مائىسىلەر ئۈچۈن مۇھىم تەنچە

**ئالاقىدار ئۇچۇرلار**  
 كولخىتسىن ( $C_{12}H_{21}ON$ ) 1937 - يىلى بايقالغان، ئۇ گۈللىمىسى ئىچىدىكى سۇرۇنجان ئۇرۇقى بىلەن شار-سىمان غولىدىن ئايرىپ ئېلىنغان بىر خىل ئالكالوئىد (ئۆسۈملۈك ئىشقارى). ئۇ ئاق ياكى سۇس سېرىق پاراشوك ياكى يېڭىسىمان كرىستال بولۇپ، ئۆتكۈر زەھەرلىك. شۇڭا، ئىشلەتكەندە ئالاھىدە دىققەت قىلىش كېرەك.

تاق ھەسسىلەنگەن تەنچە جانلىقلارنىڭ تەن ھۈجەيرىسىدە خروموسوملارنىڭ سانى ھەسسىلەپ ئېشىپلا قالماي يەنە ھەسسىلەپ كېمىيىپ كېتىدۇ. مەسىلەن، ھەسەل ھەرىسى توپىدىكى ئانا ھەرە بىلەن ئىشچى ھەرەلەرنىڭ تەن ھۈجەيرىسىدە 32 تال خروموسوم بولىدۇ، ئەركەك ھەرىنىڭ تەن ھۈجەيرىسىدە بولسا ئاران 16 تال خروموسوم بولىدۇ.

ئىرىكەك ھەسل ھەرىلىرىگە ئوخشاش تەن ھۈجەيرىسى شۇ تۈر گامېتسىنىڭ خروموسوم سانىغا ئىگە ئىدى. مۇنداق ھەسلەنگەن نەچە (haploid) دەپ ئاتىلىدۇ. تەبىئىي شارائىتتا كۆممىقوناق، ئاق قوناق (گاۋلىياڭ)، شال، پەمىدۇر قاتارلىق يۇقىرى دەرىجىلىك ئۆسۈملۈكلەردىمۇ بەزىدە ئاق ھەسلەنگەن تەنچىلىك تۈپلەر ئۇچراپ قالىدۇ. نورمال ئۆسۈملۈك تۈپلىرى بىلەن سېلىشتۇرغاندا، ئاق ھەسلەنگەن تەنچىلىك ئۆسۈملۈكلەر تۈپى كىچىك ھەم ئاجىز، ھەم يۇقىرى دەرىجىدە كۆپىيەلمەيدۇ. بىراق، ئاق ھەسلەنگەن تەنچىلىك ئۆسۈملۈك تۈپىدىن پايدىلىنىپ يېڭى سورتلارنى يېتىشتۈرگەندە، سورت يېتىشتۈرۈش يىلى چەكلىمىسىنى روشەن ھالدا قىسقارتقىلى بولىدۇ. سورت يېتىشتۈرۈش خادىملىرى ھەمىشە چاڭدان (گۈل چېڭى) نى تەندىن ئايرىپ يېتىشتۈرۈش ئۆسۈلمىنى قوللىنىپ، ئاق ھەسلەنگەن تەنچىلىك ئۆسۈملۈك تۈپىگە ئېرىشىدۇ. ئاندىن ئۇنى سۈنئىي ئۆسۈلدا ئىندۇكسىيەلەپ خروموسوم سانىنى ھەسسىلەپ ئاشۇرۇپ، قايتىدىن نورمال ئۆسۈملۈك تۈپىدىكى خروموسوم سانىغا كەلتۈرىدۇ. بۇ خىل ئۆسۈلدا يېتىشتۈرۈلگەن ئۆسۈملۈك تۈپى نورمال كۆپىيىپلا قالماي، بەلكى ھەر بىر جۈپ خروموسومدىكى جۈپ تۈزگەن گېنلارنىڭ ھەممىسى ساپ يولغاچقا، ئۆزىدىن شالغۇتلاشتۇرغاندا ھاسىل بولغان كېيىنكى ئەۋلادلاردا بەلگىلەرنىڭ ئايرىلىشى كۆرۈلمەيدۇ.



### ئۆسۈملۈكلەرنىڭ خروموسوم سانىنى تۆۋەن تېمپېراتۇرىدا ئىندۇكسىيەلەپ ئۆزگەرتىش

ئۆسۈملۈكلەرنىڭ نورمال يىپلىق بۆلۈنۈۋاتقان بۆلۈنگۈچى توقۇلما ھۈجەيرىلىرى يىپىلىق بۆلۈنۈشنىڭ كېيىنكى دەۋرىدە، خروموسوملىرى يىپىلىنىش نۇقتىسىدىن ئايرىلىپ، بالا خروموسوملار ئۈرچۈقسىمان يىپىچىلارنىڭ تەسىرىدە ئايرىم - ئايرىم ئىككى قۇتۇپقا يۆتكىلىپ، ئەڭ ئاخىرىدا ئىككى بالا ھۈجەيرىگە تەڭ تەقسىملىنىپ بارىدۇ. تۆۋەن تېمپېراتۇرىدا ئۆسۈملۈكلەرنىڭ بۆلۈنگۈچى توقۇلما ھۈجەيرىلىرىنى بىر تەرەپ قىلغاندا، ئۈرچۈقسىمان تەنچىلىك شەكىللىنىشى تۈرمۈزلىنىپ، خروموسوملارنىڭ ئىككى قۇتۇپقا تارتىلىشى تەسىرىگە ئۇچرايدۇ - دە، ھۈجەيرىلەرمۇ ئىككى بالا ھۈجەيرە بولۇپ بۆلۈنەلمەيدۇ، شۇنىڭ بىلەن ئۆسۈملۈك ھۈجەيرىلىرىنىڭ خروموسوم سانىدا ئۆزگىرىش يۈز بېرىدۇ.

#### مەقسەت ۋە تەلەپ

1. ئۆسۈملۈكلەرنىڭ خروموسوم سانىنى تۆۋەن تېمپېراتۇرىدا ئىندۇكسىيەلەپ ئۆزگەرتىش ئۇسۇلىنى ئۆگىنىش.
2. تۆۋەن تېمپېراتۇرىدا ئىندۇكسىيەلەشنىڭ ئۆسۈملۈك ھۈجەيرىسىدىكى خروموسوم سانىنىڭ ئۆزگىرىشىگە نەسىر كۆرسىتىش مېخانىزمىنى چۈشىنىۋېلىش.

#### ماتېرىيال ۋە سايمانلار

پىياز ياكى غول پىياز، سامساق (بۇلارنىڭ ھەممىسى ئىككى ھەسلەنگەن نەچە بولۇپ، تەن ھۈجەيرىسىدىكى خروموسوم سانى 16)، ئۆستۈرۈش قاچىسى، سۈزگۈچ قەغەز، داكا، ئىستاكان، موچىن، قايچا، مىكروسكوپ، بۇيۇم ئەينىكى، ياپ-قۇچ ئەينەك، توڭلاتقۇ، كارنو سۇيۇقلۇقى، فېنول - فۇكسىن بويىقى، ھەجىم ئۆلۈشى 15% بولغان تۇز كىسلاتا ئېرىتمەسى، ھەجىم ئۆلۈشى 95% بولغان ئىسپىرت ئېرىتمىسى.

ئىرىكەك ھەسل ھەرىلىرىگە ئوخشاش تەن ھۈجەيرىسى شۇ تۈر گامېتسىنىڭ خروموسوم سانىغا ئىگە ئىدى. مۇنداق ھەسلەنگەن نەچە (haploid) دەپ ئاتىلىدۇ. تەبىئىي شارائىتتا كۆممىقوناق، ئاق قوناق (گاۋلىياڭ)، شال، پەمىدۇر قاتارلىق يۇقىرى دەرىجىلىك ئۆسۈملۈكلەردىمۇ بەزىدە ئاق ھەسلەنگەن تەنچىلىك تۈپلەر ئۇچراپ قالىدۇ. نورمال ئۆسۈملۈك تۈپلىرى بىلەن سېلىشتۇرغاندا، ئاق ھەسلەنگەن تەنچىلىك ئۆسۈملۈكلەر تۈپى كىچىك ھەم ئاجىز، ھەم يۇقىرى دەرىجىدە كۆپىيەلمەيدۇ. بىراق، ئاق ھەسلەنگەن تەنچىلىك ئۆسۈملۈك تۈپىدىن پايدىلىنىپ يېڭى سورتلارنى يېتىشتۈرگەندە، سورت يېتىشتۈرۈش يىلى چەكلىمىسىنى روشەن ھالدا قىسقارتقىلى بولىدۇ. سورت يېتىشتۈرۈش خادىملىرى ھەمىشە چاڭدان (گۈل چېڭى) نى تەندىن ئايرىپ يېتىشتۈرۈش ئۆسۈلمىنى قوللىنىپ، ئاق ھەسلەنگەن تەنچىلىك ئۆسۈملۈك تۈپىگە ئېرىشىدۇ. ئاندىن ئۇنى سۈنئىي ئۆسۈلدا ئىندۇكسىيەلەپ خروموسوم سانىنى ھەسسىلەپ ئاشۇرۇپ، قايتىدىن نورمال ئۆسۈملۈك تۈپىدىكى خروموسوم سانىغا كەلتۈرىدۇ. بۇ خىل ئۆسۈلدا يېتىشتۈرۈلگەن ئۆسۈملۈك تۈپى نورمال كۆپىيىپلا قالماي، بەلكى ھەر بىر جۈپ خروموسومدىكى جۈپ تۈزگەن گېنلارنىڭ ھەممىسى ساپ بولغاچقا، ئۆزىدىن شالغۇتلاشتۇرغاندا ھاسىل بولغان كېيىنكى ئەۋلادلاردا بەلگىلەرنىڭ ئايرىلىشى كۆرۈلمەيدۇ.



تەجرىبە

ئۆسۈملۈكلەرنىڭ خروموسوم سانىنى تۆۋەن تېمپېراتۇرىدا ئىندۇكسىيەلەپ ئۆزگەرتىش

ئۆسۈملۈكلەرنىڭ نورمال يىپلىق بۆلۈنۈۋاتقان بۆلۈنگۈچى توقۇلما ھۈجەيرىلىرى يىپىلىق بۆلۈنۈشنىڭ كېيىنكى دەۋرىدە، خروموسوملىرى يىپىلىنىش نۇقتىسىدىن ئايرىلىپ، بالا خروموسوملار ئۇرچۇقسىمان يىپىچىلارنىڭ تەسىرىدە ئايرىم - ئايرىم ئىككى قۇتۇپقا يۆتكىلىپ، ئەڭ ئاخىرىدا ئىككى بالا ھۈجەيرىگە تەڭ تەقسىملىنىپ بارىدۇ. تۆۋەن تېمپېراتۇرىدا ئۆسۈملۈكلەرنىڭ بۆلۈنگۈچى توقۇلما ھۈجەيرىلىرىنى بىر تەرەپ قىلغاندا، ئۇرچۇقسىمان تەنچىلىكنىڭ شەكىللىنىشى تۈزۈلۈپ، خروموسوملارنىڭ ئىككى قۇتۇپقا تارتىلىشى تەسىرگە ئۇچرايدۇ - دە، ھۈجەيرىلەرمۇ ئىككى بالا ھۈجەيرە بولۇپ بۆلۈنەلمەيدۇ، شۇنىڭ بىلەن ئۆسۈملۈك ھۈجەيرىلىرىنىڭ خروموسوم سانىدا ئۆزگىرىش يۈز بېرىدۇ.

مەقسەت ۋە تەلەپ

1. ئۆسۈملۈكلەرنىڭ خروموسوم سانىنى تۆۋەن تېمپېراتۇرىدا ئىندۇكسىيەلەپ ئۆزگەرتىش ئۇسۇلىنى ئۆگىنىش.
2. تۆۋەن تېمپېراتۇرىدا ئىندۇكسىيەلەشنىڭ ئۆسۈملۈك ھۈجەيرىسىدىكى خروموسوم سانىنىڭ ئۆزگىرىشىگە نەسىر كۆرسىتىش مېخانىزمىنى چۈشىنىۋېلىش.

ماتېرىيال ۋە سايمانلار

پىياز ياكى غول پىياز، سامساق (بۇلارنىڭ ھەممىسى ئىككى ھەسلەنگەن نەچە بولۇپ، تەن ھۈجەيرىسىدىكى خروموسوم سانى 16)، ئۆستۈرۈش قاچىسى، سۈزگۈچ قەغەز، داكا، ئىستاكان، موچىن، قايچا، مىكروسكوپ، بۇيۇم ئەينىكى، ياپ-قۇچ ئەينەك، توڭلاتقۇ، كارنو سۇيۇقلۇقى، فېنول - فۇكسىن بويىقى، ھەجىم ئۆلۈشى 15% بولغان تۇز كىسلاتا ئېرىتمەسى، ھەجىم ئۆلۈشى 95% بولغان ئىسپىرت ئېرىتمىسى.

### ئۈسۈل ۋە باسقۇچلار

1. پىياز (ياكى غول پىياز ۋە سامساق) نى سۈزۈك سۇ قاچىلانغان كەڭ ئېغىزلىق قاينىغۇچىغا بىلگىز قىسمىنى سۇغا تېمپېراتۇرىلىق بۆلۈمچىسى ( $4^{\circ}\text{C}$ ) گە سېلىپ، 36h (سائەت) ئىندۇكسىيەلەپ بىر تەرەپ قىلىنغان يىلتىز ئۆسۈپ چىققاندا، بۇ تەجرىبە قۇرۇلمىسىنى ئوقلاشۇنغا تۆۋەن سۈيۇقلۇققا  $0.5 - 1\text{h}$  چىلاپ، ھۈجەيرىنىڭ شەكلىنى ئۆزگەرتىش ئۈچۈن تەخمىنەن  $0.5 - 1\text{cm}$  ئەتراپىدا كېسىۋېلىپ، كارنو چىرتتا ئىككى قېتىم چايقاپ يۇيىمىز.
  2. ئىندۇكسىيەلەپ بىر تەرەپ قىلىنغان يىلتىز ئۆسۈپ چىققاندا، بۇ تەجرىبە قۇرۇلمىسىنى ئوقلاشۇنغا تۆۋەن سۈيۇقلۇققا  $0.5 - 1\text{h}$  چىلاپ، ھۈجەيرىنىڭ شەكلىنى ئۆزگەرتىش ئۈچۈن تەخمىنەن  $0.5 - 1\text{cm}$  ئەتراپىدا كېسىۋېلىپ، كارنو چىرتتا ئىككى قېتىم چايقاپ يۇيىمىز.
  3. شىلما پىرېپارات ياساش ئايرىش، يۇيۇش (چايقاش)، بويلاش ۋە پىرېپارات ياساشتىن ئىبارەت تۆت باسقۇچنى ئۆز ئىچىگە ئالىدۇ. كونكرېت مەشغۇلات ئۈسۈلى ۋە تەجرىبە «ئۆسۈملۈك ھۈجەيرىسىنىڭ يېملىق بۆلۈنۈشىنى كۆزىتىش» تەجرىبىسى بىلەن ئوخشاش.
  4. ئالدى بىلەن تۆۋەن ھەسسىلىك نىشان ئەينىكىدە خروموسوم شەكلى بىر قەدەر ئېنىق بولغان بۆلۈنۈش كۆرۈنۈش ئۈسۈلىنى تېپىۋالسىمىز. بۇ ۋاقىتتا كۆرۈش دائىرىسىدە ھەم نورمال بولغان ئىككى ھەسسىلەنگەن تەنچىلىك ھۈجەيرە، ھەم خروموسوم سانىدا ئۆزگىرىش بولغان ھۈجەيرىلەر كۆرۈنىدۇ. ئاندىن خروموسوم سانىدا ئۆزگىرىش بولغان يەكۈن تەجرىبىدىن چىقىرىلغان يەكۈن تەجرىبە دوكلاتى قوللانمىسىغا خاتىرىلىنىدۇ.
- كولخىتسىن بىلەن تۆۋەن تېمپېراتۇرا ئوخشاشلا خروموسومنى ئىندۇكسىيەلەپ سانىنى ئاشۇرۇۋېتىدۇ. بۇ ئىككى كى ئۈسۈلنىڭ پىرىنسىپ جەھەتتە قانداق ئوخشاشلىق تەرەپلىرى بار؟

### مەشەق

#### I ئاساس سوئال

1. تۆۋەندىكى ئېيتىلىشلارنىڭ توغرا - خاتالىقىغا ھۆكۈم قىلىڭ.
  - (1) تەن ھۈجەيرىسىدە ئىككى خروموسوم گۇرۇپپىسى بولغان ئىندۇئىد ئىككى ھەسسىلەنگەن تەنچىلىك ئىندۇئىد تۇر.
  - (2) تاق ھەسسىلەنگەن ئۆسۈملۈك تۈپىنى كولخىتسىن بىلەن بىر تەرەپ قىلغاندىن كېيىن ئېرىشكەن ئۆسۈملۈك تۈپى چوقۇم ئىككى ھەسسىلەنگەن تەنچىدۇر.
2. كولخىتسىن بىلەن ئىندۇكسىيەلىگەندە كۆپ ھەسسىلەنگەن تەنچە ھاسىل بولۇشنىڭ سەۋەبى:
  - A. خروموسوم ئىندۇكسىيەلىنىپ كۆپ قېتىم نۇسخىلىنىدۇ
  - B. ھۈجەيرە يېملىق بۆلۈنگەندە ئۈز چۆقىسىمان تەنچىنىڭ شەكىللىنىشى تۈرمۈزلىنىدۇ
  - C. خروماتىدلارنىڭ ئايرىلىشى ئىلگىرى سۈرۈلۈپ، خروموسوم شەكىللىنىدۇ
  - D. ھۈجەيرىلەرنىڭ قوشۇلۇشى ئىلگىرى سۈرۈلىدۇ

جاۋابى: B

3. جەدۋەل تولدۇرۇش

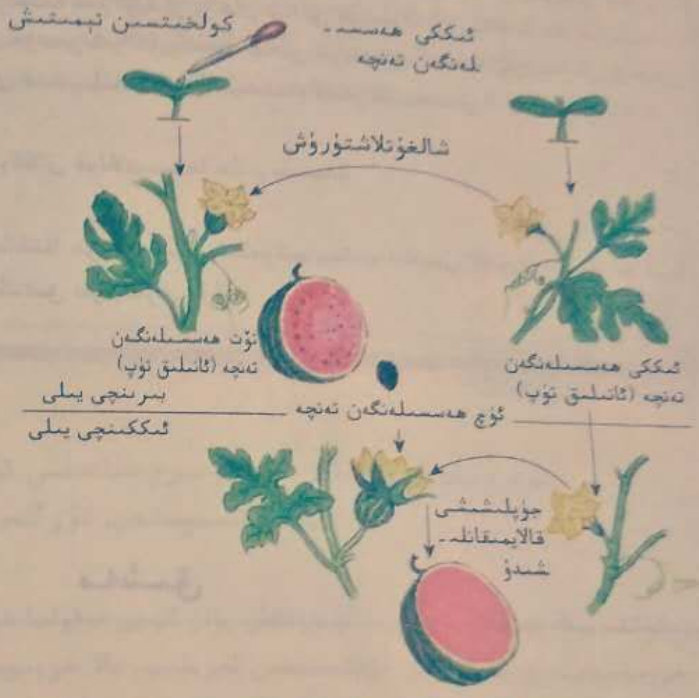
كۆك پۇرچاق، ئادەتتىكى بۇغداي، قارا بۇغدايلارنىڭ تەن ھۈجەيرىسى ۋە گامپېتسىدىكى خروموسوم سانى، خروموسوم

گۈرۈپپىسى سانىنى مەدۋەلگە ئولتۇرۇپ سېلىشتۇرۇش ھەمدە ئۇلارنىڭ تەنچە ھەسسىلەنگەن تەنچىلىك جانلىق ئىكەنلىكىنى ئايرىم - ئايرىم ئىزاھلاپ قويۇش.

تەنچە ھەسسىلەنگەن نەتىجىگە ئىگە جانلىقلار	گامبېلىسىدىكى خروموسوم گۇرۇپپىسى سانى	تەن ھۈجەيرىسىدىكى خروموسوم گۇرۇپپىسى سانى	گامبېلىسىدىكى خروموسوم سانى	تەن ھۈجەيرىسىدىكى خروموسوم سانى	سېلىستورما يۈزلەر	تەنچە ھەسسىلەنگەن نەتىجىگە ئىگە جانلىقلار
		2	7			كۆك بۇچاق
	3			42		ئادەتتىكى بۇغداي
سەككىز ھەسسىلەنگەن تەنچە			28			قارا بۇغداي

II كېڭەيتىمە سوئال

كىشىلەر ئادەتتە يەيدىغان تاۋۇز ئىككى ھەسسىلەنگەن تەنچىلىك تاۋۇزدۇر. ئىككى ھەسسىلەنگەن تەنچىلىك تاۋۇزنى مايسامز گىلىدە كولخىتسىن بىلەن بىر تەرەپ قىلىپ، خاندان تۆت ھەسسىلەنگەن تەنچىلىك ئۆسۈم - لۈك تۈپىگە ئېرىشكىلى بولىدۇ. ئاندىن بۇ تۆت ھەسسىلەنگەن تەنچىلىك تۈپنى ئاندىن لىق، ئىككى ھەسسىلەنگەن تەنچىلىك تۈپنى ئاتىلىق قىلىپ شالغۇتلاشتۇرغاندا، ئېرىشكىلىگەن ئۇرۇق ھۈجەيرىسىنىڭ تەركىبىدە ئۈچ خروموسوم گۈرۈپپىسى بولىدۇ. بۇ ئۈچ رۇقلارنى تېرىغاندا، ئۈچ ھەسسىلەنگەن تەنچىلىك ئۆسۈملۈك ئۈنۈپ چىقىدۇ. ئوڭ تەرەپتىكى رەسىم ئۈچ ھەسسىلەنگەن تەنچىلىك ئۇرۇقسىز تاۋۇز يېتىشتۈرۈش جەريانى.



تۆۋەندىكى مەسىلىلەرگە جاۋاب بېرىڭ:

1. مەلۇم قوبۇقلىق ئىككى كولخىتسىن ئېرىتمىسى نېمە ئۈچۈن ئىككى ھەسسىلەنگەن تاۋۇز مايسامنىڭ ئۈچىغا تېمىپ قوبۇلىدۇ؟
2. ئېرىشكىلىگەن تۆت ھەسسىلەنگەن تەنچىلىك تاۋۇز نېمە ئۈچۈن ئىككى ھەسسىلەنگەن تەنچىلىك تاۋۇز بىلەن شالغۇتلاشتۇرۇلىدۇ؟ 1 - مەسىلىگە باغلاپ، كۆپ ھەسسىلەنگەن تەنچە ھاسىل بولۇشنىڭ ئاساسىي يولىنى سۆزلەپ بېرەلەمسىز؟
3. ئۈچ ھەسسىلەنگەن تەنچىلىك تاۋۇزنىڭ نېمە ئۈچۈن ئۇرۇقى بولمايدۇ؟ راستتىنلا بىر تالمۇ ئۇرۇق بولمامدۇ؟
4. ھەر يىلى يۇقىرىقىدەك قىلىپ تېرىش بەك ئاۋازچىلىك، بۇنىڭ باشقىچە ئۇسۇلى بارمۇ؟

### §3. ئىنسانلاردىكى ئىرسىيەت كېسەللىكلىرى

#### مەسىلىلەر ئۈستىدە مۇھاكىمە



سېمىزلىك كېسەلى

ئىنسانلاردىكى قىزىل - يېشىل رەڭ قارىغۇسى، قان ئوخ-  
سەللىكلەرنىڭ ھەممىسى ئىرسىيەت كېسەللىكىدۇر. ئىنسانلار  
گېنىنى تەتقىق قىلىش ئىنسانلاردىكى نۇرغۇن كېسەللىكلەر، يە-  
نى ئادەتتىكى زۇكامدىن تارتىپ سەمىز كېتىشىگىچە بولغان  
كېسەللىكلەرنىڭ ھەممىسى گېن بىلەن مۇناسىۋەتلىك بولۇش  
ئېھتىماللىقىنى كۆرسىتىپ بەردى.

#### مۇھاكىمە

1. ئادەمنىڭ سېمىز - ئورۇقلۇقىنىمۇ گېن بەلگىلەمدۇ؟
2. بەزىلەر «ئىنسانلاردىكى بارلىق كېسەللىكلەر گېن كېسەلى» دەپ قارايدۇ، سىز بۇ خىل قاراشنىڭ ئاساسىنى سۆزلەپ بېرەلەمسىز؟ سىز بۇ خىل قاراشقا قوشۇلالمىسىز؟

#### بىر پاراگرافتىكى مۇھىم نۇقتىلار

- ئىنسانلار ئىرسىيەت كېسەللىكلىرىنىڭ تۈرلىرى قايسىلار؟
- ئىرسىيەت كېسەللىكلىرىنى قانداق كۆ-زەتكىلى، ئۆلچىملىكى ۋە ئالدىنى ئالغىلى بولىدۇ؟
- ئىنسانلار گېن گۇرۇپپىسى پىلاننى يول-غا قويۇشنىڭ قانداق ئەھمىيىتى بار؟

تۇرمۇش سەۋىيىسىنىڭ يۇقىرى كۆتۈرۈلۈشى ۋە داۋالاش، دورىگەرلىك، ساقلىقنى ساقلاش شارائىتىنىڭ ياخشىلىنىشىغا ئەگىشىپ، ئىنسانلاردىكى يۇقۇملۇق كې-سەللىكلەر تەدرىجىي كونترول قىلىنىۋاتقان بولسىمۇ، ئەمما ئىنسانلاردىكى ئىرسىيەت كېسەللىكلىرىنىڭ قوز-غىلىش نىسبىتى ۋە بۇ كېسەللىكلەر سەۋەبىدىن

ئۆلۈش نىسبىتى يىلمۇيىل ئېشىپ بېرىۋاتقان بولغاچقا، ئىنسانلاردىكى بۇ خىل ئىرسىيەت كېسەللىكلىرى ئىنسانلارنىڭ سالامەتلىكىگە تەھدىت سال-دىغان مۇھىم بىر ئامىل بولۇپ قالدى.



ئىنسانلاردا كۆپ كۆرۈلىدىغان ئىرسىيەت كېسەللىكلىرىنىڭ تۈرلىرى ئىنسانلار ئىرسىيەت كېسەللىكلىرى ئادەتتە ئىرسىيەت ماددىلىرىنىڭ ئۆزگىرىشى بىلەن كېلىپ چىقىدىغان ئىنسانلار كېسەللىكلىرىنى كۆرسە-تىدۇ، ئۇلارنى ئاساسەن بىر گېنلىق ئىرسىيەت كېسەلى، كۆپ گېنلىق ئىر-سىيەت كېسەلى ۋە غەيرىي خروموسوملۇق ئىرسىيەت كېسەلىدىن ئىبارەت ئۈچ چوڭ تۈرگە بۆلۈشكە بولىدۇ.

بىر گېنلىق ئىرسىيەت كېسەلى بىر گېنلىق ئىرسىيەت كېسەلى بىر چۆپ نەڭ ئورۇنلۇق گېننىڭ كونتروللۇقىغا ئۇچرايدىغان ئىرسىيەت كې-

11.5 - رەسىم. كۆمۈرچىكى تولۇق يېتىلمىگەن كېسەل بالا



سەللىكلەرنى كۆرسىتىدۇ. ھازىر دۇنيا بويىچە بايقالغان بۇ خىل كېسەللىكتىن تەخمىنەن 6500 خىلى بار. بىر گېنلىق ئىرسىيەت كېسەللىكى ئومۇمەن كېسەل قوزغاتقۇچى ئاشكارا گېن كەلتۈرۈپ چىقىرىدۇ، مەسىلەن، كۆپ بارماقلىق، تۇتاش بارماقلىق، كۆمۈرچىكى تولىق يېتىلمەسلىك (11.5 - رەسىم). ۋىتامىن D غا قارشى راخىت كېسەلى قاتارلىقلار؛ شۇنداقلا يەنە كېسەل قوزغاتقۇچى يوشۇرۇن گېن كەلتۈرۈپ چىقىرىشىمۇ مۇمكىن، مەسىلەن، ئورغاقسىمان ھۈجەيرەلىك كەم قانلىق كېسەلى، ئاقىرىش كېسەلى (ئالبىتىزم)، تۇغما گىس - گاچا كېسەلى، فېنېل كېتون سېمىش كېسەلى قاتارلىقلار. فېنېل كېتون سېمىش كېسەللىكى كېلىپ چىقىش سەۋەبى شۇكى، بىمارنىڭ تەن ھۈجەيرىسىدە بىر خىل ئېنزىم كەم بولغانلىقتىن، بەدەن ئىچىدىكى فېنېل ئالانىن نورمال يول بىلەن تىروزىنغا ئايلىنالمىي، پەقەت فېنېل پىرۇۋىك كىسلاتاغا ئايلىنىدۇ. فېنېل پىرۇۋىك كىسلاتا بەدەندە دە زىيادە كۆپ يىغىلىپ قالسا بوۋاقلارنىڭ نېرۋا سىستېمىسىنى ئوخشىمىغان دەرىجىدە زەخمىلەندۈرىدۇ.



12.5 - رەسىم. 21 ئۈچ تەنچىلىك يىغىندى كېسەلگە گىرىپتار بولغان ھۈجەيرىلىك خروموسوم گۇرۇپپىسى



13.5 - رەسىم. 21 ئۈچ تەنچىلىك يىغىندى كېسەلگە گىرىپتار بولغان بالا

كۆپ گېنلىق ئىرسىيەت كېسەلى كۆپ گېنلىق ئىرسىيەت كېسەلى ئىككى جۈپتىن ئارتۇق تەڭ ئورۇنلۇق گېنلارنىڭ كونتروللىقىغا ئۇچرايدىغان ئىنسانلار ئىرسىيەت كېسەللىكلەرنى كۆرسىتىدۇ. كۆپ گېنلىق ئىرسىيەت كېسەلى ئاساسەن بەزىبىر يېتىلىشى تۇغما نورمالسىز بولۇش بىلەن بەزىبىر كۆپ ئۇچرايدىغان كېسەللىكلەر، مەسىلەن، بىرلەمچى يۇقىرى قان بېسىم، تاجسىمان يۈرەك كېسەلى، كېسەلى ۋە ياش - ئۆسۈملۈكلەردە كۆرۈلىدىغان دىئابېت كېسەلى قاتارلىقلار. كۆپ گېنلىق ئىرسىيەت كېسەللىكىنىڭ كىشىلەر توپىدا قوزغىلىش نىسبىتى بىرقەدەر يۇقىرى بولىدۇ. غەيرىي خروموسوملۇق ئىرسىيەت كېسەلى غەيرىي خروموسوملار كەلتۈرۈپ چىقىرىدىغان ئىرسىيەت كېسەللىكلىرى غەيرىي خروموسوملۇق ئىرسىيەت كېسەلى (قىسقارتىلىپ خروموسوم كېسەلى) دەپ ئاتىلىدۇ. ھازىر بايقالغان ئىنسانلار غەيرىي خروموسوملۇق ئىرسىيەت كېسەللىكلىرى 100 خىلدىن ئاشىدۇ، بۇ خىل كېسەللىكلەر ئاساسەن ئىنسانلارنىڭ ھەر بىر جۈپ خروموسومغا چېتىلىدۇ. 21 ئۈچ تەنچىلىك يىغىندى كېسەلى يەنە تۇغما دۆتلۈك دەپمۇ ئاتىلىدۇ، ئۇ كۆپ ئۇچرايدىغان بىر خىل خروموسوم كېسەلىدۇر. بىمارنىڭ خروموسومىنى تەكشۈرگەندە، ئۇنىڭ نورمال ئادەملەرگە قارىغاندا، بىر تال 21 - نومۇرلۇق خروموسومى ئارتۇق ئىكەنلىكىنى كۆرۈۋالغىلى بولىدۇ (12.5 - رەسىم). 21 ئۈچ تەنچىلىك يىغىندى كېسەلگە گىرىپتار بولغۇچىنىڭ ئەقلى ئىقتىدارى تۆۋەن، يېتىلىشى ئاستا بولىدۇ. كېسەل بالىلاردا ئالاھىدە چىراي ئىپادىلىرى (13.5 - رەسىم) كۆرۈلىدۇ. 50% كېسەل بالىلاردا تۇغما يۈرەك كېسەلى بولىدۇ، قىسمەن كېسەل بالىلار يېتىلىش جەريانىدا ئۆلۈپ كېتىدۇ. ئۇنداقتا، بۇ خىل ئىرسىيەت كېسەللىكلىرى قانداق پەيدا بولىدۇ؟ ھۈجەيرىلەر نورمال ئەھۋالدا سان كېمەيتىپ بۆلۈنگەندە، ئوخشاش مەنبەلىك خروموسوملار بىر - بىرىدىن ئايرىلىپ كۆپىيىش ھۈجەيرىلىرىدىكى خروموسوملارنىڭ سانى تەن ھۈجەيرىلىرىنىڭكىگە قارىغاندا يېرىمى كېمەيتىپ كېتىدۇ. ئەمما، ناۋادا سان كېمەيتىپ بۆلۈنگەن ۋاقىتتا 21 - نومۇرلۇق خروموسوم نورمال ئايرىلالماي قالسا، 21 ئۈچ تەنچىلىك يىغىندى كېسەلى پەيدا بولىدۇ. ئىنسانلاردا كۆپ ئۇچرايدىغان ئىرسىيەت كېسەللىكلەرنىڭ تۈرلىرىنى بىلىۋالغاندىن كېيىن، بىز تەكشۈرۈش ئارقىلىق ئىنسانلار ئىرسىيەت كېسەللىكلەرنى يەنىمۇ ئىلگىرىلەپ بىلىۋالالايمىز.

**تەكشۈرۈش**

**كىشىلەر توپىدىكى ئىرسىيەت كېسەللىكلىرىنى تەكشۈرۈش**

مەقسەت ۋە نەلەپ

1. ئىنسانلار ئىرسىيەت كېسەللىكلىرىنى تەكشۈرۈش ۋە ستاتىستىكىلاش ئۇسۇلىنى دەسلەپكى قەدەمدە ئۆگىنىش.
2. بىرنەچچە خىل ئىنسانلار ئىرسىيەت كېسەللىكلىرىنى تەكشۈرۈش ئارقىلىق، بۇ بىرنەچچە خىل ئىرسىيەت كېسەللىكلىرىنىڭ قوزغىلىش ئەھۋالىنى بىلىۋېلىش.
3. ئەمەلىي تەكشۈرۈش ئارقىلىق، جەمئىيەت بىلەن ئۇچرىشىش ھەمدە جەمئىيەتتىن بىۋاسىتە ماتېرىيال ۋە سان-كۆرسەتمە
1. كىچىك گۇرۇپپىلارنى بىرلىك قىلىپ تەكشۈرۈش خىزمىتىنى قانات يايدۇرسىمۇ ياكى بولمىسا گۇرۇپپا ئەزالىرىغا ئىش تەقسىم قىلىپ بېرىپ تەكشۈرۈش ئېلىپ بارسىمۇ بولىدۇ.
2. ھەربىر گۇرۇپپا ئەتراپىدىكى ئۆزىگە تونۇشلۇق 4-10 غىچە ئائىلە (ياكى ئائىلە نەسەبنامىسى) دىكى ئىرسىيەت كېسەللىكلىرىنىڭ ئەھۋالىنى تەكشۈرسىمۇ بولىدۇ.
3. تەكشۈرگەندە ئەڭ ياخشى كىشىلەر توپى ئىچىدە قوزغىلىش نىسبىتى بىرقەدەر يۇقىرى بولغان بىر گېنلىق ئىرسىيەت كېسەللىكى تاللاش كېرەك، مەسىلەن، قىزىل - يېشىل رەڭ قارىغۇسى، ئاقىرىش كېسىلى، يۇقىرى دەرىجىدىكى يىراقتى كۆرەلمەسلىك (600 گرادۇستىن يۇقىرى) قاتارلىقلار.
4. تەكشۈرۈلىدىغان كىشىلەر توپىنىڭ كۆپرەك بولۇشىغا كاپالەتلىك قىلىش ئۈچۈن، گۇرۇپپىلار تەكشۈرگەن سانلىق مەلۇماتلارنى سېنىپ ۋە يىللىقلار بويىچە خۇلاسەلەپ چىقىش كېرەك، بۇ خىزمەت ئوقۇتقۇچىنىڭ بىر تۇتاش ئورۇنلاشتۇرۇشى بويىچە بولىدۇ.
5. پۈتۈن يىللىقلار بويىچە خۇلاسەلەنگەن سانلىق مەلۇماتلارغا ئاساسەن، تۆۋەندىكى فورمۇلا بويىچە ھەربىر خىل ئىرسىيەت كېسەللىكىنىڭ قوزغىلىش نىسبىتىنى ھېسابلاپ چىقىشقا بولىدۇ.

$$\text{مەلۇم خىل ئىرسىيەت كېسەللىكىگە گىرىپتار بولغۇچىلارنىڭ سانى} \times 100\% = \frac{\text{مەلۇم خىل ئىرسىيەت كېسەللىكى بويىچە تەكشۈرۈلگەن ئادەم سانى}}{\text{مەلۇم خىل ئىرسىيەت كېسەللىكىلىكىنىڭ قوزغىلىش نىسبىتى}}$$

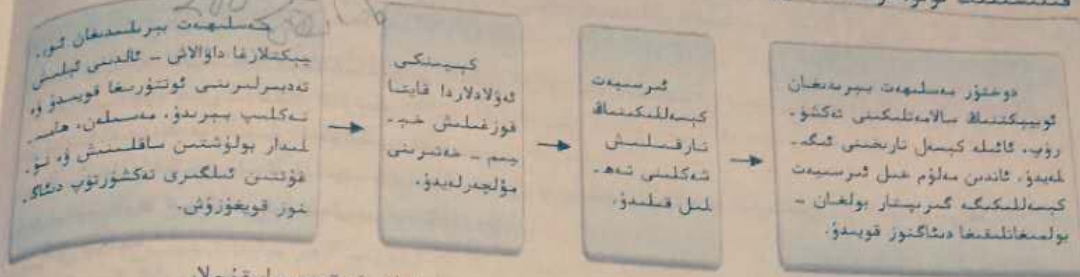
**مۇھاكىمە**

1. سىلەر تەكشۈرگەن ئىرسىيەت كېسەللىكلىرىدە جەمەت ئىرسىيەتكە مايىللىق ئىپادىلەنمەدۇ - يوق؟
2. تەكشۈرۈلگەن بۇ بىرنەچچە خىل ئىرسىيەت كېسەللىكلىرىنىڭ ئاشكارا ياكى يوشۇرۇن ئىكەنلىكىگە ھۆكۈم قىلالامسىلەر؟
3. مۇناسىۋەتلىك ماتېرىياللاردا، ئېلىمىزدىكى كىشىلەر توپى ئىچىدە ئېغىر دەرىجىدىكى يىراقتى كۆرەلمەسلىك كېسىلىگە گىرىپتار بولغۇچىلار 1%؛ قىزىل - يېشىل رەڭ قارىغۇسى ئىچىدە ئەرلەر 7%، ئاياللار 0.5% بولىدىغانلىقى كۆرسىتىلگەن. سىز ھېسابلىغان كېسەللىك نىسبىتى يۇقىرىقى سانلىق مەلۇماتلارغا يېقىنلاشتىمۇ - يوق؟ ئەگەر بۇنىڭغا قايىل بولمىسىڭىز، سەۋەبىنى تەھلىل قىلىڭ.

**ئىرسىيەت كېسەللىكلىرىنى ئۆلچەپ تەكشۈرۈش ۋە ئالدىنى ئېلىش**

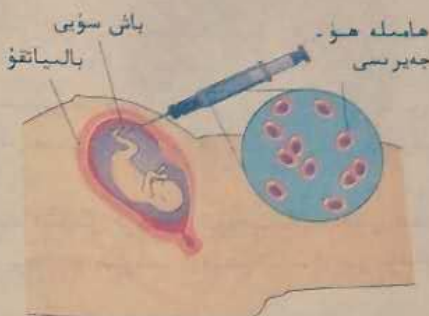
ئېلىمىزدە تەخمىنەن (20% - 25%) ئادەم ھەر خىل ئىرسىيەت كېسەللىكلىرىگە گىرىپتار بولغان، پەقەت 21 ئۈچ تەنچىلىك يىغىندى كېسىلىگە گىرىپتار بولغۇچىلارنىڭ ئومۇمىي سانى 1 مىليوندىن كەم ئەمەس دەپ مۆلچەرلەنمەكتە. ئىرسىيەت كېسەللىكلىرى كېسەل بولغۇچىنىڭ ئۆزىگە ئازاب ئېلىپ كېلىپلا قالماي، ئائىلە ۋە جەمئىيەتكىمۇ ئېغىر يۈك بولۇپ قالىدۇ. ئىرسىيەت مەسلىھەتى (14.5 - رەسىم) ۋە تۈ-

تۇغۇتتىن ئىلگىرى دىئاگنوز قويۇش قانارلىق ۋاستىلەر ئارقىلىق، ئىرسىيەت كېسەللىكلىرىنى ئۆلچەش تەكشۈرۈش ۋە ئالدىنى ئېلىش مۇئەييەن دەرىجىدە ئىرسىيەت كېسەللىكىنىڭ پەيدا بولۇشى ۋە تەرەققىي قىلىشىنىڭ ئۈنۈملۈك ئالدىنى ئالىدۇ.



14.5 - رەسىم. ئىرسىيەت مەسلىھەتگە دائىر مەزمۇنلار ۋە قەدەم باسقۇچلار

تۇغۇتتىن ئىلگىرى دىئاگنوز قويۇش ھامىلە تۇغۇلۇشتىن ئىلگىرى دوختۇر مەخسۇس تەكشۈرۈش ۋاستىلىرى، مەسى-لەن، باش سۈيىنى تەكشۈرۈش (15.5 - رەسىم)، B تىپلىق ئۇلترا ئاۋاز دولقۇنىدا تەكشۈرۈش، ھامىلىدار ئايالنىڭ قان ھۈجەيرىسىنى تەكشۈرۈش ۋە گېنىغا دىئاگنوز قويۇش قاتار-لىق ۋاستىلەر ئارقىلىق، ھامىلىنىڭ مەلۇم خىل ئىرسى-يەت كېسەللىكىگە ياكى تۇغما كېسەللىكلەرگە گىرىپتار بولغان - بولمىغانلىقىنى ئېنىقلاشنى كۆرسىتىدۇ.



15.5 - رەسىم. باش سۈيىنى تەكشۈرۈش

كېسەل قوزغاتقۇچى گېنلارنىڭ ئۈزلۈكسىز بايقىلىشى ۋە گېنىغا دىئاگنوز قويۇش تېخنىكىسىنىڭ ئۈزلۈكسىز ياخشىلىنىشىغا ئەگىشىپ، كىشىلەر ئىرسىيەت كې-سەللىكلىرىنى تېخىمۇ ياخشى ئۆلچەپ تەكشۈرۈۋاتقان ۋە ئالدىنى ئېلىۋاتقان بولسىمۇ، بىراق، يەنە بىر جەھەتتىن كىشىلەر تەكشۈرۈش ئارقىلىق گېن كەمتۈكلۈكى چىقىپ قېلىپ، ئىشقا ئورۇنلىشىش ۋە سۈ-غۇرتا سېتىۋېلىش جەھەتلەردە تەڭسىزلىككە ئۇچراپ قېلىشتىن ئەنسىرمەكتە. سىزنىڭچە بۇ مەسىلىلەر-نى قانداق مۇۋاپىق بىر تەرەپ قىلغىلى بولىدۇ؟

ماتېرىيال توپلاش ۋە تەھلىل قىلىش



گېنىغا دىئاگنوز قويۇش ئارقىلىق ئىرسىيەت كېسەللىكلىرىنى ئۆلچەپ تەكشۈرۈش

گېنىغا دىئاگنوز قويۇشقا ئائىت ماتېرىياللارنى توپلاش.

مۇھاكىمە

1. گېنىغا دىئاگنوز قويۇش ئارقىلىق بىمارنىڭ مەلۇم ئىرسىيەت كېسەللىكىگە گىرىپتار بولغان ياكى بولمىغانلىقىنى ئېنىقلىغانلى-قىغا دائىر ئەمەلىي مەسلىھەتلەرنى ئېيتىپ بېرەلەمسىز؟
2. ئەگەر گېنىغا دىئاگنوز قويۇش نەتىجىسى مەلۇم بىر ئادەمنىڭ كەلگۈسىدە مەلۇم خىل ئېغىرراق ئىرسىيەت كېسەللىكىگە گى-رىپتار بولىدىغانلىقىنى كۆرسەتسە، دوختۇر ۋە ئائىلىسىدىكىلەردىن باشقىلارنىڭ بۇ ئۇچۇرنى بىلىش ھوقۇقى بارمۇ؟

### ئىجابىي تەسىرى ۋە ئۇنىڭغا ماس كۆز.

#### قاراش

1. راي، دىئابىت، قېرىلىقتىن بولىدىغان دېۋە-لىك ۋە قان بېسىمى قاتارلىق كېسەللىكلەر بىلەن مۇناسىۋەتلىك گېنلارنى بىلىۋالغاندا، ھازىر داۋالاش نەس بولۇۋاتقان بۇ كېسەللىكلەرگە قارىتا ئۆز ۋاقتىدا ئۈنۈملۈك ھالدا گېنىغا دىئاگنوز قويۇش ۋە داۋالاش ئېلىپ بارغىلى بولىدۇ.
2. ئادەم تۇغۇلغان ھامان ئىرسىيەتنى تەھلىل قىلىش ئارقىلىق، ئىرسىيەت كېسەللىكلىرىنىڭ خېيىم - خەتىرىنى ئالدىن ئۆلچەپ چىققىلى ۋە ئۇنىڭ ئالدىنى ئالغىلى بولىدۇ.
3. بىرى ئەجەبلىنگەن ھالدا «گېن دېگەن پۇل ئىدەكەندە!» دېدۇ. HGP نىڭ تەرەققىي قىلىشىغا ئەگىشىپ، گېن گۇرۇپپىسى سانائىتى گۈللىنىشكە باشلىدى. بىر دانە سېمىزلىك گېنىنى ئۇنۈنۈپ بېرىش تەننەرخىغا 140 مىليون ئامېرىكا دوللىرىغا يېتىدۇ.
4. بىرلەشكەن دۆلەتلەر مائارىپ - پەن - مەدەنىيەت تەشكىلاتى 1998 - يىلى «ئىنسانلار گېن گۇرۇپپىسى ۋە ئىنسانلار كىشىلىك ھوقۇقىغا ئائىت خەلقئارالىق خىتابنامە» ئېلان قىلىپ، ئىنسانلارنىڭ قەدىر - قىممىتى ۋە باراۋەرلىكى، ئالىملارنىڭ تەتقىقات ئەركىنلىكى، ئىنسانلار ئىناقلىقى، خەلقئارالىق ھەمكارلىقتىن ئىبارەت تۆت ئاساسىي پىرىنسىپنى ئوتتۇرىغا قويدى.

.....

### سەلبىي تەسىرى ۋە ئۇنىڭغا ماس كۆز.

#### قاراش

1. ئىرسىيەت كېسەللىكى بولغان ئائىلە، كىشىلەر توپى ۋە كېسەلگە گىرىپتار بولغۇچىلارنىڭ ئىرسىيەت ماتېرىياللىرى ئىقتىسادىي ئەھمىيەتكە ئىگە گېن بايلىقىدۇر. شۇڭا، بۇ بايلىققا ئىگە ھەر قانداق بىر تەرەققىي قىلىۋاتقان دۆلەت تەرەققىي ئاپ-قان دۆلەتلەرنىڭ گېن تالىشىنى ئۈرۈشىدىكى «بازار»غا ئايلىنىپ قالىدۇ. بىرى ئاچچىقلانغان ھالدا مۇنداق دەيدۇ: «سىلەر ئىلگىرى بىزنىڭ ئالتۇنىمىزنى ئى بۇلاپ كەتكەن، ھازىر يەنە بىزنىڭ گېنىمىزنى بۇلساقچى بولۇۋاتىسىلەر!»
2. HGP گېنلار ئارىسىدا ئىرقىي پەرقنىڭ بولىدىغانلىقىنى، ئەمما بۇ خىل پەرقنىڭ سىڭدىن بىرگىمۇ يەتمەيدىغانلىقىنى كۆرسىتىپ بەردى. بۇ پەرققە ئاساسەن «ئىرقلارنى تاللاش خاراكتېرىدە يوقىتىدىغان بىئولوگىيەلىك يوقىتىش قورالى»نى ياساپ چىققىلى بولىدۇ.
3. بىرى ئۈمىدسىزلىككەن ھالدا: «HGP نىڭ راستتىنلا نامايانغان ۋاقتى، ئىنسانلارنىڭ يوقالغان كۈنى بولىدۇ!» دۇنيادا كەمسىتىشلەر ئاز ئەمەس، ھازىر يەنە «تورمال گېن گۇرۇپپىسى» ۋە «كېسەل گېن گۇرۇپپىسى» دەيدىغان ئىرسىيەت كەمسىتىشلەر بارلىققا كەلدى، دەيدۇ.

.....

### مۇھاكىمە

1. ئىنسانلار گېن گۇرۇپپىسىنىڭ بارلىق تەرتىپىنى ئۆلچەپ بېكىتىشتە قانداق سانلىق مەلۇماتلار ۋە نەتىجىلەر قولغا كەلدى؟ ئىنسانلار گېن گۇرۇپپىسى ھەققىدىكى تەتقىقاتلار قانداق يېڭى ئىلگىرىلەشلەرگە ئېرىشتى؟ ئېلىمىز ئۆز ئۈستىگە ئالغان 1% لىك ئېنىقلاش تۈرىنىڭ مەزمۇنى نېمە؟ ئۇنىڭ ئورۇندىلىش ئەھۋالى قانداق؟ ئېلىمىز بىردىنبىر تەرەققىي قىلىۋاتقان دۆلەت بولۇش سۈپىتى بىلەن HGP غا قاتنىشىشنىڭ قانداق زور ئەھمىيىتى بار؟
2. «ئىنسانلار گېن گۇرۇپپىسى ۋە ئىنسانلار كىشىلىك ھوقۇقىغا ئائىت خەلقئارالىق خىتابنامە» دىكى تۆت ئاساسىي پىرىنسىپنى قانداق چۈشىنىسىز؟
3. سىزنىڭچە HGP ئىلىم - پەن تەرەققىياتى، ئىنسانلار ساغلاملىقى ۋە ئىجتىمائىي ئەخلاق قاتارلىق جەھەتلەرگە قانداق تەسىر كۆرسىتىدۇ؟ بۇ تەسىرلەرگە قانداق باھا بېرىسىز؟
4. ئىلىم - پەن خۇددى ئىككى بىسلىق پىچاققا ئوخشايدۇ، ئۇ ھەم ئىنسانلارغا بەخت يارىتىدۇ، ھەم بەزى ئەكس تەسىرلەرنى پەيدا قىلىدۇ. ئىنسانلار گېن گۇرۇپپىسى ھەققىدىكى تەتقىقاتلارنىڭ تۈيۈك يولغا كىرىپ قالمايلىقىغا كاپالەتلىك قىلىش ئۈچۈن، سىزنىڭچە ئالىملار ۋە ئادەتتىكى پۇقرالار ئايرىم - ئايرىم قانداق ئىجتىمائىي مەسئۇلىيەتنى ئۈستىگە ئېلىشى كېرەك؟

كۆز -  
 كى -  
 زىنىڭ  
 سىنىڭ  
 مەر -  
 ئاۋ -  
 كى  
 ئالدا  
 مۇ -  
 نى

مەشىق

I ئاساس سوئال

1. نۆۋەتتىكى بايانلارنىڭ توغرا - خاتالىقىغا ھۆكۈم قىلىڭ.
  - (1) نۇغما يۈرەك كېسىلىنىڭ ھەممىسى ئىرسىيەت كېسەللىكىدۇر.
  - (2) بىر گېنلىق ئىرسىيەت كېسىلى بىر دانە كېسەل قورغانقۇچى گېن كەلتۈرۈپ چىقارغان ئىرسىيەت كېسەللىكىدۇر.
  - (3) ئىنسانلار گېن گۇرۇپپىسى نەرتىپىنى ئېنىقلاش ئادەملەردىكى 46 تال خروموسومنىڭ بېرىشى، يەنى 23 تال خروموسومدىكى ئىنقىزار رادىكالى نەرتىپىنى ئۆلچەپ ئېنىقلاشتىن ئىبارەت.
  - (4) ئىرسىيەت كېسەللىكلىرىنىڭ تۈرلىرى ۋە ئەمەلىي مىساللارنى جەدۋەللەشتۈرۈپ خۇلاسەلەڭ.

II كېڭەيتىمە سوئال

ئاقىرىش كېسىلى بىر خىل يوشۇرۇن ئىرسىيەت كېسەللىكى. بىر قىزنىڭ ئىنىسى بۇ خىل كېسەلگە گىرىپتار بولغان بولسا، ئۇنداقتا بۇ قىزنىڭ ئۆزىمۇ ئاقىرىش كېسىلى گېنىنى ئېلىپ يۈرگۈچى بولامدۇ؟ ئۇنىڭ تېخى نۇغۇلىمىغان بالىسى - ئىگىمۇ بۇ خىل كېسەلگە گىرىپتار بولۇش ئېھتىماللىقى بارمۇ؟ ئەگەر سىز ئىرسىيەت ھەققىدە مەسلىھەت بېرىدىغان بىر دوختۇر بولىسىڭىز، ئۇنىڭغا قانداق مەسلىھەت بېرىسىز؟



پەن . تېخنىكا . جەمئىيەت

گېن ئارقىلىق داۋالاش

گېن ئارقىلىق داۋالاش نورمال گېننى بىمارنىڭ ھۈجەيرىسىدىكى كەمتۈك گېننىڭ ئورنىغا ئالماشتۇرۇش ياكى تولۇقلاش ئارقىلىق كېسەل داۋالاش مەقسىتىگە يېتىشنى كۆرسىتىدۇ. 1990 - يىلى ئامېرىكا ئالىملىرى دۇنيادا تۇنجى بولۇپ مېدىتسىنادا گېن ئارقىلىق داۋالاشنى يولغا قويغان. بىمار ئېغىر ھالدىكى مۇرەككەپ تىپلىق ئىممۇ - نىتېت كەملىك كېسەلگە گىرىپتار بولغان تۆت ياشلىق قىز ئاشانتى (D.Ashanthi) ئىدى. گېن كەمتۈكلۈكى سەۋەبىدىن ئۇنىڭ تېنىدە ئادېنىلات دىئامىنازا (ADA) كەمچىل بولغان، ADA نىڭ كەمچىل بولۇشى ئۇنى نورمال ئادەملەردە بولۇشقا تېگىشلىك ئىممۇنىتېت كۈچىگە ئىگە قىلمىغان. ئالىملار ئۇنىڭ تېنىدىن ئاق قان دانچىسى ھۈجەيرىلىرىنى ئايرىۋېلىپ ئۇنىڭغا ADA نى سىنتېزلىيالايدىغان نورمال گېننى كۆچۈرۈپ، ئاندىن بۇ نورمال گېنگە ئىگە ئاق قان دانچىسى ھۈجەيرىسىنى ئۇنىڭ تېنىگە قايتا كىرگۈزگەن. مانا شۇنداق ئىككى يىل ئۆزۈڭسىز داۋالاش ئارقىلىق ئاخىر ئۇنىڭ سالامەتلىكىنى ئەسلىگە كەلتۈرگەن. شۇنىڭدىن كېيىن ئالىملار يەنە مۇشۇ خىل داۋالاش ئۇسۇلىنى قوللىنىپ، ئېغىر ھالدىكى مۇرەككەپ تىپلىق ئىممۇنىتېت كەملىك كېسەلگە گىرىپتار بولغان 10 نەچچە بىمارنى داۋالىغان.

بىراق، كەينى - كەينىدىن كەلگەن مەغلۇبىيەتلەر بۇ يېڭى تېخنىكا ئاسمىنى قارا تۇمان بىلەن قاپلىدى. 2000 - يىلى 9 - ئايدا 18 ياشلىق بىر ئوغۇل بالا گېن ئارقىلىق داۋالاش سەۋەبىدىن ئامېرىكىنىڭ فىلادېلفىيە شەھىرىدە ئۆلۈپ كېتىدۇ. ئامېرىكا «ئىلىم - پەن» ژۇرنىلىدا ئامېرىكا يېمەكلىك ۋە دورا باشقۇرۇش ئىدارىسى (FDA) ئېلان قىلغان مەلۇم ئۇنىۋېرسىتېتنىڭ گېن ئارقىلىق داۋالاش تەجرىبىسى ئېلىپ بېرىشىنى ۋاقتىنچە



ئېغىر ھالدىكى مۇرەككەپ ئىيلىق ئىممۇنىتېت كىمىكە كېسىلىگە گىرىپتار بولغان بالىنىڭ ئەينەك ئارقىلىق ئايرىلغان مىكروپىسىز ئۆيدىكى تۇرمۇشى

جەكلەش دوكلاتى ئارقا - ئارقىدىن بېسىلىدۇ.  
10 نەچچە يىللىق تەرەققىياتلارنى باشتىن كەچۈر -  
گەن گېن ئارقىلىق داۋالاش تەتقىقاتى، نۇرغۇن ئىلگى -  
رىلەشلەرگە ئېرىشىدۇ. بىراق، بۇ تېخى يەنىلا دەسلەپ -  
كى كىلىنىكىلىق تەجرىبە باسقۇچىدا تۇرغاچقا، داۋالاش  
ئۈنۈمى ۋە بىخەتەرلىككە مۇقىم كاپالەتلىك قىلغىلى  
بولمايتتى. توسالغۇلار قانچە كۆپ بولۇشىدىن قەتئىيە -  
غەزەر، گېن ئارقىلىق داۋالاشنىڭ تەرەققىيات ۋە تەزىمە -  
تى يەنىلا كىشىنى خۇشال قىلىدۇ. خۇددى گېن ئارقى -  
لىق داۋالاشقا ئاساس سالغۇچىلار ئېيتقىنىدەك، گېن  
ئارقىلىق داۋالاشتىن ئىبارەت بۇ يېڭى تېخنىكا كەل -  
گۈسىدە 21 - ئەسىردىكى مېدىتسىنا ئىنقىلابىنى  
ئىلگىرى سۈرگىسى.

## بۇ بابتىن قىسقىچە خۇلاسە

جانلىقلاردىكى ئۆزگىرىشلەرنىڭ بەزىلىرى پەقەت مۇھىتنىڭ تەسىرىدە پەيدا بولۇپ، ئىرسىيەت ماددىلىرىدا ئۆزگىرىش پەيدا قىلىنماپقا، بۇ ئىرسىيەت بولۇپ قالمايدۇ. دېنغا ئۆزگىرىش ھېسابلىنىدۇ؛ بەزىلىرى كۆپىيىش ھۈجەيرىلىرىدىكى ئىرسىيەت ماددىلىرىنىڭ ئۆزگىرىشىدىن كېلىپ چىقىپ، كېيىنكى ئەۋلادلارغا ئىرسىيەت بولۇپ قالىدۇ. خان بولغاچقا، بۇ ئىرسىيەت بولۇپ قالدىغان ئۆزگىرىش ھېسابلىنىدۇ. گېنلارنىڭ تۈسەتتىن ئۆزگىرىشى، گېنلارنىڭ قايتا كۆرۈۋېلىشى ۋە غىرروسوملاردىكى ئۆزگىرىشلەر بولسا ئىرسىيەتلىك ئۆزگىرىشنىڭ كېلىش مەنبەسىدۇر.

DNA مولېكۇلىسىدىكى ئىشقا رادىكالى جۈپلىرىنىڭ ئالمىشىشى، ئېشىپ كېتىشى ۋە كېمىيىپ كېتىشىدىن كېلىپ چىقىدىغان گېن تۈزۈلۈشىنىڭ ئۆزگىرىشى گېنلارنىڭ تۈسەتتىن ئۆزگىرىشى دېيىلىدۇ. گېنلارنىڭ تۈسەتتىن ئۆزگىرىشى ھەم مۇھىت ئامىللىرىدىن، ھەم ئۆزۈلۈكىدىن پەيدا بولىدۇ. گېنلارنىڭ تۈسەتتىن ئۆزگىرىشى جانلىقلار دۇنياسىدا ئومۇميۈزلۈك مەۋجۇت بولۇپ، مۇقىم يۈنلىشتە بولماستىن تاسادىپىي يۈز بېرىدۇ. تەبىئىي ھالەتتە گېنلارنىڭ تۈسەتتىن ئۆزگىرىش تەكرارلىقى ناھايىتى تۆۋەن بولىدۇ، ئەمما بۇ تەكرارلىق چوڭ بىر تۈر توپىدا خىلمۇخىل شەكىلدىكى تاسادىپىي تۈسەتتىن ئۆزگىرىشلەرنى پەيدا قىلىپ، جانلىقلار تەدرىجىي تەرەققىياتىنى مول دەسلەپكى ماتېرىيال بىلەن تەمىنلەيدۇ. گېنلارنىڭ قايتا كۆرۈۋېلىشى جانلىقلار جىنسلىق كۆپىيىۋاتقاندا ئوخشاش بولمىغان بەلكىلەرنى كونترول قىلىدىغان گېنلارنىڭ قايتىدىن بىرىكىشىنى

كۆرسىتىدۇ. بۇ جانلىقلارنىڭ تەدرىجىي تەرەققىياتىدا مۇھىم ئەھمىيەتكە ئىگە. غرۇموسوملاردىكى ئۆزگىرىش مىكروسكوپتا بىۋاسىتە كۆزەتكىلى بولىدىغان غرۇموسوملاردىكى بىرقەدەر روشەن ئۆزگىرىشلەرنى كۆرسىتىدۇ. مەسىلەن، غرۇموسوم ئۆزۈلۈپ، ئىنىڭ ئۆزگىرىشى، غرۇموسوم سانىنىڭ ئېشىپ كېتىشى ۋە كېمىشى قاتارلىقلار. غرۇموسوم كۆرۈپىسى ھۈجەيرىدىكى بىر كۆرۈپىغا ئوخشاش مەنبەلىك بولمىغان غرۇموسوملارنى كۆرسىتىدۇ. ئۇلار مورفولوگىيىسى ۋە فۇنكسىيىسى جەھەتتە بىر - بىرىگە ئوخشاشمايدۇ. ئۇلار جانلىقلارنىڭ ئۆسۈپ يېتىلىشىنى كونترول قىلىدىغان بارلىق ئىرسىيەت ئۆزۈرلىرىنى ئېلىپ يۈرىدۇ. كىشىلەر دائىم سۇنئىي ئىندۇكىسىلدا كۆپ ھەسلىنەنگەن تەنچە ھاسىل قىلىش ئۇسۇلىدا كۆپ ھەسلىنەنگەن تەنچىلىك ئۆسۈملۈكلەرگە ئېرىشسە، يېڭى سورتلارنى يېتىشتۈرۈپ چىقىدۇ.

ئىرسىيەت كېسەللىكلىرى ئىرسىيەت ماددىلىرىنىڭ ئۆزگىرىشى نەتىجىسىدە كېلىپ چىقىدىغان ئىنسانلار كېسەللىكلىرىنى كۆرسىتىدۇ. ئۇلار ئاساسەن بىر كېلىنج ئىرسىيەت كېسىلى، كۆپ كېلىنج ئىرسىيەت كېسىلى ۋە غەيرىي غرۇموسوملۇق ئىرسىيەت كېسىلىدىن ئىبارەت ئۈچ چوڭ تۈرگە بۆلۈنىدۇ. ئىرسىيەت كېسەللىكلىرىنى ئۆلچەپ تەتقىق رۇش، يەنى ئىرسىيەت مەسلىھىتى ۋە تۇغۇتتىن ئىلگىرى دىئاگنوز قويۇش قاتارلىقلار مۇئەييەن دەرىجىدە ئىرسىيەت كېسەللىكلىرىنىڭ پەيدا بولۇشى ۋە تەرەققىي قىلىشىنىڭ ئۈنۈملۈك ئالدىنى ئالىدۇ. ئىنسانلار كېن كۆرۈپىسى پىلانى ئىنسانلار ئۆزىنىڭ تۇغۇلۇشى، قېرىشى، كېسەل بولۇشى ۋە ئۆلۈشىدىكى ئىرسىيەتلىك سىرلارنى بىلىۋېلىشىغا ياردەم بېرىپ، ئىنسانلارنىڭ ئۆز تەقدىرىنى ئۆز قولىغا ئېلىشىغا تېخىمۇ ياخشى ئىمكانىيەت يارىتىپ بېرىدۇ.

بىراق، ئىلىم - پەن خۇددى ئىككى بىلىج پىچاققا ئوخشايدۇ. ئۇ ھەم ئىنسانىيەتكە بەخت يارىتىدۇ، ھەم بەزى ئەكس تەسىرلەرنىمۇ پەيدا قىلىدۇ. ھازىرقى ئىلىم - پەن تەتقىقات نەتىجىلىرىنىڭ مۇۋاپىق قوللىنىلىشىغا كاپالەتلىك قىلىش ئۈچۈن، ھازىرقى زامان پۇقراسى بولۇش سۈپىتىمىز بىلەن، ئىلىم - پەننىڭ تەرەققىياتى ۋە تەسىرىگە يېقىندىن كۆڭۈل بۆلۈشىمىز كېرەك.

تور ئادرېسى

- <http://nxy.yangtzeu.edu.cn/ycx/index.htm>
- <http://course.tjac.edu.cn/yichuanxue/>
- <http://course.xznu.edu.cn/bioxp/>
- <http://sky.scnu.edu.cn/jingpin/>

## ئۆز - ئۆزىنى سىناش

### I ئۇقۇم ھەققىدە سىناش

#### ھۆكۈم قىلىش

1. مۇھىتنىڭ تەسىرىدىن كېلىپ چىققان ئۆزگىرىشلەر ئىرسىيەت بولۇپ قالمايدۇ.
2. گېندىكى مېئوسى رىبو نۇكلېئوتىدنىڭ تۈرى، سانى ۋە تەرتىپىدىكى ئۆزگىرىشلەر گېننىڭ نوساتىنى ئۆزگىرىشى ھېسابلىنىدۇ.
3. گېنلارنىڭ قايتا گۇرۇپپىلىشى ئۇرۇقلىنىش جەريانىدا يۈز بېرىدۇ.
4. مۇننى ئىندۇكسىيەلەپ ئۆزگەرتىش كېلىپ چىققان گېنلارنىڭ نوساتىنى ئۆزگىرىشى ۋە خروموسوملارنىڭ ئۆزگىرىشى ئومۇمەن بايىلىق.
5. ھۆججەتتە ئىككى خروموسوم گۇرۇپپىسى بولغان ئىندىۋىد ئىككى ھەسسىلەنگەن تەنچە دەپىلىدۇ.
6. ئىنسانلاردىكى كۆپلىگەن كېسەللىكلەر گېن بىلەن مۇناسىۋەتلىك، شۇنداقلا تۇرمۇش ئادىتى ۋە مۇھىت بىلەنمۇ مۇناسىۋەتلىك.

#### توغرا جاۋابنى تاللاڭ

تۆۋەندىكى قايسى ئەھۋالدا يېڭى گېن ھاسىل بولىدۇ.

A. گېنلارنىڭ قايتىدىن گۇرۇپپىلىشى

B. گېنلارنىڭ نوساتىنى ئۆزگىرىشى

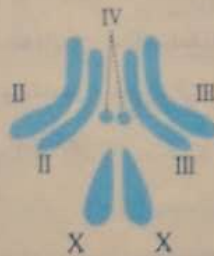
C. خروموسوم سانىنىڭ ئۆزگىرىشى

D. گېنلارنىڭ ئايرىلىشى

جاۋاب: B

#### رەسىمگە قاراپ جاۋاب بېرىڭ

مېۋە چىۋىنى خروموسوم گۇرۇپپىسىنىڭ تۈزۈلۈش رەسىمىگە ئاساسەن، تۆۋەندىكى بوش ئورۇنلارنى تولدۇرۇڭ.



1. بۇ \_\_\_\_\_ جىنسىلىق مېۋە چىۋىنى، مۇنداق ھۆكۈم قىلىشتىكى ئاساس \_\_\_\_\_.
2. ھۆججەتتە \_\_\_\_\_ جۈپ ئوخشاش مەنبەلىك خروموسوم، \_\_\_\_\_ دانە خروموسوم گۇرۇپپىسى بار.

#### ئۇقۇم سخېمىسىنى تاماملاڭ

ئۇقۇم سخېمىسى شەكلىدە ئىرسىيەت بولۇپ قالدىغان ئۆزگىرىشلەرنىڭ قايسى مەزمۇنلارنى ئۆز ئىچىگە ئالدىغانلىقىنى يىغىنچاقلاپ چىقىڭ.

### II بىلىمىنى نامايان قىلىش

بىر جۈپ ئەر - خوتۇن بولۇپ، ئايال ئەرەپ X خروموسومدا بىر جۈپ كېسەل قوزغاتقۇچى يوشۇرۇن گېننى ئېلىپ بۈرگەنلىكتىن، مەلۇم خىل ئىرسىيەت كېسەللىكىگە گىرىپتار بولغان، ئەرنىڭ ئىپادىلىنىش تىپى نورمال، ئۇنداق بولسا



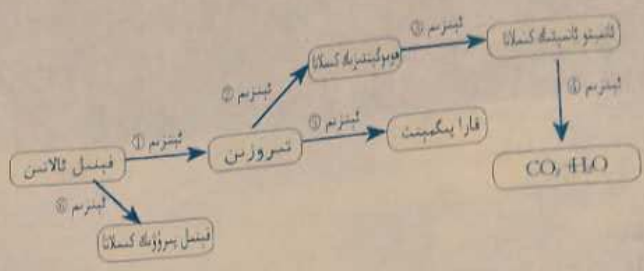
بۇ ھەر جۈپ ئەر - خوتۇن قورساقتىكى ھامىلىنىڭ بۇ خىل كېسەل قوزغاتقۇچى گېنىنى ئېلىپ بۈرگەن - بۈرمىگەنلىكىنى بېلىش ئۈچۈن قانداق قىلىشى كېرەك. سىز بۇ ئەر - خوتۇنغا ياردەملىشىپ تەھلىل قىلىپ باقاسىز؟

### III ماھارىتىنى ئىشقا سېلىش

ياۋا ئىلىق زەنجىرىسىمان سېۋىرلىق كۆكسىرىك زەمبۇرۇقى ئاساسىي ئۆستۈرگۈچتە ئۆسەتتۇ. X نۇرى چۈشۈرۈلگەندىن كېيىن زەنجىرىسىمان سېۋىرلىق كۆكسىرىك زەمبۇرۇقى ئاساسىي ئۆستۈرگۈچتە ئۆسەلمەيدۇ. ئاساسىي ئۆستۈرگۈچكە مە - ئۆسەتتۇ. بۇ نەتىجىسىنى مۇۋاپىق چۈشەندۈرۈپ بېقىڭ.

### IV تەپەككۈرىنى كېڭەيتىش

تۆۋەندىكى رەسىمدە ئادەم تېنىدىكى قېنىل ئالانىنىڭ مېتابولىزم يولى كۆرسىتىلگەن. رەسىمگە ئاساسەن تۆۋەندىكى نەتىجىلەرنى مۇھاكىمە قىلىڭ.



1. قايسى خىل ئېنېزىمنىڭ كەمچىل بولۇشى ئادەمدە ئاقىرىش كېسەلىنى كەلتۈرۈپ چىقىرىدۇ؟
2. ھوموگېننىزىك كىسلاتا ئادەم تېنىدە جۇغلانسا ئادەمنىڭ سۈيدۈك تەركىبىدىكى ھوموگېننىزىك كىسلاتا مىقدارى ئاشۇرۇۋېتىدۇ. بۇ خىل سۈيدۈك ئوكسىگېن بىلەن ئۇچراشقا قارا رەڭگە ئۆزگىرىدۇ، بۇ خىل كېسەل ئالامىتى ھور رېتار بولىدىغانلىقىنى تەھلىل قىلىڭ.
3. بۇ مىساللاردىن گېن، ئوزۇقلۇق ماددىلارنىڭ مېتابولىزم يولى ۋە ئىرسىيەت كېسەللىكلىرىدىن ئىبارەت بۇ ئۈچىدىنكى ئوتتۇرىسىدا قانداق مۇناسىۋەت بارلىقىنى كۆرۈۋېلىشقا بولىدۇ؟



# §1. شالغۇنلاشتۇرۇپ سورت يېتىشتۈرۈش ۋە ئىندۇكسىيەلەپ ئۆزگەرتىپ سورت يېتىشتۈرۈش

## مەسىلىلەر ئۈستىدە مۇھاكىمە



كۆممىقوناق

ئەگەر سىز كۆممىقوناق سورتىنى يېتىشتۈرگۈچى مۇتەخەسسس بولىسىز، تۆۋەندىكىدەك ئەھۋاللاردا قانداق قىلىسىز؟ يەنى ئىككى خىل سورتلۇق كۆممىقوناق بولۇپ، A سورتىنىڭ دېنى كۆيە، ئەمما قارا توزان كېسىلىگە قارشى تۇرالمىدۇ؛ B سورتىنىڭ دېنى ئاز، ئەمما قارا توزان كېسىلىگە قارشى تۇرالايدۇ.

$$AABb \times aaBb$$

### مۇھاكىمە

1. سىز قانداق ئۇسۇل ئارقىلىق بۇ ئىككى سورتتىكى سەرخىل بەلگىلەرنى بىرلەشتۈرەلەيسىز ھەم ئىككىسىدىكى ناچار بەلگىلەرنى چىقىرىپ تاشلىيالايسىز؟ پەرىزىڭىزنى ئىرسىيەت سىخىمىسى ئارقىلىق ئىپادىلەپ چىقىڭ.
2. پەرىزىڭىزنى ئەمەلىيەتتىن ئۆتكۈزۈش جەريانىدا قانداق قىيىنچىلىقلارغا يولۇقىشىڭىز مۇمكىن؟ قانداق قىلغاندا بۇ قىيىنچىلىقلارنى ھەل قىلغىلى بولىدۇ؟
3. سىز يەنە سورت يېتىشتۈرۈش ھەققىدىكى قانداق مەسىللەرنى سۆزلەپ بېرەلەيسىز؟

### بۇ ياراقچىنىڭ مۇھىم نۇقتىسى

- شالغۇنلاشتۇرۇپ سورت يېتىشتۈرۈشنىڭ پرىنسىپى نېمە؟
- ئىندۇكسىيەلەپ ئۆزگەرتىپ سورت يېتىشتۈرۈش دېگەن نېمە؟
- شالغۇنلاشتۇرۇپ سورت يېتىشتۈرۈش بىلەن ئىندۇكسىيەلەپ ئۆزگەرتىپ سورت يېتىشتۈرۈشنىڭ قانداق ئارتۇقچىلىقلىرى ۋە يېتەرسىزلىكلىرى بار؟

بۇنىڭدىن تەخمىنەن 10 مىڭ يىللار ئىلگىرىلا، قەدىمكى كىشىلەر ياۋايى ھايۋانلارنى كۆندۈرۈش ۋە ئۆسۈملۈكلەرنى ئۆستۈرۈشكە باشلىغان. ئىشلەپچىقىرىش ئەمىلىيىتى داۋامىدا، كىشىلەر سورتى ياخشى ئىندۇكسىيەلەپ ئۆزگەرتىپ، ئۆزى ئاللاپ نەسىل قالدۇرۇشنى بىلگەن. مۇشۇنداق جەريانلارنىڭ ئۆزگىرىشىدىن پايدىلىنىپ، ئۇزاق مۇددەت ئاللاش ئارقىلىق، ناچارلىرىنى شاللاپ، ياخشىلىرىنى قالدۇرۇپ، نۇرغۇن سەرخىل سورتلارنى، مەسىلەن، مەھسۇلاتى يۇقىرى، كېسەلگە ۋە ھاسىرات زىيەنىگە قارشى تۇرالايدىغان ئاشلىق زىرائەتلىرىنى، سۈت، گۆش ۋە تۇخۇم مىقدارى (مەھسۇلاتى) بىرقەدەر يۇقىرى بولغان ئۆي ھايۋانلىرىنى، ئۆي قۇشلىرىنى يېتىشتۈرۈپ چىققان.

كۆممىقوناقنىڭ ئەسلىي ماكانى ئامېرىكا چوڭ قۇرۇقلۇقى، ئۇ، 15 - ئەسىردە ياۋروپاغا كىرگەن، 16 - ئەسىردە پورتۇگالىيە ئارقىلىق ئېلىمىزگە كىرگەن، ھازىر پۈتۈن دۇنياغا ئومۇميۈزلۈك تارقالغان. يىراق قەدىمكى دەۋرلەردە ئامېرىكا قىتئەسىدىكى ئىندىئانلار باشقىچە چوڭ، دېنى ئوق نۇرغۇن كۆممىقوناق سورتلىرىنى تاللاپ ۋە يېتىشتۈرۈپ چىققان. ئەسلىدە ئۇلار كۆممىقوناقنى ئىلاھقا تەقدىم قىلىندۇ دەپ قارايدىغان بولغاچقا، نەزىر - چىراغقا ئىشلىتىلىدۇ.

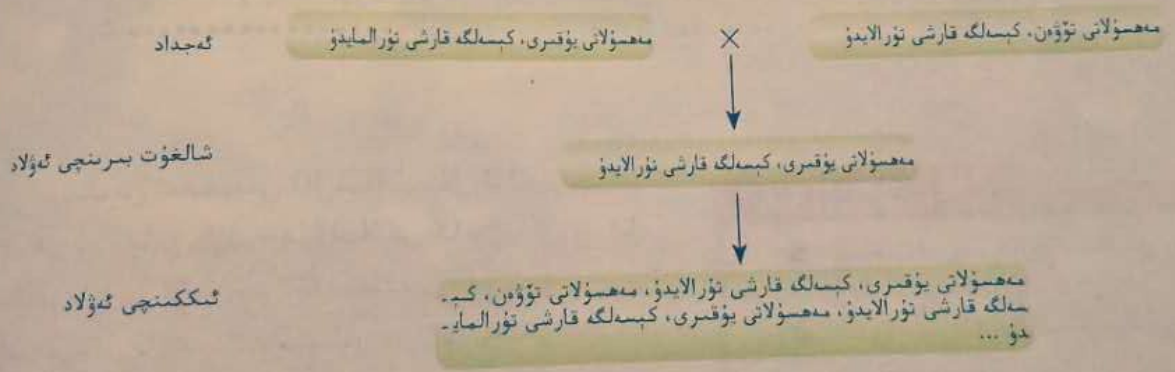
غان كۆممىقوناقلارنى ئايرىپ ئالاھىدە شارائىت ئاستىدا تېرىپ ئۆستۈرگەن، كۆڭۈل قويۇپ باشقۇرۇش ۋە ئەستايىدىل يېتىشتۈرۈش ئارقىلىق باشقى چوڭ، دېنى تۇق، سورتى ياخشى، ئارىلاش دان بولمىغان كۆممىقوناقلارنى تاللىۋېلىپ، سەرخىل بەلگىلەرگە ئىگە كۆممىقوناق سورتىنى يېتىشتۈرۈپ چىققان.

تاللاپ سورت يېتىشتۈرۈش دەۋرى ئۇزاق بولۇپلا قالماي، تاللاش دائىرىسىمۇ چەكلىك بولىدۇ. ئەمەلىيەت جەريانىدا، كىشىلەر تەدرىجىي شالغۇتلاشتۇرۇپ سورت يېتىشتۈرۈش ئۇسۇلىنى ئويلاپ تاپقان.

**شالغۇتلاشتۇرۇپ سورت يېتىشتۈرۈش**

يۇقىرىدىكى «مەسىلىلەر ئۈستىدە مۇھاكىمە» دېگەن بۆلەكنى ناماملاش ۋاقتىدا، بەلكىم سىز نەزەرىيە جەھەتتە شالغۇتلاشتۇرۇپ سورت يېتىشتۈرۈشنىڭ ئۇسۇللىرى ئۈستىدە ئىزدىنىپ باققان بولۇشىڭىز مۇمكىن. تۆۋەندە بېرىلگەن بۇغداي ھەققىدىكى بۇ مىسال سىزنىڭ شالغۇتلاشتۇرۇپ سورت يېتىشتۈرۈشنى تېخىمۇ ياخشى چۈشىنىۋېلىشىڭىزغا ياردەم بېرىدۇ.

ئىككى خىل بۇغداي سورتىدىكى ئېسىل بەلگىلەرنى بىرلەشتۈرۈپ سورت يېتىشتۈرۈشتىكى بىرىدە بىر ئۈنۈملۈك ئۇسۇل — بۇ ئىككى خىل بۇغداي سورتىنى شالغۇتلاشتۇرۇپ گېنلىرىنى قايتا گۇرۇپپىلاش (1.6 - رەسىم) تىن ئىبارەت. بۇنىڭدا ئىككىنچى ئەۋلاد ئىچىدىن مەھسۇلاتى يۇقىرى ۋە كېسەلگە قارشى تۇرالايدىغان ئىندىۋىدلار تاللىنىپ، ئۇلارنىڭ ئۇرۇقلىرى ئىككىنچى يىلى تېرىلىدۇ. ئاندىن يەنە كېيىنكى ئەۋلادلىرى ئىچىدىن مەھسۇلاتى يۇقىرى ۋە كېسەلگە قارشى تۇرالايدىغان شەرتكە ئۇيغۇن كېلىدىغان تۈپلەر تاللىۋېلىنىپ، ئۇلارنىڭ ئۇرۇقلىرى ئۇرۇقلۇق ئۈچۈن ساقلاپ قويۇلىدۇ. مانا مۇشۇنداق بىر قانچە ئەۋلاد ناچارلىرىنى شاللاش، ياخشىلىرىنى تاللاش ئارقىلىق، يېڭى بىر سەرخىل سورتقا ئېرىشكىلى بولىدۇ.



1.6 - رەسىم. ئىككى خىل بۇغداي سورتىنى شالغۇتلاشتۇرۇش

بۇنىڭدىن كۆرۈۋېلىشقا بولىدۇكى، شالغۇتلاشتۇرۇپ سورت يېتىشتۈرۈش (cross breeding) ئىككى ياكى ئىككىدىن ئارتۇق سورتنىڭ سەرخىل بەلگىلىرىنى شالغۇتلاشتۇرۇپ بىرلەشتۈرۈش، ئاندىن تاللاش ۋە يېتىشتۈرۈش ئارقىلىق يېڭى سورتقا ئىگە بولۇش ئۇسۇلىدىن ئىبارەت. شالغۇتلاشتۇرۇپ سورت يېتىشتۈرۈش يېزا ئىگىلىك ئىشلەپچىقىرىشىدا، زىرائەتلەرنىڭ سۈپىتىنى ياخشىلاش، زىرائەتلەرنىڭ بىرلىك مەھسۇلات مىقدارىنى يۇقىرى كۆتۈرۈشتىكى دائىملىق ئۇسۇلدۇر. ھازىر بۇغداي، شال ئىشلەپچىقىرىشىدا كەڭ ئومۇملاشما تۇرۇلۇۋاتقان يۇقىرى مەھسۇلاتلىق، پاكار غوللۇق سورتلار شالغۇتلاشتۇرۇپ سورت يېتىشتۈرۈش ئۇسۇلى ئارقىلىق يېتىشتۈرۈپ چىقىلغان.

شالغۇتلاشتۇرۇپ سورت يېتىشتۈرۈشتە ئاساسلىنىدىغان ئىرسىيەت پىرىنسىپى نېمە؟

ئېلىمىز ئالىمى يۈەن لۇگېنىڭ كۆپ يىللاردىن بۇيان شالى شالغۇتلاشتۇرۇش تەتقىقاتىغا كۆپ كۈچ چىقىرىپ، كىشىنى سۆيۈندۈرگۈدەك نەتىجىلەرگە ئېرىشتى. ستاتىستىكا قىلىنىشىچە، ئېلىمىزدىكى شال ئېتىزلىرىغا تېرىلغان شاللارنىڭ بېرىمىدىن كۆپرەكى شالغۇتلاشتۇرۇلغان شاللار ئىكەن. شال مۇتلەق شال مەھسۇلاتى ئەسلىدىكى  $4500\text{kg}/\text{hm}^2$  دىن  $7500\text{kg}/\text{hm}^2$  غا كۆتۈرۈلگەن. 1976 - يىلىدىن 1998 - يىلغىچە جەمئىي  $3.5 \times 10^4$  ئېشىنچا ئاشلىق بولۇپ، بۇ ئوتتۇرا ھېساب بىلەن ھەر يىلى 60 مىليوندىن ئارتۇق ئانا دەمىڭ ئاشلىق مەھسۇلىنى ھەل قىلىدىكەن.

### ئالاقىدار ئۇچۇرلار

دارۋىن مۇنداق دەپ ئوتتۇرىغا قويغان: «تەبىئەت دۇنياسى ئۈزلۈكسىز ئۆزگىرىش-لەر بىلەن تەمىن ئېتىدۇ، كىشىلەر ئۆزىگە كېرەكلىك بەزى پۇنىلىشلەر بويىچە بۇ ئۆزگىرىشلەرنى توپلايدۇ... سۈنئىي ھالدا كېرەكلىك سورتلارنى يېتىشتۈرۈپ چىقىدۇ.»



2.6 - رەسىم. جۇڭگو ھولستېين كالىسى

شالغۇتلاشتۇرۇپ سورت يېتىشتۈرۈش ئۇسۇلى يەنە ئۆي ھايۋانلىرى ۋە ئۆي قۇشلىرىنىڭ سورتىنى يېتىشتۈرۈشتىمۇ قوللىنىلىدۇ. سىرتتىن كىرگۈزۈلگەن ئەلا سورتلۇق نەسلىلىك كالىلارنى يەرلىك سورتلار بىلەن شالغۇتلاشتۇرغاندا، ماسلىشىشچانلىقى كۈچلۈك سۈت كالىسى، گۆش كالىسى ياكى سۈت ھەم گۆشىدىن پايدىلانغىلى بولىدىغان ئەلا سورتلۇق كالىلارنى يېتىشتۈرۈپ چىققىلى بولىدۇ. ئېلىمىزدىكى سۈت كالىلىرىنىڭ ئاساسلىق سورتى جۇڭگو ھولستېين كالىسى (ئەسلىدە جۇڭگو ئالا كالىسى دەپ ئاتىلاتتى) (2.6 - رەسىم) بولۇپ، سىرتتىن ھولستېين - فرىس كالىسى كىرگۈزۈلگەندىن كېيىن ئېلىمىزدە ئۇزاق مەزگىل كۆندۈرۈلۈپ، يەرلىك سېرىق كالا بىلەن شالغۇتلاشتۇرۇش ۋە سورت تاللاش ئارقىلىق تەدرىجىي شەكىللەندۈرۈلگەن ئەلا نەسلىدۇر. بۇ خىل كالىنىڭ سۈت بېرىش مۇددىتى 305 كۈن ئەتراپىدا بولۇپ، يىللىق سۈت مەھسۇلات مىقدارى  $6300\text{kg}$  دىن ئاشىدۇ.

### مۇلاھىزە ۋە مۇھاكىمە

شالغۇتلاشتۇرۇپ سورت يېتىشتۈرۈشنىڭ ئارتۇقچىلىقلىرى ناھايىتى روشەن بولسىمۇ، لېكىن ئەمەلىي مەش-خۇلات داۋامىدا ئادەم نۇرغۇن قىيىنچىلىقلارغا ئۇچرايدۇ. شالغۇتلاشتۇرۇلغاندىن كېيىنكى ئەۋلادلاردا كۆرۈلۈش ئېھتىمالى بولغان ھەر خىل تىپلار، شۇنىڭدەك سورت يېتىشتۈرۈش ۋاقتى قاتارلىق جەھەتلەردىن، شالغۇتلاشتۇرۇپ سورت يېتىشتۈرۈش ئۇسۇلىنىڭ يېتەرسىزلىك تەرەپلىرىنى تەھلىل قىلىڭ.



1. ھازىرقى زامان جانلىقلار تەدرىجىي تەرەققىيات نەزەرىيەسىنىڭ كېلىپ چىقىشى

مىسلىلەر ئۈستىدە مۇھاكىمە



مازان كېيىنكى بىلەن ئۈچۈن تەدرىجىي تەرەققىيات نەزەرىيەسىنىڭ كېلىپ چىقىشى

1. ھازان كېيىنكىنىڭ قاننى خۇددى قۇرۇپ قالغان بىر بۇيۇرماققا ئوخشايدۇ، بۇنىڭ قانداق ماسلىشىش ئالاھىدىلىكى بار؟ تۈپەيلىنىڭ قانداق ماسلىشىش ئالاھىدىلىكى بار؟
2. تەدرىجىي تەرەققىيات نۇقتىسىدىن بۇ خىل ماسلىشىشنىڭ شەكىللىنىشى قانداق چۈشەندۈرۈلىدۇ؟ بەزى ھەرەتلەرنىڭ تەدرىجىي تەرەققىيات نۇقتىسىدىن بۇ خىل ماسلىشىشنىڭ شەكىللىنىشى قانداق چۈشەندۈرۈلىدۇ؟
3. ئەگەر ئوخشاش بىر مۇھىتتا قاننىڭ رەڭگى ئۈچۈن كېيىنكىلەر كۆپىيىپ كەتسە، بۇ سىزنىڭ ھازىرقى چۈشەندۈرۈشىڭىز بىلەن زىت بولامدۇ؟ ئەگەر زىت بولسا، بۇنى قانداق چۈشەندۈرۈش كېرەك؟ رەڭگىنىڭ ئۆزگىرىشى بارمۇ؟

بۇ مەزمۇننىڭ ئاساسىي قىسمىنى تەكشۈرۈش

بۇ مەزمۇننىڭ ئاساسىي قىسمىنى تەكشۈرۈش

- كىشىلەر دارۋىننىڭ ئىلگىرى جانلىقلارنىڭ تەدرىجىي تەرەققىياتىغا قانداق قاراپ كەلگەن؟
- دارۋىننىڭ تەبىئىي تاللىنىش تەلىماتىنىڭ مۇھىم نۇقتىسى نېمە؟
- دارۋىننىڭ تەبىئىي تاللىنىش تەلىماتى قانداق چەكلىمىلىككە ئىگە؟

ئىلىمۇخىل جانلىقلار قانداق شەكىللىنىدۇ؟ بۇ مەسىلە ئۈستىدە ئۇزاقتىن بۇيان قاتتىق تالاش-تارتىشلار مەۋجۇت. بولۇپمۇ دارۋىننىڭ «تۈرلەرنىڭ پەيدا بولۇشى» دېگەن ئەسىرى نەشرىدىن چىققاندىن كېيىنكى 100 نەچچە يىل مابەينىدە، بۇ مەسىلە ئۈستىدىكى تالاش-تارتىشلار يەنىلا توختاپ قالغىنى يوق. بۇ ئىلمىي بەس-مۇنازىرىلەر كىشىلەرنىڭ تەبىئىي تاللىنىش تېخىمۇ چوڭقۇرلاشتۇرۇپ، جانلىقلار تەدرىجىي تەرەققىيات نەزەرىيەسىنى ئۈزلۈكسىز تەرەققىي قىلىدۇرۇشىنى ئىلگىرى سۈرمەكتە.

لاماركنىڭ تەدرىجىي تەرەققىيات تەلىماتى

لاماركنىڭ تەدرىجىي تەرەققىيات تەلىماتىنى تۇنجى بولۇپ ئوتتۇرىغا قويغان كىشى فرانسىيىلىك ئاتۇرالىست لامارك (J.B.Lamarck, 1744 - 1829). ئۇ ئۆسۈملۈك ۋە ھايۋانلارنى كۆپ قېتىم كۆزىتىش ئارقىلىق، يەر شارىدىكى جانلىقلارنى ئىلاھ ياراتقان بولمىدىن، بەلكى ئۇلار قەدىمكى جانلىقلاردىن تەدرىجىي تەرەققىي قىلىپ كەلگەن؛ جانلىقلار تۆۋەن دەرىجىلىكتىن يۇقىرى دەرىجىلىككە

قاراپ ئۈزلۈكسىز تەدرىجىي تەرەققىي قىلىدۇ: چار  
لىقلارنىڭ ھەر خىل ماسلىشىش خاراكتېرىدىكى  
ئالاھىدىلىكلىرى ئىشلىتىلگەن ئەزالارنىڭ تەرەققىي  
قىلىپ، ئىشلىتىلمىگەنلىرىنىڭ رودىمېنتلىشىشى  
ۋە ئېرىشمە ئىرسىيىتىدىن شەكىللىنىدۇ، دەپ ئۆتۈپ  
تۇرىغا قويغان. ئەزالار قانچە كۆپ ئىشلىتىلسە شۇنداق  
چە تەرەققىي قىلىدۇ، مەسىلەن، چۈمۈلخور تىلىنىڭ  
شۇنچە ئۇزۇن ھەم ئىنچىكە بولۇشى ئۇنىڭ ئۇزاق  
مۇددەت تىلى بىلەن چۈمۈلە تۆشۈكىدىن چۈمۈلە تۈپ  
تۈپ يېيىشىنىڭ نەتىجىسىدۇر (1.7 - رەسىم).



1.7 - رەسىم. چۈمۈلخور

ئەزالار ئىشلىتىلمىسە مورفولوگىيە جەھەتتە رودىمېنتلىشىدۇ، مەسىلەن، قارىغۇ چاشقان ئۇزاق مۇددەت  
بىر ئاستىدا باشقاچقا، كۆزى قورۇلۇپ رودىمېنتلىشىپ كەتكەن. ئىشلىتىلمىگەنلىرى تەرەققىي قىلىپ  
ئىشلىتىلمىگەنلىرى رودىمېنتلىشىشتىن كەلگەن بۇ بەلگىلەر كېيىنكى ئەۋلادلارغا ئىرسىيەت بولۇپ قالىدۇ.  
مانا بۇ جانلىقلارنىڭ ئۈزلۈكسىز تەدرىجىي تەرەققىي قىلىشىدىكى ئاساسلىق سەۋەب.  
لاماركنىڭ بۇ تەدرىجىي تەرەققىيات تەلىماتى، كىشىلەرنىڭ ئىلاھ يارىتىش نەزەرىيىسى بىلەن تۈرلەر ئۆزگەر-  
شۇ دەۋرلەردە ئىجابىي رول ئوينىغان. ئەينى چاغدا ئۇ ئىلاھ يارىتىش نەزەرىيىسى بىلەن تۈرلەر ئۆزگەر-  
مەيدۇ، دېگەن نەزەرىيىگە قارشى چىققانلىقتىن قاتتىق ئەيىبلەشلەرگە ۋە زەربىگە ئۇچرىغان بولسىمۇ،  
بىراق ئۇ ئۆز ئەقىدىسىدە باشتىن - ئاخىر ئەۋرەنمەي چىڭ تۇرغان ھەمدە ئىلىم - پەن ئىشلىرى ئۈچۈن  
تۆھپە قوشۇشنى زور لەززەت دەپ بىلگەن. ئۇ مۇنداق دېگەن: «ئىلىم - پەن خىزمىتى بىزگە ھەقىقىي  
نەپ يەتكۈزۈش بىلەن بىللە، بىزنى ئەڭ ئىللىق ۋە ئەڭ ساپ خۇشاللىقلاردىن بەھرىمەن قىلىپ، ھايات  
سەپىرىمىزدىكى ساقلانغىلى بولمايدىغان تۈرلۈك قايغۇ - ھەسرەتلىرىمىزنى ئۇنتۇلدۇرىدۇ».

دارۋىننىڭ تەبىئىي تاللىنىش تەلىماتى

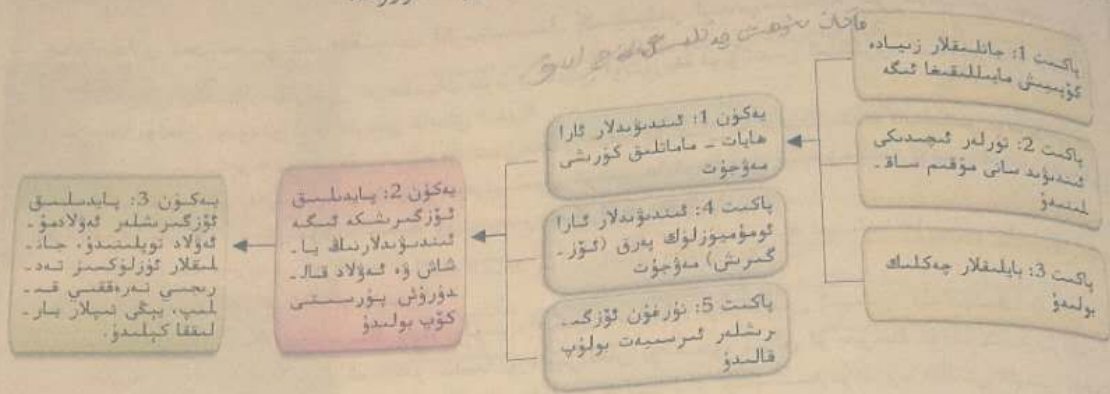
لاماركنىڭ تەدرىجىي تەرەققىيات تەلىماتى ئوتتۇرىغا قويۇلغاندىن كېيىن، جەمئىيەتنىڭ ھېچقانداق دىققەت - ئېتىبارىنى قوزغىيالماي قالغان. دارۋىن (C.R.Darwin, 1809 ~ 1882) بەش يىللىق مەشھۇر دېڭىز سەپىرىنى باشلىغان ۋاقىتتىمۇ ئۇ يەردە نىلا تۈرلەر ئۆزگەرمەيدۇ، ئۇلارنىڭ ھەممىسىنى ئىلاھ ياراتقان دېگەن قاراشتا ئىدى. بەش يىللىق دېڭىز سەپىرى مەزگىلىدە ئۇ دۇنيانىڭ ھەرقايسى جايلىرىدىكى ھايۋان - ئۆسۈملۈك ۋە تاشقاتمىلارنى ئەستايىدىل كۆزىتىش ئارقىلىق، نۇرغۇن ھادىسەلەرنى ئەنئەنىۋى كۆز قاراش بىلەن يېشىپ بەرگىلى بولمايدىغانلىقىنى بايقايدۇ، شۇنىڭ بىلەن ئۇ ئىلاھ يارىتىش نەزەرىيىسىدىن ۋاز كېچىدۇ ھەمدە جانلىقلارنىڭ ئۈزلۈكسىز تەدرىجىي تەرەققىي قىلىدىغانلىقىغا ئىشىنىدۇ. كېيىن ئۇ يەنە كۆپ قېتىم كۆزىتىش ۋە مۇلاھىزە قىلىش ئارقىلىق، تەبىئىي تاللىنىش (natural selection) تەلىماتى (2.7 - رەسىم) نى ئوتتۇرىغا قويىدۇ.



2.7 - رەسىم. «تۈرلەرنىڭ پەيدا بولۇشى» دېگەن كىتاب، دارۋىننىڭ قولىزمىلىرى ۋە بىرقانچە خىل ئەۋرىشكە



تۆۋەندىكى دارۋىنىنىڭ تەبىئىي تاللىنىش تەلىماتىنى چۈشەندۈرۈش سخېمىسى (3.7 - رەسىم). سىز بولۇقسىز ئوتتۇرا مەكتەپتە ئۆگەنگەن تەبىئىي تاللىنىشقا ئائىت بىلىملەرنى ئەسلەپ، زىراپىنىڭ تەدرىجىي تەرەققىياتىنى مىسال قىلىپ، بۇ سخېمىنى كېڭەيتىپ چۈشەندۈرۈڭ.



3.7 - رەسىم. دارۋىنىنىڭ تەبىئىي تاللىنىش تەلىماتىنى چۈشەندۈرۈش سخېمىسى

دارۋىن بەرپا قىلغان تەدرىجىي تەرەققىيات نەزەرىيىسى مول ئەمەلىيەتنى چىقىش قىلغان ھالدا جانلىقلارنىڭ ئۆزۈلۈكىنى تەدرىجىي تەرەققىي قىلىدىغانلىقىنى ئىسپاتلاپ بېرىپلا قالماي، يەنە جانلىقلار تەدرىجىي تەرەققىياتىنىڭ سەۋەبلىرىنىمۇ مۇۋاپىق چۈشەندۈرۈپ بېرىدۇ. دارۋىن مۇشۇ نەزەرىيە ئارقىلىق كىشىلەرگە، تەبىئەت دۇنياسىدىكى مىڭلىغان - ئون مىليونلىغان جانلىقلار ئەسلىدە ئىلاھ تەرىپىدىن ئالدىنلا لايىھىلەپ قويۇلغان مەڭگۈ ئۆزگەرمەس نەرسە بولماستىن، بەلكى ئويىپكىتىپ قانۇنىيەتنىڭ يېتەكچىلىكىدە ئۆزۈلۈكىنى تەرەققىي قىلىپ ئۆزگىرىپ تۇرىدىغانلىقىنى تونۇتتى. مانا بۇ بىئولوگىيەنىڭ تۇنجى قېتىم بىئولوگىيە (ئىلاھىيەت) دىن قۇتۇلۇپ، ئىلىم - پەن يولىدا مېڭىشى ھېسابلىنىدۇ. ئۇ يەنە ھاياتلىق ھادىسىلىرىنىڭ بىر دەۋرىدىكى بارلىق جانلىقلارنىڭ بىر ئورتاق ئەجدادقا ئىگە ئىكەنلىكىنى، جانلىقلارنىڭ كۆپ خىللىقى تەدرىجىي تەرەققىياتنىڭ نەتىجىسى ئىكەنلىكىنى؛ جانلىقلار دۇنياسىدىكى خىل-مۇخىل تۈرلەر ئارىسىدا مۇئەييەن ئىچكى باغلىنىش بولىدۇ، مۇشۇ ئىچكى باغلىنىش ئارقىلىق بىئولوگىيە ھەرقايسى تارماق پەنلىرىنىڭ تەرەققىياتى زور دەرىجىدە ئىلگىرى سۈرۈلىدىغانلىقىنى كۆرسىتىپ بەردى. بۇ ئىلمىي نەزەرىيەنىڭ تەسىرى بىئولوگىيە دائىرىسىدىن ھالقىپ كەتتى، ئۇ ئىلاھ يارىتىش نەزەرىيىسى ۋە تۈرلەر ئۆزگەرمەيدۇ دېگەن نەزەرىيەگە ئەجەللىك زەربە بېرىپ، دىئالېكتىكىلىق ماتېرىيالىزملىق دۇنيا قارىشى ئۈچۈن كۈچلۈك قورال ھازىرلاپ بەردى.

دارۋىننىڭ تەدرىجىي تەرەققىيات نەزەرىيىسى ئىلاھ يارىتىش نەزەرىيىسى ۋە تۈرلەر ئۆزگەرمەيدۇ دېگەن نەزەرىيە بىلەن كۈرەش قىلىش داۋامىدا پۈتۈن دۇنياغا تارقالدى. ھەر خىل تىلدا تەرجىمە قىلىنغان «تۈرلەرنىڭ پەيدا بولۇشى» دېگەن كىتاب دۇنيانىڭ ھەرقايسى جايلىرىدا ئارقا - ئارقىدىن نەشر قىلىنىشقا باشلىدى. ماركس بىلەن ئېنگېلس دارۋىننىڭ بۇ نەزەرىيىسىگە يۇقىرى باھا بەردى. ئۇلار: بۇ ئىلىم - پەن تارىخىدىكى بىر قېتىملىق ئىنقىلاب، ئۇ، 19 - ئەسىردىكى تەبىئىي پەنلەرنىڭ تەرەققىياتىنى زور دەرىجىدە ئىلگىرى سۈردى، دەپ قارىدى. ماركس ئۆزىنىڭ «كاپىتال» دېگەن ئەسىرىنىڭ بىرىنچى تومىنى دارۋىنغا تەقدىم قىلغاندا، ئەسەرنىڭ تىتۇلغا تەننەنلىك ھالدا مۇنداق دەپ يېزىپ قويىدۇ: «چارلېز. دارۋىن ئەپەندىگە تەقدىم. سىزنىڭ سادىق چوقۇنغۇچىڭىز كارل. ماركس.» ئېنگېلسمۇ دارۋىننىڭ تەدرىجىي تەرەققىيات نەزەرىيىسىنى 19 - ئەسىر تەبىئىي پەنلىرىدىكى ئۈچ چوڭ كەشپىياتنىڭ بىرى دەپ مەدھىيلىگەن.



جانلىقلار تەدرىجىي تەرەققىيات قارىشىنىڭ كىشىلەر ئىدىيىسىگە كۆرسەتكەن تەسىرى جانلىقلار تەدرىجىي تەرەققىيات نەزەرىيىسىنى ئوتتۇرىغا قويۇشتىن ئىلگىرى، كىشىلەرنىڭ جانلىقلار

1. دارۋىن جانلىقلار تەدرىجىي تەرەققىيات نەزەرىيىسىنى ئوتتۇرىغا قويۇشتىن ئىلگىرى، كىشىلەرنىڭ جانلىقلار دۇنياسىغا بولغان ئومۇميۈزلۈك قارىشى قانداق ئىدى؟
2. دارۋىننىڭ تەدرىجىي تەرەققىيات نەزەرىيىسى بىلەن ئىلاھ يارىتىش نەزەرىيىسىنىڭ ئاساسلىق ئوقۇنۇشى نېمە؟ دارۋىن جانلىقلار تەدرىجىي تەرەققىيات نەزەرىيىسىنى ئوتتۇرىغا قويغاندىن كېيىن، نېمە ئۈچۈن نۇرغۇن كىشىلەرنىڭ زەربىسىگە، سوغۇق مۇئامىلىسىگە ۋە مەسخىرىسىگە ئۇچرىدى؟
3. دارۋىننىڭ تەدرىجىي تەرەققىيات نەزەرىيىسى كىشىلەرنىڭ ئىنسانلارنىڭ تەبىئەت دۇنياسىدىكى ئورنىنى توغرا تونۇۋېلىشىغا قانداق ئىلھام بېرىدۇ؟
4. ماركس دارۋىننىڭ «تۈرلەرنىڭ پەيدا بولۇشى» دېگەن كىتابىنى ئوقۇغاندىن كېيىن، ئېنگېلسقا يازغان بىر پارچە خېتىدە: «گەرچە بۇ كىتاب ئىنگىلىز تىلىدا يۈزە يېزىلغان بولسىمۇ، بىراق ئۇ بىزنىڭ نۇقتىئىنەزەرىمىزنى تەبىئەت تارىخى ئاساسلىرى بىلەن تەمسىن ئېتىدۇ». ماركسنىڭ «بىزنىڭ نۇقتىئىنەزەرىمىز» دېگەن قايىسى نۇقتىدە شۇنەزەرنى كۆرسىتىدۇ؟
5. 19 - ئەسىرنىڭ ئاخىرلىرى يەنەفۇ، لياڭ چىچاۋ قاتارلىقلار دارۋىننىڭ تەبىئىي تاللىنىش تەلىماتىدىكى «تەبىئىي تاللىنىشتا، ماسلاشقانلار ياشايدۇ» دېگەن نۇقتىئىنەزەرنى قېرىنداشلارنى ۋە تەننى قۇتقۇزۇپ، مىللەتنى قۇددەت تاپقۇزۇشقا چاقىرىشنىڭ سىگنالى قىلغان. مۇنداق قىلىش ئەينى ۋاقىتتىكى ھەم نامرات، ھەم ئاجىز جۇڭگو ئۈچۈن قانداق رول ئوينىغان؟
6. تەدرىجىي تەرەققىيات بىلىملىرىنى ئومۇملاشتۇرىدىغان بىر ئىنگىلىزچە كىتاب «Evolution» (Dylan Evans & Howard Selina يازغان، ئەنگىلىيەدە نەشر قىلىنغان) نا مۇنداق يېزىلغان: «Science aims to discover facts, but leaves us free to choose our own values» سىز بۇ قاراشقا قوشۇلالمىز؟ ئاپتور كىتابنىڭ ئەڭ ئاخىرقى بېتىگە نېمە ئۈچۈن بۇ سۆزنى يېزىپ قويدۇ؟

ئەينى ۋاقىتتا ئىلىم - پەن تەرەققىيات سەۋىيىسىنىڭ چەكلىمىسى تۈپەيلىدىن، ئىرسىيەت ۋە ئۆزگىرىش رىشىنىڭ ماھىيىتىگە قارىتا دارۋىن ھېچقانداق ئىلمىي چۈشەنچە بېرەلمىگەن. ئىرسىيەتلىك ئۆزگىرىش قانداق پەيدا بولىدۇ، دېگەن بۇ مەسىلىگە قارىتا دارۋىن لاماركنىڭ ئىشلىتىلگەن ئەزالار تەرەققىي قىلىپ، ئىشلىتىلمىگەنلىرى رودىمېنتلىشىدۇ ۋە ئېرىشمە ئىرسىيەتكە ئائىت نۇقتىئىنەزەرىنى قوبۇل قىلغان ھەم دە نۇرغۇن مىساللار ئارقىلىق بۇ مەسىلىنى چۈشەندۈرگەن. مەسىلەن، ئۆي چوشقىسى پۈت ۋە تۇمشۇقىنى ئاز ئىشلەتكەنلىكتىن ئۇنىڭ پۈتى ۋە تۇمشۇقى ياۋا چوشقىنىڭكىگە قارىغاندا قىسقا (4.7 - رەسىم) بولىدۇ. ئۇ جانلىقلارنىڭ تەدرىجىي تەرەققىياتىنى چۈشەندۈرۈشتە پەقەت ئىندىۋىد سەۋىيىسىدىلا چەكلىنىپ قالغان، ئەمەلىيەتتە بولسا، ناۋادا ئىندىۋىدتا ئىرسىيەتلىك ئۆزگىرىش يۈز بەرسە ئۇنىڭغا ماس گېنلار جەزمەن توپ ئەمەلىيەتتە تارقىلىدۇ ھەم ئەسلىدىكى گېنلارنىڭ ئورنىنى ئالىدۇ، بۇنىڭ بىلەن يېڭى جانلىقلار تىپى شەكىللىنىدۇ. دارۋىن تۈرلەرنىڭ شەكىللىنىشى تەدرىجىي ئۆزگىرىشنىڭ نەتىجىسى دەپ تەكىتلىگەن بولسىمۇ، بىراق تۈرلەرنىڭ پارتلاش خاراكتېرلىك ئۆزگىرىش ھادىسىلىرىنى ياخشى چۈشەندۈرەلمىگەن. بۇلار، دارۋىنغا ئوخشاش مۇشۇنداق بىر ئۇلۇغ ئالىمنىڭ ئىدىيە ۋە قارىشىدە نىڭمۇ تارىخنىڭ چەكلىمىسىگە ئۇچرىغانلىقىنى چۈشەندۈرىدۇ.

تەبىئىي تاللىنىش تەلىماتىنى ئوتتۇرىغا قويغان دارۋىن يەنە نېمە ئۈچۈن ئېرىشمە ئىرسىيەت قارىدە شىغا قوشۇلىدۇ؟

راسچىل ۋە سەمىي ئالىم دارۋىننىڭ ئېسىل پەزىلىتى ئۇ شۇغۇللىنىۋاتقان ئىلمىي تەتقىقات خىزمىتىدە ئىپادىلىنىپلا قالماي، ھەقىقەتنى ئەمەلىيەتتىن ئىزدىگەن ھالدا ئۆز نەزەرىيىسىنىڭ يېتەرسىزلىكلىرىگە تۇتقان پوزىتسىيە

دېمۇ ئەكى ئېتەتتى. ئۇ مۇنداق دېگەندى: «بىز ئۆزگىرىش قانۇنىيەتلىرىگە قارىتا، ھەقىقەتەن ھېچنەرسىنى بىلمەيمىز، بىز چۈشەندۈرەلمەيدىغان بۇ ياكى ئۇ قىسمىدا يۈز بەرگەن ئۆزگىرىشلەرنىڭ ھەرقانداق سەۋەبلىرى ئۇنىڭ بۇردىن بېرىگىمۇ يەتمەسلىكى مۇمكىن.»

**دارۋىندىن كېيىنكى تەدرىجىي تەرەققىيات نەزەرىيىسىدە شىڭ تەرەققىياتى**

بىئولوگىيە پېنىننىڭ تەرەققىياتىغا ئەگىشىپ، ئىرسىيەت ۋە ئۆزگىرىش ھەققىدىكى تەتقىقاتلار بەلگە سەۋىيىسىدىن گېن سەۋىيىسىگە چوڭقۇرلاپ كىردى، بۇنىڭ بىلەن كىشىلەر ئىرسىيەت ۋە ئۆزگىرىشنىڭ ماھىيىتىنى تەدرىجىي تونۇپ يەتتى. ئېرىشمە ئىرسىيەت قارىشىدىن نۇرغۇن ئالىملار ۋاز كەچتى. تەبىئىي تاللىنىشنىڭ رولى قاتارلىق مەسىلىلەر ئۈستىدىكى تەتقىقاتلار جانلىقلار ئىندىۋىدىنى بىرلىك قىلىشتىن تەرەققىي قىلىپ تۈر توپىنى ئاساسىي بىرلىك قىلىشقا ئۆتتى. شۇنىڭ بىلەن تەبىئىي تاللىنىش تەلىماتىنى مەركەز قىلغان ھازىرقى زامان جانلىقلار تەدرىجىي تەرەققىيات نەزەرىيىسى مەيدانغا كەلدى ھەم دارۋىننىڭ تەبىئىي تاللىنىش تەلىماتىنى زور دەرىجىدە بېيىتتى ۋە تەرەققىي قىلدۇردى.



4.7 - رەسىم. ئۆي چوشقىسى (يۇقىرىدا) ۋە ياۋا چوشقا (تۆۋەندە)

**مەشىق**



**I ئاساس سوئال**

1. تۆۋەندىكىلەردىن قايسى لاماركنىڭ كۆز قارىشى ئەمەس:
  - A. جانلىقلارنىڭ تۈرلىرى ۋاقىتنىڭ ئۆتۈشىگە ئەگىشىپ ئۆزگىرىپ بارىدۇ.
  - B. جانلىقلارنىڭ تۈرلىرى قەدىمدىن تا ھازىرغىچە ئوخشاش بولىدۇ.
  - C. مۇھىتنىڭ ئۆزگىرىشى جانلىقلاردا بېگى بەلگە ھاسىل قىلىدۇ ھەمدە بۇ بەلگىلەر كېيىنكى ئەۋلادلارغا ئىرسىيەت بولۇپ قالىدۇ.
  - D. جانلىقلارنىڭ مەلۇم بىر ئەزانىڭ تەرەققىي قىلىشىنى ئىشلىتىش بىلەن ئىشلەتمەسلىك بەلگىلەيدۇ.

جاۋابى: [ B ]

2. خىلمۇخىل ئانتىبىيوتىكلار باكتېرىيىنىڭ يۇقۇشىدىن كېلىپ چىققان كېسەللىكلەرنى داۋالاشتا ئۆز رولىنى جارى قىلدۇرماقتا، بىر خىل ئانتىبىيوتىكنى بىر مەزگىل ئىشلەتكەندىن كېيىن، باكتېرىيە ئۆلتۈرۈش ئۈنۈمى تۆۋەنلەپ كېتىدۇ، چۈنكى باكتېرىيىدە دورىغا قارشىلىق پەيدا بولىدۇ. بۇنى دارۋىننىڭ تەبىئىي تاللىنىش تەلىماتىغا ئاساسەن باكتېرىيىدە دورىغا قارشىلىقنىڭ پەيدا بولۇشىدىكى سەۋەبىنى چۈشەندۈرۈڭ ھەمدە بۇ چۈشەندۈرۈشنىڭ يەنە قانداق يېتەرسىزلىك تەرەپلىرى بارلىقىنى تەھلىل قىلىڭ.

**II كېڭەيتىمە سوئال**

1. ئىنسانلار خەتەر ئىچىدە قالغان ھايۋان ۋە ئۆسۈملۈكلەرنى قوغدايمىز دەپ، تەبىئەت دۇنياسىدىكى نورمال تەبىئىي تاللىنىشقا توسقۇنلۇق قىلىۋاتامدۇ - قانداق؟
2. «كىشىلەر ھازىر ھەر خىل سۈنئىي مۇھىتتا ياشاۋاتماقتا، ئىنسانلارنىڭ تەدرىجىي تەرەققىياتى تەبىئىي تاللىنىشنىڭ نەسىرىگە قايتا ئۇچرىمايدۇ» دېگەن بۇ قاراشقا قوشۇلالمىز؟ بۇ ھەقتە بىر پارچە ماقالە يېزىپ، ئۇنى قوللاش ياكى قارشى تۇرۇشتىكى ئاساسىڭىزنى شەرھەلەڭ.

## 2 §. ھازىرقى زامان جانلىقلار تەدرىجىي تەرەققىيات نەزە- رەيىسىنىڭ ئاساسىي مەزمۇنى

### مەسىلىلەر ئۈستىدە مۇھاكىمە



يولۋاس بالىسى

سىز «شەخسىيەتچى گېن» دېگەن كىتابنى ئوقۇغانمۇ؟  
 ئاپتور نېمە ئۈچۈن تېمىسىنى مۇشۇنداق قويغان؟ گېندا  
 گەرچە مۇنداق ئارزۇ بولمىسىمۇ، لېكىن مەسىلىلەرنى ئادەم-  
 لەشتۈرۈش شەكلىدە مۇلاھىزە قىلغاندا بەزىدە ھەقىقەتەن  
 ئەسقىتىپ قالدۇ.  
 يولۋاسنىڭ سانسىزلىغان گېنى بولدى، بەزىلىرى چىش-  
 نىڭ ئۆتكۈرلۈك دەرىجىسىنى بەلگىلىسە، بەزىلىرى مۈسكۈ-  
 لىنىڭ كۈچلۈكلۈكىنى بەلگىلەيدۇ...

### مۇھاكىمە

ئۆزىڭىزنى يولۋاس تېنىدىكى بىر تال گېن دەپ پەرەز  
 قىلىڭ. بۇ ۋاقىتتا سىز ئۆزىڭىزنىڭ يولۋاسنىڭ كېيىنكى ئەۋلادلىرىدا غايىب بولۇپ كېتىشىڭىزنى ھەرگىز  
 خالىمايلا قالماي، ئەكسىچە تېخىمۇ كۆپ يولۋاسلاردا ئەۋلادمۇئەۋلاد كۆپىيىلىنىشىڭىزنى ئارزۇ قىلىسىز.  
 سىز قانداق قىلىپ بۇ مەقسەتكە يېتەلەيسىز؟ سىز قايسى خىل گېن بولۇشنى تاللىدىڭىز؟

### I تۈر توپى گېن تەكرارلىقىنىڭ ئۆزگىدە-

#### رىشى ۋە جانلىقلار تەدرىجىي تەرەققىياتى

دارۋىننىڭ تەبىئىي تاللىنىش تەلىماتىدا بىر  
 خىل جانلىقنىڭ توپى ئىچىدە پايدىلىق ئۆزگىرىش  
 قىلغان ئىندىۋىدلارنىڭ ياشاۋېرىدىغانلىقى ھەمدە  
 ئۇلارنىڭ ئەۋلاد قالدۇرۇش پۇرسىتىنىڭ كۆپ بولدى.  
 دىغانلىقى كۆرسىتىلگەن. دەپمەك تەبىئىي تاللىنىش  
 بىۋاسىتە تەسىر كۆرسىتىدىغان جانلىقلارنىڭ  
 ئىندىۋىدى، شۇنداقلا ئىندىۋىدلارنىڭ ئىپادىلىنىش  
 تىپىدىن ئىبارەت. بىراق، تەبىئەت دۇنياسىدىكى  
 ئىندىۋىدلار ھامان ئۆلىدۇ، ئىندىۋىدلارنىڭ ئىپادە-  
 لىنىش تىپلىرىمۇ ئىندىۋىدلارنىڭ ئۆلۈشىگە ئەگىشىپ يوقاپ كېتىدۇ، ئىپادىلىنىش تىپىنى بەلگىلەيدى-  
 غان گېنلار ئىندىۋىدلارنىڭ كۆپىيىشى ئارقىلىق ئەۋلادمۇئەۋلاد داۋاملىشىدۇ ھەمدە توپ ئىچىدە تارقىلىدۇ.  
 بۇنىڭدىن جانلىقلارنىڭ تەدرىجىي تەرەققىياتىنى تەتقىق قىلىشتا، پەقەت ئىندىۋىدلار ئىپادىلىنىش  
 تىپىنىڭ مۇھىتقا ماسلاشقان ياكى ماسلاشمىغانلىقىنى تەتقىق قىلىشلا كۇپايە قىلمايدىغانلىقىنى، بۇنىڭ

### بۇ مەزمۇننىڭ مۇھىم نۇقتىسى

- تۈر توپىنى نېمە ئۈچۈن جانلىقلار تەد-  
رىجىي تەرەققىياتىنىڭ ئاساسىي بىرلىكى دەپ-  
مىز؟
- تۈر توپىنىڭ گېن تەكرارلىقىدا نېمە  
ئۈچۈن ئۆزگىرىش بولىدۇ؟
- تەبىئىي تاللىنىشنىڭ تۈر توپى گېن  
تەكرارلىقىنىڭ ئۆزگىرىشى بىلەن قانداق مۇنا-  
سىۋىتى بار؟

ئۈچۈن يەنە توپنىڭ گېن تەركىبىنىڭ ئۆزگىرىشىنى تەتقىق قىلىشنىڭ زۆرۈرلۈكىنى كۆرۈۋېلىشقا بولىدۇ.  
تۈر توپى جانلىقلار تەدرىجىي تەرەققىياتىنىڭ ئاساسىي بىرلىكى



5.7 - رەسىم. ماكاكا مايمۇنلىرى تۈر توپىدىكى قىسمەن ئىندىۋىدلار



6.7 - رەسىم. چېكەتكىنىڭ چېكىش (يۇقىرىدا) ۋە تۇخۇم سېلىشى (تۆۋەندە)

مۇئەييەن دائىرىدە ياشاۋاتقان ئوخشاش تۈردىكى جانلىقلارنىڭ بارلىق ئىندىۋىدلىرى تۈر توپى (population) دەپ ئاتىلىدۇ. مەسىلەن، بىر پارچە ئورمانلىقتىكى بارلىق ماكاكا مايمۇنلىرى بىر تۈر توپىدۇر (5.7 - رەسىم). بىر پارچە ئوتلۇقتىكى بارلىق مامكاپلارمۇ بىر تۈر توپىدۇر. تۈر توپىدىكى ئىندىۋىدلار ھەرگىزمۇ ئاڭسىز ھالدا بىر يەرگە توپلاشقان بولماستىن، بەلكى ئۆزئارا چېتىشىش ھەمدە كۆپىيىش ئارقىلىق ھەرقايسى ئۆز گېنلىرىنى كېيىنكى ئەۋلادلىرىغا قالدۇرىدۇ.

تۈر توپى كۆپىيىپ زورىيىش جەريانىدا، ئىندىۋىدلار ئارىسىدا كۈننىڭ ئورنىغا يېڭىسى ئالمىشىپ تۇرىدىغان بولغاچقا، گېنلارمۇ ئەۋلادمۇئەۋلاد ئۆزئارا باغلىنىپ تۇرىدۇ. مەسىلەن، نۇرغۇن ھاشاراتلارنىڭ ئۆمرى بىر يىلغا بارمايدۇ (مەسىلەن، چېكەتكە)، بارلىق چېكەتكىلەر كۈزنىڭ شامىلىدا ئۆلۈپ كېتىدۇ، ئۇلارنىڭ ئىچىدىكى بەزى ئىندىۋىدلار كۆپىيىشنى مۇۋەپپەقىيەتلىك ھالدا تاماملاپ، ئۆلۈشتىن ئىلگىرى ئۇرۇقلانغان تۇخۇملىرىنى تۇپراق ئاستىغا كۆمۈپ قويدۇ (6.7 - رەسىم). 2 - يىلى ئەنە ياز بىلەن ياز ئارىلىقىدا قىسمەن ئۇرۇقلانغان تۇخۇملار مۇۋەپپەقىيەتلىك ھالدا يېتىلىپ چېكەتكىگە ئايلىنىدۇ.

ئالدىنقى يىلىدىكى چېكەتكىلەرنى تۈر توپىغا سېلىشتۇرغاندا، يېڭى ھاسىل بولغان چېكەتكىلەر تۈر توپىدىكى گېن تەركىبىدە قانداق ئۆزگىرىش بولىدۇ؟ سىز ئىلگىرى ئۆگەنگەن ئىرسىيەت، ئۆزگىرىش ۋە تەبىئىي تاللىنىش ھەققىدىكى بىلىملىرىڭىزگە ئاساسەن پەرىزىڭىزنى ئوتتۇرىغا قويۇپ بېقىڭ.

بىر تۈر توپىدىكى ھەممە ئىندىۋىدلار ئۆز ئىچىگە ئالغان بارلىق گېنلار، شۇ تۈر توپىنىڭ گېن ئامبىرى (gene pool) دەپ ئاتىلىدۇ. بىر تۈر توپى گېن ئامبىرىدا، مەلۇم بىر گېننىڭ بارلىق تەڭ ئورۇنلۇق گېنلار سانىدا ئىگىلەيدىغان نىسبىتى گېن تەكرارلىقى (چاستوتىسى) دەپ ئاتىلىدۇ. مەسىلەن، مەلۇم بىر ھاشارات تۈر توپىدا، قانات رەڭگىنىڭ يېشىل بولۇشىنى بەلگىلەيدىغان گېن A، قانات رەڭگىنىڭ قوڭۇر بولۇشىنى بەلگىلەيدىغان گېن a، بۇ تۈر توپىدىن خالىغان 100 ئىندىۋىدنى ئېلىپ گېن تىپىنى تەكشۈرگەندە گېن تىپى AA، Aa، ۋە aa بولغان ئىندىۋىدلار ئايرىم - ئايرىم 30، 60 ۋە 10 بولغان. بۇ تەڭ ئورۇنلۇق گېنلار ئۈچۈن ئېيتقاندا، ھەر بىر ئىندىۋىددا ئىككىدىن گېن بار دەپ قارىساق، ئۇنداقتا، بۇ 100 ئىندىۋىددا جەمئىي 200 دانە گېن بولىدۇ (7.7 - رەسىم). بۇنىڭدىن تۆۋەندىكىلەرنى بىلىۋېلىشقا بولىدۇ:

A گېنىنىڭ سانى:  
 $2 \times 30 + 60 = 120$  (دانە)

a گېنىنىڭ سانى:  
 $2 \times 10 + 60 = 80$  (دانە)

A گېنىنىڭ تەكرارلىقى:  
 $120 \div 200 = 60\%$

a گېنىنىڭ تەكرارلىقى:  
 $80 \div 200 = 40\%$

بۇ تۈر توپى بىرقانچە ئەۋلاد كۆپەيگەندىن كېيىن، ئۇلارنىڭ گېن تەكرارلىقىدا ئۆزگىرىش بولامدۇ - يوق؟



7.7 - رەسىم. مەلۇم ھاشاراتتىكى قانات رەڭ-گىنى بەلگىلەيدىغان گېنلارنىڭ تەكرارلىقى

مۇلاھىزە ۋە مۇھاكىمە



ماتېماتىكىلىق ئۇسۇلدىن پايدىلىنىپ گېن تەكرارلىقىنىڭ ئۆزگىرىشىنى مۇھاكىمە قىلىش

1. يۇقىرىدىكى ھاشاراتلار تۈر توپى ناھايىتى چوڭ، ئۇنىڭدىكى ھەممە ئەركەك - چىشى ئىتىدىۋىدارلار ئەركىن چېم-تىشىپ ئەۋلاد قالدۇرايدۇ. كۆچۈپ كىرگەن ۋە كۆچۈپ چىقىپ كەتكەنلىرى يوق، تەبىئىي تاللىنىش قانات رەڭگىدىن ئىبارەت بۇ نىسبىي بەلگىگە ھېچقانداق تەسىر كۆرسەتمەيدۇ، A گېن بىلەن a گېندا توساتتىن ئۆزگىرىش بولمىغان دەپ پەرەز قىلىپ، مېندېلىنىڭ ئايرىلىش قانۇنىغا ئاساسەن تۆۋەندىكىلەرنى ھېسابلاپ كۆرۈڭ:
  - (1) بۇ تۈر توپىدا ھاسىل بولغان A گامېتا بىلەن a گامېتىنىڭ نىسبىتى ئايرىم - ئايرىم قانچە بولىدۇ؟
  - (2) ئەۋلادلار گېن تىپىنىڭ تەكرارلىقى ئايرىم - ئايرىم قانچە بولىدۇ؟
  - (3) ئەۋلادلار تۈر توپىدىكى گېن تەكرارلىقى ئايرىم - ئايرىم قانچە بولىدۇ؟
  - (4) ھېسابلاش نەتىجىسىنى تۆۋەندىكى جەدۋەلگە تولدۇرۇڭ. ئويلاپ بېقىڭ، ئىككىنچى ئەۋلاد، ئۈچىنچى ئەۋلاد ۋە بىرقانچە ئەۋلادتىن كېيىنكى تۈر توپىنىڭ گېن تەكرارلىقى بىرىنچى ئەۋلادنىڭكى بىلەن ئوخشاش بولامدۇ؟
2. يۇقىرىدىكى ھېسابلاش نەتىجىسى پەرەز قىلىنغان بەش شەرت ئاساسىدا كەلتۈرۈپ چىقىرىلغان. تەبىئەت دۈن-ياسىدىكى تۈر توپى ئۈچۈن ئېيتقاندا، بۇ بەش شەرتنىڭ ھەممىسى پۈت تىرەپ تۇرالامدۇ؟ سىز بۇنىڭغا قايىسى ئەمە-لىي مىساللارنى كەلتۈرسىز؟
3. ئەگەر بۇ تۈر توپىدا يېڭى بىر توساتتىن ئۆز-گەرگەن تىپ (مەسىلەن، گېن تىپى  $A_1A_2$  ياكى  $A_2A_1$ ) كۆرۈلسە، شۇنداقلا يېڭى بىر تىپ ئورۇنلۇق گېن  $A_2$  پەيدا بولسا، تۈر توپىنىڭ گېن تەكرارلىقىدا ئۆزگىرىش بولامدۇ؟ A گېنىنىڭ تەكرارلىقىدا قانداق ئۆز-گىرىش بولۇشى مۇمكىن؟


aa(10%)	Aa(60%)	AA(30%)	ئەجدادلار گېن تىپىنىڭ تەكرارلىقى
a( )	a( )	A( )	گامېتىسىنىڭ نىسبىتى
aa( )	Aa( )	AA( )	ئەۋلادلار گېن تىپىنىڭ تەكرارلىقى
a( )	A( )		ئەۋلادلار گېن تەكرارلىقى

توساتتىن ئۆزگىرىش بىلەن گېنلارنىڭ قايتا گۇرۇپپىلىشىشى تەدرىجىي تەرەققىياتنىڭ خام ماتېرىيالىنى ھاسىل قىلىدۇ

گېنلارنىڭ توساتتىن ئۆزگىرىشىنىڭ تەبىئەت دۇنياسىدا ئومۇميۈزلۈك مەۋجۇت ئىكەنلىكى سىزگە مەلۇم. گېنلارنىڭ توساتتىن ئۆزگىرىشى يېڭى تەڭ ئورۇنلۇق گېنلارنى ھاسىل قىلىدۇ، بۇلار تۈر توپىسىدىكى گېن تەكرارلىقىدا ئۆزگىرىش پەيدا قىلىدۇ.

دارۋىن ئىرسىيەت بولۇپ قالدىغان ئۆزگىرىشلەرنىڭ جانلىقلار تەدرىجىي تەرەققىياتىنىڭ خام ماتېرىيالى ئىكەنلىكىنى ئېنىق قىلىپ كۆرسەتكەن. ئەگەر ئىرسىيەت بولۇپ قالدىغان ئۆزگىرىشلەر بولمىسا، جانلىقلار تەدرىجىي تەرەققىي قىلالمايدۇ. بىراق، ئەينى چاغدا بىئولوگىيىنىڭ تەرەققىيات سەۋىيىسىنىڭ چەكلىمىسى ئۈپەيلىدىن ئىرسىيەت بولۇپ قالدىغان بۇ ئۆزگىرىشلەرنىڭ قانداق پەيدا بولىدىغانلىقىنى دارۋىننىڭ ئېنىق چۈشەندۈرۈپ بېرەلمىگەن ئىدى. ھازىرقى زامان گېنېتىكا تەتقىقاتى ئىرسىيەت بولۇپ قالدىغان ئۆزگىرىشلەرنىڭ كېلىش مەنبەسى گېنلارنىڭ توساتتىن ئۆزگىرىشى، گېنلارنىڭ قايتا گۇرۇپپىلىشىشى ۋە خروموسومنىڭ ئۆزگىرىشى ئىكەنلىكىنى ئېنىق كۆرسىتىپ بەردى. بۇلارنىڭ ئىچىدە گېنلارنىڭ توساتتىن ئۆزگىرىشى بىلەن خروموسوملارنىڭ ئۆزگىرىشى ئومۇملاشتۇرۇلۇپ توساتتىن ئۆزگىرىش (mutation) دەپ ئاتىلىدۇ.

باغلىنىشلىق بىلىملەر  
يۇقىرىدا ئۆتكەن بىلىملەرنى ئەسلىپ ئويلاپ باقايلى، خروموسوم سانى بىلەن تۈزۈلۈشنىڭ ئۆزگىرىشى تۈر توپىدىكى گېن تەكرارلىقىنىڭ ئۆزگىرىشىنى كەلتۈرۈپ چىقىرىدۇ؟



مەلۇم ئارالدىكى چالا قانات ۋە قاناتسىز ھاشارات

بىزگە مەلۇمكى ئادەتتە جانلىقلارنىڭ ئۆزلۈكىدىن توساتتىن ئۆزگىرىش تەكرارلىقى ناھايىتى تۆۋەن بولىدۇ، ئۇنىڭ ئۈستىگە توساتتىن ئۆزگىرىشنىڭ چوڭ ھەم كۆپ بولۇشى جانلىقلار ئۈچۈن زىيانلىق. ئۇنداقتا، ئۇ يەنە نېمە ئۈچۈن جانلىقلار تەدرىجىي تەرەققىياتىنىڭ خام ماتېرىيالى بولالايدۇ؟ ئۇنىڭ قالمىغا، تۈر توپى نۇرغۇن ئىندىۋىدلاردىن تەركىب تاپىدۇ، ھەر بىر ئىندىۋىدنىڭ ھەر بىر ھۈجەيرىسىدە مىليونلىغان گېن بولىدۇ، شۇنداق بولغاچقا، ھەر بىر ئەۋلادتا نۇرغۇن توساتتىن ئۆزگىرىش يۈز بېرىدۇ، مەسىلەن، مېۋە چىۋىسىدە تەخمىنەن  $10^4$  جۈپ گېن بولىدۇ، ھەر بىر گېننىڭ توساتتىن ئۆزگىرىش نىسبىتى  $10^{-6}$  بولىدۇ دەپ پەرەز قىلساق، ئۇنداقتا بىر ئوتتۇراھال مېۋە چىۋىسى تۈر توپى (تەخمىنەن  $10^6$  ئىندىۋىد بار) ئۈچۈن ئېيتقاندا، ھەر بىر ئەۋلادتا كۆرۈلىدىغان گېنلارنىڭ توساتتىن ئۆزگىرىش سانى مۇنداق بولىدۇ:

$$(دانه) \quad 2 \times 10^4 \times 10^6 \times 10^{-6} = 2 \times 10^4$$

بۇلاردىن باشقا، توساتتىن ئۆزگىرىشنىڭ زىيانلىق ۋە پايدىلىق بولۇشى مۇتلەق بولماستىن، ئۇ جانلىقلارنىڭ ياشاش مۇھىتىغا باغلىق بولىدۇ. مەسىلەن، قانىتى بار ھاشاراتلار ئىچىدىن بەزىدە چالا قانات ۋە قاناتسىز توساتتىن ئۆزگەرگەن تىپلارمۇ كۆرۈلۈپ قالىدۇ، نورمال ئەھۋال ئاستىدا بۇ تىپتىكى ھاشاراتلارنىڭ ياشاپ قېلىشى ئىنتايىن قىيىن بولىدۇ. بىراق دائىم بوران چىقىپ تۇرىدىغان ئاراللاردىكى بۇ خىل ھاشاراتلار ئۇچالمىغاچقا، شامالنىڭ ئۇچۇرۇپ دېڭىزغا غەرق قىلىۋېتىشىدىن ساقلىنىپ قالىدۇ.

گېنلارنىڭ توساتتىن ئۆزگىرىشىدىن ھاسىل بولغان تەڭ ئورۇنلۇق گېنلار، جىنسلىق كۆپىيىش جەريانىدا گېنلارنىڭ قايتا گۇرۇپپىلىشىشى ئارقىلىق خىلمۇخىل گېن تىپلىرىنى ھاسىل قىلىپ، تۈر توپىدا

كۆپلىگەن ئىرىسىيەت بولۇپ قالدىغان ئۆزگىرىشلەرنى كەلتۈرۈپ چىقىرىدۇ. تۆسەتتىن ئۆزگىرىش بىلەن قايتا گۈزۈپپىلىشىش مۇقىم بۇنىلىشتە بولماستىن تاسادىپىي بولىدىغان بولغاچقا، ئۇلار پەقەت جانلىقلارنىڭ تەدرىجىي تەرەققىياتىنى خام ماتېرىيال بىلەنلا تەمىنلەپ، جانلىقلار تەدرىجىي تەرەققىياتىنىڭ يۆنىلىشىنى بەلگىلىيەلمەيدۇ.

### ئىزدەنىش

تەبىئىي تاللىنىشنىڭ تۈر توپى گېن تەكرارلىقىنىڭ ئۆزگىرىشىگە كۆرسەد - تىلدىغان تەسىرى



لشائىنكلار قاپلاپ كەتكەن دەرەخ غولىدىكى قېيىن پەرۋانلىرى

تەنگىلىنىڭ مانچېستېر رايونىدا بىر خىل قېيىن پەرۋانىسى ياشايدۇ. ئۇلار كېچىسى ھەرىكەت قىلىپ كۆد-دۈزى دەرەخ غولىغا قونۇۋالىدۇ. چېتىشتۈرۈش تەجىرىبىسى قېيىن پەرۋانىسىنىڭ تەن رەڭگى بىر جۈپ تەڭ ئورۇنلۇق گېن S بىلەن s كونتروللۇقىدا بولىدىغانلىقىنى، قارا رەڭ (S) سۇس رەڭ (s) گە نىسبەتەن ئاشكارا ئىكەنلىكىنى چۈشەندۈرۈپ بەردى. 19 - ئەسىرنىڭ ئوتتۇرىسىدىن ئىلگىرى، قېيىن پەرۋانىسى ئاساسەن سۇس رەڭلىك ئىدى. بۇ تۈر توپىدىكى S گېنىنىڭ تەكرارلىقى ئىنتايىن تۆۋەن بولۇپ، 5% تىن تۆۋەن ئىدى. 20 - ئەسىرنىڭ ئوتتۇرىلىرىغا كەلگەندە، قارا رەڭلىك قېيىن پەرۋانلىرى كۆپ ئۇچرايدىغان تىپقا ئايلاندى. S گېنىنىڭ تەكرارلىقى ئۆرلەپ 96% تىن ئېشىپ كەتكەن.



قارامتۇل قوڭۇررەڭ دەرەخ غولىدىكى قېيىن پەرۋانلىرى

19 - ئەسىردە مانچېستېر رايونىدىكى قېيىن دە-رەخلىرىنىڭ غولىنى لشائىنكلار قاپلاپ كېتىدۇ. كېيىن، سانائەتنىڭ تەرەققىي قىلىشىغا ئەگىشىپ، زاۋۇتلاردىن قويۇپ بېرىلگەن كۆمۈر ئىسى لشائىنكلارغا ياشاش پۇرسىتى بەرمەيدۇ، نەتىجىدە دەرەخلەرنىڭ قوۋزاقلىرى ئېچىلىپ قېلىپ قارامتۇل قوڭۇر رەڭگە كىرىپ قالغان.

### مەسىلە

قېيىن پەرۋانىسى تۈر توپىدىكى s گېن (سۇس رەڭلىك بەلگىنى بەلگىلەيدۇ) نىڭ تەكرارلىقى نېمە ئۈچۈن بار - غانسېرى تۆۋەنلەپ كېتىدۇ؟



گىرىش بىلەن  
ت جانلىقلار -  
نىڭ بۇت -

● پەرەز

● ئىلگىرى ئۆتكەن بىلىملەرگە ئاساسەن پەرەز قىلىش:

● مۇھاكىمە ۋە ئىزدىنىش يولى

رەقەملەشكەن مەسىلە مۇھىتى يارىتىش ئۈمىدلى بىلەن ئىزدەنسەنمۇ بولىدۇ. تۆۋەندىكى مەسىلە مۇھىتى پايدى -  
لىنىشىڭىز ئۈچۈن بېرىلدى.

مۇھىت يارىتىشتىن ئۆلگە (بۇنىڭدىكى سانلار پەرەز بويىچە ئېلىنغان): 1870 - يىلى قېيىن پەرۋانىسى تۈر توپى -  
دىكى گېن ئىپتىدائىي تەكرارلىقى تۆۋەندىكىدەك بولغان:  $SS10\%$ ,  $Ss20\%$ ,  $ss70\%$  گېنىنىڭ تەكرارلىقى  $30\%$  -  
بولغان. دەرەخ غولى قارىيىپ كېتىشتىن ئىبارەت بۇ مۇھىت شارائىتىدا. ئەگەر دەرەخ غولىنىڭ قارىيىپ كېتىشى  
سۈس رەڭدىكى قېيىن پەرۋانىلىرىنىڭ باششى ئۈچۈن پايدىسىز بولسا، نەتىجىدە، تۈر توپىدىكى سۈس رەڭلىك ئىندى -  
مۇندىلار يىلىغا  $10\%$  تىن كېمىيىپ، قارا رەڭلىك ئىندىمۇندىلار يىلىغا  $10\%$  تىن ئېشىپ بارىدۇ، ئۇنداقتا  $2 - 30$  - يى -  
لىقى قانچە بولىدۇ؟  
كۆرسەتمە:

① مۇشۇ گېن تىپلىق ئىندىمۇندى سانى  
مۇشۇ تۈر توپىدىكى ئومۇمىي ئىندىمۇندى سانى = گېن تىپى تەكرارلىقى

- ② ئوخشاش بولمىغان يىللاردا بۇ تۈر توپىدىكى ئىندىمۇندىلارنىڭ ئومۇمىي سانىدا ئۆزگىرىش بولۇشى مۇمكىن.
- ئىزدىنىش لايىھىسى تۈزۈش ۋە ئۇنى يولغا قويۇش
1. رەقەملەشكەن مەسىلە مۇھىتى يارىتىش.
  2. ھېسابلاش، ھېسابلاش نەتىجىسىنى تۆۋەندىكى جەدۋەلگە تولدۇرۇش.

	1 - يىلى	2 - يىلى	3 - يىلى	4 - يىلى	.....
گېن تىپى تەكرارلىقى	SS	10%	11.5%		
	Ss	20%	22.9%		
	ss	70%	65.6%		
گېن تەكرارلىقى	S	20%	23%		
	s	80%	77%		

3. ھېسابلاش نەتىجىسىگە ئاساسەن، مۇھىتنىڭ تاللاش رولىنىڭ چوڭ - كىچىكلىكى مۇۋاپىق تەكشۈرۈلۈپ، مە -  
سىلەن، سۈس رەڭلىك ئىندىمۇندىلارنىڭ ھەر يىللىق كېمىيىش سانىنىڭ پىرسەنتى يۇقىرىراق بېكىتىلىپ، تۈر توپى -  
نىڭ گېن تىپى تەكرارلىقى بىلەن گېن تەكرارلىقىنىڭ ئۆزگىرىشى قايتا ھېسابلىنىدۇ ھەمدە باسقۇچ 2 دە چىقىرىل -  
غان سانلىق مەلۇماتلار بىلەن سېلىشتۇرۇلىدۇ.

● نەتىجىنى تەھلىل قىلىش، يەكۈن چىقىرىش

ھېسابلاش نەتىجىسىنى تەھلىل قىلىپ، پەرىزىڭىزنى ياقلىدىمۇ - يوق، يەكۈن چىقىرىڭ.

● مۇھاكىمە

1. دەرەخ غولىنىڭ قارىيىپ كېتىشى قېيىن پەرۋانىسى تۈر توپىدىكى سۈس رەڭلىك ئىندىمۇندىلارنىڭ ئۇغۇلۇش نىسبىتىگە تە -  
سىر كۆرسەتمەدۇ؟ نېمە ئۈچۈن؟
2. تەبىئىي تاللىنىش جەريانىدا، تاللىنىشى بىۋاسىتە قوبۇل قىلىدىغىنى گېن تىپىمۇ ياكى ئىپادىلىنىش تىپىمۇ؟ نېمە ئۈچۈن؟

تەبىئىي تاللىنىش جانلىقلار تەدرىجىي تەرەققىياتىنىڭ يۆنىلىشىنى بەلگىلەيدۇ. تەبىئىي تاللىنىشنىڭ تەسىرىدە پايدىلىق ئۆزگىرىشكە ئىگە ئىندىۋىدلارنىڭ ئەۋلاد قالدۇرۇش پۇرسىتى كۆپ بولىدىغان بولغاچقا، تۈر توپىدىكى ماس گېنلارنىڭ تەكرارلىقى داۋاملىق يۇقىرى كۆتۈرۈلىدۇ؛ ئەگەر سىچە، پايدىسىز ئۆزگىرىشكە ئىگە ئىندىۋىدلارنىڭ ئەۋلاد قالدۇرۇش پۇرسىتى ئاز بولىدىغان بولغاچقا، تۈر توپىدىكى ماس گېنلارنىڭ تەكرارلىقى تۆۋەنلەپ بارىدۇ. شۇڭا، تەبىئىي تاللىنىش تەسىرىدە، تۈر توپىدىكى گېن تەكرارلىقىدا يۆنىلىشلىك ئۆزگىرىش پەيدا بولۇپ، جانلىقلارنىڭ مۇئەييەن يۆنىلىش بويىچە ئۆز-ئارا ئۆزگىرىش تەرەققىي قىلىشىنى كەلتۈرۈپ چىقىرىدۇ.

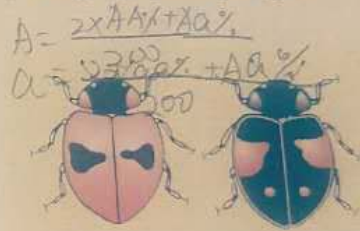
### مەشىق

#### I ئاساسى سوئال

1. تۆۋەندىكى جانلىقلار توپى ئىچىدە تۈر توپىغا كىرىدىغىنى:
  - A. بىر كۆلدىكى بارلىق بېلىقلار
  - B. بىر ئورمانلىقتىكى بارلىق يىلانلار
  - C. ۋۇلۋىك تەبىئىيلىكى قوغدىلىدىغان رايوندىكى بارلىق چوڭ مۈشۈكئېيىقلار
  - D. ئۆيدىكى بارلىق سۆۋەرەكلەر

جاۋابى: [C]

2. مەلۇم بىر خاقىز تۈر توپىدا قارا ۋە قىزىل ئىككى خىل تەن رەڭگىدىكى ئىندىۋىدلار بار، بۇ بەلگىلەرنى بىر جۈپ تەڭ ئورۇنلۇق گېن كونترول قىلىدۇ. قارا رەڭ (B) قىزىل رەڭ (b) گە نىسبەتەن ئاشكارا. ئەگەر گېن تىپى BB بولغان ئىندىۋىدلار 18% نى، گېن تىپى Bb بولغان ئىندىۋىدلار 78% نى، گېن تىپى bb بولغان ئىندىۋىدلار 4% نى ئىگىلىگەن بولسا، B گېن بىلەن b گېننىڭ تەكرارلىقى ئايرىم - ئايرىم مۇنداق بولىدۇ:



- A. 18% 82%    B. 36% 64%    C. 57% 43%    D. 92% 8%

جاۋابى: [C]

3. بىر خىل مېۋە چىۋىنى توستاتىن ئۆزگەرگەن ئىندىۋىدنىڭ  $21^{\circ}\text{C}$  لۇق ھاۋا تېمپېراتۇرىسىدىكى ياشاش ئىقتىدارى ناھايىتى ناچار بولغان. ئەمما، ھاۋا تېمپېراتۇرىسى  $25.5^{\circ}\text{C}$  قا ئۆرلىگەندە ئۇنىڭ ياشاش ئىقتىدارى زور دەرىجىدە يۇقىرى كۆتۈرۈلگەن. بۇ ( ) چۈشەندۈرىدۇ.

- A. توستاتىن ئۆزگىرىش يۆنىلىشلىك بولمايدىغانلىقىنى
  - B. توستاتىن ئۆزگىرىش ئاسادىي يۈز بېرىدىغانلىقىنى
  - C. توستاتىن ئۆزگىرىشنىڭ زىيانلىق ياكى پايدىلىق بولۇشى مۇھىت شارائىتىغا باغلىق ئىكەنلىكىنى
  - D. مۇھىت شارائىتىنىڭ ئۆزگىرىشى توستاتىن ئۆزگەرگەن ئىندىۋىدقا نىسبەتەن زىيانلىق ئىكەنلىكىنى
4. ئەگەر توستاتىن ئۆزگىرىش بولمىسا، تەدرىجىي تەرەققىيات يەنە بولامدۇ؟ نېمە ئۈچۈن؟

#### II كېڭەيتىمە سوئال

1. سۈنئىي ئامىللارنىڭ تۈر توپى گېن تەكرارلىقىنىڭ يۆنىلىشلىك ئۆزگىرىشىنى كەلتۈرۈپ چىقىرىشىغا ئائىت ئەمەلىي مىسال كەلتۈرۈڭ.
2. ئەگەر يوقىلىش گىردابىغا بېرىپ قالغان بىر جانلىقلار تۈر توپى ئوزۇقلۇق مول، كۈشەندىلىرى بولمىغان يېڭى بىر مۇھىتقا قويۇپ بېرىلسە، بۇ تۈر توپىدا قانداق ئۆزگىرىش يۈز بېرىدۇ؟ ئۆگەنگەن بىلىملىرىڭىزگە ئاساسەن پەرەز قىلىپ بېقىڭ.

## II ئايرىلىش ۋە تۈرلەرنىڭ شەكىللىنىشى

مانچېستېر رايونىدىكى قېيىن يەرۋانىسى تۈر توپىنىڭ گېن تەكرارلىقىدا ناھايىتى زور ئۆزگىرىش يۈز بەرگەن بولسىمۇ، ئەمما يېڭى تۈر شەكىللەنمىگەن. نېمە ئۈچۈن ئۇلارنى يېڭى تۈر شەكىللەندۈرمىدى دەپ بىز؟ بۇ ئىككى تۈر توپىنىڭ بىر تۈرگە تەۋە ياكى ئەمەسلىكىگە قانداق ھۆكۈم قىلىمىز؟

تۈر ھەققىدە چۈشەنچە

گېنېتىكا ۋە تەدرىجىي تەرەققىيات نەزەرىيىسى تەتقىقاتىدا، تەبىئىي ھالەتتە ئۆزئارا جۈپلىشەلەيدىغان ھەممە كۆپىيىش ئىقتىدارىغا ئىگە ئەۋلاد قالدۇرالايدىغان بىر توپ جانلىقلار بىر تۈر (species) دەپ ئاتىلىدۇ. مۇنداقچە ئېيتقاندا، ئوخشىمىغان تۈرلەر ئارا-سىدا ئادەتتە ئۆزئارا جۈپلىشىش بولمايدۇ، يەنى جۈپلىشىش مۇۋەپپەقىيەتلىك بولغان تەقدىردىمۇ كۆپىيىش ئىقتىدارىغا ئىگە ئەۋلاد قالدۇرالمىدۇ، مانا مۇشۇ خىل ھادىسىلەر كۆپىيىش ئايرىلىشى (reproductive isolation) دەپ ئاتىلىدۇ. مەسىلەن، ئات بىلەن ئېشەك چېتىشقان تەقدىردىمۇ، ئەمما ئۇلاردىن تۈرەلگەن كېيىنكى ئەۋلاد - قېچىر (8.7 - رەسىم) نىڭ كۆپىيىش ئىقتىدارى بولمايدۇ. شۇڭا، ئات بىلەن ئېشەك ئارىسىدا كۆپىيىش ئايرىلىشى مەۋجۇت، شۇڭا ئۇلار ئىككى تۈرگە مەنسۇپ.

بۇ مەزمۇننىڭ مۇھىم نۇقتىسى

- تۈر دېگەن نېمە؟
- جۇغراپىيىلىك ئايرىلىش دېگەن نېمە؟
- كۆپىيىش ئايرىلىشى دېگەن نېمە؟
- ئايرىلىش تۈرلەرنىڭ شەكىللىنىشىدە قانداق رول ئوينايدۇ؟



8.7 - رەسىم. قېچىر

تەبىئەت دۇنياسىدا، ئوخشاش بىر تۈردىكى ئىندىۋىدلار ھەرگىزمۇ بىللە توپلىشىپ ياشىمايدۇ. ئېگىز تاغ، دەريا، قۇملۇق ياكى باشقا جۇغراپىيىلىك توسالغۇلار تۈپەيلىدىن ھەربىر تۈر ھامان بىر - بىرىدىن ئايرىلىپ ياكى چوڭ ياكى كىچىك توپ بولۇپ شەكىللىنىدۇ، مانا مۇشۇنداق توپلار ئوخشىمىغان تۈر توپى ھېسابلىنىدۇ، مەسىلەن، ئىككى كۆلچەكتىكى كارپ بېلىقى ئىككى تۈر توپىدىن ئىبارەت. بىر خىل جادىلىقنىڭ جۇغراپىيىلىك توسالغۇلار تۈپەيلىدىن ئوخشاش بولمىغان تۈر توپىغا ئايرىلىپ، تۈر توپلىرى ئارا



تاغ جىلغىسىدا بىر چاشقان تۈر توپى «شاد - خۇرام» ياشاپ كەلگەن. چىشى چاشقانلار بىلەن ئەر-كەڭ چاشقانلار ئىرىكسەن چېتىشىپ ئەۋلاد قالدۇرغان. كېيىن تاغ يېرىلىپ كەلكۈن كېلىپ، جىلغا ئوتتۇرىسىدا بىر چوڭ دەريا شەكىللەنگەن. بۇ چاشقان تۈر توپىدىكى ئىندىۋىدلارنىڭ يېرىمى دەريانىڭ ئۇ قېتىمدا، غا، يېرىمى دەريانىڭ بۇ قېتىمغا ئايرىلىپ كەتكەن. مانا شۇنداق قىلىپ نەچچە مىڭ يىل ئۆتۈپ كەتكەن.

گېئولۇگىيە ئىلمىدىكى جۇغراپىيەلىك ئايرىلىش (geographical isolation) دەپ ئاتىلىدۇ.

ئايرىلىشنىڭ تۈرلەرنىڭ شەكىللىنىشى جەريانىدىكى رولى  
 ئوخشاش بولمىغان تۈر تۈپى ئارا  
 ئىندىۋىدلارنىڭ تەبىئىي شارائىتىدا  
 گېئولۇگىيەلىك ئىزگىن ئالماشتۇرالماسلىق  
 ھادىسىسى ئايرىلىش (isolation) دەپ ئاتا-  
 تىلىدۇ. يۇقىرىدا گېئولۇگىيەلىك جۇغراپىيە-  
 يىلىك ئايرىلىش بىلەن كۆپىيىش ئايرى-  
 رىلىشى كۆپ ئۇچرايدىغان ئايرىلىش  
 تىپلىرىدۇر. يۇقىرىدىكى رەسىم بىر  
 خىيالىي كۆرۈنۈش بولۇپ، تەسەۋۋۇر ۋە  
 مۇلاھىزە قىلىشىڭىزغا ياردەم بېرىشى  
 مۇمكىن.



كېيىن، دەريا قۇرۇپ كېتىپ، بۇ ئىككى چاشقان تۈر تۈپى يەنە بىرلىشىپ قالغان. ئەمما دەريانىڭ ئۇ قېتىمىدىكى چاشقانلار بىلەن دەريانىڭ بۇ قېتىمىدىكى چاشقانلار بىر - بىرىگە ئوخشىمىغان، ئۇلار ئارىسىدا ئىزگىن چېتىشىش يەنە بولامدۇ - يوق؟

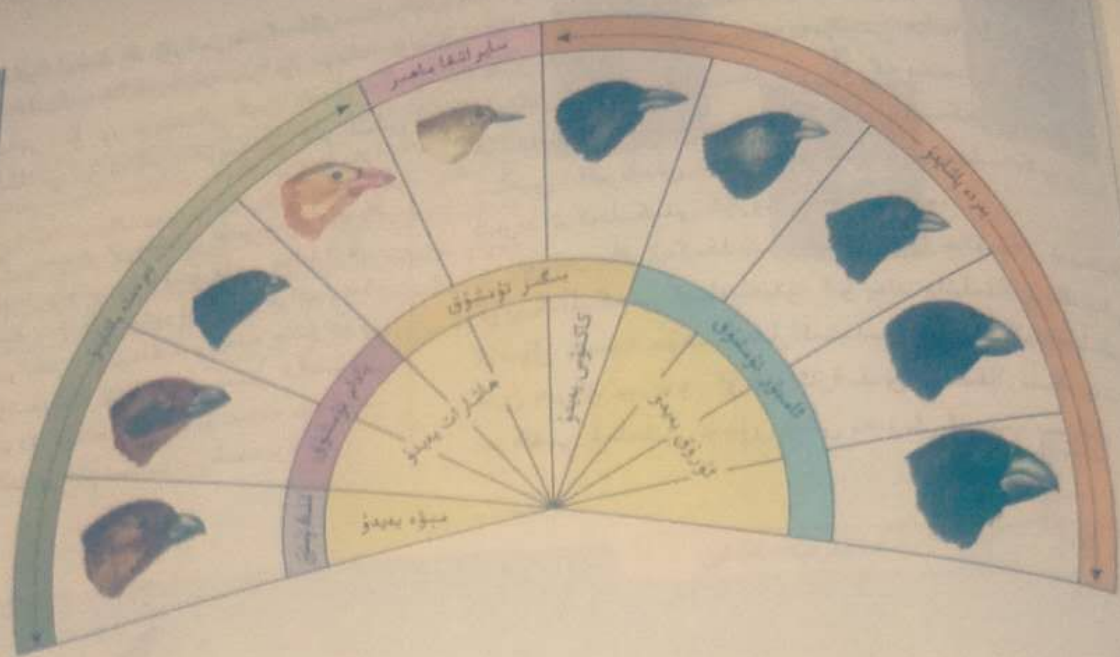
ماتېرىيال ئۈستىدە تەھلىل

ئايرىلىشنىڭ تۈرلەرنىڭ شەكىللىنىش جەريانىدىكى رولى

بۇلار دارۋىن يەر شارىنى ئايرىلىپ تەكشۈرۈش ئېلىپ بارغاندا كۆزەتكەن ھادىسىلەر. گالاپاگوس تاقىم ئاراللىرىدا 13 خىل يەر قۇشقىچى ياشايدۇ. بۇ يەر قۇشقاچلىرىنىڭ تۇمشۇقىدا ناھايىتى چوڭ پەرق بولۇپ، ئوخشىمىغان تۈرلەر ئارا كۆپىيىش ئايرىلىشى مەۋجۇت. بىپايان جەنۇبىي ئامېرىكا چوڭ قۇرۇقلۇقىنىڭ باشقا جايلىرىدا، بۇ 13 خىل يەر قۇشقىچىنىڭ ئىزناسىنىمۇ كۆرگىلى بولمايدۇ.

گالاپاگوس تاقىم ئاراللىرى جەنۇبىي ئامېرىكا قىتئەسىگە يېقىن بولغان تىنچ ئوكيانغا جايلاشقان بولۇپ، ئاساسلىق 13 ئارالدىن تەركىب تاپقان، بۇ ئاراللارنىڭ جەنۇبىي ئامېرىكا چوڭ قۇرۇقلۇقى بىلەن بولغان ئارىلىقى 160 ~ 950 كىلومېتىر كېلىدۇ. ئوخشاش بولمىغان ئاراللارنىڭ مۇھىتىدا زور پەرق بار، ئاراللارنىڭ پەس ئورنىدا تىكەنلىك چاتقىلار ئۆسىدۇ؛ پەقەت چوڭ ئارالدىلا ئېگىزلىك بولۇپ، قويۇق ئورمان ئۆسىدۇ.

بۇ ئاراللار بەش مىليون يىل ئىلگىرى دېڭىز ئاستىدىكى يانار تاغنىڭ پارتلاپ چىقىشىدىن شەكىللەنگەن بولۇپ، جەنۇبىي ئامېرىكا چوڭ قۇرۇقلۇقىنىڭ شەكىللىنىشىدىن خېلىلا كېيىن. شۇڭا، بۇ ئاراللاردىكى يەر قۇشقاچلىرىنىڭ ئورتاق ئەجدادى جەنۇبىي ئامېرىكا چوڭ قۇرۇقلۇقىدىن كەلگەنلىكىنى، كېيىن ھەرقايسى ئاراللاردا ئوخشىمىغان تۈر تۈپلىرىنىڭ شەكىللەنگەنلىكىنى پەرەز قىلىشقا بولىدۇ.



● مۇھاكىمە

1. جەنۇبىي ئامېرىكا چوڭ قۇرۇقلۇقىدىكى بىر خىل يەر قۇشقىچى گالاپاگوس ئاقسىم ئاراللىرىغا كەلگەندىن كېيىن، ئاۋۋال ئىككى ئارالدا دەسلەپكى ئىككى تۈر توپىنى شەكىللەندۈرگەن دەپ پەرەز قىلغىلى. بۇ ئىككى تۈر توپىدىكى ئىندىۋىدلار سانى ئانچە كۆپ ئەمەس. ئۇنداقتا، ئۇلارنىڭ گېن تەكرارلىقى ئوخشاشمۇ؟
2. ئوخشىمىغان ئاراللاردىكى يەر قۇشقىچى تۈر توپلىرىنىڭ توساتتىن ئۆزگىرىش ھاسىل قىلىش ئەھۋالى ئوخشاشمۇ؟
3. ئوخشىمىغان ئاراللاردىكى يەر قۇشقىچى تۈر توپلىرى ئۈچۈن ئېيتقاندا، مۇھىتنىڭ تەسىرىدە پەرق يارمۇ - يوق؟ بۇ تۈر توپى گېن تەكرارلىقىنىڭ ئۆزگىرىشىگە قانداق تەسىر پەيدا قىلىدۇ؟
4. ئەگەر بۇ دېڭىزدا پەقەت بىرلا ئارال بولغان بولسا، مۇشۇنداق خىلمۇخىل يەر قۇشقاچلىرى شەكىللىنەتتى؟

گالاپاگوس ئاقسىم ئاراللىرىدىكى يەر قۇشقاچلىرى جۇغراپىيىلىك ئايرىلىش ئارقىلىق شەكىللەنگەن يەنى تۈرلەرنى چۈشەندۈرىدىغان مەشھۇر بىر ئەمەلىي مىسالدۇر. بۇ يەر قۇشقاچلىرىنىڭ ئەجدادى ئوخشاش بىر تۈرگە مەنسۇپ، ئۇلار جەنۇبىي ئامېرىكا چوڭ قۇرۇقلۇقىدىن كۆچۈپ كەلگەندىن كېيىن، تەدرىجىي ھالدا ئوخشىمىغان ئاراللارغا تارقالغان. ھەرقايسى ئاراللاردىكى يەر قۇشقىچى تۈر توپلىرىنى دېڭىز ئايرىپ تۇرغاچقا، ئوخشىمىغان تۈر توپلىرىدا ئوخشاش بولمىغان توساتتىن ئۆزگىرىشلەر ۋە گېنلارنىڭ قايتا گۇرۇپپىلەششى كۆرۈلگەن، ئەمما بىر تۈر توپىدىكى توساتتىن ئۆزگىرىش بىلەن گېنلارنىڭ قايتا گۇرۇپپىلەششى يەنە بىر تۈر توپىنىڭ گېن تەكرارلىقىغا تەسىر كۆرسەتمىگەچكە، ئوخشىمىغان تۈر توپىنىڭ گېن تەكرارلىقىدا ئوخشىمىغان ئۆزگىرىشلەر يۈز بەرگەن. ھەرقايسى ئاراللاردىكى يېمەكلىك ۋە ياشاش شارائىتى بىر - بىرىگە ئوخشاش بولمىغاچقا، تەبىئىي تاللىنىشنىڭ ئوخشاش بولمىغان تۈر توپلىرى گېن

تەكرارلىقىنىڭ ئۆزگىرىشىگە كۆرسىتىدىغان تەسىرىدە پەرق كۆرۈلگەن، يەنى بىر تۈر توپىدا بەزى گېنلار ساقلىنىپ قالغان، يەنە بىر تۈر توپىدا بولسا باشقا بىر خىل گېن ساقلىنىپ قالغان. ۋاقىتنىڭ ئۆزىدىكى بىلەن، بۇ تۈر توپىدىكى گېن ئامبىرىدا روشەن پەرق ھاسىل بولغان ھەمدە تەدرىجىي ھالدا كۆپىيىش ئارقىلىق بىرلىشى كۆرۈلگەن. كۆپىيىش ئايرىلىشى شەكىللەنگەن ھامان، ئەسلىدە بىر تۈرگە مەنسۇپ بولغان بىر قۇشقاچلىرى ئوخشىمىغان تۈر بولۇپ شەكىللەنگەن. بۇنىڭدىن، ئايرىلىش تۈرلەرنىڭ شەكىللىنىشىدىكى رۇزۇر شەرت ئىكەنلىكىنى كۆرۈۋېلىشقا بولىدۇ.

تۈرلەرنىڭ شەكىللىنىشىنىڭ ئۆزى جانلىقلار تىپىنىڭ كۆپەيگەنلىكىنى ئىپادىلەيدۇ. ئۇ يەنە جانلىقلارنىڭ يېڭى ئۇسۇل بويىچە مۇھىت شارائىتىدىن پايدىلىنىپلا يەنىلا بولماستىن، ئۇ شۇ ئارقىلىق جانلىقلارنىڭ يەنىمۇ تەرەققىي قىلىشى ئۈچۈن يېڭى مەنزىل ئېچىپ بېرىدۇ.

يېپىق ئۇرۇقلۇق ئۆسۈملۈكلەرنىڭ يەيدە بولۇشى چاڭلانتۇرغۇچى ھاشارلارنىڭ شەكىللىنىشى ئۈچۈن شارائىت ھازىرلىغان، كېيىنكىسى يەنە ھاشارانخور قۇشلارنىڭ كۆپىيىشىدىكى ئالدىنقى شەرتكە ئايلانغان. سىز بۇ ھەقتە باشقا نەرسىلەرنى كۆرسىتىپ بېرەلسىز؟

### مەشىق



#### I ئاساس سوئال

1. تۆۋەندىكى بايانلارنىڭ توغرا - خاتالىقىغا ھۆكۈم قىلىڭ.
  - (1) جانلىقلار تىپىدە يۈز بەرگەن گېنلاردىكى توساتتىن ئۆزگىرىشلەرنىڭ ھەممىسى ئىرسىيەت بولۇپ قالىدىغان ئۆزگىرىشكە كىرىدۇ.
  - (2) ئىككى تۈر توپى ئارىسىدا كۆپىيىش ئايرىلىشى كۆرۈلگەن ھامان، بۇ ئىككى تۈر توپى ئىككى تۈرگە مەنسۇپ بولىدۇ.
  - (3) تۈرلەرنىڭ كۆپ قىسمى ئاۋۋال ئۇزاق مۇددەتلىك جۇغراپىيىلىك ئايرىلىشنى باشتىن كەچۈرۈپ، ئاندىن كۆپىيىش ئايرىلىشى ھاسىل قىلىش ئارقىلىق شەكىللەنگەن.




2. بۇنىڭدىن تەخمىنەن 10 مىڭ يىللار ئىلگىرى ئالبېرت رېككىنىڭ كولورادو چوڭ جىلغىسىدا ياشايدىغان Abert تىپىدىكى يىپىنلىرىنى بىر دەريا ئىككى تۈر توپىغا ئايرىۋەتكەن. بۇلاردىن جىلغىنىڭ شىمالىي تەرىپىدە ياشايدىغان تۈر توپىدا تەن رەڭگى ۋە شەكلى قاتارلىق جەھەتلەردە روشەن ئۆزگىرىش يۈز بەرگەن، شۇڭا كىشىلەر ئۇنى Kaibab تىپى دەپ ئاتىغان. Kaibab تىپىنىڭ بىر مۇستەقىل تۈرمۈ ياكى كەنجى تۈرمۈ دېگەن مەسىلە ھازىر تېخى بېكىتىلمىدى.

بۇ ئىككى تۈر توپىدا يۈز بەرگەن روشەن ئىختىلاپنىڭ سەۋەبىنى تەپسىلىي چۈشەندۈرۈڭ ھەمدە ئۇلارنىڭ كېيىنكى تەدرىجىي تەرەققىيات يۈزلىنىشىنى ئالدىن مۆلچەرلەپ بېقىڭ.

#### II كېڭەيتىمە سوئال

سىز ئادەتتە شىرسىمان يولۋاس ياكى يولۋاسسىمان شىر دېگەننى ئاڭلاپ باققانمۇ؟

ئۇلارنىڭ ئانا - ئاتىسى ئايرىم - ئايرىم قايسى ھايۋان؟  
ئەگەر ئۇلار بېتىلىپ ئۆزئارا چىقىشقا كۆپىيەلمەيدىغان  
ئەۋلاد قالدۇرالايدۇ؟



تەبىئەت دۇنياسىدا شىر بىلەن يولۋاننىڭ بىللە بولۇپ  
ئىشلىشى مۇمكىن ئەمەس. ئادەتتە ھايۋانات باغچىلىرىدىمۇ  
بۇ ئىككى خىل ھايۋاننى ئايرىم قەيەستە باقىدۇ. ئەمما يېرىم  
قىمقى بىللەدە ئۇلارنىڭ بالىلىرىنى بىللە بېقىش ئۇسۇلى  
لىسرى بارلىققا كەلدى. بۇنىڭدا تاماشا قىلىش قىممىتىگە  
ئىگە شالغۇت ئەۋلادلارغا ئېرىشىش مەقسەت قىلىنغان.  
سىز بۇ ئۇسۇلغا قانداق قارايسىز؟

ماھارەت مەشىقى



رەسىم تەھلىل قىلىش

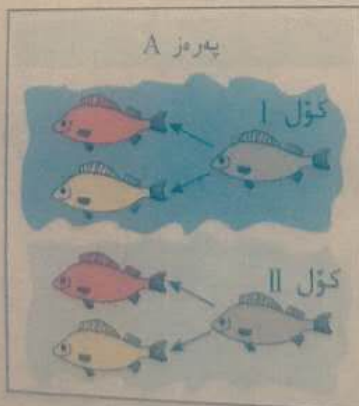
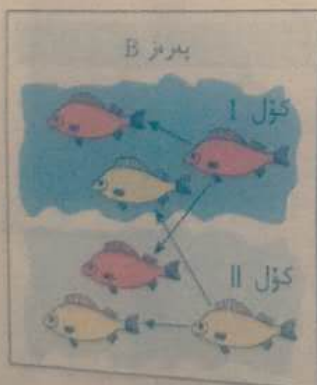
مەلۇم تەتقىقات گۇرۇپپىسى مەلۇم جايدىكى ئىككى كۆلنى تەتقىق قىلغان. ئەمما بۇ رايونغا بەزىدە كەلگۈن كېلىپ  
ئۆزىدىكى ھەر بىر كۆلدە تەن شەكلى ئوخشىشىپ كېتىدىغان قىزغۇچ قارامتۇل ۋە سېرىق رەڭلىك ئىككى  
خىل بېلىق ياشايدىكەن. ئۇلار بۇ ئىككى خىل بېلىق ئارىسىدىكى مۇناسىۋەتنى ئېنىق بىلەلمەي، ئاخىر مۇنداق  
ئىككى خىل پەرەزنى ئوتتۇرىغا قويغان. مەسىلەن، رەسىمدە كۆرسىتىلگەندەك.

1. پەرەز A بىلەن پەرەز B دا، كۆل I بىلەن كۆل II دىكى ئىككى خىل بېلىقنىڭ ئەسلىي ئەجدادى ئايرىم -  
ئايرىم قايسى خىل بېلىق؟

2. قىزغۇچ قارامتۇل رەڭلىك بېلىق بىلەن سېرىق رەڭلىك بېلىق تۈر توپىنىڭ شەكىللىنىشىگە مۇناسىۋەتلىك  
پەرەز A بىلەن پەرەز B دىكى ئاساسلىق پەرق زادى نېمە؟

3. DNA نى تەھلىل قىلىش شۇنى ئىسپاتلىدىكى، كۆل I دىكى قىزغۇچ قارامتۇل  
رەڭلىك بېلىق بىلەن كۆل II دىكى قىزغۇچ قارامتۇل رەڭلىك بېلىقنىڭ قان - قېرىنداش -  
لىق مۇناسىۋىتىنىڭ ئەڭ يېقىن، بۇ پاكىتلار قايسى پەرەزنى ياقلايدۇ؟

4. قايسى پاكىتلار سىزنىڭ كۆل I دىكى قىزغۇچ قارامتۇل رەڭلىك بېلىق بىلەن سېرىق  
رەڭلىك بېلىقنىڭ بىر تۈر ئەمەسلىكىنى مۇئەييەنلەشتۈرۈشىڭىزگە ياردەم بېرىدۇ؟





تاشقاتما ئەۋرىشكىلەرنى ياسىغۇچى خادىملار

خىزمەت مەزمۇنى: خىزمەت مۇھىتى ئاساسەن تەبىئىي مۇزېي، ئۈنۈمىزسىتېت ۋە تەتقىقات ئورۇنلىرىدىكى پالىئونتولوگىيە تەتقىقات ئىشخانىسى؛ ئاساسلىق ۋەزىپىسى تاشقاتمىلارنى تاغ جىنسلىرىدىن ئايرىپ ئېلىپ، كەم يەرلىرىنى رېمونت قىلىپ ئەسلىگە كەلتۈرۈش.

ئوقۇش تارىخىغا قويۇلىدىغان تەلەپ: بىئولوگىيە ياكى گېئولوگىيە كەسپىدە تولۇق كۇرستىن يۇقىرى ئوقۇش تارىخىغا ئىگە بولۇش.

ھازىرلاشقا تېگىشلىك ساپا: كەڭ تەبىئىي پەن بىلىملىرىگە ئىگە بولۇش، مىكروسكوپ ئاستىدا ئەسۋابلاردىن پايدىلىنىپ ئىنچىكە مەشغۇلاتلارنى ئېلىپ بارالايدىغان ئىقتىدارغا ئىگە بولۇش. تاشقاتمىلار كۆپ ھاللاردا مۇكەممەل بولمايدۇ ھەم ئاسان ئۇۋۇلۇپ كېتىدۇ، شۇڭا رەتلەش ۋە چېتىش جەريانىدا يېتەرلىك سەۋرچان بولۇش، قىلچە بىخەستەلىك قىلماسلىقتەك خىزمەت ئىستىلىگە ۋە مول تەسەۋۋۇر كۈچىگە ئىگە بولۇش تەلەپ قىلىنىدۇ.

بۇ خىزمەت بىلەن شۇغۇللىنىشتا، تاشقاتمىلارنى قازغۇچىلاردىن تارتىپ پالىئونتولوگىيە ئالىملىرىغىچە نۇر-غۇن ئادەملەر بىلەن ئالاقىلىشىدىغان بولغاچقا، ئېسىل كىشىلىك مۇناسىۋەت ئىقتىدارىنى يېتىلدۈرۈشكە توغرا كېلىدۇ.

كەسىپتىن شادلىنىش: تاشقاتما ئەۋرىشكىلىرىنى ياساش جەريانى بىر ئاز زېرىكىشلىك بىلىنىشى مۇمكىن. بىراق، ئۆز قولىڭىز بىلەن ياساپ، نەچچە ئون مىڭ ھەتتا نەچچە يۈز مىڭ يىل ئىلگىرىكى جانلىقلارنى خۇددى ھاياتتەك تۈسكە كىرگۈزگەنلىكىڭىزنى كۆرگىنىڭىزدە، بۇنىڭدىن شۇنچىلىك شادلىنىپ كېتىسىز!



III بىللە تەدرىجىي تەرەققىي قىلىش ۋە جانلىقلار كۆپ خىللىقىنىڭ شەكىل-لىنىشى

لىنىشى

بىللە تەدرىجىي تەرەققىي قىلىش

ھەرقانداق بىر تۈر ئۆز ئالدىغا مۇستەقىل تەدرىجىي تەرەققىي قىلغان ئەمەس، دارۋىن بىر خىل كەترەن گۈلىدە ئىنچىكە ئۇزۇن گۈل كاسسا نەيچىسى (spur) نىڭ ئۆسۈپ چىققانلىقىنى، بۇ نەيچىنىڭ ئاستى



بۇ مازمۇننىڭ مۇھىم نۇقتىسى

- بىللە تەدرىجىي تەرەققىي قىلىش دەپ كەن نېمە؟
- نېمە ئۈچۈن جانلىقلارنىڭ كۆپ خىللىقىنى تەدرىجىي تەرەققىياتنىڭ نەتىجىسى دەيمىز؟
- جانلىقلار تەدرىجىي تەرەققىيات نەزەرىيىسى يەنە تەرەققىي قىلىۋاتامدۇ؟



9.7 - رەسىم. مەلۇم خىل كەترەن گۈلى ۋە ئۇنى مەخسۇس چاڭلاشتۇرىدىغان پەرۋانە

قىسمىدا گۈل شىرنىسى ساقلىنىدىغان بولۇپ، چاڭلاشتۇرغۇچى ھاشاراتلارنى يېمەكلىك بىلەن تەمىنلەيدىغانلىقىنى بايقىغان. بۇنىڭغا ئاساسەن دارۋىن مۇنداق دەپ قارىغان، بۇ گۈلنىڭ مۇشۇنداق شەكىللەنىشى ئاسادىيىي ئىش بولماستىن، چوقۇم مۇشۇ خىل گۈلنىڭ شىرنىسىنى ئوزۇقلۇق قىلىدىغان ھاشاراتلار بار. ئۇلارمۇ مۇشۇنىڭغا ئوخشاپ كېتىدىغان نەيچىسىدە مان ئىنچىكە ئۇزۇن ئېغىز ئاپپاراتى بولغاچقا، گۈل كاسسا نەيچىسىدىن گۈل شىرنىلىرىنى سۈمۈرۈپ ئوزۇقلىنىۋالىدۇ. ئۇنداق بولمىغاندا بۇ خىل گۈل ياخشى چاڭلىنالمىدۇ - دە، بۇ تۈرمۈ مەۋجۇت بولۇپ تۇرالمايدۇ. دېگەندەك، تەخمىنەن 50 يىلدىن كېيىن، تەتقىقاتچىلار شۇ خىل پەرۋانە تۈرىدىكى ھاشارات (9.7 - رەسىم) لارنى بايقىغان.

تەبىئەت دۇنياسىدا، بىر خىل ئۆسۈملۈكنى مەخسۇس بىر خىل ھاشارات چاڭلاشتۇرىدىغان ئەھۋاللار كۆپ ئۇچرايدۇ. ئويلاپ بېقىڭ، ھاشاراتلار چاڭلاشتۇرۇشنىڭ مەخسۇسلىشىشى ئۆسۈملۈكلەرنىڭ كۆپىيىپ ئەۋلاد قالدۇرۇشىدا قانداق ئەھمىيەتتىكى بار؟ بۇنىڭغا نىسبەتەن سىز قانداق مەسىلىنى ئوتتۇرىغا قويالايسىز؟

بەلكىم سىز تېلېۋىزورلاردىن قاپلاننىڭ تاغىل ئاتلارنى قوغلاپ تۇتۇۋاتقان كۆرۈنۈشلىرى (10.7 - رەسىم) نى كۆرگەن بولۇشىڭىز مۇمكىن. تەبىئىي تاللىق

ئىش تاغىل ئات تۈر توپىغا پايدىلىق بولغان مۇسكۇللىرى تەرەققىي قىلغان ۋە ھەرىكىتى چاققان تاغىل ئاتلارنى يېتىشتۈرۈپ چىققان؛ ئوخشاشلا قاپلان تۈر توپىغا پايدىلىق بولغان يۈگۈرۈشى تېز قاپلانلارنىمۇ يېتىشتۈرۈپ چىققان. بۇ ئىككى تۈرنىڭ تەدرىجىي تەرەققىي قىلىش جەريانى خۇددى بىر مەيدان ئۇزۇنغا سوزۇلغان «ھەربىي ھازىرلىقلار مۇسابىقىسى» غىلا ئوخشايدۇ.



10.7 - رەسىم. قاپلاننىڭ تاغىل ئاتنى قوغلاپ تۇتۇشى

تۇتۇپ يېگۈچلەر ئۈچۈن ئېيتقاندا تۇتۇپ يېگۈچلەرنىڭ مەۋجۇت بولۇشى پەقەتلا زىيانلىقمۇ؟ ئەمەلىيەتتە، تۇتۇپ يېگۈچلەرنىڭ تۇتۇپ يەيدىغىنى كۆپىنچە ئۇلارنىڭ ئىچىدىكى قېرى، ئاجىز، ئورۇق، كېسەلچان ياكى بالا ئىندىۋىدلار بولۇپ، ئويىكتىمىپ جەھەتتە تۈر ئويىنىڭ تەرەققىياتىنى ئىلگىرى سۈرۈش رولىنى ئوينايدۇ. بۇنىڭدىن باشقا يەنە تۇتۇپ يېگۈچلەر ئادەتتە بارلىق ئوۋلارنىڭ ھەممىسىنى يەۋەتمەيدۇ، ئۇنداق بولمايدىكەن ئۆزىمۇ مەۋجۇت بولۇپ تۇرالمايدۇ. مانا بۇ «ئەقىل بىلەن تۇتۇپ يېگۈچلەر» تاكى تىكىسىدۇر.

جەمئىيەت بىلەن بولغان باغلىنىشى «ئەقىل بىلەن تۇتۇپ يېگۈچلەر» تاكى - شىكسى ئىنسانلارنىڭ جانلىقلار بايلىقىدىن پايدىلىنىشىغا قانداق ئىلھام بېرىدۇ؟


4 مىليارد 600 مىليون يىل ئىلگىرى يەر شارى شەكىللەنگەن

3 مىليارد يىلدىن كۆپرەك ۋاقىت ئىلگىرى ھاياتلىق پەيدا بولغان

570 مىليون يىل ئىلگىرى

245 مىليون يىل ئىلگىرى

66 مىليون يىل ئىلگىرى



ئامېرىكا ئېكولوگىيە ئالىمى ستانلىي (S.M. Stanley) تۇتۇپ يېگۈچلەرنىڭ جانلىقلار تەدرىجىي تەرەققىياتىدىكى رولى ھەققىدە «ئورۇش نەزەرىيىسى» نى ئوتتۇرىغا قويغان، يەنى تۇتۇپ يېگۈچلەر ئومۇمەن ئىندىۋىد سانى كۆپ بولغان تۈرلەرنى تۇتۇپ يەيدۇ، مۇشۇنداق قىلغاندا بىر خىل ياكى ئاز ساندىكى بىرنەچچە خىل جانلىقنىڭ ئېكولوگىيە سىستېمىسىدا مۇتلەق ئۈستۈن-لۈكنى ئىگىلىۋېلىشىدەك ھالەتنى تۈگىتىپ، باشقا تۈرلەرنىڭ شەكىللىنىشى ئۈچۈن بوشلۇق ھازىرلىنىدۇ. شۇڭا، تۇتۇپ يېگۈچلەرنىڭ مەۋجۇت بولۇشى تۈرلەر كۆپ خىللىقىنىڭ ئېشىشى ئۈچۈن پايدىلىق.

ئوخشاش بولمىغان جانلىقلار ئارىسىدا تەدرىجىي تەرەققىيات جەھەتتە زىچ باغلىنىش بولۇپلا قالماي، جانلىقلارنىڭ تەدرىجىي تەرەققىياتى بىلەن ئانتىئورگانىك مۇھىتنىڭ ئۆزگىرىشىدە مۇئازاردا بىر - بىرىگە تەسىر كۆرسىتىدۇ. مەسىلەن، يەر شارىدىكى ئىپتىدائىي ئاتموسفېرادا ئوكسىگېن بولمايدۇ، شۇڭا ئەڭ دەسلەپ پەيدا بولغان جانلىقلارنىڭ ھەممىسى -

بى ئوكسىگېن خالىمايدىغان (يەنى ئوكسىگېنسىز نەپەسلىنىدىغان) جانلىقلار ئىدى؛ ئەڭ دەسلەپكى فوتو-سىنتېزلىق جانلىقلارنىڭ پەيدا بولۇشى بىلەن، ئىپتىدائىي ئاتموسفېرادا ئوكسىگېن پەيدا بولغان. بۇنىڭ ئوخشىمىغان تۈرلەر ئارىسىدا، جانلىقلارنىڭ پەيدا بولۇشى ئۈچۈن ئالدىنقى شەرت ھازىرلانغان. داۋامىدا ئۆزلۈكسىز تەدرىجىي تەرەققىي قىلىش ۋە يۈكسىلىش بولىدۇ، بۇ، بىللە تەدرىجىي تەرەققىي قىلىش (coevolution) دېيىلىدۇ. ئۇزاق مۇددەتلىك بىللە تەدرىجىي تەرەققىي قىلىش داۋامىدا، يەر شارىدا ئاجايىپ - جايلىقلار كۆپ خىللىقنىڭ شەكىللىنىشى ئېكولوگىيەلىك سىستېمىلارمۇ شەكىللەنگەن.

لوگىيەلىك سىستېمىنىڭ كۆپ خىللىقىدىن ئىبارەت ئۈچ قاتلاملىق مەزمۇنى ئۆز ئىچىگە ئالدىغانلىقىدا - چۈرۈش ئارقىلىق شەكىللەنگەن (11.7 - رەسىم).

مۇلاھىزە ۋە مۇھاكىمە

- 11.7 - رەسىمنى تەپسىلىي كۆزىتىپ تۆۋەندىكى مەسىلىلەرنى مۇھاكىمە قىلىڭ.
1. ئەڭ دەسلەپ پەيدا بولغان جانلىق قايسى تۈردىكى جانلىق؟ ئۇلار قانداق مۇھىتتا ياشىغان؟
2. كۆپ ھۆججەتلىك جانلىقلار تەخمىنەن قايسى دەۋردە پەيدا بولغان؟ ئۇلار قانداق مۇھىتتا ياشىغان؟
3. ئەڭ دەسلەپ قۇرۇقلۇققا چىققان جانلىق ئۆسۈملۈكمۇ ياكى ھايۋانمۇ؟ نېمە ئۈچۈن؟
4. سىز ھازىر كۆرۈپ تۇرۇۋاتقان يەر شارى بىلەن سېلىشتۇرغاندا، پالئوزوي ئېراسى مەزگىلىدىكى يەر شارىنىڭ ئېكولوگىيەلىك سىستېمىسىدا قانداق ئالاھىدىلىك بار؟
5. دىنوزاۋر قايسى ۋاقىتتا يوقالغان؟ تۈرلەرنىڭ يوقىلىشى جانلىقلارنىڭ كۆپ خىللىقىغا قانداق تەسىر كۆرسىتىدۇ؟



تاشقاتما بۇ تەدرىجىي تەرەققىيات مۇساپىسىنى بىلىشتىكى مۇھىم ئاساستۇر. ھازىر ئىگىلەنگەن ئىسپاتلاردىن قارىغاندا، ئەڭ دەسلەپكى جانلىقلار تاشقاتمىسى بۇنىڭدىن تەخمىنەن 3 مىليارد 500 مىليون يىل ئىلگىرىكى قەدىمكى باكتېرىيە تاشقاتمىسى (12.7 - رەسىم) دىن ئىبارەت. شۇنىڭدىن كېيىنكى تەخمىنەن 2 مىليارد يىللىق ئۇزاق مۇساپە داۋامىدا، يەر شارىدىكى جانلىقلار ئاساسەن دېڭىز - ئوكيانلاردىكى تۈر سانى ئانچە كۆپ بولمىغان كۆك يۈسۈن ۋە باكتېرىيەلەر بولۇپ، ئۇلارنىڭ ھەممىسى ئىپتىدائىي يادرولۇق جانلىقلار ئىدى. شۇ دەۋردىكى ئېكولوگىيەلىك سىستېما پەقەت ئىشلەپچىقارغۇچىلار بىلەن پارچىلىغۇچىلاردىن ئىبارەت ئىككى باسقۇچلۇق ئېكولوگىيەلىك سىستېما ئىدى. بۇنىڭدىن تەخمىنەن 1 مىليارد 500 مىليون يىل ئىلگىرى ھەقىقىي يادرولۇق جانلىق سىستېمىسى پەيدا بولدى.

ئىنسانلار پەيدا بولغاندىن كېيىن، جىنسىلىق كۆپىيىش بىر خىل بېكچە كۆپىيىش شەكلىدە مەيدانغا كەلگەن. جانلىقلار جىنسىلىق كۆپىيىش ئارقىلىق گېنىلىرىنىڭ قايتا گۇرۇپپىلىشىشىنى ئەمەلگە ئاشۇرغان، بۇ جازا ئىنسانلار ئۆزگىرىشىنىڭ كۆپ خىللىقىنى ئاشۇرۇپ، جانلىقلار تەدرىجىي تەرەققىياتىنىڭ سۈرئىتىنى روشەن ھالدا تېزلەتكەن. بۇنىڭدىن تەخمىنەن 500 - 570 مىليون يىل ئىلگىرىكى كېمبىرىي دەۋرىدە، دېڭىز - ئوكيانلاردا كۆپلىگەن ئومۇرتقىسىز ھايۋانلار تۈرلىرى پارتلاش خاراكتېرىدە تېز شەكىللەنگەن، مانا بۇ مەشھۇر كېمبىرىي دەۋرىدىكى چوڭ پارتلاشتۇر. كۆپلىگەن ھايۋانلار ئېكولوگىيىلىك سىستېمىنىڭ ئۆزى چىنىپ باسقۇچىنى تەشكىل قىلغۇچىلار يەنى ئىستېمال قىلغۇچىلارنى ھۇجۇتقا كەلتۈرگەن، بۇ بىر جەھەتتىن ئېكولوگىيىلىك سىستېمىنى تېخىمۇ مۇرەككەپ تۈزۈلۈشكە ئىگە قىلسا، يەنە بىر جەھەتتىن ئۆز سۈمۈرگۈچىلىكى تەرەققىياتىغا مۇھىم تەسىرلەرنى پەيدا قىلغان (13.7 - رەسىم).

قىزىقارلىق دېڭىز - ئوكيان جانلىقلىرى دۇنياسى بىلەن سېلىشتۇرغاندا، ئەينى چاغدىكى قۇرۇقلۇقتا جانلىقلار يوق دېيەرلىك ئىدى. بۇنىڭدىن تەخمىنەن 4 مىليارد يىل ئىلگىرىكى تاغ ياساش ھەرىكىتى دەپ - ئىنسانلارنى كىچىكلىتىپ، قۇرۇقلۇقنى كېڭەيتكەنلىكى ئۈچۈن، بەزى دېڭىز - ئوكيان ئۆسۈم - لۈكلىرى قۇرۇقلۇقتا ياشاشقا



13.7 - رەسىم. كېمبىرىي دەۋرىدىكى دېڭىز - ئوكيان جانلىقلىرى ھەققىدىكى تەسەۋۋۇر

ناسىلىشىپ، پاپىروتىمىكلار (14.7 - رەسىم) نى ئاساس قىلغان ئىپتىدائىي قۇرۇقلۇق ئۆسۈملۈكلىرىنى شەكىللەندۈرگەن. ئۇنىڭدىن كېيىن قۇرۇقلۇقتا ياشاشقا ماسلاشقان ھايۋان - ئىپتىدائىي قوش ماكانلىق ھايۋانلار پەيدا بولغان. جانلىقلارنىڭ قۇرۇقلۇققا چىقىشى قۇرۇقلۇق مۇھىتىنى ئۆزگەرتكەن، شۇنىڭ بىلەن قۇرۇقلۇقتىكى مۇرەككەپ مۇھىت جانلىقلارنىڭ تەدرىجىي تەرەققىي قىلىشى ئۈچۈن كەڭ سەھنە ھازىرلاپ بەرگەن، يالىڭاچ ئۇرۇقلۇق ئۆسۈم - لۈكلىرى بىلەن يېپىق ئۇرۇقلۇق ئۆسۈملۈكلەر ئىلگىرى - كېيىن بولۇپ ئىشلەپچىقارغۇچىلارنىڭ رولىنى ئالغان، قۇشلار ۋە سۈت ئەمگۈچى ھايۋانلار يەر شارىدا ئۈستۈنلۈكنى ئىگىلىگۈچى ھايۋان توپىغا ئايلانغان، شۇنداق قىلىپ مۇرەككەپ ۋە خىلمۇخىل قۇرۇقلۇق ئېكولوگىيە سىستېمىسى



14.7 - رەسىم. 4 مىليارد يىل ئىلگىرىكى قۇرۇقلۇق مەنزىرىسى ھەققىدىكى تەسەۋۋۇر

تەدرىجىي تەرەققىيات جەريانىدا، نۇرغۇن تۈرلەر مۇھىتىنىڭ ئۆزگىرىشىگە ماسلىشالمىغانلىقتىن يوقىد-  
لىپ كەتكەن. مەسىلەن، ئوتتۇرا ھاياتلىق (مېروزوي) ئېراسىدا بىر مىليارد يىلدىن ئۇزاق «ھۆكۈمران»  
غىرلىرىدىلا پۈتۈنلەي يوقىلىپ كەتكەن. دىنوزاۋرلارنىڭ يوقىلىپ كېتىشى سۈت ئەمگۈچى ھاياۋانلارنىڭ  
روناق تېپىشىغا بوشلۇق ھازىرلاپ بېرىپ، جانلىقلار تەدرىجىي تەرەققىياتى ئۈچۈن يېڭى بەت بىر ئاچقان.



**جەمئىيەت بىلەن بولغان باغلىنىشى**

رۈلگەن تۈرلەردۇر. شەھەر ئېكولوگىيىسى سىستېمىسى بىلەن ئېتىز - ئېرىق ئېكولوگىيىسى سىستېمىسى سۈنئىي ياكى  
يېرىم سۈنئىي ئېكولوگىيە سىستېمىسىدۇر. ئىنسانلار جانلىقلارنىڭ تەدرىجىي تەرەققىياتى ۋە جانلىقلارنىڭ كۆپ  
خىللىقىغا بارغانسېرى تەسىر كۆرسەتمەكتە. سىز بۇنىڭغا ئائىت باشقا ئەمەلىي مىساللارنى كەلتۈرەلەمسىز؟ ئىنسانلار  
ئۆزىنىڭ جانلىقلار تەدرىجىي تەرەققىياتىغا كۆرسەتمىدىغان تەسىر كۈچىنى چوقۇم كونترول قىلىشى كېرەكمۇ؟

**جانلىقلار تەدرىجىي تەرەققىيات نەزەرىيىسى تە-  
رەققىي قىلماقتا**

بەزى ئالىملارنىڭ تەتقىقات نەتىجىسى گېنلارنىڭ  
توساتتىن ئۆزگىرىشىنىڭ جانلىقلارنىڭ ماسلىشىشچانلى-  
قىغا كۆرسىتىدىغان تەسىرى پايدىسى يوق ساپلا زىيانلىق  
ياكى زىيىنى يوق ساپلا پايدىلىق بولماستىن، كۆپىنچە-  
لىرى نېپىترال (ئىككى ئارىلىقتىكى) ھالەتتە بولىدىغان.  
لىقىنى، تەبىئىي تاللىنىش گېنلارنىڭ توساتتىن ئۆزگى-  
رىشىگە ھېچقانداق تەسىر كۆرسەتمەيدىغانلىقىنى،  
گېنلارنىڭ بۇ خىل توساتتىن ئۆزگىرىشلىرى ئۇزاق  
مەزگىل توپلىنىش ئارقىلىق، تۈر توپى ئارىسىدىكى  
ئىرسىيەت ماددىلىرىدا زور پەرقنى كەلتۈرۈپ چىقىرىدە-  
غانلىقىنى كۆرسىتىپ بەردى. شۇڭا، بەزىلەر جانلىقلارنىڭ  
تەدرىجىي تەرەققىيات يۆنىلىشىنى بەلگىلەيدىغىنى تەبى-

**ئالاقىدار ئۇچۇرلار**

1984 - يىلىدىن باشلاپ ئېلىمىزنىڭ  
يۈننەن ئۆلكىسى دېڭىياڭ ناھىيىسىدىن يۈ-  
سۈنلەر، دېڭىز بۇلۇتسىمان ھاياۋانلىرى،  
كاۋاك ئىچلىك ھاياۋانلار ۋە ھازىر يوقىلىپ  
كەتكەن ئومۇرتقىسىز ھاياۋانلارنى ئۆز ئىچىگە  
ئالغان كۆپلىگەن كېمىرىي دەۋرىنىڭ دە-  
لىھىكى مەزگىلى (يەنى 53 مىليون يىل ئىل-  
گىرىكى) گە تەۋە بولغان تاشقاتمىلار ئارقا -  
ئارقىدىن بايقالدى. بۇ بايقىلىشلار «كېمىرىي  
دەۋرىدىكى چوڭ پارتلاش» ۋەقەسىنى ئى-  
چاتلاپلا قالماي يەنە جانلىقلارنىڭ تەدرىجىي  
تەرەققىياتىنى تەتقىق قىلىشتىكى تېخىمۇ  
كۆپ يېڭى تېمىلارنىمۇ ئوتتۇرىغا قويدى.

ئىي تاللىنىش بولماستىن، نېپىترال ھالەتتىكى توساتتىن ئۆزگىرىشنىڭ تەدرىجىي جۇغلىنىشى دېگەن  
پىكىردە چىڭ تۇرماقتا. ئەمما تېخىمۇ كۆپ ئالىملار يەنە، گېنلار توساتتىن ئۆزگىرىشىنىڭ ھەممىسى  
نېپىترال بولۇۋەرمەيدۇ، بەزى گېنلارنىڭ توساتتىن ئۆزگىرىشى مۇھىت بىلەن ماسلاشقان دەرىجىدىكى پەرق  
ئارقىلىق ئىندىۋىدلارنىڭ بەلگىلىرىدە ئەكس ئېتىدۇ، شۇڭا تەبىئىي تاللىنىشنىڭ رولىنى ئىنكار قىلىد-  
ۋېتىشكە بولمايدۇ، دەپ قارىماقتا.

نۇرغۇن تۈرلەرنىڭ قىسقا ۋاقىت ئىچىدە تېزلىكتە شەكىللىنىش ھادىسىسىگە ئاساسەن بەزىلەر يەنە  
تۈرلەرنىڭ شەكىللىنىشى ھەرگىزمۇ تەدرىجىي ئۆزگىرىش جەريانى بولماستىن، بەلكى تۈر توپىنىڭ ئۇزاق  
مەزگىل مۇقىم تۇرۇشى بىلەن تېزلىكتە يېڭى تۈر ھاسىل قىلىشىنىڭ ئۆزئارا ئالمىشىشى كۆرۈلىدىغان

جەريان دېگەنى ئوتتۇرىغا قويدى. دېمەك جانلىقلارنىڭ تەدرىجىي تەرەققىياتىغا ئائىت تالاش - تارتىش ۋە گۇمانلار يەنىلا كۆپ. ئومۇمەن ئېيتقاندا، جانلىقلارنىڭ تەدرىجىي تەرەققىياتى مانا مۇشۇنداق مۇرەككەپ، ھازىرقى تەدرىجىي تەرەققىيات نەزەرىيىسى چۈشەندۈرۈپ بېرەلمەيدىغان مەسىلىلەر چۈشەندۈرۈپ بېرەلمەيدىغان مەسىلىلەرگە قارىغاندا يەنىلا كۆپ. بۇ نەزەرىيىلەر ئىچىدە تەبىئىي تاللىنىش تەلىماتىنى مەركەز قىلغان تەدرىجىي تەرەققىيات نەزەرىيىسىنىڭ تەسىرى باشقا تەلىماتلارغا قارىغاندا تېخىمۇ كەڭ ۋە تېخىمۇ چوڭقۇر بولۇپ، ئۇ يەنىلا كېيىن تەتقىق قىلىنىدىغان ھەرقايسى جەھەتتىكى تەتقىقاتلارنىڭ ئاساسىدۇر. شۇڭا، جانلىقلار تەدرىجىي تەرەققىيات نەزەرىيىسى خۇددى باشقا پەنلەردىكى نەزەرىيىلەرگە ئوخشاش ھەرگىز توختاپ قالماي بەلكى ئۈزلۈكسىز تەرەققىي قىلماقتا.

## مەشىق

### I ئاساس سوئال

1. تۆۋەندىكى بايانلارنىڭ توغرا - خاتالىقىغا ھۆكۈم قىلىڭ.  
(1) بىر تۈرنىڭ پەيدا بولۇشى ياكى يوقىلىشى باشقا بىر قانچە تۈرنىڭ تەدرىجىي تەرەققىي قىلىشىغا تەسىر كۆرسىتىدۇ.
- (2) تۈرلەر ئارىسىدىكى بىللە تەدرىجىي تەرەققىي قىلىشلارنىڭ ھەممىسى تۈرلەر ئارىسىدىكى ياشاش ئۈچۈن كۈرەش قىلىش ئارقىلىق ئەمەلگە ئاشىدۇ.
- (3) جانلىقلار كۆپ خىللىقىنىڭ شەكىللىنىشىمۇ، يېڭى تۈرلەرنىڭ ئۈزلۈكسىز شەكىللىنىش جاريانىدىن ئىبارەت.

2. يەر شارىدا ئەڭ بۇرۇن پەيدا بولغان جانلىق:

- A. ئوكسىگېنلىق نەپەسلىنىدىغان بىر ھۈجەيرىلىك جانلىق
- B. ئوكسىگېنلىق نەپەسلىنىدىغان كۆپ ھۈجەيرىلىك جانلىق
- C. ئوكسىگېنسىز نەپەسلىنىدىغان بىر ھۈجەيرىلىك جانلىق
- D. ئوكسىگېنسىز نەپەسلىنىدىغان كۆپ ھۈجەيرىلىك جانلىق

جاۋابى: A

3. نېمە ئۈچۈن جىنىسلىق كۆپىيىشنىڭ بارلىققا كېلىشى جانلىقلار تەدرىجىي تەرەققىياتىنىڭ قەدىمىي تىزلەتتى دەيمىز؟

### II كېڭەيتمە سوئال

1. ئەگەر جانلىقلار تۈرلىرى ئارىسىدا مۇئەييەن مۇناسىۋەت (مەسىلەن، قان - قېرىنداشلىق مۇناسىۋىتى ۋە ئۆزئارا تەسىر كۆرسىتىش مۇناسىۋىتى) بولمىسا ھەمدە ۋاقىتقا ئەگىشىپ ئۆزگىرىش قىلالمىسا، ئۇنداقتا بىرنىڭ بىئولوگىيەلىك قارىشىمىزدا قانداق ئۆزگىرىش بولىدۇ؟ بىئولوگىيەنى ئۆگىنىش ئاسانمىكەن ياكى تەسنىكەن؟
2. بىر ئالىمنىڭ سۆزى بويىچە ئېيتقاندا، بىللە تەدرىجىي تەرەققىي قىلىش «ئېكولوگىيەلىك مەھنە، تەدرىجىي تەرەققىياتتىكى ئوبۇن» The ecological theater and evolutionary play دىن ئىبارەت. مۇشۇ پاراگرافتا ئۆگەنگەن مەزمۇنلارغا ئاساسەن، ئۆزىڭىزنىڭ بۇ بىر جۈملە سۆزىگە بولغان چۈشەنچىڭىزنى سۆزلەپ بېقىڭ.

جەريان دېگەنى ئوتتۇرىغا قويدى. دېمەك جانلىقلارنىڭ تەدرىجىي تەرەققىياتىغا ئائىت تالاش - تارتىش ۋە گۇمانلار يەنىلا كۆپ. جانلىقلارنىڭ تەدرىجىي تەرەققىياتى مانا مۇشۇنداق مۇرەككەپ، ھازىرقى تەدرىجىي ئومۇمەن ئېيتقاندا، چۈشەندۈرۈپ بېرەلمەيدىغان مەسىلىلەر چۈشەندۈرۈپ بېرەلمەيدىغان مەسىلىلەرگە قارىغاندا يەنىلا كۆپ. بۇ نەزەرىيەلەر ئىچىدە تەبىئىي تاللىنىش تەلىماتىنى مەركەز قىلغان تەدرىجىي تەرەققىيات نەزەرىيەسىنىڭ تەسىرى باشقا تەلىماتلارغا قارىغاندا تېخىمۇ كەڭ ۋە تېخىمۇ چوڭقۇر بولۇپ، ئۇ يەنىلا كېيىن تەتقىق قىلىنىدىغان ھەرقايسى جەھەتتىكى تەتقىقاتلارنىڭ ئاساسىدۇر. شۇڭا، جانلىقلار تەدرىجىي تەرەققىيات نەزەرىيەسى خۇددى باشقا پەنلەردىكى نەزەرىيەلەرگە ئوخشاش ھەرگىز توختاپ قالماي بەلكى ئۈزلۈكسىز تەرەققىي قىلماقتا.

## مەشىق

### I ئاساس سوئال

1. تۆۋەندىكى بايانلارنىڭ توغرا - خاتالىقىغا ھۆكۈم قىلىڭ.
  - (1) بىر تۈرنىڭ پەيدا بولۇشى ياكى يوقىلىشى باشقا بىر قانچە تۈرنىڭ تەدرىجىي تەرەققىي قىلىشىغا تەسىر كۆرسىتىدۇ.
  - (2) تۈرلەر ئارىسىدىكى بىللە تەدرىجىي تەرەققىي قىلىشلارنىڭ ھەممىسى تۈرلەر ئارىسىدىكى ياشاش ئۈچۈن كۈرەش قىلىش ئارقىلىق ئەمەلگە ئاشىدۇ.
  - (3) جانلىقلار كۆپ خىللىقىنىڭ شەكىللىنىشىمۇ، يېڭى تۈرنىڭ ئۈزلۈكسىز شەكىللىنىش جاريانىدىن ئىبارەت.

2. يەر شارىدا ئەڭ بۇرۇن پەيدا بولغان جانلىق:

- A. ئوكسىگېنلىق نەپەسلىنىدىغان بىر ھۈجەيرىلىك جانلىق
- B. ئوكسىگېنلىق نەپەسلىنىدىغان كۆپ ھۈجەيرىلىك جانلىق
- C. ئوكسىگېنسىز نەپەسلىنىدىغان بىر ھۈجەيرىلىك جانلىق
- D. ئوكسىگېنسىز نەپەسلىنىدىغان كۆپ ھۈجەيرىلىك جانلىق

جاۋابى: A

3. نېمە ئۈچۈن جىنىسلىق كۆپىيىشنىڭ بارلىققا كېلىشى جانلىقلار تەدرىجىي تەرەققىياتىنىڭ قەدىمىي تىزلەتتى دەيمىز؟

### II كېڭەيتمە سوئال

1. ئەگەر جانلىقلار تۈرلىرى ئارىسىدا مۇئەييەن مۇناسىۋەت (مەسىلەن، قان - قېرىنداشلىق مۇناسىۋىتى ۋە ئۆزئارا تەسىر كۆرسىتىش مۇناسىۋىتى) بولمىسا ھەمدە ۋاقىتقا ئەگىشىپ ئۆزگىرىش قىلالمىسا، ئۇنداقتا بىرنىڭ بىئولوگىيەلىك قارىشىمىزدا قانداق ئۆزگىرىش بولىدۇ؟ بىئولوگىيەنى ئۆگىنىش ئاسانمىكەن ياكى تەسنىكەن؟
2. بىر ئالىمنىڭ سۆزى بويىچە ئېيتقاندا، بىللە تەدرىجىي تەرەققىي قىلىش «ئېكولوگىيەلىك مەھنە، تەدرىجىي تەرەققىياتتىكى ئوبۇن» The ecological theater and evolutionary play دىن ئىبارەت. مۇشۇ پاراگرافتا ئۆگەنگەن مەزمۇنلارغا ئاساسەن، ئۆزىڭىزنىڭ بۇ بىر جۈملە سۆزىگە بولغان چۈشەنچىڭىزنى سۆزلەپ بېقىڭ.



### كۆڭۈلدىكىدەك «گېئولوگىيىلىك سائەت»



ئوخشىمىغان دەۋرلەردە شەكىللەنگەن بەر قاتلاملىرىدىكى تاشقاتمىلارنى تەتقىق قىلىش ئارقىلىق جانلىقلار تەدرىجىي تەرەققىياتىنىڭ ئەڭ يالغى ئىسپاتىغا ئېرىشكىدەلى بولىدىغانلىقىنى ھەممىمىز بىلىمىز. ئۇنداقتا، كىشىلەر بىرەر پارچە جانلىقلار تاشقاتمىسىغا ئېرىشكەندىن كېيىن ئۇنىڭ قانچە يىل ئىلگىرى شەكىللەنگەنلىكىنى قانداق ھېسابلاپ چىقىدۇ؟ رادىئوئاكتىپلىق ئىزوتوپنىڭ بايقىلىشى بىلەن، كىشىلەر كۆڭۈلدىكىدەك «گېئولوگىيەلىك سائەت» نى تاپتى.

ئالمىلار ئوخشاش دەۋردە شەكىللەنگەن تاغ جىنىسلىرى تەركىبىدىكى قوغۇشۇن بىلەن ئۇراننىڭ نىسبىتى ئوخشاش بولىدىغانلىقىنى بايقىغان. بۇ زادى نېمە ئۈچۈن؟ ئەسلىدە، تاغ جىنىسلىرى تەركىبىدىكى قوغۇشۇن ئۇراننىڭ تەدرىجىي ئۆزگىرىشىدىن شەكىللەنگەن. قوغۇشۇننىڭ نىسبىتى ئاتوم ماسسىسى 206، رادىئوئاكتىپلىق ئۇراننىڭ نىسبىتى ئاتوم ماسسىسى 238. ئۇران ( $^{238}\text{U}$ ) تۇراقسىز ئاتوم يادروسىغا ئىگە بولغاچقا، ئۆزلۈكىدىن رادىئوئاكتىپ ( $^{206}\text{Pb}$ ) غا ئايلانغان. بۇ خىل ئۆزگىرىش مۇھىتنىڭ ھېچقانداق تەسىرى (مەسىلەن، تېمپېراتۇرا، نەملىك، يېسىم قاتارلىقلار) گە ئۇچرىمايدۇ. رادىئوئاكتىپلىق ئىزوتوپلار مۇئەييەن بىرلىك ۋاقىت ئىچىدە يېرىم يىمىرىلىدىغان بولغاچقا، مۇشۇ بىرلىك ۋاقىت يېرىم يىمىرىلىش دەۋرى دەپ ئاتىدۇ. مەسىلەن،  $^{238}\text{U}$  نىڭ يېرىم يىمىرىلىش دەۋرى 4 مىليارد 500 مىليون يىل،  $^{14}\text{C}$  نىڭ يېرىم يىمىرىلىش دەۋرى 5730 يىل. ئەگەر ھازىر بىر مىليون دانە  $^{238}\text{U}$  ئاتومى بىر ئەينەك قاچىغا سېلىپ ھەم ئېتىپ قويسا، 4 مىليارد 500 مىليون يىلدىن كېيىن، 500 مىڭ دانە  $^{238}\text{U}$  ئاتومى قوغۇشۇنغا ئايلىنىپ، ئەينەك قاچا ئىچىدە پەقەت 500 مىڭ دانە  $^{238}\text{U}$  ئاتومى قالىدۇ. ئەگەر ھازىر بىر پارچە تاشقاتمىنى بايقاپ، ئۇنىڭ تەركىبىدىكى  $^{238}\text{U}$  بىلەن  $^{206}\text{Pb}$  نىڭ نىسبىتى 2:1 ئىكەنلىكىنى ئېنىقلىدىمىز، ئۇنداقتا، بۇ تاشقاتمىنىڭ تەخمىنەن 3 مىليارد يىل ئىلگىرى شەكىللەنگەنلىكىنى بىلەلەيمىز. ئوخشاش قائىدە بويىچە بۇ تاشقاتمىدىكى  $^{14}\text{C}$  بىلەن  $^{12}\text{C}$  نىڭ نىسبىتىنى ئېنىقلىيالساقلا، بۇ تاشقاتمىدىكى جانلىقنىڭ ياشىنىمۇ دەۋرىنىمۇ بىلەلەيمىز.

$^{14}\text{C}$  نى «گېئولوگىيىلىك سائەت» قىلىپ ئېنىقلىغان تاشقانما ئەگەر 50 - 60 مىڭ يىل ئىلگىرىكى بولۇپ چىقسا، ئىنچىسى ئىشەنچسىز بولۇپ قالىدۇ. بۇنىڭ نېمە ئۈچۈن ئىكەنلىكىنى ئويلاپ بېقىڭ. سىز بۇ ماقالىنى ئوقۇغاندىن كېيىن، پەنلەر ئارىسىدىكى ئۆزئارا گىرەلىشىش ۋە پەن بىلەن تېخنىكىنىڭ مۇناسىۋىتىگە نىسبەتەن قانداق بېغى تونۇشقا ئىگە بولىدىغىز؟



## بۇ بايتىن قىسقىچە خۇلاسە

لامارك، مۇنداق دەپ قارايدۇ، جانلىقلار ئۈزلۈكسىز تەدرىجىي تەرەققىي قىلىپ تۇرىدۇ. جانلىقلارنىڭ تەدرىجىي تەرەققىي قىلىش سەۋەبلىرى ئىشلىتىلگەن ئەزالىرى تەرەققىي قىلىش، ئىشلىتىلمىگەنلىرى رەتتە تاشلىنىش ۋە ئېرىشمە ئىرسىيەتتىن ئىبارەت. دارۋىن كۆپ قېتىم كۆزىتىش ئاساسىدا تەبىئىي تاللىنىش تەلىماتىنى ئوتتۇرىغا قويدى، ئۇنىڭ مۇھىم نۇقتىسى مۇنداق: جانلىقلارنىڭ ھەممىسى زىيادە كۆپىيىش مايللىقىغا ئىگە. ئەمما بايلىق نۇقتىسى ۋە بوشلۇق چەكلىك بولىدۇ، شۇڭا جانلىقلار كۆپىيىش ئۈچۈن كۈرەش قىلىشى كېرەك؛ جانلىقلارنىڭ ھەممىسى ئىرسىيەت ۋە ئۆزگىرىش ئالاھىدىلىكلىرىگە ئىگە، پايدىلىق ئۆزگىرىشكە ئىگە ئىندىۋىدلار ياشاش ئۈچۈن كۈرەشتە ئاسانلا غەلبە قىلىدۇ ھەمدە بۇ ئۆزگىرىشلىرى ئىرسىيەت بولۇپ قالىدۇ؛ پايدىسىز ئۆزگىرىشكە ئىگە ئىندىۋىدلار ياشاش ئۈچۈن كۈرەشتە ئاسانلا ئاللىنىپ كېتىدۇ. ئۇزاق مۇددەتلىك تەبىئىي تاللىنىش داۋامىدا ناھايىتى كىچىك ئۆزگىرىشلەر تەدرىجىي توپلىنىپ، ئالاھىدە مۇھىتقا ماسلاشقان يېڭى تىپلارنى ئۈزلۈكسىز ھاسىل قىلىدۇ.


ئىلىم - پەننىڭ تەرەققىي قىلىشىغا ئەگىشىپ كىشىلەرنىڭ جانلىقلار تەدرىجىي تەرەققىياتىغا بولغان تونۇشى ئۈزلۈكسىز چوڭقۇرلىشىپ، تەبىئىي تاللىنىشنى مەركەز قىلغان ھازىرقى زامان جانلىقلار تەدرىجىي تەرەققىيات نەزەرىيىسى بارلىققا كەلدى، ئۇنىڭ ئاساسلىق مەزمۇنى مۇنداق: تۈر توپى جانلىقلار تەدرىجىي تەرەققىياتىنىڭ ئاساسىي بىرلىكى؛ توماستىن ئۆزگىرىش بىلەن گېنلارنىڭ قايتا كۆرۈپىلىشى جانلىقلار تەدرىجىي تەرەققىياتىنى خام ماتېرىيال بىلەن تەمىنلەيدۇ. تەبىئىي تاللىنىش تۈر توپى كېن تەكرارلىق قىلىش يۈزلىنىشلىك ئۆزگىرىشنى كەلتۈرۈپ چىقىرىدۇ؛ ئايرىلىش ئارقىلىق يېڭى تۈرلەر ئەكىلىنىدۇ؛ جانلىقلار تەدرىجىي تەرەققىياتىنىڭ جەريانى ئەمەلىيەتتە جانلىقلار بىلەن جانلىقلار، جانلىقلار بىلەن ئانتىگورگانىك مۇھىت بىللە تەدرىجىي تەرەققىي قىلىدىغان جەريان، تەدرىجىي تەرەققىي قىلىش جانلىقلارنىڭ كۆپ خىللىقىنى كەلتۈرۈپ چىقىرىدۇ. جانلىقلارنىڭ تەدرىجىي تەرەققىيات سەۋەبلىرى ئۈستىدە ھازىر يەنىلا ئوخشىمىغان قاراشلار مەۋجۇت. بەزىلەر كۆپلىگەن گېنلارنىڭ توماستىن ئۆزگىرىشى نېپىترال ھالەتتە بولىدۇ؛ جانلىقلارنىڭ تەدرىجىي تەرەققىياتىنى كەلتۈرۈپ چىقىرىدىغىنى تەبىئىي تاللىنىش بولماستىن، بەلكى نېپىترال ھالەتتىكى توماستىن ئۆزگىرىشنىڭ جۈغلەنىشىدۇر دەپ قارايدۇ. بەزىلەر تۈرلەرنىڭ ئەكىللىنىشى ھەرگىزمۇ تەدرىجىي ئۆزگىرىش بولماستىن، بەلكى تۈرلەرنىڭ ئۇزاق مەزگىل مۇقىم تۇرۇشى بىلەن تېزلىكتە يېڭى تۈر ھاسىل قىلىشنىڭ ئۆزئارا ئالمىشى كۆرۈلىدىغان جەريان دەپ قارايدۇ. شۇڭا، جانلىقلارنىڭ تەدرىجىي تەرەققىي قىلىش نەزەرىيىسى يەنە تەرەققىي قىلماقتا.

دارۋىننىڭ ئىلىم - پەن جەھەتتىكى مۇۋەپپەقىيەتلىرى كۆپ قېتىم ئىنچىكە كۆزىتىش ۋە ئېھتىياتچانلىق بىلەن لوگىكىلىق ئەقلىي خۇلاسە چىقىرىشتىن كەلگەن. ھازىرقى زامان جانلىقلار تەدرىجىي تەرەققىيات نەزەرىيىسىنىڭ ئەكىللىنىشى تۈر توپى كېنەتكىسى ۋە پا-

ئىنساننىڭ قاتارلىق كۆپ پەننىي بىلىملەرنىڭ ئۈنۈپرسال نەتىجىسى بولۇپ، ماتېرىيال ئىلمىنىڭ ئۈنۈپرسال قىلىنىشىمۇ مۇھىم رول ئوينايدۇ.

ماتېرىيال ئىلمىنىڭ تەدرىجىي تەرەققىيات نەزەرىيىسى كىشىلەرنىڭ تەبىئەت دۇنياسىغا بولغان قارىشىنى ئۆزگەرتىپ، دىئالېكتىكىلىق ماتېرىيال ئىلمىنىڭ قارىشى ئۈچۈن بىئولوگىيەنىڭ كۆرۈۋېلىشىغا ياردەم بېرىپ، ئادەم بىلەن تەبىئەتنىڭ ماس تەرەققىي قىلىش قارىشىنى ئىكەنلىكىنى بەردى.

ماتېرىيال ئىلمىنىڭ تەدرىجىي تەرەققىيات نەزەرىيىسىنىڭ تەرەققىيات ئارىلىقى ۋە ھازىرقى ئەھۋالى ئىلىم - پەننىڭ تۈپ ئالاھىدىلىكى كۆمەنسى قاراشلارنى تەپسىلىي قاراپ چىقىشنى باشلىشىنى نۇقتىسى قىلىدىغانلىقىنى، ئەمەلىي ئىسپاتنى ھۆكۈم قىلىشنىڭ ئۈلچىمى قىلىدىغانلىقىنى، مەنتىقىنى دىئالېكتىكىلىق قورال قىلىدىغانلىقىنى كۆرسىتىپ بەردى. ئىلىم - پەن بىر دىئالېكتىكىلىق جەريان بولۇپ، كۆمەنسى قاراش ۋە ئىسپات تېپىش، مۇناسىۋەت ۋە ئۆزگەرتىش داۋامىدا ئۈزلۈكسىز ئالغا ئىلگىرىلەيدۇ.



تور ئادرېسى

- <http://www.bioguider.com/ebook/biology/>
- <http://www.pbs.org/wgbh/evolution>
- <http://www.cnread.net/cnreadl/kpzp/m/maier/swxs/013.htm>
- <http://www.cyborg.bokee.com/>

## ئۆز - ئۆزىنى سىناش

### 1 ئۇقۇم ھەققىدە سىناش

ھۆكۈم قىلىش

1. ئادەمنىڭ مەلۇم بىر ئەزاسى قانچە كۆپ ئىشلىتىلسە شۇنچە تەرەققىي قىلىدۇ، ئەكسىچە بولغاندا رودر مېتلىشىدۇ؛ ئىشلىتىلمىشنىڭ ئاز - كۆپلۈكىدىن پەيدا بولغان ئۆزگىرىش ئىرسىيەت بولۇپ قالىدۇ. ( )
2. جانلىقلاردا مۇھىت تەسىرىدە پەيدا بولىدىغان ئۆزگىرىشلەرنىڭ ھەممىسى ئىرسىيەت بولۇپ قالمايدۇ. ( )
3. مۇھىت شارائىتىنى مۇقىم ساقلاش شەرتى ئاستىدا، تۈر توپىنىڭ گېن تەكرارلىقىدا ئۆزگىرىش بولمايدۇ. ( )
4. جۇغراپىيەلىك ئايرىلىش كۆپىيىش ئايرىلىشىنى كەلتۈرۈپ چىقىرىدۇ. ( )

توغرا جاۋابنى تاللاڭ

1. تۆۋەندىكىلەردىن قايسى تۈر توپىنىڭ گېن تەكرارلىقىغا تەسىر كۆرسەتمەيدۇ؟
  - A. تاسادىپىي چېتىشىش
  - B. گېنلارنىڭ تۇتاشتىن ئۆزگىرىشى
  - C. تەبىئىي تاللىنىش
  - D. خروموسومنىڭ ئۆزگىرىشى

[ ] جاۋابى:

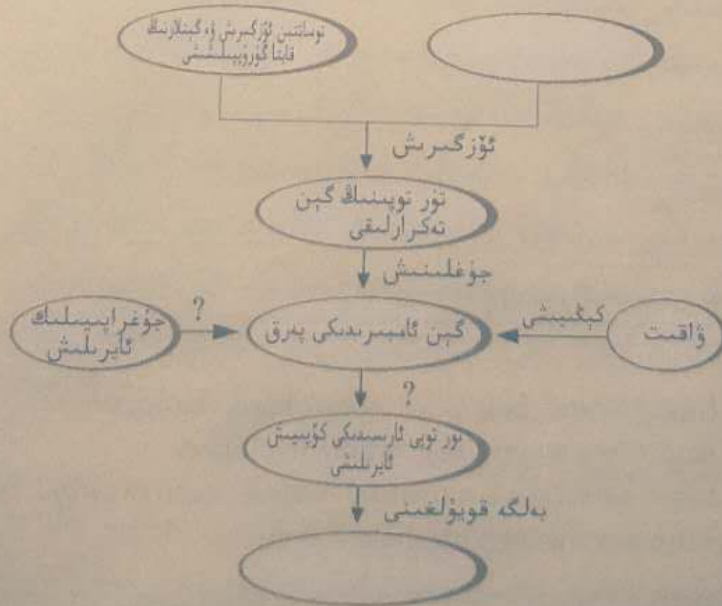
2. ئېكولوگىيەلىك سىستېمىنىڭ خىلمۇخىل بولۇپ شەكىللىنىش سەۋەبىنى مۇنداق يىغىنچاقلاشقا بولىدۇ:

- A. گېنلارنىڭ تۇتاشتىن ئۆزگىرىشى ۋە قايتا گۇرۇپپىلىشىشى
- B. تەبىئىي تاللىنىش
- C. بىللە تەدرىجىي تەرەققىي قىلىش
- D. جۇغراپىيەلىك ئايرىلىش

[ ] جاۋابى:

### ئۇقۇم سخېمىسىنى تاماملاڭ

تۆۋەندىكى سخېمىنىڭ بوش ئورۇنلىرى ۋە سوئال بەلگىسى قويۇلغان جايلىرىغا مۇۋاپىق سۆزلەرنى تولدۇرۇڭ.




## II بىلىمنى نامايان قىلىش

1. بوتانىكلار دالا تەكشۈرۈش داۋامىدا، بىر پارچە يايلاقتا ئىككى قوشنا ئۆسۈملۈك تۈر توپىنىڭ بارلىقىنى، ئۇلارنىڭ نۆپ ئەكلى ۋە گۈل رەڭگىمۇ بىر - بىرىگە ئوخشىشىپ كەتمەيدىغانلىقىنى، ئەمما بۇ ئىككى خىل تۈر توپى ئۆزئارا تۇتاشقان جايدا كۆپىيىش ئىقتىدارىغا ئىگە شالغۇت كېيىنىكى ئەۋلاد پەيدا بولغانلىقىنى بايقىغان. سىزنىڭچە بۇ ئىككى خىل ئوخشىمىغان ئۆسۈملۈك تۈر توپى بىر تۈرگە مەنسۇپمۇ؟

2. 20 - ئەسىرنىڭ 40 - يىللىرى DDT ھاشارات يوقىتىش دورىسى سۈپىتىدە دەسلەپكى قەدەمدە ئىشلىتىلىشكە باشلىغان مەزگىللەردە ئۈنۈمى ناھايىتى ياخشى بولغان. بىرقانچە يىلدىن كېيىن، كىشىلەر ئۇنىڭ ھاشارات ئۆلتۈرۈش ئۈنۈمىنىڭ بارغانچە تۆۋەنلەپ كېتىۋاتقانلىقىنى بايقىغان. بۇنى كىشىلەر ھاشاراتلاردا دورىغا قارشى تۇرۇشچانلىق پەيدا بولغان بولۇشى مۇمكىن دەپ تەھلىل قىلغان. سىز مۇشۇ بايتا ئۆگەنگەن بىلىملىرىڭىزدىن پايدىلىنىپ، ھاشاراتلاردا دورىغا قارشى تۇرۇشچانلىقنىڭ ھاسىل بولۇشىنى بەنئەنمۇ ئىلگىرىلەپ چۈشەندۈرۈڭ.

## III ماھارىتىنى ئىشقا سېلىش

ئالىملار مەلۇم جايدىكى بىر خىل قىسقىچاقنىڭ تەن رەڭگىنىڭ قېنىق - سۇسلىقى ھەققىدە تەتقىقات ئېلىپ بارغاندا، نەتىجىسى تۆۋەندىكى دىئاگراممىدا كۆرسىتىلگەندەك بولغان. ئوخشاش بولمىغان تەن رەڭگىدىكى ئىندىۋىدلار سانىدا نېمە ئۈچۈن بۇنداق پەرق كۆرۈلىدۇ؟ پەرىزىڭىزنى ئوتتۇرىغا قويۇڭ ۋە چۈشەندۈرۈڭ.



## IV تەپەككۈرىنى كېڭەيتىش

1. تەدرىجىي تەرەققىي قىلغان ئورنى قانچىكى يۇقىرى دەرىجىلىك بولغان جانلىقلارنىڭ ماسلىشىش ئىقتىدارى شۇنچە كۈچلۈك بولىدۇ؟ ئۆزىڭىزنىڭ قارشى ۋە ئاساسىڭىز بويىچە چۈشەندۈرۈڭ.
2. ئوخشاش تۈر ياكى ئوخشىشىپ كېتىدىغان ياۋا تۈرلىرى بىلەن سېلىشتۇرغاندا، ئۆيدە بېقىلغان ھايۋانلاردىكى ئۆزگىرىشلەر كۆپرەك بولىدۇ (مەسىلەن، ئىتتىكى ئۆزگىرىشلەر بۆرىگە قارىغاندا كۆپرەك بولىدۇ). بۇنى سىز قانداق چۈشەندۈرسىز؟
3. مۇناسىۋەتلىك ماتېرىياللاردا مېندېلىنىڭ دارۋىنغا بىر پارچە خەت يازغانلىقى، خېتىدە ئۆزىنىڭ كۆك پۇرچاقنى شالغۇتلاشتۇرۇش تەجرىبىسى ئارقىلىق ئېرىشكەن يەكۈنىنى چۈشەندۈرگەنلىكى، بىراق، دارۋىننىڭ بۇ خەتكە ئېتىبار بەرمىگەنلىكى، ھەتتا خەتنى ئېچىپمۇ باقمىغانلىقى يېزىلغان. ئەگەر دارۋىن بۇ خەتنى ئېچىپ كۆرگەن ھەمدە مېندېلىنىڭ بۇ نەزەرىيىسىنى قوبۇل قىلغان بولسا، ئۇ ئۆزىنىڭ تەبىئىي تاللىنىش تەلىماتىنى قانداق ئۆزگەرتكەن بولاتتى؟ سىز ئۆزىڭىزنى ئەينى چاغدىكى دارۋىن دەپ قاراپ، مېندېلغا بىر پارچە جاۋاب خەت يېزىڭ.