

دۆلەتلىك «11- بەش يىللىق پىلان» مەزگىلىدىكى نۇقتىلىق كىتاب تۈرى

ئانىنىڭ كۆڭلى بالىدا

ئەقىل - پاراسەت قىسمى

تۈزگۈچىلەر: ۋاڭ فاڭ قاتارلىقلار

رەسىمىنى سىزگۈچىلەر: لى چۈنخۇئا، جۇ چۈنكېن قاتارلىقلار


5-6 ياشتىكى بالىلار ئۈچۈن

ئەڭ يېڭى نۇسخا

ئاتىلىدە بالىلارنىڭ ئەقلى ئىقتىدارىنى يېتىلدۈرۈش قوللانمىسى

مىللەتلەر نەشرىياتى





ئانىنىڭ كۆڭلى بالدا

5 - 6 ياش

ئەڭ يېڭى نۇسخا

ئائىلىدە بالىلارنىڭ ئەقلى ئىقتىدارىنى يېتىلدۈرۈش قوللانمىسى

ئەقىل - پاراسەت قىسمى



图书在版编目(CIP)数据

半小时妈妈. 5~6岁. 智力篇: 维吾尔文/朱瑶等编;
美力克·阿不都卡的译. —北京: 民族出版社, 2008. 7
(托起明天的太阳. 民文青少年读物丛书)
ISBN 978-7-105-09501-8

I. 半… II. ①朱…②美…III. 智力开发—学前教育—
教学参考资料—维吾尔语(中国少数民族语言) IV. G613

中国版本图书馆CIP数据核字(2008)第108957号

翻 译: 美力克·阿不都卡的
责任编辑: 胡达白尔的
责任校对: 海衣尔尼沙
制 作: 伊萨克江·伊布拉英

出版发行: 民族出版社出版发行
<http://www.e56.com.cn>

社 址: 北京市东城区和平里北街14号
电 话: 010-64290862(维文室) 邮编: 100013
印 刷: 民族印刷厂印刷
开 本: 889毫米×1194毫米 1/24
印 张: 2.084
版 次: 2008年7月第1版 2008年7月北京第1次印刷
印 数: 0001—3000册
定 价: 6元
ISBN 978-7-105-09501-8/G. 1701 (维402)

本书根据浙江少年儿童出版社2006年6
月第4版第36次印刷版本翻译出版。

بۇ كىتاب جېجىياڭ ئۆسمۈرلەر نەشرىياتىنىڭ
2006 - يىلى 6 - ئايدىكى 4 - نەشرى 36 -
باسمىسىغا ئاساسەن تەرجىمە ۋە نەشر قىلىندى.

تەرجىمە قىلغۇچى: مەلىكە ئابدۇقادىر
مەسئۇل مۇھەررىر: خۇدايەردى خېلىل
مەسئۇل كوررېكتور: خەيرىنسا روزى
بەتچىك: ئىسھاقجان ئىبراھىم

نەشر قىلغۇچى: مىللەتلەر نەشرىياتى
<http://www.e56.com.cn>

ئادرېسى: بېيجىڭ شەھىرى خېيىڭلى شىمالىي كوچا 14 - قورۇ
پوچتا نومۇرى: 100013
تېلېفون نومۇرى: 010-64290862
ساتقۇچى: جايلاردىكى شىنخۇا كىتابخانىلىرى
باشقۇچى: مىللەتلەر باسما زاۋۇتى
نەشرى: 2008 - يىلى 7 - ئايدا بېيجىڭدا 1 - قېتىم نەشر قىلىندى
بېسىلىشى: 2008 - يىلى 7 - ئايدا بېيجىڭدا 1 - قېتىم بېسىلدى
ئۆلچىمى: 889×1194م. م. 24 كەسلەم
باسما تاۋىقى: 2.084 سانى: 0001 — 3000
باھاسى: 6.00 يۈەن

مۇندەرىجە

2	توپنى كىم بالدۇر تاپالايدۇ
3	ئويلاپ باقماق
4	كىمنى ئىزدەش
5	نە لە ي سانلارنى تېپىش
6	مۈشۈكنىڭ بېلىق يېيىشى
7	يەرگە كىم بالدۇر سىيرىلىپ چۈشۈدۇ
8	كۈچۈكنىڭ گۆش يېيىشى
9	گۆھەر ئىزدەش
10	كىچىك ستاتىستىكىچى
11	پاقنىڭ قۇرت تۇتۇشى
11	پاقنىڭ سۇغا سەكرىشى
12	چېكىت ئىزدەش
13	ساناپ بېقىش (1)
14	ئىزدەپ بېقىش
15	ساناپ بېقىش (2)
16	بەلگە سىزىش
17	كىمنىڭ لەگىلىكى ئېگىز
17	قايسى تەرەپ ئېغىر
18	قايسى ئىستاكان سۈت تاتلىق
19	رەسىم كۆرۈش
20	رەقەملىك كود
21	نە تۇر ساناق ساناش
22	تەڭگە پۇل ئايرىش
23	قۇلۇللەرنىڭ گۈل ئۈزۈشى
24	ئاسلاننىڭ ئەينەككە قارىشى



25	كىم سۇ ئۈزەلەيدۇ
26	كۆزىنى ئىقتىدارى
27	ۋاقتى تونۇش
28	مېۋە تېپىش
29	ئوڭ ۋە سول قولنى پەرق ئېتىش
30	يېڭى تۇي بېزەش
32	شياۋسىڭنىڭ دادىسى
33	شەكىل تولۇقلاش
34	دېڭىزدىكى بېلىق
34	قانچە تۇياق كالا
35	ساقچىنىڭ ئوغرى تۇتۇشى
36	تەپسىلى قاراپ چىقىش
37	قايسى يېرى ئوخشىمايدۇ
38	يولۋاسنىڭ ئۆڭكۈرگە كىرىشى
38	پويىزغا قاراش
39	راست گۈل ۋە يالغان گۈل
39	قانچە تال بېلىق
40	ئىشلىتىلىش ئورنى ئوخشاش
41	ئاقلاپ چارە
43	ئايرىۋېتىش
44	ئۇلارنىڭ ئۇيى نەدە
45	ئالتۇن بېلىق ساناش
45	سۇ ئۈزۈش
46	تەرتىپىنى رەتلەش
47	ئېشەكنىڭ ئوت يېيىشى

ئۇيغۇر تىلىدا
كىتاب تور بېكەتى
www.uyghurkitap.com

(كۆزىتىش، تەپەككۈر ئىقتىدارى)

توپنى كىم بالدۇر تاپالايدۇ

ئېيىقچاق بىلەن كۈچۈك بۇ
توپنى تاپماقچى، ناۋادا ئۇلار
ئوخشاش تېزلىكتە يۈگۈرسە
توپنى كىم بالدۇر تاپالايدۇ؟



ئەسكەرتىش

ئانسا ئالدى بىلەن بالغا ئېيىقچاق بىلەن
كۈچۈكنىڭ توپ تېپىش يول لىنىيىسىنى سىزدۇرۇپ،
يولنىڭ ئۇزۇن - قىسقىلىقىنى سېلىشتۇرغاندىن كېيىن
ھۆكۈم قىلسا بولىدۇ.
(جاۋابى: كۈچۈك توپنى بالدۇر تاپالايدۇ.)

ئويلاپ باقماق

(تە بە ككۆر قابىلىتى)



ئاسلان نېمىنى قوغلاۋاتىدۇ؟

(جاۋابى: ئاسلاننىڭ ئاياغ ئىزلىرىدىن ئۇنىڭ توخۇ، تۆردە كەلەرنى

قوغلاۋاتقانلىقىنى بىلگىلى بولىدۇ.)




بۆجەن ھازىرلا قايتىپ كەلدىمۇ ياكى سىرتقا چىققامچىمۇ؟

(جاۋابى: ھازىرلا قايتىپ كەلدى، چۈنكى ئۇنىڭ ئاياغ ئاستىدا سۇ

ئىزلىرى بار.)

قايسى پاراخوت ئېغىر؟


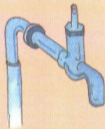

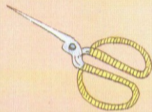

(جاۋابى: سۇغا چوڭقۇرراق چۆككەن پاراخوت ئېغىر.)



(كۆزنىش ۋە دىققەت قىلىش ئىقتىدارى)

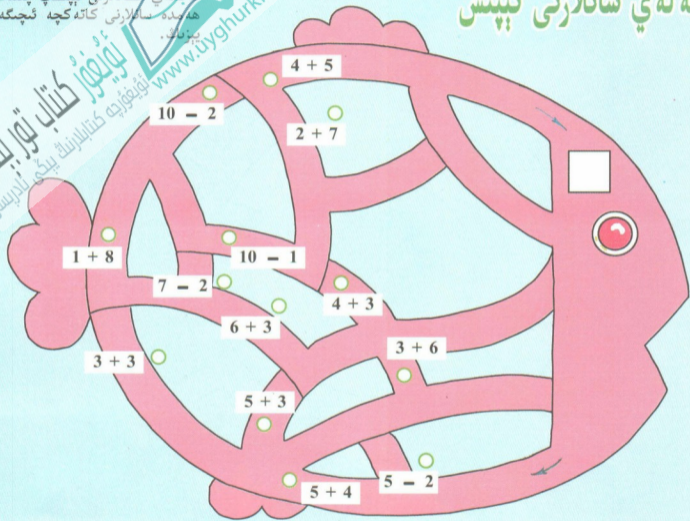
كېسىنى ئىزدەش

بۇ رەسىملەردە نېمە كەم؟




تەلەي سانلارنى تېپىش

(كۆزىنىش ئىقتىدارى، تەھلىل قىلىش ئىقتىدارى، ھۆكۈم قىلىش ئىقتىدارى)
سارايدىن ئۆتۈپ، سارايدىكى
تەلەي سانلارنى تېپىپ چىقىڭ
ھەمدە سانلارنى كاتەكچە ئىچىگە
يېزىڭ.



(دققەت قىلىش ئىقتىدارى)

مۈشۈكنىڭ يېلىق يېيىشى



تۆت مۈشۈك بېلىقنى يېمەكچى ، قېنى قايسى
مۈشۈك بېلىقنى يېيەلەيدۇ ؟
(جاۋابى: ئۈستىنكى رەت ، ئوڭ بۇرجەكتىكى مۈشۈك
بېلىقنى يېيەلەيدۇ .)

يەرگە بالدۇر سېرىلمىپ چۈشۈش

ئوخشاش چۈشۈش ئىككى ئېيىقچاق، ئوخشاش ئېگىزلىكتىكى يەردىن بەسكە سېرىلمىپ چۈشۈش، قېنى قايسى ئېيىقچاق يەرگە بالدۇر سېرىلمىپ چۈشۈشە يەتە؟



ئەسكەرتىش

ئانا بۇ مەزمۇنلارغا بىرلەشتۈرۈپ بايلىغا ھاۋانىڭ قارشىلىق كۈچى ھادىسىسى، مەسلەن، شامالغا قارشى ماڭغاندا تېز ماڭغىلى بولمايدىغانلىقىنى، ئۇچقۇچلارنىڭ پاراشوت بىلەن سەكرىگە نە ئاستا-ئاستا. ئاستا لەپەپ چۈشىدىغانلىقى قاتارلىقلارنى سۆزلەپ بېرىشى كېرەك. (جاۋابى: كۈنلۈكى يوق ئېيىقچاق بەرگە بالدۇر چۈشىدۇ.)

ئىككى مېمۇن بىرلىكتە بەسكە سېرىلمىچى بوپتۇ، بەرگە كىم بالدۇر چۈشەلەيدۇ؟ (جاۋابى: بامبۇك ياغىچى ئۈستىدىكى مېمۇن بەرگە بالدۇر چۈشىدۇ.) ئەگەر بالا توغرا جاۋاب بەرسە، ئانا بەنمۇ بىر قەدەم ئىلگىرلىگەن ھالدا: «نېمە ئۇچۇن؟» دەپ سوراش كېرەك. (جاۋابى: 1. بامبۇك ياغىچى سىلىق، 2. دەرخ ياغىچى قوپال، 2. دەرخ پۇتاقلىرىنىڭ توسقۇنلۇقىغا ئۇچرايدۇ.)



كۈچۈكنىڭ گۈلنى يېشى

كۈچۈكنىڭ ئالدى پۈتى گۆشكە يەتمەي قالدى، سىز كۈچۈككە ئامال ئويلاڭچۇ، كۈچۈك قانداق قىلسا گۆشنى يېيەلەيدۇ؟ ئەگەر بالا: «ئارغامچنى يېشىۋەتسە» دەپ جاۋاب بەرسە، ئانا دەرھال مۇنداق دېيىش: «ئارغامچا ئىككى چىگىلىپ قاپتۇ، يېشىلەيدۇ.» ئەگەر بالا يەنە: «چىشلەپ ئۆزىڭچۇ» دېسە، ئانا: «ئارغامچنى چىشلەپ ئۆزگىلى بولمايدۇ، يەنە كېلىپ بۇنداق قىلسا بەك ئاستا بولۇپ قالىدۇ. باشقا ئامال ئويلايلى.» دېيىش كېرەك.
(جاۋابى: كۈچۈك بۇرۇلۇپلا ئارقا پۈتى بىلەن گۆشنى تارتىپ ئەگەلسە بولىدۇ.) ئانا بالغا بەدەننى بۇرسىلا ئۆزىڭلى بولىدىغانلىقىنى، باش بىلەن سېلىشتۇرغاندا بەدەننىڭ باشتىن ئۇزۇن بولىدىغانلىقىنى ئېيتىپ بېرىش لازىم.



(ئۇنۋېرسال تەبەئەت كۆز ئىقتىدارى)




گۆھەر ئۆزدەش

ئىلىنىڭ گۆھەر تېمىسىنى ئاتلاش ئارقىلىق گۆھەرنى ئۆزدەش
 ھەمدە تېپىلغان گۆھەرلەرنى كانە كېتىشكە ئىچىگە سىزىش.
 ① دەرەخنىڭ يەن تەرىپىدىكى تاشنىڭ ئۈستىدە :
 ② دەرەخنىڭ كەينىدىكى تاشنىڭ چۆپلۈكتە :
 ③ كۆلدىن بىزگە ئەڭ يىراق بولغان نېلۇپسەر يوپۇرمىقى
 ئاستىدا :

④ بىزگە ئەڭ يېقىن بولغان گۈلنىڭ ئاستىدا :
 ⑤ كۆلنىڭ ئۇ تەرىپىدىكى دەرەخكە يېقىن كۆلنىڭ ئۈستىدە :

ئىلىنىڭ گۆھەر تېمىسىنى ئاتلاش ئارقىلىق گۆھەرنى ئۆزدەش ھەمدە تېپىلغان گۆھەرلەرنى كانە كېتىشكە ئىچىگە سىزىش.



(ھېسابلاش، ھېسابلاش ئىقتىدارى)

كچىك سائىستىكىچى



نۇرغۇن لۆڭگە ، ئىستاكان
ۋە قاچىلار بار بولۇپ ، سىز
ئۇلارنى زېتى ، تۈرى بويىچە
ھەر بىرىنىڭ سانىنى ھېسابلاپ
چىقىڭ ھەم كاتەكچە ئىچىگە
تىزىملاڭ .

	قاجا	ئىستاكان	شارپا
ئاق			
قىزىل			
گۈللۈك			
ئومۇمىي سانى			



(تە بە ككۆر قابلىتى)

پاقنىڭ قۇرت تۇتىشى

ئەسكەرتىش

ئەگەر بالا بەزى ھايۋانلارنىڭ قىشتا ئۇخلايدىغانلىقىنى تېخى بىلمىسە، چوقۇم بالغا بەزى ھايۋانلارنىڭ قىشتا بىر نە چچە ئاي ئۇخلايدىغانلىقىنى، باھار كەلگەندە ئاندىن ئويغىنىدىغانلىقىنى ئېيتىپ بېرىش كېرەك. قىشتا ئۇخلايدىغان ھايۋانلاردىن پاقا، ئېيىق، تاشپاقا قاتارلىقلار بار. (جاۋابى: پاقا قىشتا ئۇخلايدۇ، قۇرتىمۇ بولىدۇ.)

بۇ پاقنىڭ قۇرت تۇتۇۋاتقىنى سىزىلغان رەسىم بولۇپ، خاتا سىزىلغان، ئويلاپ بېقىمىك، خاتالىق زادى نەدە ؟

پاقنىڭ سۇغا سەكرىشى

(تە بە ككۆر قابلىتى)

قاراپ بېقىمىك، قانچە دانە پاقا سۇغا سەكرىدى ؟

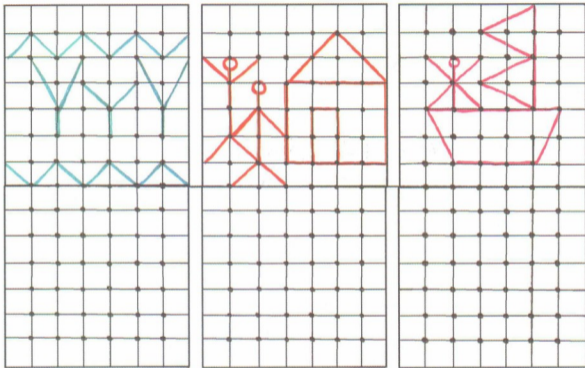
ئەسكەرتىش

ئانا پاقنىڭ دىققىتىنى قوزغاش كېرەك، يەنى پاقا سۇغا سەكرىگەندە سۇ يۈزىدە چەمبىرەك ھاسىل بولىدۇ.

(كۆزىتىش ئىقتىدارى، ئارىلىق سەزگۈسى)



چىكىت كۆزدەش



ئالدى بىلەن رەسىمدىكى چىكىتلەرنىڭ ئورنىنى ۋە شەكلىنى كۆرۈۋېلىپ، تېزلىك بىلەن يۇقىرىدىكى شەكىلگە ئوخشاش قىلىپ سىزىپ چىقىڭ.

ساناپ بېقىڭ (1)

(كۆزىتىش ئىقتىدارى)



ئۇيغۇر كىتاب تور بېكەتى
ئۇيغۇر كىتابلىرىنىڭ يېڭى نامىسى
www.uyghurkitap.com



(دققەت قىلىش ۋە ئەستە تۇتۇش ئىقتىدارى)

ئۆزدەپ بېقىڭ



ئۆزدەپ بېقىڭ، قايسى ئۈچ نەرسە مۇشۇ بەتتىكى رەسىمنىڭ ھەممىسىدە بار؟


ئەسكەرتىش

بالا ئەڭ ياخشى ئىككى مىنۇت ئىچىدە ئۆزدەپ تېپىشى كېرەك، ئەگەر بالا تەس كۆرسە ئوخشاشلىرىنى بىر-بىرلەپ ئۆزدەپمۇ بولىدۇ.







ساناپ بېقىڭ (2)

ساناپ بېقىڭ، قانچە چاشقان
سېۋەتنىڭ ئىچىدە، قانچىسى
سېۋەتنىڭ سىرتىدا؟




ساناپ بېقىڭ، ھەر بىر
دۆۋە كۆپىك قانچە دانە
كىچىك تۆت چاسلاردىن
تەركىب تاپقان؟





(ئەسنە تۇتۇش قابىلىيىتى)

بەلگە سىزىش



كىچىك ھايۋانلار
يىغىلىش قىپتۇ. بۇ
ھايۋانلارنىڭ ھەممىسىگە
بىردىن بەلگە ۋە كىلىك
قىلىدىكەن. سىز شۇ
بەلگىلەرنى ئېسىڭىزدە
تۇتۇپ، يان تەرەپتىكى
كاتەكچە ئىچىگە شۇ
ھايۋاننىڭ بەلگىسىنى
سىزىپ قويۇڭ.

(تەپەككۈر قابىلىتى)

كەينىڭ لە گىلكى ئېگىز

بۆجەن بىلەن قوزا لە گىلەك
ئۆچۈرۈپتۇ. ئۇلارنىڭ لە گىلكىنىڭ
يېپى ئوخشاش ئۇزۇنلۇقتا بولۇپ،
كەينىڭ لە گىلكى ئېگىز ئۇچتى؟
(جاۋابى: قوزنىڭ لە گىلكى
ئېگىز.)



(تەپەككۈر قابىلىتى)

قايسى تەرەپ ئېغىر

قاۋان باخشى ئەپكەشتە
ئىككى سېۋەت تاۋۇز ئېلىپ
كەلدى. قاراپ بېقىڭ قايسى
تەرەپ ئېغىر، قايسى تەرەپ
يېنىك؟

(جاۋابى: ئالدى تەرەپتىكى
سېۋەت ئېغىر، چۈنكى قاۋان
باخشىنىڭ مۇزىسى، ئالدىدىكى
سېۋەتكە يېقىنراق.)





قايىسى ئىستاكان سۈت تاتلىق

بۇ يەردە ئىككى ئىستاكان سۈت بار. بۇنىڭ بىر ئىستاكانى قەن سالغان تاتلىق سۈت. بۇ تاتلىق سۈتنى تېپىش ئۈچۈن قانداق قىلىش كېرەك؟

ئەسكەرتىش

بالا تۆۋەندىكى رەسىملەرگە قاراپ، قايىسى خىل ئۇسۇلنىڭ توغرا بولغانلىقىغا ھۆكۈم قىلسۇن ۋە سەۋەبىنى سۆزلىسۇن. مەسىلەن، كۆز نەرسىلەرنى كۆرىدۇ. بۇرۇن پۇراقى سېزىدۇ، قولاق ئاۋازنى ئاڭلايدۇ، ئېغىز تەمى تېتىدۇ.





④③ بۇ ئىككى پارچە رەسىمنىڭ قايسىسى ئاۋۋال، قايسىسى كېيىن تارتىلغان؟

②① بۇ ئىككى پارچە رەسىم ئارقا - ئارقىدىن تارتىلغان، قاراپ بېقىڭ، قايسى پارچىسى ئاۋۋال تارتىلغان؟

رەسىم كۆرۈش


ئەسكەرتىش

تەكەربالا قىيىن ھېس قىلسا، ئانسا بالىغا پارخوت، ماشىنىلارنىڭ ئورنىنىڭ ئۆزگىرىشىگە دىققەت قىلىشقا يېتەكلىشى كېرەك. پارخوت بىلەن ماشىنىنىڭ ئارىلىقى يېقىنراق تۇرغىنى بالدۇر تارتىلغان.

ئەسكەرتىش

سول تەرەپتىكى ئىستانكاندىكى چوڭا مۇز تېخى ئېرىمىگەن، ئوڭ تەرەپتىكى ئىستانكاندىكى چوڭا مۇز ئاللىقاچان ئېرىپ بولغان، شۇڭا سول تەرەپتىكى رەسىم بالدۇر تارتىلغان.

رەقەملىك كود



ئىككى پۇتلۇق ھايۋانلار
1- نومۇر، تۆت پۇتلۇق ھايۋانلار
2- نومۇر، ئالتە پۇتلۇق ھايۋانلار
3- نومۇر، سەككىز پۇتلۇق ياكى
ئۈچىنچى پۇتلۇق ھايۋانلار
4- نومۇر بولسۇن، مۇشۇ قائىدە
بويىچە تۆۋەندىكى ھايۋانلارغا
رەقەملىك كود يېزىپ چىقىڭ.



(دققەت قىلىش ۋە ئەستە تۇتۇش ئىقتىدارى)

تە ئۆر ساناق ساناش

چوغلار بالا بىلەن
ساناق سانايىدۇ، چوغلار
سانلارنى سانسا، بالا
شۇ ساننىڭ تە تۈرسىچە
سانشى كېرەك. مەسلەن،
مەن 2،5 دېسەم، بالا
5،2 دېيىشى كېرەك.

تە ئۆر ساناق

كىتاب تە ئۆر ساناق

www.uyghurkitap.com

(سەزگۈ ئىقتىدارى)

تەڭگە پۇل ئايرىش


بىر مۈچە نىلىك، بەش مۈچە ئالماق،
بىر كۈيلۈق تەڭگە پۇللارنىڭ ھەر
بىرىدىن ئىككىدىن ياكى ئۈچتىن ئېلىپ
ئارىلاشتۇرۇپ، بالىنىڭ كۆزىنى تېگىپ
قويۇپ، بالغا تەڭگە پۇللارنىڭ چوڭ -
كىچىكلىكى، ئېغىرلىقىغا ئاساسەن
تەڭگە رنى ئۈچ بۆلەككە ئايرىتىمىز.





(ئارىلىق سەزگۈسى، خۇلاسە ئىقتىدارى)

قۇلۇسلەرنىڭ گۈل قۇرۇشى



قۇلۇسلەر گۈل قۇرۇش كىچى بولۇپ، كاتەكتىن كاتەككە ئۆمىلەپتۇ. (ئۈدۈل ئۆمىلەشكە بولمايدۇ) ئەگەر قۇلۇسلەرنىڭ ئۆمىلەش سۈرئىتى ئوخشاش بولسا، ئۇنداقتا گۈلنى كىم ئۈزەلەيدۇ؟ سەۋەبىنى ئېيتىڭ.

ئەسكەرتىش

كاتەكچە ئارقىلىق ھېسابلاش كېرەك، ئۆمىلگەن كاتەك سانى ئەڭ ئاز بولغان قۇلۇلەگۈلنى ئاۋۋال ئۈزەلەيدۇ.

ئاسلاننىڭ ئەينە ككە قارىشى

ئاسلان ئەينە ككە قاراۋاتىدۇ.
تۆۋەندىكى ئىككى پارچە رەسىمدىن
قايسىسى توغرا؟



ئەسكەرتىش

بىلا جاۋاب بېرىشتە قىتالسا، بالىنى
ئەينەك ئالدىغا ئېلىپ بېرىپ، ئەينەككە
قاراتساق بولىدۇ.

(ساۋات ۋە تەپەككۈر قابىلىتى)

كىم سۇ ئۈزەلەيدۇ؟



ئەسكەرتىش

بالىنىڭ تەسەۋۋۇرىنى قوزغاش، مەسلەن: غاز بىلەن تاشپاقىغا مىنىپ دەريادىن ئۆتسە بولىدۇ.

كىچىك ھايۋانلارنىڭ دەريانىڭ قارشى قىرغىقىغا بېرىپ ئوينىغۇسى كەپتۇ، قايسىسى دەريادىن ئۆزۈپ ئۆتەلەيدۇ؟ ئەگەر بالا توغرا جاۋاب بەرسە، ئانا پەنە بىر قەدەم ئىلگىرىلىگەن ھالدا: «ھازىر كۆپچىلىكنىڭ دەريادىن ئۆتكىسى بار، قانداق قىلىش كېرەك؟» دەپ سورىشى كېرەك.

كۆزىتىش ئىقتىدارى

بۇ ئىككى پارچە رەسىمدىن قايىسى پارچىسى خاتا سىزىلغان؟

ئەسكەرتىش

سايە جىسىمنىڭ كەينىگە چۈشۈدۇ. شۇڭا سول تەرەپتىكى رەسىم خاتا سىزىلغان.



ئەسكەرتىش

ئەگەر بالا جاۋاب بېرىشتە قىينالسا، ئانا بالىغا مۇشۇنىڭ كۆز قارىچۇقىنىڭ ئۆزگىرىشى توغرىسىدىكى بىلىمى سۆزلەپ بېرىشى كېرەك. مۇشۇنىڭ كۆز قارىچۇقى سىزىققا ئوخشاپ قالغان رەسىم كۈندۈزى تارتىلغان، چۈنكى، مۇشۇنىڭ كۆز قارىچۇقى كۈندۈزى تارىيىپ، كەچتە بۇمىلاققا ئۆزگىرىدۇ.


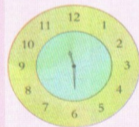




بۇ ئىككى پارچە رەسىمدىن قايىسىسى كۈندۈزى، قايىسىسى كەچتە تارتىلغان؟



ۋاقىتنى ئونۇش




سىز ۋاقىتنى پەرقلەندۈرەلەمسىز؟ سائەتنىڭ ئىچىدىكى ئۇزۇن ئىستىرىلكىسى نېمىگە ۋە كىلىمكە قىلىدۇ؟ قىسقىسىچۇ؟ بەزى سائەتلەردە يەنە بىر ئىنچىكە ، ئۇزۇن ئىستىرىلكا بولىدۇ ، ئۇ نېمىگە ۋە كىلىمكە قىلىدۇ؟ كېيىنكى بەتتىكى ئوڭ تەرەپتىكى سائەتلەر سائەت قانچە بولغانلىقىنى كۆرسىتىۋاتىدۇ پەرقلەندۈرۈپ بېقىڭ؟ سىز بالغا رەسىمىدىكىگە ئاساسەن مۇۋاپىق ۋاقىتنى رەسىمىدىكى سائەتلەرگە يېزىشقا يېتەكلىسىڭىز بولىدۇ.



مېۋە تېپىش

(كۆزىتىش، تەھلىل قىلىش، ھۆكۈم
قىلىش ئىقتىدارى)

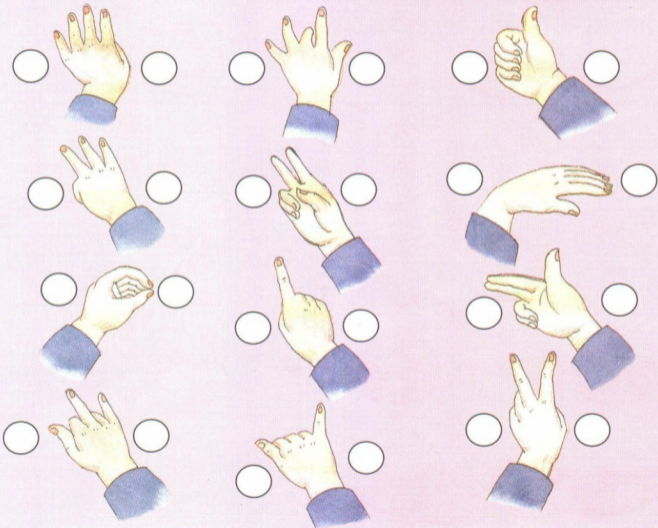
قىزىق بېرىڭ، بىر تەرەپتىكى بەش كاتەكچە ئىچىدىكى
مېۋەلەرنىڭ قايسىسى ئۇلۇڭ تەرەپتىكى مېۋە؟ «✓» بەلگىسىنى قويۇڭ
ھەمدە رەتلەيدىكى مېۋەلەرنىڭ قايسىسىنىڭ توغرىسىغا كېسىلگەنلىكى،
قايسىسىنىڭ ئۇزۇنسىغا كېسىلگەنلىكىنى ئېيتىپ بېرىڭ.



ئوڭ ۋە سول قولنى پەرق قىلىش

(دىققەت قىلىش ۋە ھۆكۈم قىلىش ئىقتىدارى)



ئوڭ ۋە سول قولنىڭنى چىقىرىپ، ھەر بىر رەسىمدىكى قول ئىشارە شەكلىنى دوراڭ. ئەگەر سول قول سول تەرەپتىكى يۇمىلاقنىڭ ئىچىدە بولسا «✓» بەلگىسىنى، ئوڭ قول ئوڭ تەرەپتىكى يۇمىلاقنىڭ ئىچىدە بولسا «✓» بەلگىسىنى قويۇڭ.




(ئارىلىق سەزگۈسى، تەپەككۈر قابىلىتى)

يېڭى ئۆي بېزەش

بۇ كىچىك بالىنىڭ ئۈچۈنسى، بىز ياردەملىشىپ نەرسىلەرنى جاي - جايغا قويۇڭ: كارىۋاتنى ئۆينىڭ ئوتتۇرىسىغا قويۇڭ، ئۆستىلىنىڭ ئاستىغا سول باش تەرىپىگە بىر ئورۇنچىك قويۇڭ، تەرىپتىكى دېرىزە ئالدىغا ئۆستىل؛ ئۆستىلىنىڭ ئوڭ تەرىپىگە بىر كىتاب ئىشىكىنى قويۇڭ؛ كارىۋاتنىڭ باش تەرىپ ئۈستىدىكى تامغا ئائىلە بويىچە چۈشكەن رەسىم راۋاڭسىنى ئېسىڭ، كارىۋات ئۈستىگە بىر قونچاق قويۇپ قويۇڭ. سول تەرىپ دېرىزە ئاستىغا بىر ئورۇندۇق قويۇپ قويۇڭ؛ ئورۇندۇقنىڭ سول تەرىپىگە بىر تەختەنىڭ ئالدى قىسمىنى قويۇڭ.



كىتاب تور بېكەتى
ئۇيغۇرچە كىتابلارنىڭ يېڭى ئادرېسى
www.uyghurbook.com



(تەبەككۈر قابىلىتى)

شياۋمىڭنىڭ دادىسى

بۇ تۆت ئادەمنىڭ ئىچىدە بىرەيلەن شياۋمىڭنىڭ دادىسى. سىز تۆۋەندىكى بىر نەچچە خىل سۈرەتتىن قايسىسىنىڭ شياۋمىڭنىڭ دادىسى ئىكەنلىكىگە ھۆكۈم قىلىڭ:
 ① شياۋمىڭنىڭ دادىسى بۇرۇتلۇق؛ ② شياۋمىڭنىڭ دادىسى كۆزەينەك تاقىمىغان؛ ③ شياۋمىڭنىڭ دادىسى كاستۇم - بۇرۇلكا كىيگەن؛ ④ شياۋمىڭنىڭ دادىسى دوختۇر.

ئەسكەرتىش





ئەگەر بالا توغرا جاۋاب بەرسە، ئانا يەنە بىر قەدەم ئىلگىرىلىگەن ھالدا سورىشى، يەنى: ئەگەر سىزگە ① ② خىل ھالەتتە دەپ بەرسەم تاپالامسىز؟ نېمىشقا؟



شەكىل تولۇقلاش

(كۆزىتىش، ئىككىل قىلىش، خۇلاسە قىلىش)

رەسىملەردىكى شەكىللەرنىڭ بىر بۆلەكىنى كەم، سىز ياندىكى كىچىك نۇسخىلاردىن مۇۋاپىق كېلىدىغانلىرىنى تېپىپ رەسىمنى پۈتۈنلەپ قويۇڭ.



كۆزىتىش ۋە تەپەككۈر ئىقتىدارى)

دېڭىز دەكى بېلىق

بۇ بىر پارچە سۇ ئۆسۈملۈكلىرى بىلەن قاپلانغان دېڭىزنىڭ رەسىمى . بۇ نۇرغۇن بېلىقلار ئىچىدە ئىككى تال بېلىق خاتا سىزىلغان . شۇنى تېپىپ چىقىڭ .

ئەسكەرتىش

ئوڭدىن سولغا سانغاندا ، ئۈستىدىكى رەتتىن 2-بېلىق ۋە ئوتتۇرا رەتتىن 1-بېلىق خاتا سىزىلغان ، چۈنكى سۇ ئۆسۈملۈكلىرى ئالدىدىكى بېلىق ئوتتۇرىدىن ئۇزۇلۇپ سىزىلمايدۇ .



(كۆزىتىش ۋە تەپەككۈر ئىقتىدارى)

قانچە تۇياق كالا

سىز تەپسىلىي قاراپ ، ياخشى ئويلاڭ ، بۇ رەسىمدە قانچە تۇياق كالا بار؟

ئەسكەرتىش

ئەگەر بالىنىڭ جاۋابى خاتا بولۇپ قالسا ، ئۇنى قايتا ئويلاشقا يېتەكلەش يەنى : «كالىنىڭ قانچە پۇتى بولىدۇ؟ بۇ يەردە جەمئىي قانچە پۇت بار ئىكەن؟» «بالا توغرا جاۋاب بەرسە ، ئانا يەنە : «ئىككى تۇياق كالا بارلىقىنى قانداق بىلىدىڭىز؟» دەپ سوراپ ، بالىنىڭ تەھلىلىنى سۆزلىتىش كېرەك .





(ھۆكۈم قىلىش، خۇلاسىە قىلىش)


ساقچىنىڭ ئوغرى تۇتىشى

يولدا نۇرغۇن ئادەملەر بار ئىدى. ساقچى بىردىنلا ئوغرىنى بايقاپ قالدى. سىز تۆۋەندىكى بەلگىلەردىن ئوغرىنى تونۇپ بېقىڭ:

- ① ئوغرى قىزىل رەڭلىك كىيىم كىيگەن؛
- ② ئوغرى ساياھەت ئايىقى كىيگەن؛
- ③ ئوغرى ئۇزۇن ھەم تۆت چاسا سومكا كۆتۈرۈۋالغان؛
- ④ ئوغرىنىڭ تەلەتى سۈرلۈك بولۇپ يەرگە قاراپ ماڭغان؛

(كۆزىتىش ئىقتىدارى)

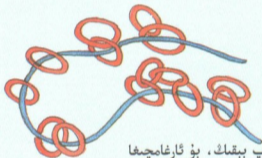
تەپسىلىي قاراپ چىقىش



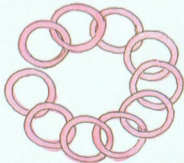
بۇ يۇمىلاق ھالقىلار ئىچىدە نەچچىسى
تۇتاشتۇرۇلغان، نەچچىسى ئايرىم؟



بۇ ئارغامچا تۈز تارتىلسا نەچچە
يەردىن چىگىلىپ قالدۇ؟



ساناپ بېقىمىك، بۇ ئارغامچىغا
نەچچە دانە ھالقا ئۆتكۈزۈلگەن؟



بۇ زەنجىرنىڭ بىر يېرى
تۇتاشتۇرۇلمىغان، سىز تاپالامسىز؟

(كۆزىتىش ئىقتىدارى)

قايسى پېرى ئوخشىمايدۇ؟


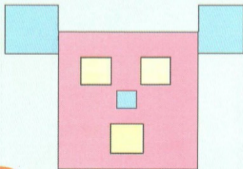
بۇ ئىككى ئۆچكىنىڭ سىزلىشىنىڭ
ئوخشىمايدىغان جايىنى تاپالامسىز؟

ئەسكەرتىش

مۇڭگۈزى، كىۋى، تۆت پۇتى،
قۇيرۇقى ئوخشىمايدۇ.



تۆۋەندىكى رەسىملەردە قانچە ئۈچ بۇلۇڭ؟ قانچە
تىك تۆت بۇلۇڭ؟ قانچە چەمبەر بار؟




(تەبەككۈر ئىقتىدارى)

يولۋاسنىڭ ئوڭكۈرگە كىرىشى

بىر يارلانغان يولۋاس ئوڭكۈرگە چۈشۈپ كېتىپتۇ. ئويلاپ بېقىمىڭ، ئۇ قايسى ئوڭكۈرگە چۈشۈپ كەتتى؟

ئەسكەرتىش

يولۋاس سول تەرەپتىكى ئوڭكۈرگە چۈشۈپ كەتكەن. چۈنكى ئوڭ تەرەپتىكى ئوڭكۈردە ئۇمۇچۇك تورى بار، يولۋاسنىڭ بۇ ئوڭكۈرگە چۈشۈپ كېتىشى مۇمكىن ئەمەس.




(تەبەككۈر ئىقتىدارى)

پويىزغا قاراش

بۇ پويىز ئوڭكۈرگە كىرىپ كېتىۋاتامدۇ ياكى ئوڭكۈردىن چىقىپ كېتىۋاتامدۇ؟

ئەسكەرتىش

ئوڭكۈردىن چىقىۋاتىدۇ، چۈنكى چىقىۋاتقان ئىسنىڭ يۆنىلىشى ئوڭكۈر تەرەپتە.




(تەپەككۈز قابىلىتى)

راست گۈل ۋە يالغان گۈل

بۇ يەردە بىر تەشەببۇس بار، يەنە بىر تەشەببۇس بولمايدىن باشقا يالغان گۈل بار. ئايرىپ بېرىڭىز.

ئەسكەرتىش

سول تەرەپتىكى راست گۈل، ئوڭ تەرەپتىكى يالغان گۈل. ئۇستىدە ھەسەل ھەرىسى ۋە كېيىنكى ھەرىسى ئايرىپ بېرىش ئۇسۇلىنى كۆرسىتىپ بېرىلگەن.



(تەپەككۈز قابىلىتى)

قانچە تال بېلىق

بۇ رەسىمدىكى قورسقى ئوڭىدىغا تۇرغىنى ئۆلۈك بېلىق، قورسقى دۈم تۇرغىنى تىرىك بېلىق. ساناپ بېقىڭ، بۇ يەردە قانچە بېلىق بار؟

ئەسكەرتىش

1. ئانا ئۈچ بۆلەككە بۆلۈپ سوراش كېرەك يەنى: 1. بۇ يەردە قانچە تىرىك بېلىق بار، قانچە ئۆلۈك بېلىق بار؟ 2. جەمئىي قانچە تال بېلىق بار؟ 3. جەمئىي 8 تال بېلىق بار بولۇپ، ئۆلگىنى ئىككى بولسا يەنە قانچە تال بېلىق بار؟ (يەنىلا 8 تال بېلىق بار، چۈنكى بۇ يەردە سورالغىنى «نەچچە تال بېلىق بارلىقى»، ھەرگىزمۇ «يەنە نەچچە تال تىرىك بېلىق بارلىقى» ئەمەس. بۇ مەسىلە سەل قىيىن، ئانا دىققەت قىلىشى كېرەك.)



(تەھلىل قىلىش، ئۈنۈپرسال تۈرگە ئايرىش ئىقتىدارى)

ئىشلىتىلىش ئورنى ئوخشاش

رەسىمدىكى قايسى نەرسىلەرنىڭ ئىشلىتىلىش
ئىقتىدارى ئوخشاش؟



ئەسكەرتىش

ئەسكەرتىش: كۆڭلەك، باياق كىيىدىغان، چېدىر، ئۆي
پاتىدىغان، ئالما، كەمپۇت يەيدىغان، ئىككى خىل تارازا
ئىشلىرى ئۆلچەيدىغان نەرسىلەردۇر.


ئاقىلانە چارە

(نەپەككۆر قابىلىتى)

بۇ ئىككى تال بېلىقنىڭ
ئۇزۇنلۇقى ئوخشاشمۇ؟ سىز
قانداق بىلدىڭىز؟

ئەسكەرتىش


ھەر بىر بېلىقنىڭ ئىگىلىگەن
كەنجە سانغا قاراپ ئۇلارنىڭ
ئوخشاش ئۇزۇنلۇقتا ياكى
ئەمەسلىكىنى بىلەلەيمىز.



قانداق ئۇسۇل بىلەن بۇ ئىككى
لوغىنىڭ چوڭ - كىچىكلىكىنى
پەرقلەندۈرەلەيمىز؟

ئەسكەرتىش

سۇ قاچىلاپ باقساقلا
بىلگىلى بولىدۇ.



شانىڭ ئۆزىنى ساناش بەك تەس، يېنى ساناش ئاسان.

بۇ يەردە قانچە دانە شار بارلىقىنى قانداق ئۆسۈل بىلەن سانساق ئاسان بولار؟



ئەسكەرتىش

سايگە قاراپلا سول تەرەپتىكى چىراغنىڭ يېنىقلىق ئىكەنلىكىنى بىلگىلى بولىدۇ.



بۇ يەردە ئىككى لامپۇچكا بار. پەقەت بىرسىنىڭلا يېنىقلىق ئىكەنلىكىنى قەيەردىن كۆرۈپ بىلگىلى بولىدۇ؟ قايسى لامپا يېنىق؟

توققۇز ئىت ئالاشقا بولۇۋاتىمۇ، سىز ئىككى توت چاسا
شەكىلدىن پايدىلىنىپ ئۆز ئىككى شەكىلىنى ئايرىۋېتىڭ.

ئايرىۋېتىش

(تەبەككۈر قابىلىيىتى)



ئۇيغۇر تىلى ئىككىلى
www.uyghurkitap.com

(ئارىلىق سەزگۈسى)

ئۆلارنىڭ ئۆيى نەدە

بىر ھايۋان مۇنداق دېدى: «مېنىڭ ئوڭ تەرىپىمدە ئاسلان، سول تەرىپىمدە قوزا.» دەپ بېقىڭچۇ بۇ قايسى ھايۋان؟ نەدە تۇرىدۇ؟

بىر ھايۋان مۇنداق دېدى: «مېنىڭ ئۈستىمدە تېيىن،

ئاستى تەرىپىمدە ئۆردەك

چۈجىسى.» ئېيتىپ بېرىڭ

بۇ قايسى ھايۋان؟ نەدە تۇرىدۇ؟

بىر ھايۋان مۇنداق دېدى:

«مېنىڭ ئۈستىمدە

ئاسلان، سول تەرىپىمدە

تايچاق.» ئېيتىپ

بېرىڭ بۇ قايسى

ھايۋان؟ نەدە

تۇرىدۇ؟

(جاۋابى: خوراز،

قوزا، مايۋون)



ئالتۇن بېلىق ساناش

ساناپ بېقىڭ، ئىككى ئالتۇن بېلىق قاچىسىدا قانچە
الدىن ئالتۇن بېلىق بار؟

ئەسكەرتىش

بۇ مەسىلىنىڭ قىيىن نۇقتىسى شۇكى، ئىككى قاچىنىڭ
تۇتاشقان يېرىدىكى ئالتۇن بېلىقنىڭ قايسى بېلىق قاچىسىغا
تەۋە بولىدىغانلىقىنى ئېنىق پەرق ئېتىشىن ئىبارەت. ئىككى
ئالتۇن بېلىق قاچىسىنىڭ ھەر بىرىدە تۆتىن ئالتۇن بېلىق بار.



(تەپەككۈر قابىلىتى)

سۇ ئۈزۈش

ئۆستەڭدە قانچە كىچىك دوست سۇ
ئۈزۈۋاتىدۇ؟

ئەسكەرتىش

ئەگەر بالا ئۆستەڭدىكى
بالىلارنى سانسىڭ، ئانا بالىدىن:
«بەزى بالىلار سۇغا شۇڭغۇپ
ئوينىۋاتقان بولسا كۆرەلەمسىز؟ تېز
ھەم توغرا سانغىلى بولىدىغان
يەنە باشقا ئامال بارمۇ؟» دەپ
سوراڭ كېرەك.
(جاۋابى: قىرغالقا نەچچە جۈپ
ئايىغ بارلىقىنى ساناپ باقسا بىلگىلى
بولىدۇ.)



تۆۋەندىكى بىر نەچچە گۈرۈپپا رەسىملەرنىڭ
تەرتىپى قالايمىقان بولۇپ كەتكەن، سىز
ئۇلارنىڭ تەرتىپىنى قايتىدىن رەتلەڭ ھەمدە
سەۋەبىنى ئېيتىپ بېرىڭ.

(تەھلىل قىلىش، خۇلاسە،
ئۈنۈمىزى ئىقتىدارى)

تەرتىپىنى رەتلەڭ




(تەپەككۈر ئىقتىدارى)

ئېشەكنىڭ ئوت يېيىشى

بۇ رەسىملەردە قانداق مەنە ئىپادىلەنگەن، بۇ ئىككى ئېشەك قانداق قىلسا قاندىن ئوتنى يېيەلەيدۇ؟

ئۇلارنىڭ ئىككىسى ئوتنى يېيەلەيدۇ، بىرى ئەمەس. نەمەنە ئىپادىلەنگەن، بۇ ئىككى ئېشەك قانداق قىلسا قاندىن ئوتنى يېيەلەيدۇ؟



翻译：美力克·阿不都卡的
责任编辑：胡达白尔的
责任校对：海衣尔尼沙
美术编辑：万俭
装帧设计：万俭 徐洁
民文封面设计：金晔

دۆلەتلىك مائارىپ كومىتېتى تەۋسىيە قىلغان مۇنەۋۋەر بالىلار ئوقۇشلۇقى

ئانىنىڭ كۆڭلى بالىدا



ئەقىل - پاراسەت قىسمى

ھېكايىلەر قىسمى

ئومۇمىي ساۋات قىسمى

ISBN 978-7-105-09501-8



9 787105 095018 >

定价:6.00元